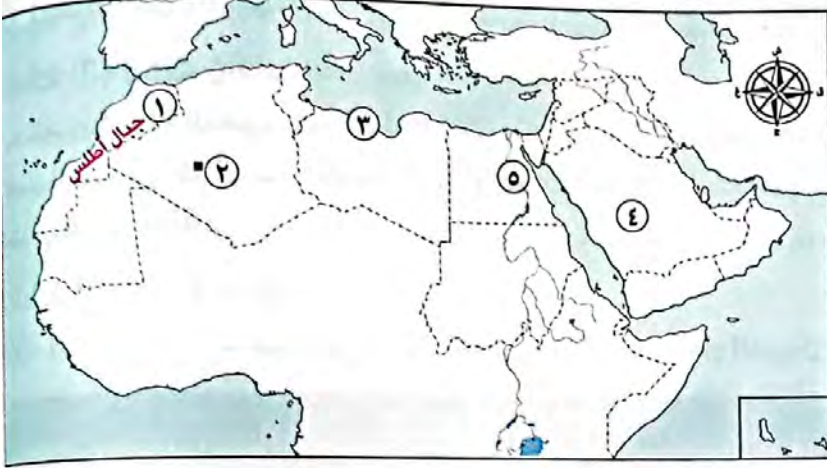


تدريبات سلاح التلميذ

على الدرس الأول



١) لاحظ الخريطة، ثم أجب:



- ١ - نشأت الجبال رقم (١)
نتيجة لحركات
- ٢ - واحة
- ٣ - تصنف السهول رقم (٣)
سهولاً
- ٤ - تنتمي الهضبة رقم (٤)
للجَنَاح
- ٥ - تُعد رقم (٥) سهولاً

٢) أكمل العبارات التالية بما يناسبها من كلمات:

- ١ - أعلى قمة جبلية في الوطن العربي هي قمة جبل
- ٢ - تكوّنت جبال أطلس نتيجة الحركات
- ٣ - مرتفعات اليمن تكونت نتيجة
- ٤ - تقع هضبة حضرموت في الجَنَاح
- ٥ - أكثر مظاهر السطح انتشاراً في الوطن العربي هي
- ٦ - تُعتبر جبال عَسِير من أمثلة الجبال
- ٧ - يمتد بحر الرمال العظيم بين مصر و
- ٨ - تكونت السهول الفيضية نتيجة
- ٩ - تُعد سهول دجلة والفرات من السهول

٣) اكتب كلمة (صواب) أمام العبارة الصحيحة، وكلمة (خطأ) أمام العبارة غير الصحيحة:

- ١ - أدنى نقطة في سطح الوطن العربي هي بحر قزوين. ()
- ٢ - تشكلت جبال زاغروس نتيجة حركات التوائية. ()
- ٣ - جبال عمان من الجبال الانكسارية في الوطن العربي. ()
- ٤ - تمتد هضبة إفريقيا الشمالية من سواحل المحيط الأطلسي غرباً حتى ساحل الخليج العربي شرقاً. ()
- ٥ - الكثبان الرملية تكونت بفعل التعرية الهوائية. ()
- ٦ - تقوم الزراعة في الواحات اعتماداً على المياه الجوفية. ()

- ٧ - تعد هضبة نجد من هضاب الجناح العربي الإفريقي. ()
- ٨ - نشأ وادي الجريز بفعل التعرية المائية. ()
- ٩ - تتميز سهول البحر المتوسط بأنها كثيرة السكان. ()
- ١٠ - تمتد السهول الفيضية لنهري دجلة والفرات بدولة اليمن. ()
- ١١ - تتميز سهول المحيط الأطلنطي بقلّة السكان وسهولة الانتقال. ()
- ١٢ - ساعد تنوع مظاهر السطح على تنوع الأنشطة الاقتصادية. ()

٤ اختر الإجابة الصحيحة مما بين القوسين:

- ١ - أحد الجبال الالتوائية في الوطن العربي هي جبال (الشام - الحجاز - أطلس - عسير)
- ٢ - جبال نشأت نتيجة انكسار في القشرة الأرضية (كردستان - زاغروس - عمان - عسير)
- ٣ - نشأت جبال أطلس نتيجة
(حركات انكسارية - حركات التوائية - ثورات بركانية - حركات الزلازل)
- ٤ - تمتد جبال البحر الأحمر في دولتي
(موريتانيا والمغرب - مصر والسودان - الجزائر والمغرب - ليبيا وتونس)
- ٥ - أكبر هضاب الوطن العربي مساحة هضبة
(الجلف الكبير - بادية الشام - إفريقيا الشمالية - حضرموت)
- ٦ - إحدى هضاب الجناح العربي الآسيوي هضبة
(الشطوط - الصحراء الكبرى - المعازة - بادية الشام)
- ٧ - «تكونت نتيجة ترسب المواد العالقة في مياه الأنهار» تشير العبارة إلى
(السهول الساحلية - الجبال - الهضاب - السهول الفيضية)
- ٨ - إحدى الظواهر التي تكونت بفعل التعرية المائية
(الجبال - الهضاب - الأودية الجافة - التجمعات الرملية)
- ٩ - السهول التي تتميز بتساقط الأمطار في فصل الشتاء هي سهول
(البحر المتوسط - البحر الأحمر - الخليج العربي - بحر العرب)

٥ صوب ما تحته خط:

- ١ - تكونت جبال زاغروس نتيجة للحركات الانكسارية.
- ٢ - تُعد جبال البحر الأحمر ومرتفعات اليمن من الجبال الالتوائية.
- ٣ - تقع هضبة بادية الشام في الجناح العربي الإفريقي.
- ٤ - توجد جبال الحجاز على الساحل الشرقي للبحر المتوسط.
- ٥ - تكونت سهول دجلة والفرات عن طريق ترسب المواد العالقة بمياه البحار.



٦ اكتب ما تشير إليه العبارة:

- (.....)
(.....)
(.....)

- ١ - الحركات الباطنية التي أدت إلى تكون جبال أطلس.
٢ - الحركات الباطنية التي أدت إلى تكون جبال البحر الأحمر.
٣ - سهول كوّنتها الأنهار نتيجة ترسيب المواد العالقة بمياهها.

٧ صنف ما يلي:

(أ) الظواهر التضاريسية التالية حسب عوامل تشكيلها:

(جبال البحر الأحمر - جبال زاغروس - سهول دجلة - وادي الجريير - بحر الرمال العظيم)

(ب) الجبال التالية إلى جبال التوائية وأخرى انكسارية:

(جبال عمان - جبال الحجاز - جبال زاغروس - جبال عسير - جبال كردستان - مرتفعات اليمن)

٨ بم تفسر؟

- ١ - نشأة جبال أطلس.
٢ - نشأة جبال البحر الأحمر.
٣ - تكوّن التجمعات الرملية في وطننا العربي.
٤ - أهمية الأودية الجافة.
٥ - صعوبة إنشاء الموانئ على سواحل البحر الأحمر.
٦ - تكوّن سهول وادي النيل.
٧ - أهمية السهول الفيضية في وطننا العربي.
٨ - يعيش بعض السكان في الواحات.

٩ ما النتائج المترتبة على؟

- ١ - حدوث الحركات الالتوائية.
٢ - حدوث الحركات الانكسارية.
٣ - تنوع مظاهر سطح الوطن العربي.
٤ - وجود المياه الجوفية في الواحات.

١٠ دلل على صحة العبارات الآتية:

- ١ - أثرت الحركات الانكسارية على مظاهر سطح الوطن العربي.
٢ - تتنوع السهول في الوطن العربي.

١١ أجب عما يأتي:

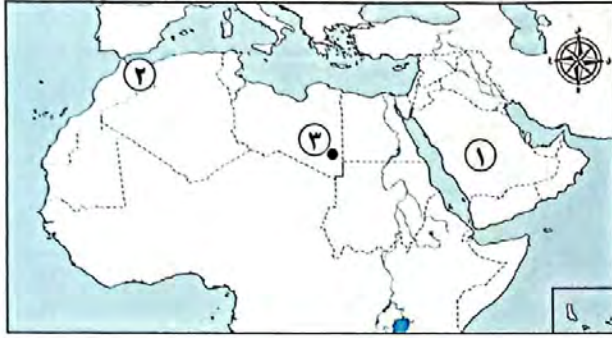
- ١ - ماذا يحدث إذا لم يتعرض الوطن العربي لحركات التوائية؟
٢ - أعط مثالاً واحداً لكل من: (الجبال الالتوائية في الجناح الآسيوي - السهول الساحلية في الجناح الإفريقي)
٣ - حدد أوجه التشابه والاختلاف بين: جبال البحر الأحمر - جبال أطلس.

اختبار على الدرس الأول



١٥

(يجيب عنه التلميذ)



١) لاحظ الخريطة، ثم أجب:

١ - صوب: تقع الهضبة رقم (١) في الجَنَاح

الإفريقي.

٢ - يشير رقم (٢) لجبال

٣ - يشير رقم (٣) لواحة

٢) أكمل العبارات الآتية بما يناسبها من كلمات:

١ - أكبر الظواهر التضاريسية مساحة في الوطن العربي هي

٢ - يصعب إقامة مواني على ساحل البحر الأحمر لوجود

٣ - تكونت التجمعات الرملية بفعل

٤ - نشأت جبال عسير نتيجة حركات

٣) اكتب كلمة (صواب) أمام العبارة الصحيحة وكلمة (خطأ) أمام العبارة غير الصحيحة:

١ - تقع جبال الحجاز في الجَنَاح الإفريقي من الوطن العربي. ()

٢ - تقع هضبة بادية الشام وسط شبه الجزيرة العربية. ()

٣ - تستخرج الثروات المعدنية ومصادر الطاقة من سهول البحر الأحمر. ()

٤) اختر الإجابة الصحيحة مما بين القوسين:

١ - «تستخدم كطرق للمواصلات في الصحاري» تنطبق العبارة على

(السهول الفيضية - السهول الساحلية - الأودية الجافة - الجبال الانكسارية)

٢ - تعتمد الزراعة في الواحات على

(المياه الجوفية - البحار - الأمطار الشتوية - الأنهار)

٣ - تكونت مرتفعات اليمن نتيجة

(التعرية الهوائية - الحركات الانكسارية - الحركات الالتوائية - التعرية المائية)

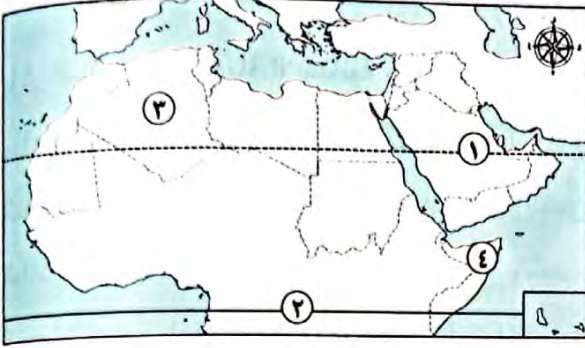
٥) قارن بين:

- أهمية كل من: السهول الساحلية والسهول الفيضية.





على الدرس الثاني



١) لاحظ خريطة الوطن العربي ثم أجب:

- ١ - مدار
- ٢ - دائرة
- ٣ - منطقة يسودها مناخ
- ٤ - دولة تسقط عليها أمطار موسمية

٢) أكمل العبارات التالية بما يناسبها من كلمات:

- ١ - يسود معظم أجزاء الوطن العربي المناخ
- ٢ - الأجزاء الشمالية من الوطن العربي يسودها المناخ
- ٣ - تتأثر المناطق الساحلية بالتيارات البحرية الدفيئة التي تؤدي إلى ارتفاع
- ٤ - يهب على الوطن العربي صيفاً رياح حارة قادمة من جنوب
- ٥ - تنخفض درجة حرارة السواحل عند مرور التيارات
- ٦ - تسقط الأمطار بغزارة على منحدرات الجبال المواجهة للرياح
- ٧ - الأمطار التي تسقط صيفاً على معظم أنحاء الصومال تسمى
- ٨ - تسقط الأمطار شتاءً في الوطن العربي على المناطق المطلة على البحر
- ٩ - حركة مياه البحر والمحيطات تسمى

٣) اكتب كلمة (صواب) أمام العبارة الصحيحة، وكلمة (خطأ) أمام العبارة غير الصحيحة:

- ١ - يؤثر الموقع الفلكي للوطن العربي على مناخه. ()
- ٢ - يقع وطننا العربي بين دائرتي عرض ٢° جنوباً : ٣٠° ٣٧° شمالاً. ()
- ٣ - تمر دائرة الاستواء في شمال الوطن العربي. ()
- ٤ - تقل درجات الحرارة كلما ارتفعنا فوق مستوى سطح البحر. ()
- ٥ - تؤدي التيارات البحرية الباردة إلى ارتفاع درجة حرارة السواحل التي تمر بها. ()
- ٦ - يتسم وطننا العربي بمناخ شديد الحرارة صيفاً. ()
- ٧ - ترتفع درجة الحرارة شتاءً في المناطق الداخلية من الوطن العربي. ()
- ٨ - يقل تأثير المسطحات المائية بالوطن العربي على المناخ بسبب ضيق مساحتها. ()
- ٩ - تسقط الأمطار بغزارة على منحدرات الجبال المواجهة للرياح الجافة. ()
- ١٠ - تسقط الأمطار صيفاً على الأطراف الشمالية للوطن العربي. ()
- ١١ - يؤدي سوء الأحوال المناخية إلى تأجيل أو إلغاء الرحلات الجوية. ()

٤ اختر الإجابة الصحيحة مما بين القوسين:

- ١ - تمر بأراضي الوطن العربي جنوباً
(الدائرة القطبية الشمالية - مدار السرطان - دائرة الاستواء - خط جرينتش)
- ٢ - المناطق القريبة من المسطحات المائية يكون مناخها
(شديد الحرارة والجفاف - أكثر اعتدالاً ومطرًا - أقل اعتدالاً ومطرًا - شديد البرودة والجفاف)
- ٣ - تهب على الوطن العربي شتاءً رياح شديدة البرودة قادمة من
(قارة إفريقيا - المحيط الهندي - قارة أوروبا - المحيط الهادي)
- ٤ - مناخ مدينة الإسكندرية معتدل أكثر من مناخ مدينة الرياض بسبب تأثير
(اتجاه المرتفعات - المسطحات المائية - التيارات البحرية - خط جرينتش)
- ٥ - الارتفاع لمسافة ١٥٠ مترًا فوق مستوى سطح البحر يؤدي إلى انخفاض الحرارة بمقدار
(درجة واحدة - درجتين - ثلاث درجات - أربع درجات)
- ٦ - تسقط أمطار موسمية صيفية على دولة
(لبنان - سوريا - اليمن - تونس)
- ٧ - يحل فصل الشتاء على الوطن العربي عندما تتعامد الشمس على
(مدار السرطان - مدار الجدي - الدائرة القطبية - دائرة الاستواء)

٥ صوب ما تحته خط:

- ١ - يسود المناخ المعتدل مناطق الوطن العربي الجنوبية.
- ٢ - يقترب الوطن العربي من قارة أستراليا.
- ٣ - يحل فصل الشتاء على الوطن العربي عندما تتعامد الشمس على دائرة الاستواء.
- ٤ - يعاني الوطن العربي من شدة البرودة شتاءً في بعض الأجزاء الجنوبية.
- ٥ - تنخفض درجات الحرارة فوق الجبال فتتكون الرمال.

٦ فسر ما يلي:

- ١ - مدينة الإسكندرية أكثر اعتدالاً في مناخها من مدينة الرياض.
- ٢ - يقل تأثير المسطحات المائية مناخياً على الوطن العربي.
- ٣ - يختلف مناخ المناطق المرتفعة عن مناخ الأودية والسهول.
- ٤ - اعتدال الحرارة على معظم أرجاء الوطن العربي شتاءً.
- ٥ - تنخفض درجات الحرارة شتاءً بالوطن العربي.
- ٦ - ترتفع درجات الحرارة صيفاً بالوطن العربي.
- ٧ - تغطي الثلوج قمة جبل توبقال في المغرب.



٧) اكتب نتيجة واحدة ترتبت على ما يلي:

- ١ - الموقع الفلكي للوطن العربي.
- ٢ - امتداد الوطن العربي في قارتي إفريقيا وآسيا واقترابه من أوروبا.
- ٣ - تعامد الشمس على مدار السرطان صيفاً بالنسبة للوطن العربي.
- ٤ - مرور التيارات البحرية الدفيئة بالقرب من المناطق الساحلية.

٨) دلل:

- ١ - يؤثر الموقع الجغرافي على مناخ الوطن العربي.
- ٢ - تؤثر التيارات البحرية على مناخ المناطق الساحلية.
- ٣ - تؤثر مظاهر السطح على المناخ في الوطن العربي.

٩) ما العلاقة بين مناخ الوطن العربي وكل من....؟

- ١ - الموقع الفلكي.
- ٢ - مجال الطيران.
- ٣ - مظاهر السطح.
- ٤ - المسطحات المائية.
- ٥ - التيارات البحرية.

١٠) أجب عما يلي:

- ١ - حدد أهم العوامل المؤثرة في مناخ الوطن العربي.
- ٢ - ما الفرق بين التيارات البحرية الدفيئة والباردة؟

التيارات البحرية الباردة	التيارات البحرية الدفيئة

٣ - قارن بين مناخ الوطن العربي صيفاً وشتاءً من حيث (الحرارة والمطر).

مناخ الوطن العربي شتاءً	مناخ الوطن العربي صيفاً



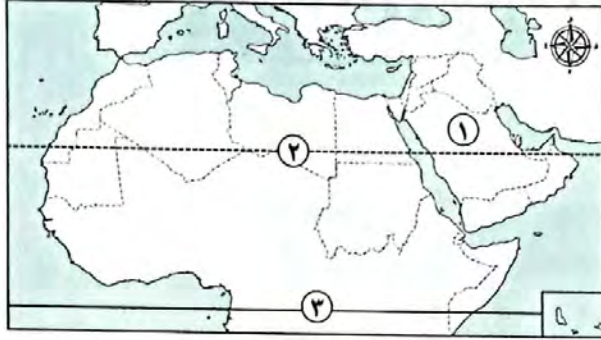
- ٤ - وضح كيف يؤثر المناخ على الرحلات الجوية.
- ٥ - ما المقصود بالتيارات البحرية؟
- ٦ - كيف يؤثر العامل في الصورة المقابلة على الأمطار؟
- ٧ - ما العلاقة بين: درجة الحرارة - دائرة الاستواء؟

اختبار تراكمي على ما سبق



١٥

(يجيب عنه التلميذ)



١) لاحظ الخريطة، ثم أجب:

١ - صواب أم خطأ:

تنخفض الحرارة في المنطقة رقم (١) لأنها

قريبة من المسطحات المائية. ()

٢ - يشير رقم (٢) لمدار

٣ - يشير رقم (٣) لدائرة

٢) أكمل العبارات الآتية بما يناسبها من كلمات:

١ - تقع جبال كردستان في الجناح

٢ - نشأت جبال البحر الأحمر نتيجة حركات

٣ - يسود معظم أنحاء الوطن العربي المناخ

٣) اكتب كلمة (صواب) أمام العبارة الصحيحة وكلمة (خطأ) أمام العبارة غير الصحيحة:

() ١ - تؤثر المسطحات المائية على مناخ الوطن العربي.

() ٢ - تقع هضبة حضرموت جنوب شبه الجزيرة العربية.

() ٣ - تسقط الأمطار على مرتفعات اليمن شتاءً.

() ٤ - تكونت السهول الفيضية من ترسب المواد العالقة في مياه الأنهار.

٤) اختر الإجابة الصحيحة مما بين القوسين:

١ - يمتد بحر الرمال العظيم بين دولتي

(الجزائر وليبيا - السودان ومصر - مصر وليبيا - الجزائر وتونس)

٢ - يقع وادي الجريد في

(ليبيا - السودان - السعودية - الأردن)

٣ - عندما ترتفع ١٥٠ م عن مستوى سطح البحر تنخفض الحرارة

(درجة - درجتين - ثلاث درجات - أربع درجات)

٥) اكتب تفسيرًا واحدًا لكل من:

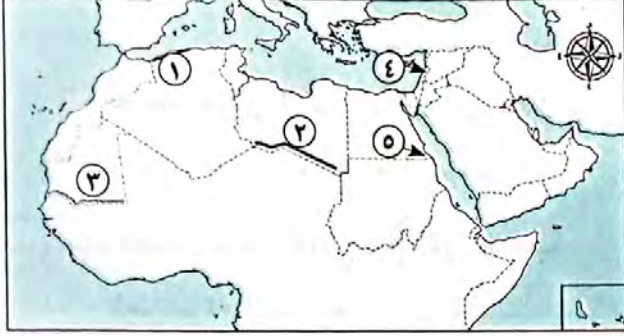
١ - تؤثر المرتفعات على الأمطار في الوطن العربي.

٢ - ارتفاع الحرارة بشكل عام في الوطن العربي صيفًا.





١) لاحظ الخريطة، ثم أجب:



- ١ - إقليم مناخ
- ٢ - إقليم المناخ
- ٣ - إقليم المناخ
- ٤ - دولة تقع فيها محمية أرز الشوف
- ٥ - إحدى المحميات المصرية

٢) أكمل العبارات التالية بكلمات مناسبة:

- ١ - يتميز إقليم البحر المتوسط بتساقط الأمطار في فصل
- ٢ - تربي الماعز والأغنام في إقليم مناخ
- ٣ - يسود معظم مساحة الوطن العربي إقليم المناخ
- ٤ - تنمو بالإقليم المداري في الوطن العربي حشائش
- ٥ - تسقط الأمطار صيفاً في الإقليم المناخي
- ٦ - ينمو نبات الصبار في الإقليم
- ٧ - تقع محمية ضانا في دولة

٣) اكتب كلمة (صواب) أمام العبارة الصحيحة، وكلمة (خطأ) أمام العبارة غير الصحيحة:

- ١ - تنوع الأقاليم المناخية في الوطن العربي أدى إلى تنوع النبات الطبيعي. ()
- ٢ - يمتد إقليم البحر المتوسط بين دائرتي عرض 15° : 30° شمالاً بالوطن العربي. ()
- ٣ - تقع مدينة أسوان في إقليم البحر المتوسط. ()
- ٤ - ينتشر نبات الصبار والنخيل بإقليم البحر المتوسط. ()
- ٥ - تنمو حشائش السافانا في الإقليم المداري بالوطن العربي. ()
- ٦ - تنتشر حشائش الإستبس في الإقليم الصحراوي الحار. ()
- ٧ - تساعد المحميات الطبيعية في الحفاظ على الحياة البرية بالوطن العربي. ()

٤) اختر الإجابة الصحيحة مما بين القوسين:

- ١ - يتميز إقليم البحر المتوسط بسقوط الأمطار في فصل (الشتاء - الخريف - الربيع - الصيف)
- ٢ - إحدى الدول العربية التي تقع أجزاءها الشمالية في إقليم مناخ البحر المتوسط (موريتانيا - السودان - ليبيا - اليمن)



- ٣ - تنمو أشجار الأرز في إقليم مناخ
(البحر المتوسط - الاستوائي - الصحراوي الحار - المداري)
- ٤ - دولة عربية تقع بالكامل داخل الإقليم الصحراوي الحار هي (الجزائر - الكويت - السودان - لبنان)
- ٥ - يتسم مناخ الجزء الجنوبي الغربي من شبه الجزيرة العربية بـ
(شتاء بارد ممطر - صيف حار جاف - شتاء معتدل جاف - صيف بارد ممطر)
- ٦ - تسقط أمطار الإقليم المداري في فصل
(الشتاء - الصيف - الخريف - الربيع)
- ٧ - تقع محمية ضانا في دولة
(سوريا - لبنان - فلسطين - الأردن)

٥) حدد المختلف فيما يلي مع ذكر السبب:

- ١ - ثعلب - ثعبان - سحلية - زرافة.
٢ - أشجار الصنوبر - أشجار الزيتون - نبات الصبار - أشجار الأرز.

٦) فسر العبارات الآتية:

- ١ - أهمية حشائش الإستبس بالنسبة للثروة الحيوانية.
٢ - تنوع الأقاليم المناخية في وطننا العربي.
٣ - أهمية المحميات الطبيعية.
٤ - سقوط الأمطار صيفاً على جنوب غرب شبه الجزيرة العربية.

٧) ما النتائج المترتبة على؟

- ١ - ظهور تهديدات تواجه المحميات الطبيعية في الوطن العربي.
٢ - امتداد إقليم المناخ الصحراوي الحار بين ١٥° : ٣٠° شمالاً.

٨) أجب عن الأسئلة التالية:

- ١ - ما المقصود بالإقليم المناخي؟
٢ - صنّف النباتات الآتية حسب الإقليم المناخي الذي تُوجد فيه:
(حشائش السافانا - أشجار الزيتون - الصبار - حشائش الإستبس)
٣ - دلل على صحة العبارة: ساعدت مساحة الوطن العربي على اختلاف الظروف المناخية فيه.
٤ - قارن بين إقليم مناخ البحر المتوسط وإقليم المناخ الصحراوي الحار من حيث: الخصائص المناخية والنباتية والحيوانات البرية.
٥ - لاحظ الصورة ثم أجب:

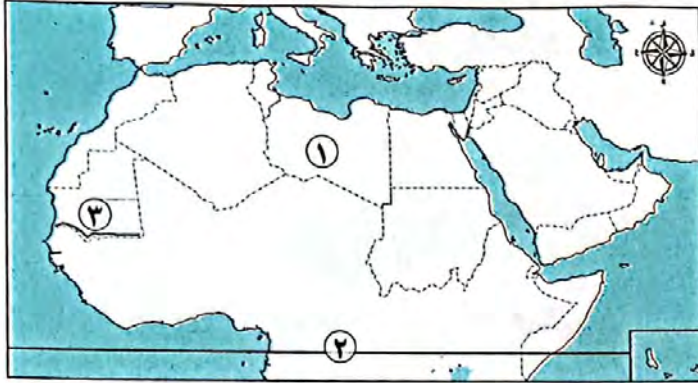


- أ ما اسم الحشائش التي يعيش فيها الحيوان الموجود بالصورة؟
ب توقع اسم الإقليم المناخي الذي يوجد فيه.
ج صف الخصائص المناخية لهذا الإقليم.

اختبار تراكمي على ما سبق

(يجيب عنه التلميذ)

١٥



١) لاحظ الخريطة، ثم أجب:

- ١ - هضبة
- ٢ - صَوِّب: يشير الرقم (٢) إلى مدار السرطان.
- ٣ - إقليم مناخ

٢) أكمل العبارات الآتية بما يناسبها من كلمات:

- ١ - يمتد بحر الرمال العظيم بين مصر ودولة
- ٢ - تسقط الأمطار بغزارة على منحدرات الجبال المواجهة للرياح
- ٣ - ينتشر نبات الصبار في الإقليم
- ٤ - تقع سهول دجلة والفرات في قارة

٣) اكتب كلمة (صواب) أمام العبارة الصحيحة، وكلمة (خطأ) أمام العبارة غير الصحيحة:

- ١ - تهب على الوطن العربي شتاءً رياح باردة قادمة من أوروبا. ()
- ٢ - تعيش الأسود في إقليم مناخ البحر المتوسط. ()
- ٣ - تقع محمية ضانا في دولة الكويت. ()

٤) اختر الإجابة الصحيحة مما بين القوسين:

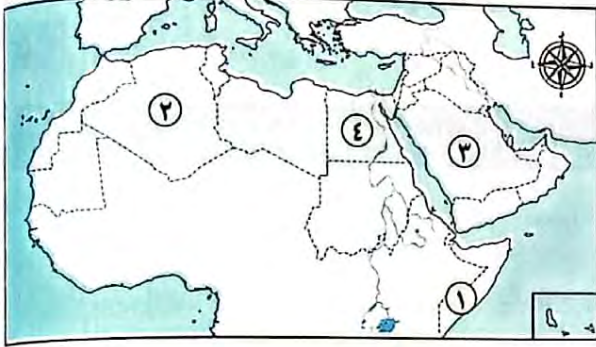
- ١ - يتميز مناخ مدينة الإسكندرية بمصر بأنه أقل حرارة من
(الرياض - بيروت - مرسى مطروح - الدار البيضاء)
- ٢ - يتسم مناخ الجزء الجنوبي الغربي من شبه الجزيرة العربية بأنه
(شتاء بارد ممطر - صيف حار جاف - شتاء معتدل جاف - ممطر طوال العام)
- ٣ - جبال أطلس نتجت عن
(حركات الزلازل - الثورات البركانية - حركات التوائية - حركات انكسارية)

٥) أجب عما يأتي:

- ١ - اكتب نتيجة واحدة لـ: الموقع الفلكي للوطن العربي.
- ٢ - ما العلاقة بين: الأنشطة البشرية - الحياة البرية؟



١) لاحظ الخريطة ثم أجب:



- ١ - الدولة التي تعرضت لأكبر موجة جفاف تمثل رقم
- ٢ - دولة أعلنت بناء مدينة نيوم الخضراء تمثل رقم
- ٣ - أطلقت مبادرة لزراعة ١٠٠ مليون شجرة مثمرة في الدولة رقم

٢) أكمل العبارات التالية بما يناسبها:

- ١ - عُقد مؤتمر المناخ للأمم المتحدة (COP 27) عام ٢٠٢٢م في دولة
- ٢ - تزداد معدلات استهلاك المياه العذبة في الوطن العربي بسبب النمو المتزايد في أعداد
- ٣ - يتعرض الوطن العربي لمشكلة التصحر بسبب زحف
- ٤ - تؤدي المشكلات البيئية في العديد من مناطق الوطن العربي إلى تدمير
- ٥ - إنشاء المدن الذكية بالوطن العربي يقلل من انبعاث
- ٦ - انطلقت مبادرة زراعة ٤٥٠ مليون شجرة في دولة

٣) اكتب كلمة (صواب) أمام العبارة الصحيحة، وكلمة (خطأ) أمام العبارة غير الصحيحة:

- ١ - الجفاف هو نقص كمية الأمطار ليومين. ()
- ٢ - يؤثر التغير المناخي على درجة الحرارة وكمية المطر. ()
- ٣ - أنشئت المدن الذكية بهدف تقليل انبعاثات الغازات الدفيئة. ()
- ٤ - تعرضت دولة المغرب لأكبر موجة جفاف سببت نقصاً في الغذاء. ()
- ٥ - التوسع المستمر في الزراعة يؤدي إلى ندرة المياه العذبة. ()
- ٦ - يحدث التصحر في الوطن العربي بسبب استخدام طرق الري الحديثة. ()
- ٧ - يساهم القطع العشوائي للأشجار في حل مشكلة التصحر. ()
- ٨ - استخدام الأسمدة الكيماوية والمبيدات الحشرية يقلل من مشكلة التصحر. ()
- ٩ - المشكلات البيئية في الوطن العربي تهدد صحة وحياة المواطنين. ()
- ١٠ - يساهم استخدام مصادر الطاقة النظيفة في حل المشكلات البيئية في الوطن العربي. ()



٤ اختر الإجابة الصحيحة مما بين القوسين:

- ١ - يعاني نحو ثلثي مساحة الوطن العربي من مشكلة
(الجفاف - التصحر - ندرة المياه العذبة - قلة المراعي الطبيعية)
- ٢ - أكثر الدول العربية التي تعرضت لخطر الجفاف دولة
(الصومال - المغرب - العراق - البحرين)
- ٣ - «تدهور الأرض وتناقص قدرتها على الإنتاج» تشير العبارة لتعريف
(الجفاف - الفيضان - التصحر - السيول)
- ٤ - إحدى الدول العربية التي أطلقت مبادرة لزيادة المساحات الخضراء
(اليمن - سوريا - لبنان - مصر)
- ٥ - أُعلن عن إنشاء مدينة نيوم الخضراء بدولة
(المغرب - مصر - السعودية - الجزائر)

٥ صوب ما تحته خط:

- ١ - «نقص كمية الأمطار بما لا يسمح بالزراعة ونمو الحشائش» تشير العبارة إلى التصحّر.
- ٢ - سببت موجة الجفاف حدوث مجاعة لأكثر من مليون شخص في دولة تونس.
- ٣ - تتناقص قدرة الأرض على الإنتاج بسبب استخدام طرق الري الحديثة.
- ٤ - تعمل الدول العربية على حل مشكلات البيئة بإقامة مساكن مستقرة للسياح.
- ٥ - يمكن حل المشكلات البيئية عن طريق زيادة المناطق السكنية.

٦ اكتب ما تشير إليه العبارات الآتية:

- ١ - مشكلة تحدث نتيجة لزيادة استهلاك المياه. (.....)
- ٢ - نقص كمية الأمطار في بعض السنوات بما لا يسمح بالزراعة أو نمو الحشائش. (.....)
- ٣ - تدهور الأراضي وتناقص قدرتها على الإنتاج. (.....)
- ٤ - دولة عربية تعرضت لأكبر موجة جفاف. (.....)

٧ اكتب تفسيرًا واحدًا لكل مما يلي:

- ١ - حدوث الجفاف في بعض الدول العربية.
- ٢ - زيادة معدل استهلاك المياه العذبة بالوطن العربي.
- ٣ - حدوث مشكلة التصحر في مساحات واسعة من الوطن العربي.
- ٤ - إنشاء المدن الذكية.



٨) اكتب نتيجة واحدة ترتبت على:

- ١ - تعرّض الصومال لأكبر موجة جفاف بالوطن العربي.
- ٢ - الرعي الجائر للحيوانات في الوطن العربي.
- ٣ - وجود العديد من المشكلات البيئية في الوطن العربي.

٩) اكتب دليلاً واحداً على:

- ١ - تعدد المشكلات البيئية في الوطن العربي.
- ٢ - تبذل السعودية جهوداً لمواجهة المشكلات البيئية.
- ٣ - المشكلات البيئية تمثل خطورة على الوطن العربي.

١٠) ما العلاقة بين كل مما يلي:

- ١ - السكان - مشكلة ندرة المياه العذبة.
- ٢ - التصحر - الغابات.
- ٣ - المشكلات البيئية - الحياة الحيوانية والنباتية.
- ٤ - الطاقة النظيفة - المشكلات البيئية.

١١) قدم مقترحات لحل كل من:

- ١ - مشكلة ندرة المياه العذبة في الوطن العربي.
- ٢ - مشكلة التصحر في الوطن العربي.

١٢) أجب عما يأتي:

- ١ - في رأيك، ما أهمية إنشاء مجلس الوزراء العرب المسؤولين عن شؤون البيئة؟
- ٢ - قدم مثالا واحداً على جهود مواجهة المشكلات البيئية في كل من:

أ) السعودية.

ب) مصر.

- ٣ - ما المقصود بكل من؟

أ) الجفاف.

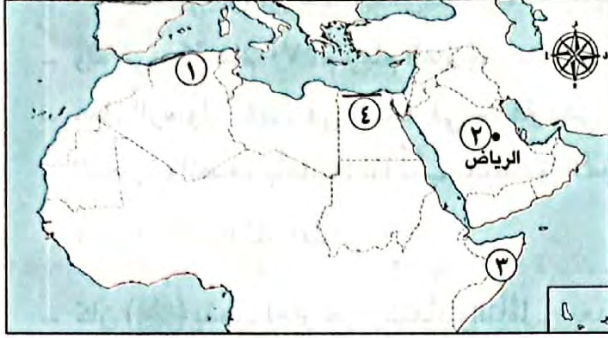
ب) التصحر.

اختبار تراكمي على ما سبق

(يجب منه التلميذ)

١٥

١) لاحظ الخريطة، ثم أجب:



١ - يشير الرقم (١) لجبال نشأت نتيجة الحركات

٢ - صواب أم خطأ:

يشير رقم (٢) لمدينة يظهر بها تأثير المسطحات المائية. ()

٣ - يشير رقم (٣) لدولة

٤ - إقليم مناخ

٢) أكمل العبارات الآتية بما يناسبها من كلمات:

١ - تنمو حشائش السافانا في إقليم المناخ

٢ - أكثر مظاهر السطح انتشارًا في الوطن العربي هي

٣ - أعلن عن إنشاء مدينة نيوم الخضراء عام ٢٠٢٢ م في دولة

٣) اكتب كلمة (صواب) أمام العبارة الصحيحة وكلمة (خطأ) أمام العبارة غير الصحيحة:

١ - أعلى قمة جبلية في الوطن العربي توجد في اليمن. ()

٢ - يسود المناخ المعتدل الأجزاء الجنوبية من الوطن العربي. ()

٣ - يؤثر التغير المناخي على كميات الأمطار ودرجات الحرارة بالوطن العربي. ()

٤) اختر الإجابة الصحيحة مما بين القوسين:

١ - مدينة عربية تقع في مناخ المناطق الساحلية

(الإسكندرية - الخرطوم - أسوان - الرياض)

٢ - أحد أشهر النباتات التي تنمو في إقليم المناخ الصحراوي الحار

(الأرز - الزيتون - الصنوبر - الصبار)

٣ - يحدث التصحر بسبب

(زيادة مساحات الغابات - كثرة الأمطار والسيول - زحف الكثبان الرملية - إنشاء المدن الذكية)

٥) بم تفسر؟

١ - تعاني معظم الدول العربية من ندرة المياه العذبة.

٢ - أهمية إنشاء دول الوطن العربي للمحميات الطبيعية.



١) أكمل العبارات الآتية بما يناسبها من كلمات:

- ١ - وُلد الرسول (ﷺ) وأبو بكر الصديق (رضي الله عنه) في مدينة
- ٢ - سُمي العام الذي وُلد فيه الرسول (ﷺ) باسم عام
- ٣ - كان الرسول (ﷺ) يذهب لغار حراء من أجل
- ٤ - تزوج النبي (ﷺ) من ابنة أبي بكر الصديق (رضي الله عنه) وهي السيدة
- ٥ - أنجز أبو بكر الصديق (رضي الله عنه) خلال توليه الخلافة مشروعًا عظيمًا للإسلام هو جمع

٢) اكتب كلمة (صواب) أمام العبارة الصحيحة، وكلمة (خطأ) أمام العبارة غير الصحيحة:

- ١ - واجه الرسول (ﷺ) العديد من الصعوبات في نشر الدعوة الإسلامية. ()
- ٢ - كان الرسول (ﷺ) يأخذ بآراء زوجاته في شئون عدة. ()
- ٣ - أول من أسلم من الرجال هو عبد الرحمن بن عوف (رضي الله عنه). ()
- ٤ - فشل أبو بكر الصديق (رضي الله عنه) في استعادة وحدة الدولة الإسلامية بعد وفاة الرسول (ﷺ). ()
- ٥ - اهتم أبو بكر الصديق (رضي الله عنه) برعاية الفقراء والمرضى. ()

٣) اختر الإجابة الصحيحة مما بين القوسين:

- ١ - كان الرسول (ﷺ) يستشيرهم في كثير من الأمور المتعلقة بالدولة الإسلامية
(زمعاء قريش - الصحابة - قبائل العرب - الخوارج)
- ٢ - توفي الرسول (ﷺ) في
(المدينة - مكة - الطائف - الشام)
- ٣ - كان اهتمام أبي بكر الصديق (رضي الله عنه) بالفتوحات يتركز على بلاد
(الحبشة وفارس - الشام والمغرب - النوبة وأرمينيا - العراق والشام)

٤) أجب عما يلي:

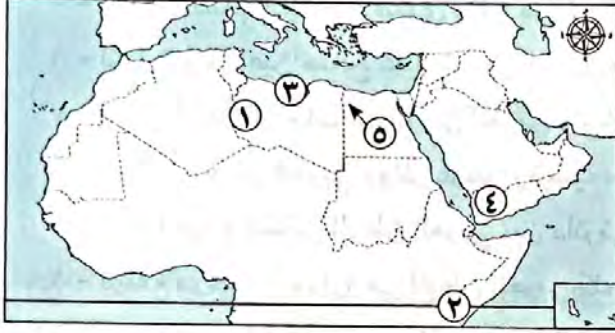
- ١ - ما النتائج المترتبة على: عمل الرسول (ﷺ) في شبابه بحرفة رعي الأغنام؟
- ٢ - فسر العبارة التالية: كان الرسول (ﷺ) يجتمع مع المسلمين في دار الأرقم بن أبي الأرقم.
- ٣ - حدد بعضًا من الصفات النبيلة التي اتصف بها الرسول (ﷺ).
- ٤ - دلل على صحة العبارة: اتصف أبو بكر الصديق (رضي الله عنه) بالحكمة والقدرة على مواجهة المواقف الصعبة خلال فترة خلافته.





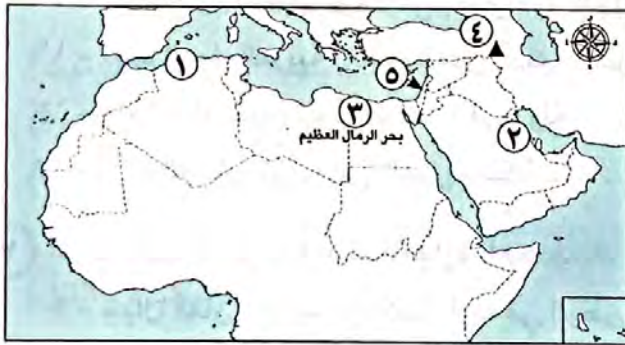
١ أسئلة الخرائط:

أ أمامك خريطة صماء للوطن العربي، وضح مدلول الأرقام الموقعة عليها:



- ١ - يشير رقم (١) لإحدى أهم الهضاب في الجَنَاح الإفريقي وهي
- ٢ - يشير رقم (٢) إلى دائرة
- ٣ - يشير رقم (٣) إلى أحد السهول
- ٤ - يشير رقم (٤) إلى مرتفعات
- ٥ - يشير رقم (٥) إلى واحة

ب أمامك خريطة صماء للوطن العربي، لاحظها ثم صوب ما تحته خط:



١ - يشير الرقم (١) لمنطقة تابعة لإقليم المناخ الصحراوي الحار.

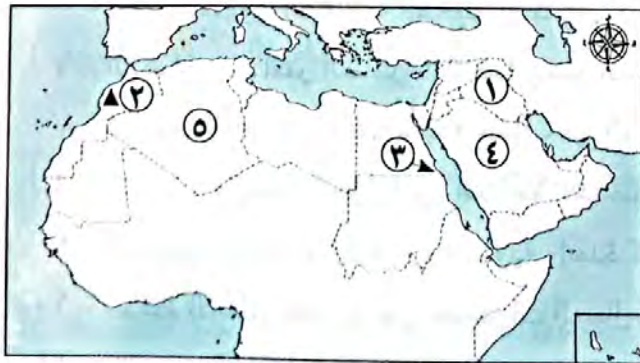
٢ - يشير الرقم (٢) إلى سهول البحر الأحمر.

٣ - تمتد الظاهرة التضاريسية رقم (٣) بين مصر والسودان.

٤ - تكونت الجبال رقم (٤) نتيجة الحركات الانكسارية.

٥ - أدنى نقطة في الوطن العربي هي البحر المتوسط.

ج أمامك خريطة صماء للوطن العربي، لاحظها ثم أجب:



١ - اختر: تقع السهول الفيضية رقم (١) في قارة

(إفريقيا - أوروبا - آسيا - أستراليا)

٢ - صواب أو خطأ: يشير رقم (٢) لأعلى قمة جبلية في الوطن العربي. ()

٣ - صوب: يشير رقم (٣) لمحمية أرز الشوف.

٤ - يشير رقم (٤) لأحد الأودية الجافة في السعودية وهو وادي

٥ - يشير رقم (٥) لوحدة عين صالح بدولة



٢

أكمل العبارات الآتية بما يناسبها من كلمات:

- ١ - تقع أعلى قمة جبلية في الوطن العربي في دولة
- ٢ - جبال انكسارية تقع في أقصى جنوب غرب شبه الجزيرة العربية
- ٣ - تمتد سلاسل جبال الحجاز في الجَنَاح
- ٤ - أكبر الظاهرات التضاريسية مساحة في الجَنَاح الإفريقي هضبة
- ٥ - إحدى هضاب الجَنَاح الآسيوي وتقع في شمال شبه الجزيرة العربية
- ٦ - لزيارة واحة عين صالح عليك السفر إلى دولة
- ٧ - إحدى أشهر الواحات في الوطن العربي واحة الكُفْرة بدولة
- ٨ - يمر في الوطن العربي دوائر عرض رئيسية منها دائرة الاستواء و
- ٩ - يمتد الموقع الفلكي للوطن العربي بين دائرتي عرض ٢° جنوبًا و
- ١٠ - ترتفع درجات الحرارة في الوطن العربي كلما اتجهنا
- ١١ - «حركة مياه البحار والمحيطات» تشير العبارة إلى مصطلح
- ١٢ - يحل الصيف في الوطن العربي عندما تتعامد أشعة الشمس على مدار
- ١٣ - «منطقة تتسم بخصائص مناخية تميزها عن غيرها» تشير العبارة إلى مصطلح
- ١٤ - إقليم مناخي يمتد بين دائرتي عرض ٣٠° شمالًا : ٣٧° شمالًا هو إقليم مناخ
- ١٥ - محمية أرز الشوف توجد في إحدى دول الجَنَاح
- ١٦ - تهتم الدول العربية بإنشاء المدن الذكية لتقليل انبعاثات
- ١٧ - يتم إنشاء مدينة نيوم الخضراء في دولة
- ١٨ - إزالة الغابات تؤدي إلى ظهور مشكلة

٣

اكتب كلمة (صواب) أمام العبارة الصحيحة، وكلمة (خطأ) أمام العبارة غير الصحيحة:

- ١ - جبال عُمان من الجبال الانكسارية في الوطن العربي. ()
- ٢ - نشأت جبال عسير نتيجة الحركات الالتوائية التي تعرضت لها شبه الجزيرة العربية. ()
- ٣ - وادي الجرير من الأودية الجافة في السعودية. ()
- ٤ - تكوّنت السهول الفيضية للوطن العربي عن طريق التعرية الهوائية. ()
- ٥ - تتميز السهول الساحلية للمحيط الأطلسي بكثرة سكانها وسهولة الانتقال عليها. ()
- ٦ - الهضاب هي أكثر الظاهرات التضاريسية انتشارًا في الوطن العربي. ()
- ٧ - تعرضت الصومال لأكبر موجة جفاف في الوطن العربي. ()
- ٨ - تنخفض درجات الحرارة في المناطق الداخلية بالوطن العربي صيفًا. ()
- ٩ - تنخفض درجة الحرارة درجة مئوية واحدة كلما ارتفعنا ١٥٠ مترًا عن مستوى سطح البحر. ()
- ١٠ - تسقط الأمطار بغزارة على منحدرات الجبال المواجهة للرياح المحملة ببخار الماء. ()
- ١١ - تقل درجة الحرارة في الوطن العربي كلما اتجهنا شمالًا. ()



- ١٢ - تهبُّ على الوطن العربي رياح حارة قادمة من جنوب آسيا خلال فصل الصيف. ()
- ١٣ - أكبر الأقاليم المناخية مساحة في الوطن العربي هو الإقليم المداري. ()
- ١٤ - ترتفع درجة حرارة الوطن العربي في فصل الشتاء. ()
- ١٥ - تنمو حشائش السافانا في إقليم مناخ البحر المتوسط. ()
- ١٦ - الرعي الجائر للحيوانات يساهم في زيادة مساحة الأراضي الزراعية. ()
- ١٧ - تؤدي الزراعة بالطرق التقليدية لحدوث مشكلة التصحر. ()
- ١٨ - تقع محمية ضانا في لبنان. ()
- ١٩ - يتسبب تناقص مخزون المياه الجوفية في حدوث مشكلة التصحر. ()

٤) اختر الإجابة الصحيحة مما بين القوسين:

- ١ - نشأت سلاسل جبال أطلس نتيجة
(الحركات الانكسارية - الثورات البركانية - التعرية المائية - الحركات الالتوائية)
- ٢ - تكونت جبال البحر الأحمر نتيجة
(الزلازل - الالتواءات - الانكسارات - البراكين)
- ٣ - تمتد جبال عسير إلى الشرق من ساحل
(البحر المتوسط - البحر الأحمر - الخليج العربي - المحيط الهندي)
- ٤ - أحد الجبال الالتوائية في وطننا العربي هي جبال
(زاجروس - عسير - اليمن - الحجاز)
- ٥ - أقرب هضاب الجناح الآسيوي لبحر العرب هي هضبة
(الشطوط - نجد - بادية الشام - حضرموت)
- ٦ - إحدى أشهر الواحات في ليبيا واحة
(ليوا - العين - الكفرة - سيوة)
- ٧ - يمتد بحر الرمال العظيم بين مصر و
(فلسطين - السودان - الأردن - ليبيا)
- ٨ - أحد السهول الفيضية في الجناح الآسيوي هي سهول نهر
(السوبات - دجلة - العظيرة - النيل)
- ٩ - ينتشر في الأجزاء الشمالية للوطن العربي المناخ
(الحار - المعتدل - القطبي - الاستوائي)
- ١٠ - تنمو حشائش السافانا في الإقليم المناخي
(البحر المتوسط - البارد القاري - المداري - التندرا)
- ١١ - يشغل الإقليم المداري الجزء الجنوبي من دولة
(المغرب - موريتانيا - لبنان - مصر)
- ١٢ - تسقط الأمطار على جنوب موريتانيا خلال فصل
(الربيع - الشتاء - الخريف - الصيف)
- ١٣ - مدينتان متشابهتان في مناخهما الصحراوي الحار
(الرياض وأسوان - صنعاء والإسكندرية - الرياض وبيروت - بيروت والإسكندرية)

٥) بم تفسر؟:

- ١ - أهمية الواحات في الوطن العربي.
- ٢ - تكون السهول الفيضية على جانبي الأنهار.
- ٣ - تكون الكثبان الرملية.
- ٤ - صعوبة إقامة الموانئ على ساحل البحر الأحمر.



- ٥ - اختلاف الظروف المناخية بين مدينة الإسكندرية ومدينة الرياض.
- ٦ - قلة تأثير المسطحات المائية على مناخ الوطن العربي.
- ٧ - انتشار نبات الصبار في الصحاري العربية.
- ٨ - ندرة المياه العذبة في الوطن العربي.
- ٩ - حدوث مشكلة التصحر في الوطن العربي.
- ١٠ - أهمية المحميات الطبيعية.
- ١١ - يؤثر المناخ على مجال الطيران.

٦) دلل على صحة العبارات الآتية:

- ١ - تؤثر المرتفعات على مناخ الوطن العربي.
- ٢ - ساعدت التعرية الهوائية على تشكيل بعض مظاهر سطح الوطن العربي.
- ٣ - تأثر الجناح الآسيوي بالحركات الانكسارية.
- ٤ - يؤثر اتجاه المرتفعات على كمية الأمطار.
- ٥ - يتأثر مناخ الوطن العربي بالعديد من العوامل.

٧) ما النتائج المترتبة على؟

- ١ - الموقع الفلكي للوطن العربي.
- ٢ - اقتراب الصحاري والمرتفعات من السواحل.
- ٣ - تعرُّض الصومال لأكبر موجة جفاف.

٨) قارن بين كل مما يلي:

- ١ - الجبال الالتوائية - الجبال الانكسارية من حيث سبب نشأتها، مع ذكر مثال لكل منهما.
- ٢ - خصائص كل من (سهول البحر المتوسط - سهول البحر الأحمر).
- ٣ - (التيارات البحرية الدفيئة - التيارات البحرية الباردة) من حيث تأثير كل منهما على مناخ المناطق الساحلية.
- ٤ - مناخ الوطن العربي في فصلي الشتاء والصيف من حيث «درجات الحرارة وكمية الأمطار».
- ٥ - الإقليم الصحراوي الحار - الإقليم المداري من حيث الموقع والخصائص المناخية والنباتية.

٩) ما المقصود بكل مما يلي:

- ١ - الإقليم المناخي.
- ٢ - الجفاف.
- ٣ - التصحر.

١٠) وضح أوجه التشابه والاختلاف بين كل مما يلي:

- ١ - جبال أطلس - جبال عمان.
- ٢ - جبال البحر الأحمر - جبال عسير.

١١) أجب عما يلي:

- ١ - صنف الظواهر التضاريسية الآتية حسب عوامل تشكيلها:
(بحر الرمال العظيم - سهول وادي النيل - جبال أطلس - جبال البحر الأحمر)
- ٢ - في أي إقليم مناخي تنمو النباتات التالية؟
(أشجار الأرز - أشجار الزيتون - نبات الصبار - حشائش السافانا - حشائش الإستبس)



السؤال الأول: أكمل العبارات الآتية:

- ١ أعلى نقطة في وطننا العربي توجد في دولة
- ٢ يوجد في وطننا العربي نوعان من الجبال هما جبال وجبال
- ٣ من الجبال الالتوائية في وطننا العربي جبال وجبال
- ٤ توجد جبال البحر الأحمر في الوطن العربي في دولة ودولة
- ٥ يمتد في الجناح الآسيوي للوطن العربي سهول نهر ونهر
- ٦ من هضاب الجناح الآسيوي للوطن العربي هضبة وهضبة
- ٧ نشأت الكثبان الرملية في الوطن العربي نتيجة
- ٨ نحت الماء للسهول وإرسابها أدى إلى تكون
- ٩ تعد جبال الحجاز وعسير من الجبال في الوطن العربي.
- ١٠ تقوم الزراعة بواحة عين صالح اعتماداً على
- ١١ تتميز سهول البحر المتوسط في الوطن العربي بسقوط الأمطار

المستوى الأول

السؤال الثاني: اكتب كلمة (صواب) أمام العبارة الصحيحة، وكلمة (خطأ) أمام العبارة غير الصحيحة:

- ١ يوجد بالوطن العربي مظاهر متنوعة تتميز بأشكالها الجذابة وألوانها الخلابة. ()
- ٢ يوجد في وطننا العربي جبال التوائية فقط. ()
- ٣ توجد جبال أطلس في الجناح الآسيوي للوطن العربي. ()
- ٤ تكونت بعض الأودية الجافة نتيجة لحركات باطنية تعرضت لها الأرض. ()
- ٥ يتركز بعض السكان في هضاب الجناح الإفريقي للوطن العربي. ()
- ٦ تستخرج المعادن ومصادر الطاقة من المناطق الصحراوية في الوطن العربي. ()
- ٧ تقع سلاسل جبال الحجاز وعسير في شبه جزيرة سيناء. ()
- ٨ بحر الرمال العظيم يقع بين دولتي مصر والسودان. ()

السؤال الثالث: اختر الإجابة الصحيحة مما بين القوسين:

- ١ تمتد هضبة إفريقيا الشمالية من جبال البحر الأحمر إلى المحيط
- (الهادي - الهندي - الأطلنطي - القطبي)
- ٢ تعد من الجبال الانكسارية في الوطن العربي جبال
- (كردستان - زاجروس - عسير - عمان)
- ٣ توجد في دولتي مصر والسودان جبال
- (كردستان - زاجروس - الحجاز - البحر الأحمر)
- ٤ تعد من الجبال الالتوائية في الوطن العربي جبال
- (عسير - البحر الأحمر - عمان - الحجاز)

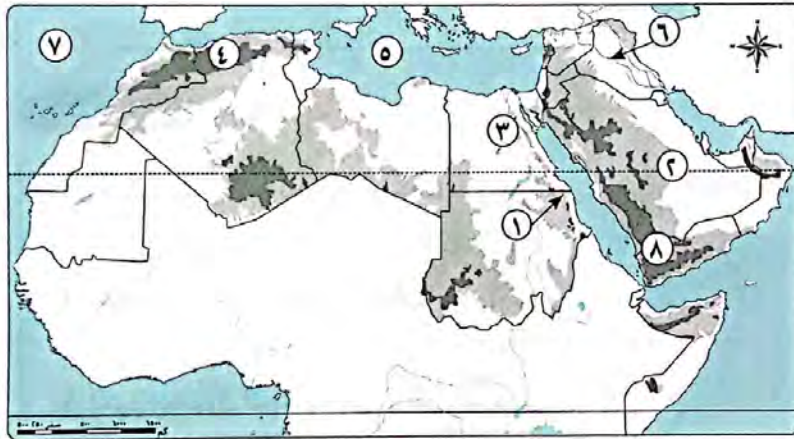
المستوى الثاني

- ٥ تعوق الشعاب المرجانية إقامة الموانئ على سواحل في الوطن العربي .
 (البحر المتوسط - الخليج العربي - البحر الأحمر - المحيط الأطلنطي)
- ٦ أكثر أشكال السطح انتشارًا في الوطن العربي هي
 (الجبال - الهضاب - السهول الفيضية - السهول الساحلية)
- ٧ من الأودية التي تكونت بفعل التعرية المائية وادي الجريفي (مصر - ليبيا - تونس - السعودية)
- ٨ يقصد السياح واحة سيوة في دولة للعلاج . (الصومال - مصر - السودان - جيبوتي)
- ٩ تقع بحيرة عسل في دولة (الصومال - السودان - جيبوتي - مصر)

السؤال الرابع اكتب ما تشير إليه العبارات الآتية:

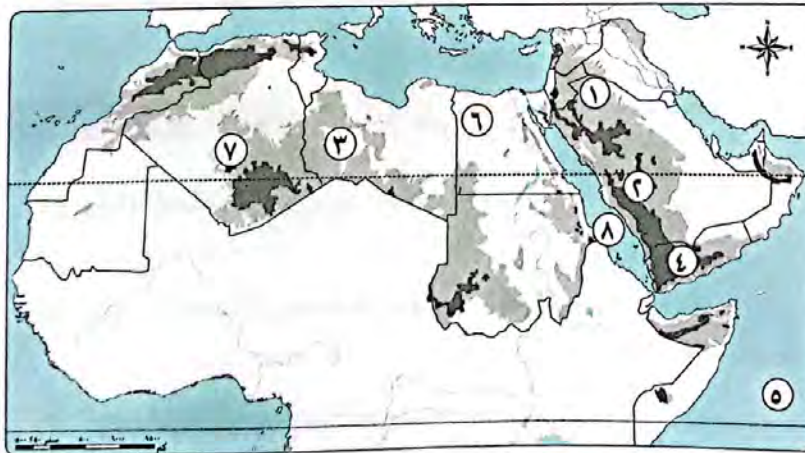
- ١ جبال نشأت نتيجة لحركات باطنية تعرضت لها الأرض . (.....)
- ٢ جبال نشأت نتيجة حدوث انكسار في قشرة الأرض . (.....)

السؤال الخامس (أ) أمامك خريطة صماء لوطننا العربي . اكتب مدلول الأرقام التالية:





- ١ جبال
- ٢ هضبة
- ٣ نهر
- ٤ جبال
- ٥ البحر
- ٦ نهرا
- ٧ المحيط
- ٨ مرتفعات

(ب) أمامك خريطة صماء لوطننا العربي . اكتب مدلول الأرقام التالية:



- ١ هضبة
- ٢ جبال
- ٣ هضبة
- ٤ هضبة
- ٥ المحيط
- ٦ واحة
- ٧ واحة
- ٨ البحر

السؤال السادس أمامك صور لبعض الظواهر التضاريسية في الوطن العربي، ادرسها، ثم أكمل الجدول التالي:

اسم الظاهرة	سبب تكونها	صورة لظاهرة تضاريسية
(١)		
(٢)		

السؤال السابع بم تفسر...؟

١ يعيش بعض السكان في الواحات بالوطن العربي.

٢ أهمية الأودية الجافة في الوطن العربي.

٣ تكون السهول الفيضية في الوطن العربي.

٤ كثرة السكان على سواحل المحيط الأطلنطي.

٥ قلة الموانئ على سواحل البحر الأحمر.

المستوى الرابع

السؤال الثامن ما النتائج المترتبة على...؟

١ وجود السكان في الواحات بالوطن العربي.

٢ وجود الشعاب المرجانية في سواحل البحر الأحمر.

٣ التعرية الهوائية بالنسبة للوطن العربي.



السؤال الأول: صوب ما تحته خط:

- ١- توجد أعلى نقطة في وطننا العربي في الجناح الآسيوي.
- ٢- من الأودية الجافة في الوطن العربي وادي الجرير في ليبيا.
- ٣- توجد الشعاب المرجانية على سواحل البحر المتوسط.
- ٤- تمتد هضبة حزموت من البحر المتوسط شمالاً إلى وسط إفريقيا جنوباً.
- ٥- يعيش السائح تجربة التزلج على جبل طوروس في دولة لبنان.

السؤال الثاني: (١) اختر الإجابة الصحيحة مما بين الأقواس:

- ١- أدنى نقطة في الوطن العربي هي (البحر المتوسط - البحر الأحمر - البحر الميت - بحر قزوين)
- ٢- من الجبال الالتوائية في الجناح الآسيوي للوطن العربي جبال (الحجاز - أطلس - كردستان - عسير)
- ٣- تمتد هضبة إفريقيا الشمالية من جبال البحر الأحمر إلى المحيط (الهادي - الهندي - الأطلنطي - القطبي)

(ب) في أي الدول العربية تقع الظاهرات الجغرافية الآتية ...؟

- ١- واحة الكفرة
- ٢- واحة عين صالح
- ٣- واحة سيوة
- ٤- بحيرة عسل

السؤال الثالث: (١) أكمل العبارات الآتية:

- ١- تكونت الأودية الجافة في الوطن العربي نتيجة
- ٢- تتميز السهول الساحلية المطلة على البحر المتوسط بأماطارها في فصل
- ٣- تنتشر الكثبان الرملية في الوطن العربي بدولتي و

(ب) قارن بين:

وجه المقارنة	جبال البحر الأحمر	جبال عمان
الموقع
سبب نشأتها





مجاب عنها

الدرس الثاني

العوامل المؤثرة في مناخ وطننا العربي



تدريب

السؤال الأول أكمل العبارات الآتية:

- ١ يسود المناخ المعتدل الأجزاء من الوطن العربي.
- ٢ يتميز الوطن العربي بمناخ في معظم أجزائه.
- ٣ الرياح الباردة تهب على الوطن العربي من أوروبا و.....
- ٤ تمردائرة الاستواء الوطن العربي.
- ٥ يتأثر المدى الحرارى وتسقط الأمطار نتيجة وجود
- ٦ تتساقط الأمطار بغزارة على منحدرات

المستوى الأول

السؤال الثاني اكتب كلمة (صواب) أمام العبارة الصحيحة، وكلمة (خطأ) أمام العبارة غير الصحيحة:

- ١ تتشابه درجات الحرارة بين دول الوطن العربي. ()
- ٢ المناخ الحار يسود كل أجزاء الوطن العربي. ()
- ٣ الأجزاء الشمالية من الوطن العربي تتميز بمناخها المعتدل. ()
- ٤ تنخفض درجات الحرارة جنوب الوطن العربي. ()
- ٥ المناخ في الوطن العربي لا يتأثر بالمسطحات المائية. ()
- ٦ تتميز المناطق الساحلية للوطن العربي بمناخ معتدل. ()
- ٧ المسطحات المائية تعمل على تلطيف درجات الحرارة. ()
- ٨ يتشابه مناخ الأودية والسهول مع مناخ المناطق المرتفعة. ()
- ٩ تتأثر كمية الأمطار المتساقطة باتجاه المرتفعات. ()
- ١٠ تزداد كمية الأمطار المتساقطة على المناطق الداخلية للمرتفعات. ()

المستوى الثاني

السؤال الثالث صوب ما تحته خط:

- ١ المناخ يكون معتدلاً في الوطن العربي في فصل الصيف.
- ٢ درجات الحرارة وكمية الأمطار تتشابه بين دول الوطن العربي.
- ٣ يسود المناخ المعتدل الأجزاء الجنوبية من الوطن العربي.
- ٤ ترتفع درجات الحرارة شمال الوطن العربي.
- ٥ تهب الرياح شديدة البرودة على الوطن العربي صيفاً.
- ٦ المناطق الداخلية للوطن العربي معتدلة المناخ.
- ٧ المسطحات المائية يزداد تأثيرها في الوطن العربي.
- ٨ التيارات البحرية الباردة تعمل على رفع درجة الحرارة.

السؤال الرابع اختر الإجابة الصحيحة مما بين القوسين:

- ١ تهب الرياح الحارة على الوطن العربي من جنوب قارة صيفًا. (إفريقيا - أوروبا - آسيا - أمريكا)
- ٢ يقل سقوط الأمطار في الوطن العربي على (الجبال - السهول - الأودية - الصحراء)
- ٣ دائرة عرض تمر جنوب الوطن العربي (جرينتش - السرطان - الجدى - الاستواء)
- ٤ يتميز مناخ الوطن العربي بالحرارة الشديدة في فصل (الشتاء - الربيع - الصيف - الخريف)

السؤال الخامس بالاستعانة بالخريطة التي أمامك حدد: أى من المدن التالية ينتمى إلى مدن ساحلية ومدن قارية؟



(القاهرة - طرابلس - الرياض - الرياض)

مدن قارية	مدن ساحلية

المستوى الثالث

السؤال السادس قارن بين كل من:

- ١ مناخ الوطن العربي صيفًا وشتاء.

مناخ الوطن العربي شتاء	مناخ الوطن العربي صيفًا

- ٢ التيارات البحرية الدافئة والباردة.

التيارات البحرية الباردة	التيارات البحرية الدافئة

المستوى الرابع

السؤال السابع فسر العبارات الآتية:

- ١ تباين درجات الحرارة بين دول الوطن العربي.

.....

- ٢ ارتفاع درجة الحرارة في المناطق الجنوبية للوطن العربي.

.....

٣ انخفاض درجات الحرارة في الأجزاء الشمالية من الوطن العربي.

٤ يقع الوطن العربي تحت تأثيرات قارية.

٥ أهمية المسطحات المائية في الوطن العربي.

٦ يقل تأثير المسطحات المائية في الوطن العربي.

٧ انخفاض درجة الحرارة في المناطق المرتفعة بالوطن العربي.

٨ اختلاف المناخ بين دولتي فلسطين ولبنان.

٩ أهمية التيارات البحرية للوطن العربي.

١٠ ينخفض المدى الحراري لمدينة الإسكندرية.

السؤال الثامن ما النتائج المترتبة على...؟

١ مرور دائرة الاستواء بجنوب الوطن العربي

٢ الموقع الفلكي للوطن العربي

٣ التيارات البحرية الدفيئة

٤ تعامد الشمس على مدار السرطان صيفاً في الوطن العربي

٥ سوء الأحوال الجوية في الوطن العربي

٦ التغيرات المناخية للوطن العربي

٧ ضيق المسطحات المائية في الوطن العربي

السؤال التاسع ما العلاقة بين...؟

١ المناخ والرحلات الجوية

٢ التيارات البحرية ودرجات الحرارة

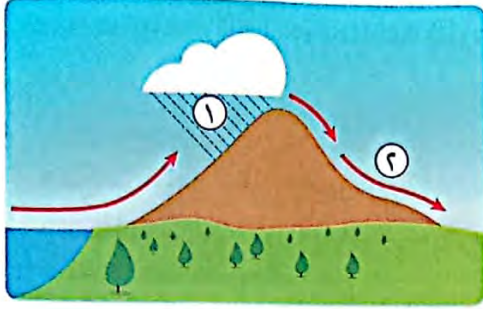
٣ المناطق المرتفعة والحرارة وسقوط الأمطار

السؤال العاشر دلل على صحة العبارة الآتية:

- يؤثر المناخ على الأنشطة البشرية مثل الطيران



السؤال الأول: (١) الشكل الذي أمامك يمثل أحد العوامل المؤثرة على المناخ:



١- اكتب اسم العامل المؤثر.....

٢- اكتب ما يشير إليه رقم (١)

٣- سبب عدم سقوط الأمطار في (٢)

(ب) ما النتائج المترتبة على ...؟

١- هبوب التيارات البحرية الباردة على الوطن العربي.

٢- تعامد الشمس على مدار الجدى شتاء في الوطن العربي.

السؤال الثاني: (١) اختر الإجابة الصحيحة:

١- أى من العوامل الآتية لا يؤثر على مناخ الوطن العربي؟

(الموقع الفلكي - المسطحات المائية - المرتفعات - السهول)

(جرينتش - السرطان - الجدى - الاستواء)

٢- دائرة عرض تمرجنوب الوطن العربي.....

(الجبال - السهول - الأودية - الصحراء)

٣- يقل سقوط الأمطار في الوطن العربي على

(ب) بم تفسر ...؟

١- يسود المناخ الحار معظم أجزاء الوطن العربي.

٢- تتميز مدينة الإسكندرية بمناخ معتدل عن مدينة الرياض بالسعودية.

السؤال الثالث: اكتب كلمة (صواب) أمام العبارة الصحيحة، وكلمة (خطأ) أمام العبارة غير الصحيحة:

١- المناطق الداخلية من الوطن العربي تكون أكثر اعتدالاً من المناطق الساحلية القريبة من المسطحات المائية. ()

٢- مناخ الوطن العربي شديد الحرارة صيفاً ومعتدل البروده شتاءً. ()

٣- سوء الأحوال الجوية يؤدي إلى تأجيل الرحلات الجوية. ()

٤- لا يتم مراعاة الظروف المناخية عند اختيار المواقع لبناء المطارات. ()

٥- التغيرات المناخية تؤثر سلباً على الأمن الغذائي والمائي. ()





مجاب عليها

الدرس الثالث

الأقاليم المناخية والنباتية في وطننا العربي



السؤال الأول: أكمل العبارات الآتية:

- ١ يسود الوطن العربيأقاليم مناخية كبرى.
- ٢ يشمل إقليم البحر المتوسط المناطق المجاورة لسواحل البحر المتوسط لكل منو.....
- ٣ الإقليم الصحراوي يتميز بمناخ معتدل نهارًا في فصل
- ٤ تقع محمية أرز الشوف بدولة
- ٥ تنتشر في إقليم البحر المتوسط أشجار.....و.....
- ٦ إقليم مناخى يتميز بشتاء معتدل جاف وصيف هو إقليم.....
- ٧ المخاطر البشرية التي تهدد المحميات الطبيعية، منهاو.....

المستوى الأول

السؤال الثاني: اكتب كلمة (صواب) أمام العبارة الصحيحة، وكلمة (خطأ) أمام العبارة غير الصحيحة:

- ١ تعد محمية ضانا بالأردن من أشهر المحميات الطبيعية بالوطن العربي. ()
- ٢ يتسم الإقليم الصحراوي بدرجة حرارة تصل إلى ما دون الصفر المئوى في بعض المناطق. ()
- ٣ تربي الماعز والأغنام في الإقليم المدارى. ()
- ٤ تنمو حشائش السافانا في إقليم البحر المتوسط. ()
- ٥ يقل المدى الحرارى في معظم الصحارى الكبرى بالوطن العربي. ()
- ٦ تنمو النباتات التي تتحمل الجفاف في الإقليم المدارى. ()
- ٧ يحتفل العالم يوم ٣ مارس من كل عام باليوم العالمى للحياة البرية. ()
- ٨ يشغل معظم مساحة الوطن العربي الإقليم الصحراوي. ()

السؤال الثالث: اختر الإجابة الصحيحة مما بين القوسين:

- ١ يمتد إقليم البحر المتوسط فى الجناح الآسيوى للوطن العربى فى دولتى (قطر والبحرين - اليمن وعمان - فلسطين ولبنان - العراق والأردن)
- ٢ محمية جبل علبة من أشهر محميات الوطن العربى التى تقع فى دولة (لبنان - الأردن - السودان - مصر)
- ٣ حشائش الإستبس تنمو ضمن الإقليم المناخى (البحر المتوسط - الصحراوى - المدارى - الموسمى)
- ٤ تقع دولة فلسطين ولبنان ضمن الإقليم المناخى (البحر المتوسط - الصحراوى - المدارى - الموسمى)
- ٥ يمتد الإقليم المدارى فى الوطن العربى. (شمال - جنوب - شرق - غرب)
- ٦ إقليم مناخى يشمل النطاق الساحلى من الصومال وتندربه الأمطار هو الإقليم (المدارى - الصحراوى - البحر المتوسط - الموسمى)
- ٧ تنتشر النباتات التى لها قدرة على تحمل الجفاف فى الإقليم المناخى (الصحراوى - المدارى - الموسمى - البحر المتوسط)
- ٨ يعيش الزراف والأسود بالإقليم (البحر المتوسط - الصحراوى - المدارى - الموسمى)

المستوى الثانى

السؤال الرابع صوب ما تحته خط:

- ١ يوجد بالوطن العربي خمسة أقاليم مناخية كبرى.
- ٢ ينتشر في الإقليم المداري نباتات مثل أشجار الأرز والزيتون والصنوبر.
- ٣ تقع محمية ضانا في الوطن العربي بدولة مصر.
- ٤ تنمو حشائش السافانا بالإقليم الصحراوي بالوطن العربي.
- ٥ تنتشر في حشائش الإستبس تربية الزواحف والثعالب.
- ٦ يمتد إقليم البحر المتوسط في الجزء الجنوبي الغربي من شبه الجزيرة العربية.

السؤال الخامس اكتب ما تشير إليه العبارات الآتية:

- ١ منطقة جغرافية من سطح الأرض تتسم بخصائص مناخية تميزها عن غيرها. (.....)
- ٢ إقليم مناخي يقع على الأطراف الشمالية للوطن العربي. (.....)
- ٣ إقليم مناخي يمتد من الخليج العربي شرقاً حتى ساحل موريتانيا غرباً. (.....)
- ٤ إقليم مناخي يشمل الجزء الجنوبي الغربي من شبه الجزيرة العربية. (.....)
- ٥ إقليم مناخي يشغل معظم مساحة الوطن العربي. (.....)

السؤال السادس أمامك خريطة صماء لوطننا العربي، اكتب مدلول الأرقام التالية:



- ١ إقليم
- ٢ دولة
- ٣ إقليم
- ٤ دولة
- ٥ إقليم
- ٦ المحيط

السؤال السابع حدد العنصر المختلف:

- ١ (أشجار الأرز - صبار - صنوبر - زيتون)
- ٢ (فلسطين - الصومال - لبنان - ليبيا)
- ٣ (جيبوتي - موريتانيا - السودان - مصر)

السؤال الثامن فسر العبارات الآتية:

- ١ إنشاء دول الوطن العربي المحميات الطبيعية.
- ٢ أهمية المحميات الطبيعية.
- ٣ احتفال العالم باليوم العالمي للحياة البرية.
- ٤ الأهمية الاقتصادية للمحميات الطبيعية.

السؤال التاسع ما النتائج المترتبة على...؟

١ تنوع الأقاليم المناخية للوطن العربي.

٢ تطورا الأنشطة البشرية فى الوطن العربي.

السؤال العاشر ما العلاقة بين...؟

١ الموقع الفلكى لإقليم البحر المتوسط وسقوط الأمطار.

٢ الأقاليم المناخية والنباتات الطبيعية والحيوانات البرية.

٣ تطورا الأنشطة البشرية والموارد النباتية والحيوانات البرية.

السؤال الحادى عشر دلى على صحة العبارات الآتية:

١ تتعرض المحميات الطبيعية إلى تهديدات بشرية.

٢ يسعى العالم لوقف فقدان التنوع البيولوجى.

٣ سعى معظم الدول العربية فى اتخاذ إجراءات لحماية المحميات الطبيعية.

السؤال الثانى عشر قارن بين كل من:

١ إقليم البحر المتوسط والإقليم الصحراوى من حيث الموقع الفلكى وأهم الدول التى يوجد بها كل إقليم:

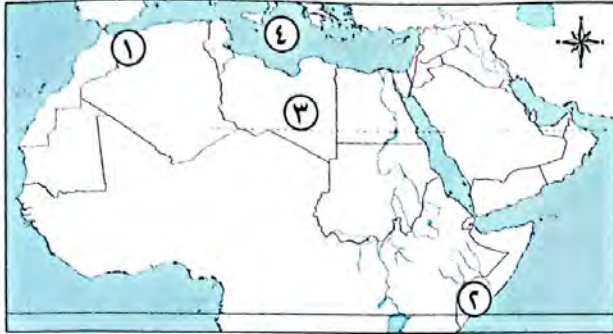
الإقليم الصحراوى	إقليم البحر المتوسط	وجه المقارنة
.....	الموقع الفلكى
.....	أهم الدول التى يوجد بها

٢ إقليم البحر المتوسط والإقليم المدارى من حيث أهم النباتات والحيوانات البرية:

الإقليم المدارى	إقليم البحر المتوسط	وجه المقارنة
.....	النباتات
.....	الحيوانات البرية



السؤال الأول: (أ) أمامك خريطة صماء للوطن العربي. اكتب مدلول الأرقام التي عليها:



- ١- يشير (١) إلى الإقليم المناخي
- ٢- يشير (٢) إلى الإقليم المناخي
- ٣- يشير (٣) إلى الإقليم المناخي
- ٤- البحر

(ب) ما المقصود بـ...؟

- الإقليم المناخي.

السؤال الثاني: اختر الإجابة الصحيحة مما بين الأقواس:

- ١- الإقليم الصحراوي يتميز بمناخ معتدل نهاراً في فصل
- (الصيف - الخريف - الشتاء - الربيع)
- ٢- تقع محمية أرز الشوف بدولة
- (مصر - لبنان - المغرب - الجزائر)
- ٣- يقع في الأطراف الشمالية للوطن العربي الإقليم
- (الصحراوي - المداري - الاستوائي - البحر المتوسط)
- ٤- تعيش في الإقليم الصحراوي حيوانات، منها
- (الماعز - الأغنام - الزواحف - الأسود)
- ٥- من أشهر المحميات الطبيعية وتوجد في مصر محمية
- (أرز الشوف - ضانا - الدندر - جبل علبة)

السؤال الثالث: (أ) اكتب كلمة (صواب) أمام العبارة الصحيحة، وكلمة (خطأ) أمام العبارة غير الصحيحة:

- ١- يمتد الإقليم المداري في أجزاء من الصومال والسودان والجزائر. ()
- ٢- تعيش حيوانات مثل الزراف والأسود في حشائش الإستبس. ()
- ٣- يشغل معظم مساحة الوطن العربي الإقليم الصحراوي. ()

(ب) بم تفسر...؟

١- الأهمية الاقتصادية للمحميات الطبيعية.

٢- تنوع النباتات الطبيعية والحيوانات البرية في الوطن العربي.





السؤال الأول: أكمل العبارات الآتية:

- ١ عقد مؤتمر المناخ للأمم المتحدة عام ٢٠٢٢م في مصر في مدينة
- ٢ تقع معظم مساحة دول وطننا العربي في الإقليم
- ٣ ظهرت في الوطن العربي مشكلات بيئية عديدة نتيجة للتغير المناخي هي و..... و.....
- ٤ أطلقت المملكة السعودية مبادرة لزيادة المساحات الخضراء عن طريق مدينة عام ٢٠٢٢م.

السؤال الثاني: اكتب كلمة (صواب) أمام العبارة الصحيحة، وكلمة (خطأ) أمام العبارة غير الصحيحة:

- ١ التغير المناخي من المشكلات البيئية في وطننا العربي. ()
- ٢ يتميز الوطن العربي بسقوط كميات أمطار كبيرة تسمح بزراعات واسعة. ()
- ٣ تنتشر بالوطن العربي المراعى الطبيعية. ()
- ٤ تعاني معظم الدول العربية من ندرة المياه المالحة. ()
- ٥ تناقص مخزون المياه الجوفية يؤدي إلى حدوث التصحر. ()
- ٦ تحتفل الدول العربية باليوم العربي للبيئة في ١٤ أكتوبر من كل عام. ()
- ٧ تهتم دول الوطن العربي باستخدام مصادر الطاقة النظيفة. ()

السؤال الثالث: اختر الإجابة الصحيحة مما بين القوسين:

- ١ دولة تعاني من أكبر موجة جفاف في وطننا العربي هي (الصومال - السودان - مصر - الجزائر)
- ٢ يعاني نحو مساحة الوطن العربي من مشكلة التصحر. (ثلث - ثلثي - ربع - نصف)
- ٣ توجد مدينة نيوم الخضراء في دولة (مصر - الجزائر - المغرب - السعودية)
- ٤ مشروع صناعة الأخشاب من مخلفات النخيل يوجد في مصر في محافظة (البحر الأحمر - الوادي الجديد - شمال سيناء - جنوب سيناء)
- ٥ جائزة عاصمة المدن العربية لعام ٢٠٢٢م حصلت عليها مدينة (رأس محمد - رأس غارب - الخارجة - الداخلة)

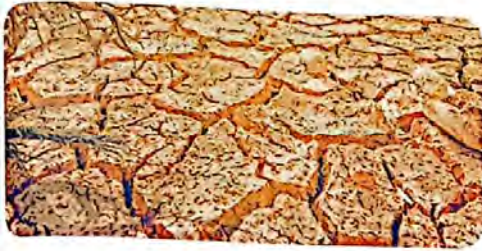
السؤال الرابع

اكتب ما تشير إليه العبارات الآتية:

- ١ نقص كمية الأمطار بما لا يسمح بالزراعة أو نمو حشائش الرعى.
- ٢ تدهور الأراضي الزراعية وتناقص قدرتها على الإنتاج.
- ٣ المدينة المصرية الحاصلة على لقب عاصمة المدن العربية لعام ٢٠٢٢ م.
- ٤ دولة أنشأت مشروع صناعة الأخشاب من مخلفات النخيل لأول مرة في العالم.

السؤال الخامس

انظر الصورة التي أمامك ثم أجب عن الأسئلة التالية:



- ١ ما المشكلة التي تعبر عنها الصورة؟ وهل يعاني وطنك مصر منها؟
- ٢ ما أسباب تلك المشكلة؟
- ٣ اذكر جهود الدول العربية في مواجهة هذه المشكلة.

السؤال السادس

أمامك رسم بياني لنسبة الأراضي المتصحرة في الوطن العربي ادرسه، ثم أجب عن الأسئلة التالية:



نسبة الأراضي المتصحرة في الوطن العربي:

- دول المغرب العربي (ليبيا - الجزائر - تونس - المغرب).
- شبه الجزيرة العربية (السعودية - الكويت - قطر - البحرين - الإمارات - عمان - اليمن).
- حوض النيل والقرن الإفريقي (مصر - شمال السودان - الصومال - جيبوتي).
- المشرق العربي (سوريا - لبنان - فلسطين - العراق).

- ١ أكثر الدول العربية تعرضًا لخطر التصحر..... و..... و..... و..... و.....
- ٢ أقل الدول العربية تعرضًا لخطر التصحر..... و..... و..... و..... و.....
- ٣ تعد دولة عمان أكثر تعرضًا لخطر هذه المشكلة من دولة الصومال. (صواب - خطأ)
- ٤ تعد دول المغرب العربي أكثر تعرضًا لخطر هذه المشكلة من دول حوض النيل الإفريقي. (صواب - خطأ)

السؤال السابع

بم تفسر...؟

- ١ مشاركة الدول العربية في مؤتمر المناخ للأمم المتحدة عام ٢٠٢٢ م.
- ٢ تعاني معظم الدول العربية من الفقر المائي.
- ٣ تزايد معدلات استهلاك المياه في الوطن العربي.
- ٤ تناقص قدره الأراضي الزراعية على الإنتاج في الوطن العربي.
- ٥ إنشاء المدن الذكية في دول وطننا العربي.

السؤال الثامن ما النتائج المترتبة على...؟

١ الرعى الجائر للحيوانات في الوطن العربي.

.....

٢ تعرض الصومال لأكبر موجة جفاف في الوطن العربي.

.....

٣ النمو المتزايد في أعداد السكان في وطننا العربي.

.....

٤ زحف الكثبان الرملية وتناقص المياه الجوفية في وطننا العربي.

.....

٥ ظهور مشكلة التغير المناخي في الوطن العربي.

.....

السؤال التاسع ما العلاقة بين...؟

١ مشكلة التغير المناخي وكل من الجفاف والتصحر.

.....

٢ المشكلات البيئية ومؤتمر المناخ للأمم المتحدة عام ٢٠٢٢م.

.....

٣ جهود دول الوطن العربي والمساحات الخضراء.

.....

٤ مدينة الخارجة وحماية البيئة.

.....

السؤال العاشر ما مقترحاتك...؟

- للحفاظ على البيئة وتنميتها بشكل مستدام في الوطن العربي.

.....

السؤال الحادي عشر قارن بين كل من:

الجفاف وندرة المياه والتصحر من حيث الأسباب.

ندرة المياه	التصحر	الجفاف	وجه المقارنة
.....	الأسباب
.....	
.....	



السؤال الأول: اختر الإجابة الصحيحة مما بين الأقواس:

- ١- تقع معظم مساحة دول وطننا العربي في المنطقة
(الصحراوي الحار - المداري - البحر المتوسط - الموسمي)
- ٢- أطلقت مبادرة لزيادة المساحات الخضراء بإنشاء مدينة نيوم الخضراء عام ٢٠٢٢م في دولة
(مصر - السودان - الإمارات - السعودية)
- ٣- يعاني نحو مساحة الوطن العربي من مشكلة التصحر.
(ثلث - ثلثي - ربع - نصف)
- ٤- تحتفل الدول العربية باليوم العربي في يوم ١٤ أكتوبر من كل عام.
(للمشمس - للبيئة - للتصحر - للتلوث)
- ٥- شاركت الدول العربية في مؤتمر المناخ للأمم المتحدة في مدينة عام ٢٠٢٢م.
(الغردقة - شرم الشيخ - السويس - بورسعيد)

السؤال الثاني: (١) اكتب ما تشير إليه العبارات الآتية:

- ١- نقص كمية الأمطار في بعض السنوات بما لا يسمح بالزراعة أو نمو حشائش الرعي. (.....)
- ٢- تدهور الأراضي وتناقص قدرتها على الإنتاج. (.....)
- ٣- دولة تعاني من أكبر موجة جفاف في وطننا العربي. (.....)

(ب) ما النتائج المترتبة على ...؟

- ١- النمو المتزايد في أعداد السكان في وطننا العربي.

- ٢- زحف الكثبان الرملية وتناقص المياه الجوفية في وطننا العربي.

السؤال الثالث: (١) اكتب كلمة (صواب) أمام العبارة الصحيحة، وكلمة (خطأ) أمام العبارة غير الصحيحة:

- ١- يحدث التغير المناخي بسبب زيادة انبعاث الغازات الدفيئة. ()
- ٢- يعاني الوطن العربي من مشكلة نقص المياه المالحة. ()
- ٣- تهتم دول الوطن العربي باستخدام مصادر الطاقة النظيفة. ()

(ب) ما العلاقة بين...؟

- أبناء مدينة الخارجة وحماية البيئة.





السؤال الأول: أكمل العبارات الآتية:

- ١- تنشط في المناطق الجبلية والصحراوية في الوطن العربي السياحة و.....
- ٢- تمتد السهول الساحلية في الجناح الآسيوي للوطن العربي على سواحل و.....
- ٣- نشأت جبال أطلس في الوطن العربي نتيجة لحركات تعرضت لها الأرض.
- ٤- من الجبال الانكسارية في الوطن العربي
- ٥- يقصد السياح بحيرة في جيبوتي للتمتع بطبيعتها الساحرة.
- ٦- تسقط الأمطار الموسمية في فصل الصيف على مرتفعات و.....
- ٧- تقع محمية أرز الشوف بدولة
- ٨- عقد مؤتمر المناخ للأمم المتحدة عام ٢٠٢٢م في مصر في مدينة

السؤال الثاني: اكتب كلمة (صواب) أمام العبارة الصحيحة، وكلمة (خطأ) أمام العبارة غير الصحيحة:

- ١- تمتد السهول الفيضية في الجناح الإفريقي للوطن العربي على المحيط الأطلنطي. ()
- ٢- يقصد السياح البحيرات المالحة وواحة سيوة في ليبيا. ()
- ٣- تمتد جبال البحر الأحمر في كل من مصر والسودان. ()
- ٤- من هضاب الجناح الإفريقي هضبة نجد. ()
- ٥- تمردائرة الاستواء في شمال الوطن العربي. ()
- ٦- تتأثر كمية المطر باتجاه المرتفعات. ()
- ٧- تنمو النباتات التي تتحمل الجفاف في الإقليم المداري. ()
- ٨- التغير المناخي يؤدي إلى حدوث مشكلات بيئية في وطننا العربي. ()

السؤال الثالث: اختر الإجابة الصحيحة مما بين القوسين:

- ١- تمتد هضبة إفريقيا الشمالية من البحر المتوسط شمالاً إلى دول جنوباً.
(وسط إفريقيا - شرق إفريقيا - جنوب إفريقيا - غرب إفريقيا)
- ٢- يوجد بحر الرمال العظيم بين دولتي و.....
(سوريا ولبنان - العراق والأردن - مصر وليبيا - المغرب والجزائر)
- ٣- تقع واحة الكفرة في دولة
- ٤- يكون الشتاء ممطراً في الوطن العربي في المناطق المطلة على البحر.....
(الأحمر - العربي - المتوسط - الأسود)
- ٥- يسود وطننا العربي أقاليم مناخية كبرى.
(ثلاثة - أربعة - خمسة - ستة)
- ٦- تنتشر النباتات التي لها قدرة على تحمل الجفاف في الإقليم المناخي
- ٧- محمية جبل علبة من أشهر محميات الوطن العربي التي تقع في دولة (لبنان - الأردن - السودان - مصر)
- ٨- دولة تعاني من أكبر موجة جفاف في وطننا العربي هي

السؤال الرابع: أمامك خريطة للوطن العربي، ادرسها جيدا، ثم أكمل العبارات التالية:



١- من دول الجناح الإفريقي للوطن العربي التي توجد بها سهول فيضية و.....

٢- من دول الجناح الإفريقي للوطن العربي التي توجد بها سهول ساحلية و.....

٣- من دول الجناح الآسيوي للوطن العربي التي توجد بها سهول فيضية

٤- من دول الجناح الآسيوي للوطن العربي التي توجد بها سهول ساحلية و.....

٥- من دول الوطن العربي التي توجد بها سهول ساحلية وفيضية و.....

السؤال الخامس: أكمل الجدول التالي:

الظاهرة التضاريسية	سبب تكونها	الدول التي توجد فيها
وادي الجريز		
جبال أطلس		
وادي النيل		
جبال البحر الأحمر		
بحر الرمال العظيم		

السؤال السادس: اكتب ما تشير إليه العبارات الآتية:

- ١- أهم الظواهر التضاريسية في الجانب الإفريقي للوطن العربي وأكبرها مساحة. (.....)
- ٢- جبال نشأت نتيجة لحركات باطنية تعرضت لها الأرض. (.....)
- ٣- أودية تكونت بفعل التعرية المائية وتستخدم كطرق للمواصلات. (.....)
- ٤- حركة مياه البحار والمحيطات. (.....)
- ٥- منطقة جغرافية تتسم بخصائص مناخية تميزها عن غيرها. (.....)
- ٦- نقص كمية الأمطار بما لا يسمح بالزراعة أو نمو الحشائش. (.....)

السؤال السابع: بهم تفسر ...؟

- ١- أهمية الأودية الجافة في الوطن العربي
- ٢- الأهمية الاقتصادية للسهول الفيضية للوطن العربي
- ٣- ينخفض المدى الحرارى لمدينة الإسكندرية
- ٤- قيام الزراعة في الواحات بالوطن العربي
- ٥- يقل تأثير المسطحات المائية في الوطن العربي



٦- أهمية حشائش الإستبس فى الوطن العربى

٧- أهمية المحميات الطبيعية

السؤال الثامن: ما النتائج المترتبة على ...؟

١- وجود الشعاب المرجانية فى البحر الأحمر

٢- امتداد الوطن العربى فى قارتى إفريقيا وآسيا واقتراجه من أوروبا

٣- تنوع الأقاليم المناخية فى الوطن العربى

٤- وقوع معظم مساحة الوطن العربى ضمن الإقليم الصحراوى الحار

٥- النمو المتزايد فى أعداد السكان فى وطننا العربى

السؤال التاسع: دلل على صحة العبارات الآتية:

١- تنوع الظواهر الطبيعية لوطننا العربى

٢- تؤثر مظاهر السطح المتنوعة فى الوطن العربى على الأنشطة الاقتصادية

٣- يتأثر مناخ المناطق الساحلية بالتيارات البحرية

٤- تتعرض المحميات الطبيعية إلى تهديدات بشرية

السؤال العاشر: قارن بين:

١- جبال أطلس وجبال البحر الأحمر من حيث (الموقع - سبب نشأتها)

وجه المقارنة	جبال أطلس	جبال البحر الأحمر
الموقع		
سبب نشأتها		

٢- التصحر والجفاف من حيث: التعريف

وجه المقارنة	التصحّر	الجفاف
التعريف		

٣- إقليم البحر المتوسط والإقليم الصحراوى والإقليم المدارى من حيث (الموقع - النباتات - الحيوانات البرية)

وجه المقارنة	إقليم البحر المتوسط	الإقليم الصحراوى	الإقليم المدارى
الموقع			
النباتات			
الحيوانات البرية			

أهم مفاهيم الوحدة الثانية



المفهوم	المعنى
١ - الحركات الالتوائية	حركات باطنية تعرضت لها الأرض أدت إلى حدوث جبال التوائية .
٢ - الحركات الانكسارية	حركات باطنية أدت إلى انكسار في القشرة الأرضية وكونت الجبال الانكسارية .
٣ - المناطق الساحلية	هي المناطق التي تطل على بحار أو محيطات .
٤ - المناطق الداخلية	هي المناطق البعيدة عن البحار والمحيطات .
٥ - التيارات البحرية	هي حركة مياه البحار والمحيطات .
٦ - الإقليم المناخي	هو منطقة من سطح الأرض تتسم بخصائص مناخية تميزها عن غيرها .
٧ - الجفاف	هو نقص كمية الأمطار في بعض السنوات بما لا يسمح بالزراعة أو نمو الحشائش .
٨ - التصحر	هو تدهور الأرض الزراعية وتناقص قدرتها على الإنتاج .

مراجعة الوحدة الثانية : الملاح الطبيعية لوطننا العربي

ملخص الدرس الأول : مظاهر سطح وطننا العربي



أولاً : الجبال

الجبال الانكسارية

نشأت نتيجة حدوث انكسار في القشرة الأرضية، مثل :
 • جبال البحر الأحمر .
 • جبال الحجاز .
 • جبال عسير .
 • جبال اليمن .

الجبال الالتوائية

نشأت نتيجة حركات التوائية باطنية، مثل :
 • جبال أطلس .
 • جبال زاغروس .
 • جبال كردستان .
 • جبال عمان .

ثانياً : الهضاب

هضاب الجناح الآسيوي

• هضبة بادية الشام .
 • هضبة نجد .
 • هضبة حضر موت .

هضاب الجناح الإفريقي

• هضبة إفريقيا الشمالية، هي أكبر هضاب الوطن العربي مساحة .

أهم الظواهر التضاريسية المنتشرة فوق الهضاب

(ج) التجمعات الرملية

• بحر الرمال العظيم .
 • الكثبان الرملية .

(ب) الأودية الجافة

• وادي جرير في السعودية .

(أ) الواحات

• سيوة في مصر .
 • الكفرة في ليبيا .
 • عين صالح في الجزائر .

ثالثاً : السهول

السهول الساحلية

كونتها البحار والمحيطات، مثل :
 • سهول البحر الأحمر والخليج العربي .
 • سهول البحر المتوسط والمحيط الأطلسي .

السهول الفيضية

كونتها الأنهار على جانبي النهر، مثل :
 • سهول وادي النيل في مصر والسودان .
 • سهول دجلة والفرات في العراق .

ملخص الدرس الثاني : العوامل المؤثرة في مناخ وطننا العربي



أولاً : العوامل المؤثرة في مناخ الوطن العربي

٢ - القرب أو البعد عن المسطحات المائية		١ - الموقع الفلكي	
<ul style="list-style-type: none"> المناطق الساحلية المطلة على المسطحات المائية تتميز بمناخها المعتدل عكس المناطق الداخلية البعيدة عن البحر . 		<ul style="list-style-type: none"> تمر دائرة الاستواء جنوب الوطن العربي مما أدى إلى ارتفاع درجات الحرارة جنوب الوطن العربي ، وتقل كلما اتجهنا شمالاً . 	
تهب على الوطن العربي			
صيفاً		شتاءً	
<ul style="list-style-type: none"> رياح حارة قادمة من جنوب آسيا . 	<ul style="list-style-type: none"> رياح شديدة البرودة قادمة من أوروبا وآسيا . 		
٤ - مظاهر السطح		٣ - التيارات البحرية	
<ul style="list-style-type: none"> كلما ارتفعنا ١٥٠ م عن سطح الأرض تقل درجة الحرارة درجة واحدة مئوية . يؤثر اتجاه الكتل الجبلية والمرتفعات على كمية المطر فيظهر ما يُعرف باسم منطقة ظل المطر . 		<ul style="list-style-type: none"> التيارات البحرية الباردة 	<ul style="list-style-type: none"> التيارات البحرية الدفينة
		<ul style="list-style-type: none"> تؤدي لانخفاض درجات الحرارة في المناطق الساحلية التي تمر بها . 	<ul style="list-style-type: none"> تؤدي لارتفاع درجة حرارة المناطق الساحلية التي تمر بها .

ثانياً : مناخ الوطن العربي صيفاً وشتاءً

شتاءً	صيفاً
<ul style="list-style-type: none"> تتعامد الشمس على مدار الجدي . تنخفض درجات الحرارة بشكل عام بالوطن العربي وخاصة على الأجزاء الشمالية والمناطق الجبلية . تسقط الأمطار على ساحل البحر المتوسط . 	<ul style="list-style-type: none"> تتعامد الشمس على مدار السرطان . ترتفع درجات الحرارة بالوطن العربي . يجف المطر إلا في بعض المناطق التي تسقط عليها الأمطار الموسمية .

ثالثاً : تأثير المناخ على الأنشطة البشرية

٢ - الطيران	١ - الأنشطة البشرية
<ul style="list-style-type: none"> حيث يؤدي سوء الأحوال الجوية أحياناً إلى تأجيل أو إلغاء الرحلات الجوية . 	<ul style="list-style-type: none"> كافة الأنشطة البشرية ، مثل : الزراعة والصناعة والصيد .

ملخص الدرس الثالث : الأقاليم المناخية والنباتية في وطننا العربي



أولاً : أهم الأقاليم المناخية في الوطن العربي

الإقليم	الموقع والامتداد	الخصائص المناخية	النبات الطبيعي والحيوان
البحر المتوسط	• يقع في الأطراف الشمالية من الوطن العربي . • يمتد من ٣٠° إلى ٣٧,٥° شمالاً .	• حار جاف صيفاً . • دافئ ممطر شتاءً .	• تنمو به أشجار (الأرز - الزيتون - الصنوبر) . • تنمو به حشائش الإستبس وترعى عليها الأغنام والماعز .
الصحراوي الحار	• يشغل معظم مساحة الوطن العربي . • يمتد من ١٥° إلى ٣٠° شمالاً .	• نادر المطر ، وقد تسقط الأمطار على شكل سيول . • الشتاء شديد البرودة خاصة ليلاً . • الصيف شديد الحرارة قد تصل درجة الحرارة إلى ٥٠° مئوية .	• ينمو به نبات الصبار الذي يتحمل الجفاف والحرارة . • تعيش فيه بعض الحيوانات مثل : (ثعلب الصحراء - الزواحف) .
المداري	• يقع جنوب الوطن العربي .	• شتاء معتدل جاف . • صيف حار وممطر .	• تنمو به حشائش السافانا . • تعيش فيه بعض الحيوانات مثل : (الأسود والزراف) .

ثانياً : المحميات الطبيعية بالوطن العربي

١ - أسباب إنشائها	٢ - أهميتها	٣ - أشهر المحميات الطبيعية	٤ - الأخطار البشرية التي تهددها	٥ - جهود الدول العربية للحفاظ عليها
تعرض النباتات الطبيعية والحيوانات البرية لمخاطر عديدة نتيجة تطور الأنشطة البشرية .	١ - الحفاظ على الحياة البرية . ٢ - تنشيط السياحة وجذب السياح . ٣ - تحقيق التوازن البيئي .	١ - محمية أرز الشوف في لبنان . ٢ - محمية ضانا في الأردن . ٣ - محمية جبل عُلبة في مصر .	١ - الرعي الجائر . ٢ - الصيد الجائر . ٣ - التلوث البيئي .	سن القوانين لضمان حمايتها .



ملخص الدرس الرابع : المشكلات البيئية في وطننا العربي

أولاً : المشكلات البيئية في الوطن العربي

<p>٣ - التصحر</p> <p>هو تدهور الأرض الزراعية وتناقص قدرتها على الإنتاج .</p> <p>أسبابه</p> <p>بشرية</p> <ul style="list-style-type: none"> • طرق الري التقليدية . • الإفراط في استخدام الأسمدة الكيماوية والمبيدات الحشرية . • التوسع العمراني . • الرعي الجائر للحيونات . • إزالة الغابات . <p>طبيعية</p> <ul style="list-style-type: none"> • زحف الرمال . • تناقص مخزون المياه الجوفية . 	<p>٢ - ندرة المياه العذبة</p> <p>تحدث نتيجة تزايد معدلات استهلاك المياه وذلك بسبب :</p> <ul style="list-style-type: none"> • نمو السكان المتزايد . • التوسع المستمر في الزراعة . 	<p>١ - الجفاف</p> <p>التعريف</p> <ul style="list-style-type: none"> • هو نقص كمية الأمطار في بعض السنوات بما لا يسمح بالزراعة أو نمو الحشائش . <p>يتبعه</p> <ul style="list-style-type: none"> • نقص الغذاء . • حدوث المجاعات . • تعرضت الصومال الأكبر موجة جفاف أدت إلى نقص الغذاء وحدثت مجاعة لأكثر من مليون شخص .
--	--	--

ثانياً : النتائج المترتبة على المشكلات البيئية في الوطن العربي

<p>١ - تهديد صحة وحياة الإنسان</p>	<p>٢ - إعاقة تنفيذ خطط التنمية</p>	<p>٣ - تدمير الحياة النباتية والحيوانية</p>
<p>١ - إقامة مساكن لاستقرار الرعاة</p>	<p>٢ - إصدار قوانين تجرم القطع الجائر للأشجار</p>	<p>٣ - زيادة المساحات الخضراء</p>
<p>ثالثاً : جهود الدولة في مواجهة المشكلات البيئية</p>		

شخصيات عربية مؤثرة

النبي محمد ﷺ



١ - اسمه الشريف ﷺ :

- هو محمد بن عبد الله بن عبد المطلب بن هاشم بن عبد مناف بن قصي بن كلاب .

٢ - مولده :

- وُلد في عام الفيل (٥٧٠ م) في مكة .

٣ - صباه :

- عمل في حرفة رعي الأغنام وتعلم منها الرحمة والرأفة .

٤ - شبابه :

- عمل بالتجارة واتصف بأمانته ، فلقب بالصادق الأمين .

٥ - نزول الوحي :

- كان قبل الإسلام يذهب إلى غار حراء للتعبد والتأمل ، وقد نزل عليه الوحي وهو في غار حراء .

٦ - تعليمه لأصحابه :

- بعد نزول الوحي عليه ﷺ برسالة الإسلام كان يجتمع بالمسلمين سرًا في دار الأرقم بن أبي الأرقم لـ :
- يتلو عليهم القرآن الكريم .
- يعلمهم أحكام الإسلام .

٧ - كيف واجه صعوبات الدعوة ؟

- واجه العديد من الصعوبات في سبيل نشر الدعوة الإسلامية لكنه واجهها بالحكمة والموعظة الحسنة .

٨ - صفاته النبيلة :

- اتصف الرسول الكريم ﷺ بالعديد من الصفات النبيلة :
- كان حليماً مع أهله يدخل عليهم مبتسماً .
- كان يساند العجوز ويداعب الأطفال .
- كان يقدر المرأة ويحترمها ، حيث كان يأخذ بآراء زوجاته في شئون عديدة ، وكان دائماً يوصي بحسن معاملة النساء .

٩ - غزواته :


- قاد الرسول ﷺ عدة غزوات وكان يستشير الصحابة في هذه الغزوات منذ بدء التخطيط لها .
- أقام ﷺ دعائم الدولة الإسلامية .


١٠ - حجه :

- في العام العاشر من الهجرة خرج النبي ﷺ لأداء فريضة الحج وخطب في الناس موضحاً لهم مبادئ الإسلام .

١١ - وفاته :

- بعد عودته إلى المدينة بعد قيامه بالحج مرض مرضاً شديداً وتوفي يوم الإثنين الموافق ١٢ ربيع الأول في العام الحادي عشر من الهجرة بعد أن أدى الأمانة وبلغ رسالة ربه .



الخليفة أبو بكر الصديق رضي عنه الله

١ - نسبه ومولده :

- اسمه عبد الله بن عثمان بن عامر بن عمرو ، ولد في مكة بعد عام الفيل .

٢ - صفاته قبل الإسلام :

- كان يتسم بالإحسان في معاملة الآخرين والامتناع عن شرب الخمر .

٣ - إسلامه :

- كان أول من أسلم من الرجال .
- وصفه الرسول صلى الله عليه وسلم بالصديق .

٤ - جهوده في الدعوة :

- كان له جهود في الدعوة للإسلام فقد أسلم على يديه عدد من كبار الصحابة ، مثل :
- عثمان بن عفان .
- الزبير بن العوام .
- عبد الرحمن بن عوف .

٥ - حب النبي صلى الله عليه وسلم له :

- كان النبي صلى الله عليه وسلم يستشير في العديد من الأمور .

٦ - خلافته :

- كان أبو بكر يتصف بالحكمة والقدرة على مواجهة المواقف الصعبة .
- عندما تولى الخلافة أظهر قدرة فائقة في إدارة شؤون الدولة .

٧ - أهم أعماله :

- محاربة المرتدين : عندما تولى الخلافة تعرضت الدولة إلى انقسام خطير بسبب ظهور المرتدين فأعاد للدولة وحدتها وأمنها .
- بدء الفتوحات الإسلامية : وجه الجيوش لفتح بلاد العراق والشام .
- أنجز مشروع جمع القرآن الكريم للمرة الأولى .
- اهتم برعاية الفقراء والمرضى .

٨ - وفاته :

- توفي أبو بكر الصديق وكان عمره ٦٣ عامًا .



مراجعة الشاطر علي امتحان شهر نوفمبر

السؤال الأول : أكمل العبارات الآتية بكلمات مناسبة :

- ١ تسقط أمطار شتوية على سهول والمحيط الأطلنطي .
- ٢ توجد واحة الكفرة في
- ٣ ترتفع درجة الحرارة كلما اقتربنا من دائرة جنوب الوطن العربي .
- ٤ يسود المناخ في الأجزاء الشمالية من الوطن العربي .
- ٥ تسمى حركة مياه البحار والمحيطات باسم
- ٦ تتعامد الشمس على مدار في فصل الشتاء بالوطن العربي .
- ٧ تنمو حشائش في إقليم البحر المتوسط وترى عليها و
- ٨ تنمو حشائش ضمن نطاق الإقليم المداري .
- ٩ يؤثر التغير المناخي على كمية الأمطار فيؤدي إلى حدوث و
- ١٠ تعمل الدول العربية على حل المشكلات البيئية من خلال زيادة

السؤال الثاني : اكتب كلمة (صح) أمام العبارة الصحيحة وكلمة (خطأ) أمام العبارة الخاطئة :

- ١ توجد هضبة بادية الشام في الجناح العربي الإفريقي . ()
- ٢ جبال زاغروس التوائية النشأة . ()
- ٣ تكونت الكثبان الرملية بفعل التعرية الهوائية . ()
- ٤ يوجد وادي الجريز في مصر . ()
- ٥ يزداد المدى الحراري اليومي والسنوي بالمناطق الساحلية . ()
- ٦ كلما ارتفعنا ١٥٠ مترًا عن سطح البحر تقل الحرارة درجة واحدة مئوية . ()
- ٧ يتسم فصل الصيف بالمطر الغزير في كل أنحاء الوطن العربي . ()
- ٨ من أشجار إقليم البحر المتوسط الأرز والزيتون . ()
- ٩ التغيرات المناخية تؤثر على كمية الأمطار ودرجات الحرارة . ()
- ١٠ مشروع إنشاء مدينة نيوم الخضراء يوجد في دولة الكويت . ()

السؤال الثالث : اختر الإجابة الصحيحة من بين الإجابات الآتية :

١ قمة جبل توبقال توجد في دولة :

- أ سوريا ب مصر ج المغرب د جيبوتي

٢ تقع سهول في العراق .

- أ وادي النيل ب دجلة والفرات ج البحر الأحمر د جوبا وشيبلي

٣ من العوامل المؤثرة في مناخ الوطن العربي :

- أ الموقع الفلكي ب مظاهر السطح ج التيارات البحرية د كل ما سبق

٤ تنتمي لبنان وفلسطين لمناخ :

- أ الإقليم الصحراوي ب إقليم البحر المتوسط

- ج الإقليم المداري د الإقليم الاستوائي

٥ أكثر الأقاليم المناخية مساحة في الوطن العربي هو :

- أ الإقليم المداري ب الإقليم الصحراوي

- ج إقليم البحر المتوسط د الإقليم الاستوائي

٦ ينمو نبات في الإقليم الصحراوي .

- أ الإستبس ب السافانا ج الزيتون د الصبار

٧ من الحيوانات التي تعيش في الإقليم الصحراوي :

- أ الأسود ب الزراف ج الزواحف د الفيلة

٨ توجد محمية أرز الشوف في :

- أ سوريا ب العراق ج السعودية د لبنان

٩ مشروع مدينة نيوم الخضراء يوجد بدولة :

- أ الجزائر ب المغرب ج تونس د السعودية

١٠ أكثر الدول العربية تعرضاً للجفاف هي :

- أ العراق ب مصر ج الصومال د المغرب

السؤال الرابع : صوب ما تحته خط :

- ١ تمتد سلاسل جبال الحجاز وعسير في الجناح الإفريقي . (.....)
- ٢ توجد محمية عين صالح في مصر . (.....)
- ٣ أكبر الأقاليم المناخية مساحة الإقليم المداري . (.....)
- ٤ تنتمي فلسطين للإقليم الصحراوي الحار . (.....)
- ٥ تعاني دولة العراق من أكبر موجة جفاف . (.....)

السؤال الخامس : اكتب ما تشير إليه كل عبارة فيما يلي :

- ١ جبال نشأت نتيجة حدوث انكسار في القشرة الأرضية . (.....)
- ٢ حركة مياه البحار والمحيطات . (.....)
- ٣ نقص كمية الأمطار في بعض السنوات بما لا يسمح بالزراعة . (.....)
- ٤ إقليم مناخي يشغل الأطراف الشمالية من الوطن العربي . (.....)

الرياح

السؤال السادس : بم تفسر ... ؟

- ١ تكون جبال البحر الأحمر .
- ج بسبب حدوث انكسار في القشرة الأرضية .
- ٢ قيام الزراعة في الواحات .
- ج لوجود المياه الجوفية واعتماد الزراعة عليها .
- ٣ تكون بحر الرمال العظيم بين مصر وليبيا .
- ج بسبب عوامل التعرية الهوائية .
- ٤ صعوبة قيام موانئ بالبحر الأحمر .
- ج لأن الشعاب المرجانية تعيق قيام الموانئ .
- ٥ تكون السهول الفيضية .
- ج بسبب قيام الأنهار بتكوينها عن طريق ترسيب المواد العالقة بمياهها .
- ٦ الأهمية الاقتصادية للسهول الساحلية المطلة على البحر المتوسط والخليج العربي .
- ج لأنها غنية بالثروات المعدنية ومصادر الطاقة .
- ٧ أهمية الأودية الجافة .
- ج تستخدم كطرق للمواصلات وللحصول على المياه الجوفية .
- ٨ كلما اتجهنا جنوب الوطن العربي ترتفع درجات الحرارة .
- ج لأننا نقرب من دائرة الاستواء التي تمر جنوب الوطن العربي .
- ٩ مناخ المناطق الساحلية أكثر اعتدالاً من مناخ المناطق الداخلية .
- ج لأن البحر يعمل على تلطيف درجات الحرارة .
- ١٠ تكون الثلوج فوق جبال لبنان .
- ج بسبب عامل الارتفاع لأنه كلما ارتفعنا ١٥٠ متراً عن سطح البحر تقل الحرارة درجة واحدة مئوية .
- ١١ نمو نبات الصبار في الإقليم الصحراوي .
- ج لأنه له القدرة على تحمل الجفاف والحرارة والإقليم الصحراوي نادر المطر .
- ١٢ قيام الدول العربية باتخاذ إجراءات للحفاظ على المحميات الطبيعية .
- ج بسبب تعرض هذه المحميات لمخاطر نتيجة لتطور الأنشطة البشرية .
- ١٣ تعاني معظم البلاد العربية من ندرة المياه العذبة .
- ج بسبب :
 - زيادة معدلات الاستهلاك للمياه .
 - النمو المتزايد في أعداد السكان .

السؤال السابع : ما النتائج المترتبة على ... ؟

- ١ حدوث حركات باطنية التوائية تعرضت لها الأرض .
- ج تكون جبال التوائية مثل جبال أطلس .
- ٢ وجود مياه جوفية بالواحات .
- ج يعيش بها بعض السكان وتقوم عليها الزراعة .
- ٣ التعرية الهوائية .
- ج تكون التجمعات الرملية مثل الكثبان الرملية وبحر الرمال العظيم الممتد بين مصر وليبيا .
- ٤ ترسيب المواد العالقة بمياه الأنهار .
- ج تكون تربة فيضية خصبة .
- ٥ وجود الشعاب المرجانية بالبحر الأحمر .
- ج تعيق قيام الموانئ الطبيعية .
- ٦ مرور دائرة الاستواء في جنوب الوطن العربي .
- ج ارتفاع الحرارة في الأجزاء الجنوبية وانخفاضها كلما اتجهنا شمالاً .
- ٧ الموقع الفلكي للوطن العربي .
- ج ■ مرور دائرة الاستواء جنوب الوطن العربي .
- يسود المناخ الحار معظم أجزاء الوطن العربي .
- يسود المناخ المعتدل في الأجزاء الشمالية .
- ٨ اقتراب الصحاري والجبال من المسطحات المائية .
- ج عدم توغل تأثير المسطحات المائية إلى الداخل .
- ٩ مرور التيارات البحرية الباردة .
- ج تعمل على خفض درجة حرارة السواحل التي تمر بها .
- ١٠ تعامد الشمس على مدار الجدي .
- ج ■ حدوث فصل الشتاء .
- اعتدال الحرارة على معظم أجزاء الوطن العربي وتكون أشد حرارة في الأجزاء الشمالية والمناطق الجبلية .
- ١١ سوء الأحوال الجوية بالنسبة لحركة الطيران .
- ج تأجيل أو إلغاء الرحلات الجوية .
- ١٢ تعرض المحميات الطبيعية إلى تهديدات بشرية .
- ج قيام الدول العربية بسن قوانين لضمان حمايتها .
- ١٣ حدوث تغيرات مناخية بالوطن العربي .
- ج ■ ظهور مشكلات بيئية مثل الجفاف . ■ التصحر .
- ندرة المياه العذبة .
- ١٤ الإفراط في استخدام الأسمدة الكيماوية .
- ج حدوث مشكلة التصحر .

السؤال الثامن : ما العلاقة بين ... ؟

- ١ حدوث انكسار في القشرة الأرضية وجبال الحجاز وعسير .
- ج تكونت جبال الحجاز وعسير نتيجة حركات انكسارية .
- ٢ وجود سكان بالواحات والمياه الجوفية .
- ج وجود المياه الجوفية سبب تواجد السكان في الواحات .
- ٣ التعرية المائية والأودية الجافة .
- ج تكونت الأودية الجافة نتيجة التعرية المائية .
- ٤ بحر الرمال العظيم والتعرية الهوائية .
- ج التعرية الهوائية سبب تكون بحر الرمال العظيم .
- ٥ الشعاب المرجانية وقيام الموانئ .
- ج وجود الشعاب المرجانية يعيق قيام الموانئ الطبيعية .
- ٦ المناطق الساحلية واعتدال الحراري .
- ج المناطق الساحلية تتميز باعتدال الحرارة .
- ٧ المناخ والرحلات الجوية .
- ج قد يتم تأجيل أو إلغاء الرحلات الجوية نتيجة سوء الأحوال الجوية .
- ٨ حشائش الإستبس وسواحل البحر المتوسط .
- ج تنمو حشائش الإستبس على سواحل البحر المتوسط ضمن مناخ البحر المتوسط .
- ٩ ندرة الأمطار ونبات الصبار .
- ج يتميز نبات الصبار بالقدرة على تحمل الجفاف وندرة الأمطار .
- ١٠ إقامة المحميات الطبيعية والسياحة .
- ج إقامة المحميات الطبيعية تعمل على تنشيط السياحة وجذب السياح .
- ١١ التصحر وطرق الري .
- ج من أسباب التصحر استخدام الطرق التقليدية في الري .
- ١٢ مدينة نيوم والمساحات الخضراء .
- ج مشروع مدينة نيوم يهدف إلى زيادة المساحات الخضراء .

السؤال التاسع : في أي الأقاليم المناخية تنمو النباتات الآتية ... ؟

(.....)

(.....)

(.....)

(.....)

(.....)

١ حشائش الإستبس .

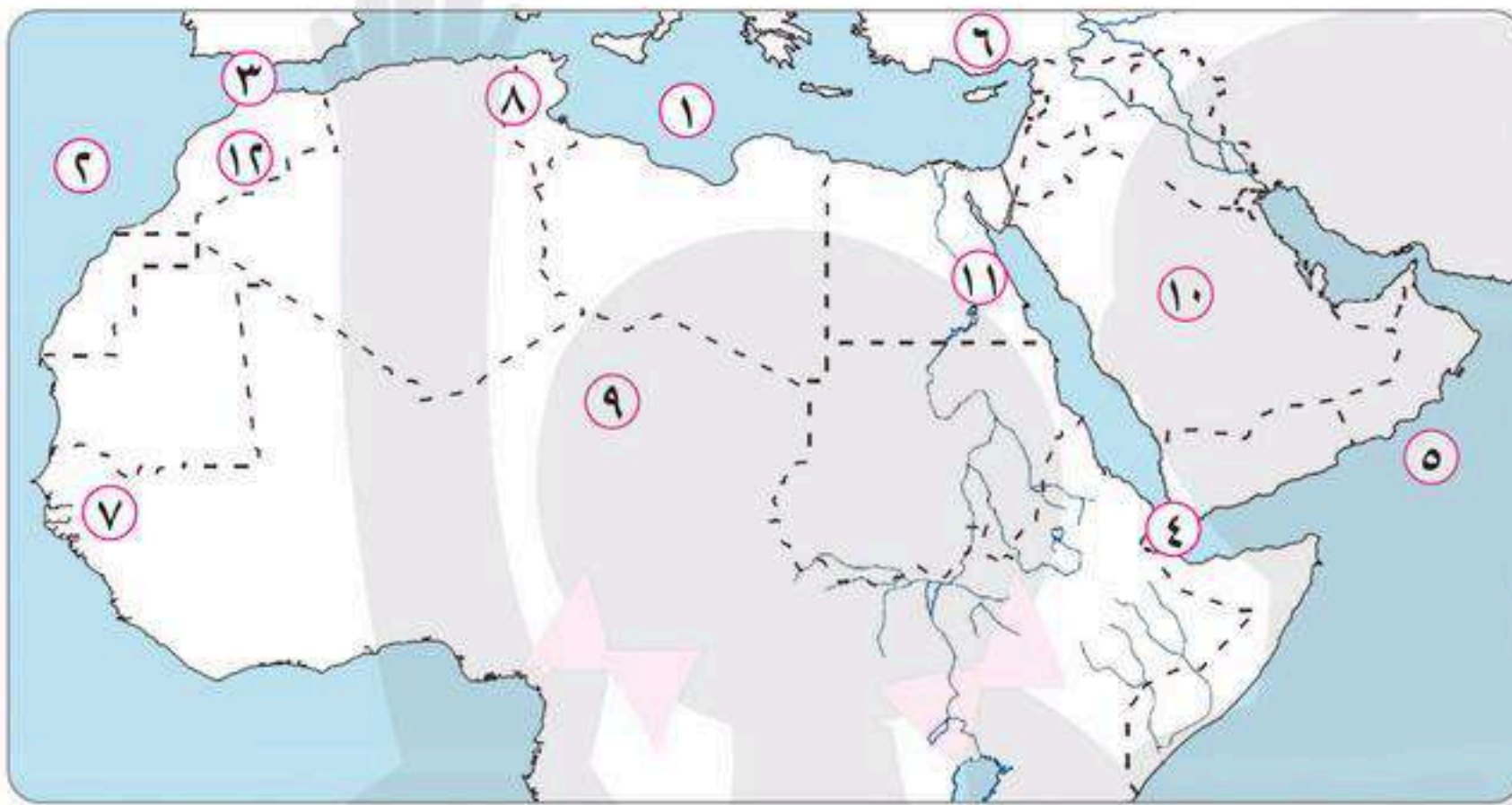
٢ حشائش السافانا .

٣ أشجار الزيتون .

٤ نبات الصبار .

٥ أشجار الصنوبر .

السؤال العاشر : أمامك خريطة صماء للوطن العربي ، وضع مدلول الأرقام التي عليها :



١ البحر

٢ المحيط

٣ مضيق

٤ مضيق

٥ بحر

٦ جبال

٧ إقليم مناخي

٨ إقليم مناخي

٩ إقليم مناخي

١٠ هضبة

١١ جبال

١٢ جبال

الإجابات النموذجية

إجابات مراجعة الشاطر علي امتحان شهر نوفمبر
نوفمبر

السؤال الأول :

- ١ البحر المتوسط
٢ ليبيا
٣ الاستواء
٤ المعتدل
٥ التيارات البحرية
٦ الجدي
٧ الإستبس ، الأغنام ، الماعز
٨ السافانا
٩ ارتفاع الحرارة - الجفاف
١٠ المساحات الخضراء

السؤال الثاني :

- ١ خطأ
٢ صح
٣ صح
٤ خطأ
٥ خطأ
٦ صح
٧ خطأ
٨ صح
٩ صح
١٠ خطأ

السؤال الثالث :

- ١ المغرب
٢ دجلة ، الفرات
٣ كل ما سبق
٤ البحر المتوسط
٥ الصحراوي
٦ الصبار
٧ الزواحف
٨ لبنان
٩ السعودية
١٠ الصومال

السؤال الرابع :

- ١ الآسيوي
٢ الجزائر
٣ البحر المتوسط
٤ الصومال

السؤال الخامس :

- ١ جبال انكسارية
٢ التيارات البحرية
٣ التصحر
٤ البحر المتوسط

الأسئلة من السادس حتى الثامن : الإجابة داخل المراجعة

السؤال التاسع :

- ١ اقليم البحر المتوسط
٢ الأقليم المداري
٣ اقليم البحر المتوسط
٤ الأقليم الصحراوي
٥ اقليم البحر المتوسط

السؤال العاشر :

- ١ المتوسط
٢ الأطلنطي
٣ جبل طارق
٤ باب المنذب
٥ العرب
٦ طوروس
٧ المداري الحار
٨ البحر المتوسط
٩ الصحراوي
١٠ نجد
١١ البحر الأحمر
١٢ أطلس

تدريبات الباهر على الوحدة الثانية

أكمل العبارات التالية بالكلمات المناسبة:

- ١ تنقسم الجبال إلى نوعين جبال وجبال
- ٢ هو منطقة جغرافية تتسم بخصائص مناخية تميزها عن غيرها .
- ٣ يسود المناخ الأجزاء الشمالية بالوطن العربي .
- ٤ من المشكلات البيئية في الوطن العربي و و
- ٥ يهب على الوطن العربي رياح من جنوب آسيا صيفاً .
- ٦ يتسم الإقليم الصحراوي الحار بصيف
- ٧ نشأت الجبال نتيجة لحركات باطنية .
- ٨ تعاني من أكبر موجة جفاف .
- ٩ تعتمد الزراعة في على المياه الجوفية .
- ١٠ من أهم الحيوانات التي تعيش في الإقليم المداري
- ١١ التيارات البحرية تخفض درجة حرارة السواحل .
- ١٢ من أسباب ندرة المياه العذبة التوسع في
- ١٣ يتعرض الوطن العربي لهبوب رياح شديدة البرودة من قارة و شتاءً .
- ١٤ من أسباب حدوث التصحر إزالة
- ١٥ توجد واحة في ليبيا .
- ١٦ يشغل الإقليم معظم الوطن العربي .
- ١٧ يسود المناخ معظم أجزاء الوطن العربي .
- ١٨ يساعد إنشاء المدن الذكية في تقليل انبعاثات
- ١٩ من أنواع السهول و
- ٢٠ توجد أشجار و في إقليم البحر المتوسط .
- ٢١ تمتد هضبة إفريقيا الشمالية من البحر شرقاً إلى المحيط غرباً .
- ٢٢ من الحيوانات التي تعيش في الإقليم الصحراوي الحار و
- ٢٣ تعمل المسطحات المائية على تلطيف
- ٢٤ أطلقت مبادرة زراعة ٤٥٠ مليون شجرة .
- ٢٥ أعلنت السعودية إنشاء مدينة عام ٢٠٢٢م .

صوّب ما تحته خط:

٢

- ١ الجبال الالتوائية هي التي نشأت نتيجة لحدوث انكسار في قشرة الأرض. (.....)
- ٢ يمتد إقليم البحر المتوسط بين دائرتي عرض ١٥° و ٣٠° شمالاً. (.....)
- ٣ اتجهت السعودية لإنشاء مصنع الهيدروجين الأخضر. (.....)
- ٤ عقد مؤتمر المناخ للأمم المتحدة في مدينة الأقصر في مصر عام ٢٠٢٢م. (.....)
- ٥ جبال عمان من أهم جبال الجناح الإفريقي. (.....)
- ٦ توجد جبال البحر الأحمر في مصر و تونس. (.....)
- ٧ السهول هي أكثر أشكال السطح انتشاراً في الوطن العربي. (.....)
- ٨ من هضاب الجناح الإفريقي هضبة حزرموت ونجد. (.....)
- ٩ من النباتات التي تتحمل الجفاف في الإقليم الصحراوي الحار الزيتون. (.....)
- ١٠ تكونت الأودية الجافة بفعل التعرية الهوائية. (.....)
- ١١ يقع الإقليم المداري في شمال الوطن العربي. (.....)
- ١٢ يوجد بحر الرمال العظيم بين مصر والسودان. (.....)
- ١٣ توجد محمية أرز الشوف في دولة اليمن. (.....)
- ١٤ تنمو حشائش الإستبس في الإقليم المداري. (.....)
- ١٥ تسقط الأمطار في إقليم البحر المتوسط على هيئة سيول. (.....)
- ١٦ تتعامد الشمس في فصل الشتاء على مدار السرطان. (.....)
- ١٧ من المشكلات البيئية في الوطن العربي ندرة المياه المالحة. (.....)
- ١٨ المسطحات المائية تقلل من فرص سقوط الأمطار. (.....)
- ١٩ تتكون الثلوج فوق جبال الأطلس. (.....)
- ٢٠ التصحّر هو نقص كمية الأمطار في بعض السنوات بما لا يسمح بالزراعة. (.....)
- ٢١ عانت دولة الكويت من أكبر موجة جفاف. (.....)
- ٢٢ من أسباب حدوث الجفاف زحف الكثبان الرملية. (.....)
- ٢٣ أطلقت مصر مبادرة زراعة ٤٥٠ مليون شجرة. (.....)
- ٢٤ من أسباب حدوث التصحر استخدام طرق الري الحديثة. (.....)
- ٢٥ التيارات الهوائية هي حركة مياه البحار والمحيطات. (.....)

اكتب كلمة (صواب) أمام العبارة الصحيحة، وكلمة (خطأ) أمام العبارة غير الصحيحة:

- ١ توجد سلاسل جبال الحجاز في شبه الجزيرة العربية. (.....)
- ٢ هضبة إفريقيا الشمالية من أكبر الظاهرات التضاريسية مساحة. (.....)
- ٣ تقع ليبيا في إقليم البحر المتوسط. (.....)
- ٤ تنمو حشائش الإستبس في الإقليم المداري. (.....)
- ٥ يسود المناخ المعتدل الأجزاء الشمالية للوطن العربي. (.....)
- ٦ من العوامل المؤثرة في درجات الحرارة القرب أو البعد عن المسطحات المائية. (.....)
- ٧ المشكلات البيئية تهدد صحة المواطن العربي. (.....)
- ٨ تهتم الدول العربية باستخدام الطاقة النظيفة. (.....)
- ٩ تقوم الزراعة في الواحات اعتمادًا على مياه الأمطار. (.....)
- ١٠ تسمح المناطق الجبلية بممارسة عدد كبير من الأنشطة الاقتصادية. (.....)
- ١١ يتميز الإقليم الصحراوي الحار بغزارة الأمطار طوال العام. (.....)
- ١٢ من الخصائص المناخية للإقليم المداري الشتاء المعتدل الجاف. (.....)
- ١٣ تنخفض درجات الحرارة وتتكون الثلوج فوق جبال لبنان. (.....)
- ١٤ تسقط الأمطار بغزارة على الجهات الداخلية للمرتفعات. (.....)
- ١٥ من أسباب التصحر استخدام طرق الري الحديثة. (.....)
- ١٦ أعلنت مصر عن إنشاء مدينة نيوم الخضراء عام ٢٠٢٢م. (.....)
- ١٧ ساعدت السهول الفيضية في مصر والعراق على قيام الزراعة. (.....)
- ١٨ سهول وادي النيل في مصر والسودان من السهول الساحلية. (.....)
- ١٩ من عيوب سهول البحر الأحمر والخليج العربي أن تربتها رملية أو ملحية. (.....)
- ٢٠ توجد محمية ضانا في دولة الأردن. (.....)
- ٢١ الرعي الجائر من التهديدات البشرية التي تتعرض لها المحميات. (.....)

- ٢٢ تعمل التيارات البحرية الدفيئة على رفع درجة حرارة السواحل. (.....)
- ٢٣ تتعامد الشمس على مدار السرطان في فصل الشتاء. (.....)
- ٢٤ قام أبناء الخارجة بمشروع صناعة الأخشاب من مخلفات النخيل. (.....)
- ٢٥ تحتفل الدول العربية باليوم العربي للبيئة ١٤ أكتوبر من كل عام. (.....)

٤ اختر الإجابة الصحيحة مما بين القوسين:

- ١ من هضاب الجناح الإفريقي (حضرموت - نجد - بادية الشام - إفريقيا الشمالية)
- ٢ يوجد بحر الرمال العظيم بين مصر و (تونس - السودان - ليبيا - المغرب)
- ٣ يوجد وادي الجريفي (مصر - السعودية - الكويت - العراق)
- ٤ توجد جبال في مصر والسودان. (البحر الأحمر - الحجاز - عسير - اليمن)
- ٥ من الحيوانات التي تعيش في الإقليم المداري (ثعلب الصحراء - الزواحف - الأسود - الأغنام)
- ٦ دولتي فلسطين ولبنان تقع ضمن إقليم (البحر المتوسط - الصحراوي الحار - المداري - غرب أوروبا)
- ٧ يشغل الإقليم معظم مساحة الوطن العربي. (الصحراوي الحار - الموسمي - البحر المتوسط - المداري)
- ٨ من النباتات التي لها القدرة على تحمل الجفاف والحرارة نبات (الأرز - الزيتون - الصبار - الصنوبر)
- ٩ توجد محمية ضانا في دولة (الأردن - مصر - لبنان - سوريا)
- ١٠ تنمو حشائش السافانا في الإقليم (البحر المتوسط - البارد - الصحراوي الحار - المداري)
- ١١ يقع إقليم في الأطراف الشمالية من الوطن العربي. (الصحراوي الحار - المداري - البحر المتوسط - الصين)
- ١٢ أعلنت السعودية إنشاء مدينة عام ٢٠٢٢م. (نيوم الخضراء - أجياد - صنعاء - الطائف)
- ١٣ هو تدهور الأراضي وتناقص قدرتها على الإنتاج. (التجوية - التصحر - الجفاف - الانكسارات)
- ١٤ إنشاء المدن الزكية يساعد على تقليل انبعاثات (الأكسجين - النيتروجين - الغازات الدفيئة - الهيدروجين الأخضر)
- ١٥ أطلقت دولة مبادرة زراعة مليون شجرة مثمرة. (الأردن - مصر - السعودية - الكويت)

تدريبات الباهر على الوحدة الثانية

- ١٦ هو نقص كمية الأمطار في بعض السنوات مما لا يسمح بالزراعة.
(التصحر - الجفاف - التجريف - التعرية)
- ١٧ يسود المناخ المعتدل الأجزاء من الوطن العربي.
(الشمالية - الجنوبية - الشرقية - الغربية)
- ١٨ يسود المناخ الحار الأجزاء من الوطن العربي .
(الشمالية - الجنوبية - الشرقية - الغربية)
- ١٩ تتكون الثلوج فوق جبال
(البحر الأحمر - لبنان - أطلس - الحجاز)
- ٢٠ تتعامد الشمس على مدار السرطان في فصل
(الصيف - الربيع - الشتاء - الخريف)
- ٢١ مناخ مدينة في مصر أكثر اعتدالاً من مدينة الرياض في السعودية.
(القاهرة - الإسكندرية - الأقصر - أسوان)

٥ قارن بين كل من:

- ١ الأودية الجافة والتجمعات الرملية من حيث: (تكوينها - أمثلتها).
- ٢ إقليم البحر المتوسط والإقليم المداري من حيث: (الموقع - الخصائص المناخية).
- ٣ التيارات البحرية الدفيئة والتيارات البحرية الباردة.
- ٤ الجبال الالتيوائية والجبال الانكسارية من حيث: (المفهوم - الأمثلة).
- ٥ السهول الفيضية والسهول الساحلية من حيث: (الأمثلة).
- ٦ الإقليم الصحراوي وإقليم البحر المتوسط من حيث: (الخصائص النباتية - الخصائص الحيوانية).
- ٧ مناخ الوطن العربي صيفاً ومناخ الوطن العربي شتاءً من حيث: (تعامد الشمس - درجات الحرارة).

٦ استخرج الكلمة المختلفة من كل مجموعة مما يأتي:

- ١ كردستان - أطلس - زاجروس - عمان. (.....)
- ٢ سهول وادي النيل - سهول دجلة - سهول البحر المتوسط - سهول الفرات. (.....)
- ٣ سيوة - الكفرة - عين صالح - الجدير. (.....)
- ٤ حضرموت - نجد - بادية الشام - إفريقيا الشمالية. (.....)
- ٥ الرعي الجائر - النشاط التجاري - التلوث البيئي - الصيد الجائر. (.....)
- ٦ الصبار - الزيتون - الأرز - الصنوبر. (.....)
- ٧ إقليم البحر المتوسط - الإقليم المداري - الإقليم الصيني - الإقليم الصحراوي. (.....)

٧ فسّر العبارات الآتية:

١ تنوع الأنشطة الاقتصادية في الوطن العربي .

٢ أهمية الواحات في الوطن العربي .

٣ نشأة الجبال الالتوائية .

٤ للأودية الجافة أهمية كبيرة .

٥ يسود المناخ الحار معظم أجزاء الوطن العربي .

٦ قلة تأثير المسطحات المائية في الوطن العربي بشكل عام .

٧ نشأة الجبال الانكسارية .

٨ انخفاض الحرارة وتكون الثلوج فوق جبال لبنان .

٩ تحتفل الدول العربية باليوم العربي للبيئة في ١٤ أكتوبر من كل عام .

١٠ ندرة المياه العذبة في الوطن العربي .

١١ حدوث التصحر .

٨ ما النتائج المترتبة على....؟

١ امتداد الوطن العربي في نحو ٤٠ دائرة عرض .

٢ تنوع الأقاليم المناخية في الوطن العربي .

٣ تعامد الشمس على مدار السرطان .

٤ تعامد الشمس على مدار الجدى .

٩ ما المقصود بكلٍّ من؟

١ الجفاف:

٢ التصحر:

٣ الجبال الالتوائية:

٤ الجبال الانكسارية:

مراجعة شهر أكتوبر في الدراسات الصف السادس الابتدائي

مراجعات
شهرية

س 1 أكمل العبارات الآتية بكلمات مناسبة

- ١ أعلى قمة جبلية في الوطن العربي قمة في دولة المغرب.
- ٢ من هضاب الجناح العربي الإفريقي
- ٣ تسقط أمطار على سهول البحر المتوسط والمحيط الأطلسي.
- ٤ كلما اقتربنا من دائرة الاستواء درجة الحرارة.
- ٥ يسود المناخ في مصر أجزاء الوطن العربي.
- ٦ يسود المناخ المعتدل في الأجزاء للوطن العربي.
- ٧ يشغل الإقليم معظم مساحة الوطن العربي.
- ٨ تنمو حشائش ضمن نطاق إقليم البحر المتوسط.
- ٩ توجد محمية ضانا في دولة ومحمية في مصر.
- ١٠ تعرّضت دولة لأكبر موجة جفاف.

س 2 اكتب كلمة "صح" أمام العبارة الصحيحة وكلمة "خطأ" أمام العبارة غير الصحيحة:

- ١ نشأت جبال أطلس نتيجة حركة انكسارية. (.....)
- ٢ توجد هضبة نجد في الجناح الآسيوي في الوطن العربي. (.....)
- ٣ تكونت الأودية الجافة نتيجة عوامل التعرية الهوائية. (.....)
- ٤ يوجد وادي الجدير في السعودية. (.....)
- ٥ المناطق الساحلية أكثر اعتدلاً في الحرارة من المناطق الداخلية. (.....)
- ٦ كلما ارتفعنا ١٥٠م عن مستوي سطح البحر تقل الحرارة درجة واحدة مئوية. (.....)
- ٧ يؤدي مرور التيارات البحرية الدافئة إلى انخفاض حرارة السواحل التي تمر بها. (.....)
- ٨ أشجار الأرز من أشجار إقليم البحر المتوسط. (.....)
- ٩ الجفاف هو نقص كمية الأمطار في بعض السنوات. (.....)
- ١٠ الرعي الجائر من أسباب مشكلة الجفاف. (.....)

س ٣ اختر الإجابة الصحيحة مما بين الأقواس:

- ١ توجد سهول في مصر ، السودان
 - ٢ تقع واحة الكفرة في
 - ٣ كل ما يأتي من الجبال الالتوائية ما عدا
 - ٤ تتعامد أشعة الشمس على ... في فصل الصيف
 - ٥ تنتمي الصومال وجيبوتي للمناخ
 - ٦ من الحيوانات التي تعيش ضمن إقليم الصحراوي
 - ٧ تنمو حشائش ضمن إقليم البحر المتوسط
 - ٨ توجد محمية في دولة الاردن.
 - ٩ أنشأت دولة مدينة نيوم الخضراء.
 - ١٠ تعتبر الصومال أكثر الدول العربية تعرضًا ل.....
- (وادي النيل - دجلة العراق - جوبا،شبلي - الريين)
 (مصر - ليبيا - لبنان - السودان)
 (أطلس - عمان - الحجاز - زاجروس)
 (الجدي - السرطان - دائرة الأستواء - القطب الشمالي)
 (الصحراوي - المداري - البحر المتوسط - القطبي)
 (الأسود - الزواحف - الزراف - الفيلة)
 (السافانا - التندر - الأستبس - النبات الصحراوي)
 (سيوة - علبه - ضانا - أرز الشوف)
 (ليبيا - لبنان - السودان - السعودية)
 (التصحر - الجفاف - السيول - الأعاصير)

س ٤ ما المقصود بـ...؟

- ١ الإقليم المناخي.
- ٢ التيارات البحرية.
- ٣ التصحر.
- ٤ الجفاف.

س ٥ صوّب ما تحته خط:

- ١ تمتد جبال البحر الأحمر في دول مصر و الصومال.
- ٢ توجد محمية علبه في دولة الأردن.
- ٣ أكبر الإقليم المناخي مساحة في وطننا العربي إقليم البحر المتوسط.
- ٤ ينتمي جنوب موريتانيا إلى المناخ الصحراوي.
- ٥ تسقط أمطار شتوية على إقليم المداري.
- ٦ تعاني دولة السعودية من أكبر موجة جفاف.
- ٧ الرعي الجائر للحيوانات من أسباب مشكلة الجفاف.
- ٨ عُقد مؤتمر COP27 عام ٢٠٢٢ م في دولة السعودية.
- ٩ أطلقت مصر مبادرة ٤٥٠ مليون شجرة مثمرة .

س ١ أكتب ما تشير إليه كل عبارة مما يلي:

- ١ حركة مياه البحار ، المحيطات. (.....)
- ٢ نقص كمية الأمطار في بعض السنوات بما لايسمح بالزراعة أو نمو الحشائش. (.....)
- ٣ تدهور الأراضي الزراعية وتناقص قدرتها علي الإنتاج. (.....)
- ٤ إقليم مناخي يشغل الأطراف الجنوبية للوطن العربي. (.....)
- ٥ إقليم مناخي يشغل معظم مساحة للوطن العربي. (.....)
- ٦ حشائش طبيعية تنمو في الإقليم المداري. (.....)
- ٧ حشائش طبيعية تنمو في الإقليم البحر المتوسط. (.....)
- ٨ دائرة عرض رئيسية تمر أقصى جنوب الوطن العربي. (.....)
- ٩ مناطق من سطح الأرض تتشابه في الظروف المناخية. (.....)

س ٧ بم تفسّر ...؟

- ١ تكوّن جبال أطلس.
- ٢ تكوّن جبال الحجاز، عسير.
- ٣ وجود بعض السكان وقيام الزراعة في الواحات.
- ٤ تكون بحر الرمال العظيم بين مصر، ليبيا.
- ٥ تكون السهول الفيضية.
- ٦ صعوبة إنشاء موانئ بالبحر الأحمر.
- ٧ أهمية الأودية الجافة.
- ٨ تنوع الأنشطة الاقتصادية في وطننا العربي.
- ٩ تكوّن الأودية الجافة.
- ١٠ تكوّن الثلوج فوق القمم الجبلية مثل جبال لبنان.
- ١١ مناخ المناطق الساحلية أكثر اعتدالاً من مناخ المناطق الداخلة.
- ١٢ تعاني معظم الدول العربية من مشكلة التصحر.



٨ س ما النتائج المترتبة على ...؟

- ١ تعرض الجناح العربي الإفريقي لحركات التوائية.
- ٢ حدوث حركات انكسارية تعرضت لها أراضي وطننا العربي.
- ٣ التعرية المائية في وطننا العربي.
- ٤ التعرية الهوائية في وطننا العربي.
- ٥ وجود مياه الآبار، العيون في الواحات.
- ٦ وجود الشعاب المرجانية في البحر الأحمر.
- ٧ الموقع الفلكي للوطن العربي.
- ٨ وجود التيارات البحرية الدافئة.
- ٩ تعامد أشعة الشمس على مدار السرطان.
- ١٠ ضيق مساحة المسطحات المائية في الوطن العربي.

٩ س ما العلاقة بين ...؟

- ١ الحركات الالتوائية وجبال زاغروس.
- ٢ الحركات الانكسارية وجبال البحر الأحمر.
- ٣ الأودية الجافة - التعرية المائية.
- ٤ الكثبان الرملية - التعرية الهوائية.
- ٥ إقامة الموانئ - الشعاب المرجانية.
- ٦ الأحوال الجوية - حركة رحلات الطيران.
- ٧ حشائش السافانا - الإقليم المداري.

١٠ س اذكر سبب نشأة الظواهر الجغرافية الآتية:

- ١ جبال زاغروس.
- ٢ جبال البحر الأحمر.
- ٣ وادي الجريير.
- ٤ الكثبان الرملية.
- ٥ سهول دجلة ، الفرات.

س ١١ في أي الاقاليم الآتية تنمو النباتات الآتية:

- ١ أشجار الأرز
- ٢ الصبار
- ٣ حشائش السافانا
- ٤ حشائش الاستبس

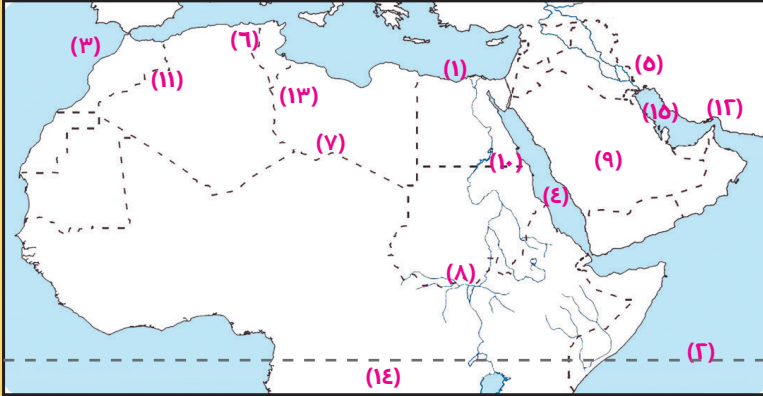
س ١٢ قارن بين:

- ١ الإقليم المداري - إقليم البحر المتوسط من حيث موسم سقوط المطر ونوع الحشائش
- ٢ الجبال الالتوائية - الجبال الانكسارية من حيث أمثلة لكل منهما.
- ٣ الأسباب الطبيعية للتصحّر - الأسباب البشرية للتصحّر.

س ١٣ دلّل علي صحة العبارة:

- ١ تعددت الأخطار البشرية التي تهدد المحميات الطبيعية.
- ٢ تعددت جهود الدول العربية لمواجهة المشكلات البيئية.

س ١٤ أمامك خريطة صماء للوطن العربي وضّح ما تدل عليه الأرقام الآتية:



- ١ البحر
- ٢ المحيط
- ٣ مضيق
- ٤ البحر
- ٥ جبال
- ٦ إقليم مناخي
- ٧ إقليم مناخي
- ٨ حشائش
- ٩ هضبة
- ١٠ جبال
- ١١ جبال
- ١٢ مضيق
- ١٣ حشائش
- ١٤ دائرة عرض رئيسية
- ١٥ الخليج

أكمل:

- ١ توبقال ٢ أفريقيا الشمالية ٣ شتوية
٤ ترتفع ٥ الحار ٦ الشمالية
٧ الصحراوي ٨ الإستبس ٩ الأردن - عليه
١٠ الصومال

أكتب صح أو خطأ:

- ١ خطأ ٢ صح ٣ خطأ ٤ صح ٥ صح ٦ صح ٧ خطأ
٨ صح ٩ صح ١٠ خطأ

أفتر الجابة الصحيحة:

- ٢ وادي النيل ٣ ليبيا ٤ السرطان
٥ المداري ٦ الزاوحف ٧ الإستبس
٨ ضانا ٩ السعودية ١٠ الجفاف

المقصود:

- ١ مساحة من الأرض تتشابه في الظروف المناخية كالحرارة ، الرياح - الأمطار
٢ حركات مياه البحار والمحيطات
٣ تناقص قدرة الأرض الزراعية على الإنتاج وتدهورها
٤ نقص كمية الأمطار في بعض السنوات بما لايسمح بالزراعة أو نمو الحشائش

صوب ما تحته خط:

- ١ السودان ٢ مصر ٣ الصحراوي الحار
٤ المداري ٥ موسمية صيفية ٦ الصومال
٧ التصحر ٨ مصر ٩ السعودية

اكتب ما تشير إليه العبارة:

- ١ التيارات البحرية ٢ الجفاف ٣ التصحر ٤ المداري
٥ الصحراوي الحار ٦ السافانا
٧ الإستبس ٨ دائرة الاستواء ٩ الإقليم المناخي

بم تفسر:

- ١ بسبب الحركات اللاتوائية ٢ بسبب الحركات الانكسارية
٣ وجود مياه الآبار، العيون (المياه الجوفية) ٤ بسبب التعرية الهوائية
٥ ترسيب المواد العالقة في الأنهار ٦ بسبب وجود الشعاب المرجانية
٧ تستخدم كطرق للمواصلات والحصول على المياه الجوفية
٨ بسبب تنوع مناخ الوطن العربي ٩ بسبب التعرية المائية
١٠ بسبب شدة الارتفاع حيث كلما ارتفعنا ١٥٠ عن مستوى سطح البحر تقل
الحرارة درجة واحدة مئوية
١١ لأن البحر يعمل على تلطيف درجة الحرارة
١٢ بسبب زحف الرمال - الري الجائر - إزالة الغابات - الافراط في استخدام
الأسمدة الكيمايية

ما النتائج المترتبة على:

- ١ نشأة جبال أطلس
٢ نشأة جبال مثل البحر الأحمر - الحجاز
٣ نشأة الأودية الجافة
٤ نشأة الكتلان الرملية وبحر الرمال العظيم
٥ وجود بعض السكان في الواحات، قيام الزراعة
٦ تعوق إقامة الموانئ الطبيعية
٧ مرور دائرة الاستواء جنوب الوطن العربي
-يسود المناخ الحار في معظم الوطن العربي
-يسود المناخ المعتدل في شمال الوطن العربي
٨ رفع درجة حرارة السواحل التي مر بها
٩ حدوث فصل الصيف وارتفاع درجة الحرارة في وطننا العربي خاصة جنوبًا
١٠ قلة تأثير المصطحات المائية في وطننا العربي

ما العلاقة بين:

- ١ نشأة جبال زاغروس بسبب الحركات اللاتوائية
٢ نشأة جبال البحر الأحمر بسبب الحركات الأتسارية
٣ نشأة الأودية الجافة بسبب عوامل التعرية المائية
٤ نشأة الكتلان الرملية بسبب التعرية الهوائية

- ٥ تعوق الشعاب المرجانية إقامة الموانئ
٦ سوء الأحوال الجوية يؤجل أو يلغى رحلات الطيران
٧ تنمو حشائش السافانا ضمن نطاق الإقليم المداري

أذكر اسباب نشأة الظاهرات الآتية:

- ١ حركات التوائية ٢ حركات انكسارية ٣ تعرية مائية
٤ تعرية هوائية ٥ لترسب المواد العالقة في النهر

أي الأقاليم المناخية تنمو النباتات الآتية:

- ١ البحر المتوسط ٢ الصحراوي ٣ المداري ٤ البحر المتوسط

قارن بين:

الأقليم	المداري	البحر المتوسط
موسم سقوط المطر	صيفًا	شتاءً
نوع الحشائش	السافانا	الإستبس

الجبال	الجبال اللاتوائية	الجبال الانكسارية
مثل	أطلس - عمان - زاغروس - كردستان	الحجاز - عسير - مرتفعات اليمن - البحر الأحمر

الأسباب الطبيعية للتصحّر	الأسباب البشرية للتصحّر
زحف الرمال تناقص مخزون المياه الجوفية	التوسع العمراني الرعي الجائر إزالة الغابات

دل على صحة العبارة الآتية:

- ١ حيث تتعرض للرعي الجائر - الصيد الجائر - التلوث البيئي
٢ إقامة مساكن لتوطين الرعاة
- اصدار قوانين تجرم قطع الأشجار العشوائي
- زيادة المساحات الخضراء
- انشاء المدن الذكية

امامك خريطة صماء:

- ١ البحر المتوسط ٢ المحيط الهندي ٣ مضيق جبل طارق
٤ البحر الأحمر ٥ جبال زاغروس ٦ البحر المتوسط
٧ صحراوي ٨ السافانا ٩ هضبة نجد
١٠ جبال البحر الأحمر ١١ جبال أطلس ١٢ مضيق هرمز
١٣ حشائش الإستبس ١٤ دائرة استواء ١٥ الخليج العربي



بنك أسئلة التميز علي مقررات شهر نوفمبر

اختر الاجابة الصحيحة

السؤال الأول

١. أحد الجبال الانكسارية في الوطن العربي هي جبال
 أ. توبقال ب. عسير ج. عمان د. زاجروس
٢. جبال نشأت نتيجة حدوث التواءات في القشرة الأرضية
 أ. جبال الشام ب. البحر الأحمر ج. جبال الحجاز د. جبال أطلس
٣. سهول تسقط عليها الأمطار في فصل الشتاء هي
 أ. البحر الأحمر ب. الخليج العربي ج. البحر المتوسط د. البحر العربي
٤. نشأت جبال زاجروس نتيجة لحدوث
 أ. حركات التوائية ب. ثورات بركانية ج. حركات انكسارية د. تعرية هوائية
٥. تكونت بفعل التعرية المائية.
 أ. الجبال ب. الهضاب ج. الأودية الجافة د. التجمعات الرملية
٦. نشأت نتيجة ترسيب المواد العالقة في مياه الأنهار.
 أ. السهول الساحلية ب. السهول الفيضية ج. الجبال د. الهضاب
٧. تمتد جبال في دولتي مصر والسودان.
 أ. الأحمر ب. أطلس ج. الشام د. كردستان
٨. تمتد هضبة من ساحل البحر الأحمر شرقاً إلى ساحل المحيط الأطلنطي غرباً.
 أ. التبت ب. نجد ج. بادية الشام د. إفريقيا الشمالية
٩. تتميز سهول بتربتها الفقيرة الملحية.
 أ. الخليج العربي ب. البحر المتوسط ج. نهر النيل د. المحيط الأطلنطي
١٠. تقع بحيرة في دولة جيبوتي.
 أ. سيوة ب. فيكتوريا ج. طبرية د. عسل
١١. تقع هضبة بادية الشام في الجزيرة العربية.
 أ. شمال ب. وسط ج. غرب د. جنوب
١٢. يقع وادي الجريير الجاف في دولة
 أ. مصر ب. الجزائر ج. السعودية د. المغرب
١٣. كل مما يلي يقع في الجناح العربي الآسيوي ما عدا
 أ. جبال زاجروس ب. جبال كردستان ج. واحة عين صالح د. وادي الجريير



- تؤثر الشعاب المرجانية سلباً على النقل
- ١٤ أ البحرى ب النهري ج الجوي د البرى
- تقع أعلى نقطة فوق مستوى سطح البحر في الوطن العربي في دولة
- ١٥ أ مصر ب المغرب ج الجزائر د ليبيا
- تتشابه الأهمية للأودية الجافة والواحات في وجود
- ١٦ أ التربة الخصبة ب المياه الجوفية ج البحيرات د الجبال
- توجد جبال
- ١٧ أ كردستان ب طوروس ج الحجاز د أطلس
- يقبل سقوط الأمطار في الوطن العربي على
- ١٨ أ الأودية ب الجبال ج السهول د الصحراء
- تمر دائرة عرض
- ١٩ أ الاستواء ب السرطان ج الجدي د القطبية الشمالية
- يحل فصل الصيف على الوطن العربي عندما تتعامد الشمس على مدار
- ٢٠ أ السرطان ب الجدي ج الاستواء د القطب الجنوبي
- تهب الرياح الباردة على الوطن العربي من قارتي
- ٢١ أ آسيا وأستراليا ب آسيا وأوروبا ج إفريقيا وآسيا د أستراليا وإفريقيا
- تسقط أمطار موسمية صيفية على دولة
- ٢٢ أ لبنان ب سوريا ج تونس د اليمن
- يقبل المدى الحراري اليومي والسنوي بسبب
- ٢٣ أ التيارات البحرية ب منطقة ظل المطر ج المسطحات المائية د كل ما سبق
- تقل الأمطار على
- ٢٤ أ المنحدرات المواجهة للبحر ب منطقة ظل المطر ج السواحل الشمالية د كل ما سبق
- تهب الرياح الحارة من جنوب
- ٢٥ أ أستراليا ب آسيا ج أوروبا د إفريقيا
- يزداد المدى الحراري اليومي والسنوي في مدينة
- ٢٦ أ الإسكندرية ب الرياض ج شرم الشيخ د بورسعيد
- أكثر المدن تعرضاً للمناخ القاري
- ٢٧ أ شرم الشيخ ب المنيا ج القاهرة د بورسعيد
- دول تتعرض لمناخ المسطحات المائية في بعض أجزائها
- ٢٨ أ الأردن ب العراق ج السودان د مصر
- الفرق بين متوسط درجات الحرارة صيفاً وشتاءً
- ٢٩ أ المدى الحراري السنوى ب المدى الحراري ج المناطق الداخلية د كل ما سبق



٣٠. تقل درجة الحرارة كلما ارتفعنا متر عن مستوى البحر تقل درجة الحرارة 1 مئوية.
 150 (أ) 250 (ب) 350 (ج) 450 (د)
٣١. تكون الحرارة معتدلة شتاءً على معظم أجزاء الوطن العربي باستثناء..... تكون شديدة البرودة.
 ساحل البحر الأحمر (أ) ساحل البحر الميت (ب) مناطق الأنهار (ج) بعض الأجزاء الشمالية (د)
٣٢. تقع دولة بأكملها في نطاق الإقليم الصحراوي الحار.
 السعودية (أ) اليمن (ب) مصر (ج) المغرب (د)
٣٣. ترتفع درجة الحرارة الوطن العربي.
 شمال (أ) غرب (ب) جنوب (ج) شرق (د)
٣٤. يسود المناخ المعتدل الأجزاء من الوطن العربي.
 الشمالية (أ) الجنوبية (ب) الشرقية (ج) الغربية (د)
٣٥. تهب الرياح شديدة البرودة على الوطن العربي في فصل.....
 الصيف (أ) الشتاء (ب) الربيع (ج) الخريف (د)
٣٦. تنتمي حشائش السافانا لإقليم
 البحر المتوسط (أ) الصحراوي الحار (ب) المداري الحار (ج) التندرا (د)
٣٧. تقع محمية في الأردن.
 جبل علبه (أ) ضانا (ب) أرز الشوف (ج) وادي العلاقى (د)
٣٨. دولة عربية بالكامل تقع داخل الإقليم الصحراوي الحار
 الجزائر (أ) الكويت (ب) السودان (ج) لبنان (د)
٣٩. يعيش الأسود والزراف في إقليم مناخ
 البحر المتوسط (أ) الصحراوي الحار (ب) المداري الحار (ج) التندرا (د)
٤٠. تنمو نباتات الصبار التي تتحمل الجفاف والحرارة الشديدة في إقليم مناخ
 البحر المتوسط (أ) الصحراوي الحار (ب) المداري الحار (ج) التندرا (د)
٤١. تعد حشائش مراعي طبيعية تربي عليها الأغنام والماعز.
 السافانا (أ) الاستبس (ب) التندرا (ج) كل سبق (د)
٤٢. تقع محمية أرز الشوف بدولة
 سوريا (أ) الأردن (ب) مصر (ج) لبنان (د)
٤٣. كل مما يلي ينتمي لإقليم البحر المتوسط ما عدا
 سوريا (أ) الكويت (ب) لبنان (ج) تونس (د)
٤٤. تتبع السواحل الشمالية لدولة الصومال إقليم مناخ
 البحر المتوسط (أ) الصحراوي الحار (ب) المداري الحار (ج) التندرا (د)



- ٤٥ تسقط الأمطار الموسمية الصيفية على دولة
 (أ) مصر (ب) عمان (ج) اليمن (د) فلسطين
- ٤٦ تنمو أشجار في البحر المتوسط.
 (أ) الماهوجني (ب) المطاط (ج) الزيتون (د) الصمغ
- ٤٧ تعد حشائش حديقة حيوان طبيعية حيث يعيش بها الأسود والزراف.
 (أ) الاستبس (ب) السافانا (ج) التندرا (د) الصمغ
- ٤٨ يتميز إقليم البحر المتوسط بسقوط الأمطار في فصل
 (أ) الشتاء (ب) الخريف (ج) الربيع (د) الصيف
- ٤٩ إحدى الدول العربية تقع أجزاءها الشمالية في إقليم مناخ البحر المتوسط.....
 (أ) موريتانيا (ب) السودان (ج) الجزائر (د) عمان
- ٥٠ تنمو أشجار الصنوبر في إقليم مناخ
 (أ) البحر المتوسط (ب) الاستوائي (ج) الصحراوي الحار (د) المداري
- ٥١ تسقط أمطار الإقليم المداري في فصل
 (أ) الشتاء (ب) الصيف (ج) الخريف (د) الربيع
- ٥٢ يتسم مناخ الجزء الجنوبي الغربي من شبه الجزيرة العربية بـ
 (أ) شتاء بارد ممطر (ب) صيف حار جاف (ج) شتاء معتدل جاف (د) صيف بارد ممطر
- ٥٣ يتسم مناخ مدينة الإسكندرية بمصر بأنه أقل حرارة من
 (أ) الرياض (ب) بيروت (ج) مرسى مطروح (د) الدار البيضاء
- ٥٤ دولة تعاني من أكبر موجة جفاف في وطننا العربي هي
 (أ) الصومال (ب) السودان (ج) مصر (د) الجزائر
- ٥٥ حصلت مدينة على جائزة عاصمة المدن العربية لعام 2022م.
 (أ) رأس محمد (ب) رأس غارب (ج) الخارجة (د) الداخلة
- ٥٦ يعاني نحو مساحة الوطن العربي من مشكلة التصحر.
 (أ) ثلثي (ب) نصف (ج) ربع (د) ثلث
- ٥٧ أعلنت دولة عن إنشاء مدينة نيوم الخضراء.
 (أ) مصر (ب) السعودية (ج) تونس (د) سوريا
- ٥٨ أطلقت مبادأة زراعة 100 مليون شجرة مثمرة.
 (أ) السعودية (ب) المغرب (ج) مصر (د) ليبيا
- ٥٩ كل مما يلي من أسباب التصحر ما عدا
 (أ) التوسع العمراني (ب) تزايد أعداد السكان (ج) الرعي الجائر (د) إزالة الغابات
- ٦٠ من المشكلات التي تؤدي إلى ندرة المياه العذبة
 (أ) التوسع في الزراعة (ب) زحف الرمال (ج) إزالة الغابات (د) التوسع العمراني



- الإفراط في استخدام الأسمدة الكيماوية والمبيدات الحشرية تؤدي إلى حدوث
 ٦١ أ) الجفاف ب) التصحر ج) ندرة المياه العذبة د) كل ما سبق
- حدثت مجاعة لأكثر من مليون شخص في إحدى دول الجناح العربي الإفريقي وهي
 ٦٢ أ) السودان ب) سوريا ج) الصومال د) فلسطين
- أحد السهول الفيضية في الجناح الآسيوي هي سهول نهر
 ٦٣ أ) السوياط ب) الفرات ج) النيل د) الكونغو
- مدينتان متشابهتان في مناخهما الصحراوي الحار
 ٦٤ أ) بيروت والإسكندرية ب) الرياض وأسوان ج) صنعاء والإسكندرية د) الرياض وبيروت
- تسقط الأمطار على جنوب موريتانيا خلال فصل
 ٦٥ أ) الربيع ب) الشتاء ج) الخريف د) الصيف
- أطلقت مبادرة زراعة 450 مليون شجرة.
 ٦٦ أ) مصر ب) سوريا ج) السعودية د) تونس
- قام أبناء مدينة بمصر بإنشاء مشروع إنتاج الطاقة الكهربائية من الطاقة الشمسية وتصديرها للاتحاد الأوروبي.
 ٦٧ أ) الداخلة ب) الخارجة ج) سيوة د) أسوان
- " تدهور الأرض وتناقص قدرتها على الإنتاج " تشير العبارة لتعريف
 ٦٨ أ) الجفاف ب) التصحر ج) الفيضان د) السيول
- جبال أطلس نتجت عن
 ٦٩ أ) حركات الزلازل ب) الثورات البركانية ج) حركات التوائية د) حركات انكسارية

ضع علامة صح أو علامة خطأ أمام العبارات التالية

السؤال الثاني

- ١ تشكلت جبال عمان نتيجة لحركات التوائية. ()
- ٢ تعد الجبال أكثر الظواهر التضاريسية انتشاراً في الوطن العربي. ()
- ٣ ساعد تنوع مظاهر السطح على تنوع الأنشطة الاقتصادية. ()
- ٤ تعد هضبة نجد من هضاب الجناح العربي الآسيوي ()
- ٥ يقع بحر الرمال العظيم بين الجزائر وليبيا في الجناح العربي الإفريقي. ()
- ٦ تكونت بعض الأودية الجافة نتيجة لحركات باطنية تعرضت لها الأرض. ()
- ٧ تتميز سهول البحر الأحمر بأنها كثرة السكان. ()
- ٨ يسهل انتقال السكان بين سهول المحيط الأطلسي. ()



- ٩) تقوم الزراعة في الواحات بالوطن العربي اعتماداً على مياه الأمطار.
- ١٠) تتشابه سهول نهري دجلة والنيل في سبب تكوينهما.
- ١١) تستخرج المعادن ومصادر الطاقة من المناطق الصحراوية في الوطن العربي.
- ١٢) تكونت السهول الساحلية عن طريق ترسيب المواد العالقة في المياه.
- ١٣) تمتد جبال أطلس في ثلاث دول عربية من الجناح العربي الإفريقي.
- ١٤) من الأهمية الاقتصادية لجبال لبنان وجود سياحة التسلق و التزلج بها.
- ١٥) يعد البحر الميت أدنى نقطة في سطح الوطن العربي فقط وليس العالم كله.
- ١٦) يتركز بعض السكان في هضاب الجناح العربي الإفريقي.
- ١٧) أثرت الحركات الانكسارية في الساحل الشرقي والغربي للبحر الأحمر.
- ١٨) تستخدم الواحات كطرق للمواصلات في الصحاري.
- ١٩) تؤثر التغيرات المناخية على الأمن الغذائي و المائي لسكان الوطن العربي.
- ٢٠) موسم المطر الأساسي في الوطن العربي يكون صيفاً باستثناء بعض المناطق.
- ٢١) ترتفع درجة حرارة الأودية عن درجة حرارة الجبال.
- ٢٢) تتأثر بعض الدول العربية بالرياح القادمة من أوروبا وآسيا صيفاً.
- ٢٣) لا بد من تخطيط ممر الطائرات مع اتجاه الرياح السائدة.
- ٢٤) تم إنشاء مصنع للهيدروجين الأخضر في مصر للمحافظة على البيئة.
- ٢٥) يؤثر توزيع اليابس والماء على مناخ الوطن العربي.
- ٢٦) تؤثر التيارات البحرية الدفيئة على المناطق الداخلية للوطن العربي.
- ٢٧) يتشابه مناخ مدينة الرياض مع مناخ محافظة المنيا في مصر.
- ٢٨) يسود المناخ المعتدل معظم أجزاء الوطن العربي صيفاً.
- ٢٩) تسقط الأمطار بغزارة على مرتفعات اليمن صيفاً.
- ٣٠) يقع الوطن العربي بين دائرتي عرض 2 جنوباً : 37.30 شمالاً
- ٣١) تؤثر المسطحات المائية على المدى الحراري اليومي والسنوي.
- ٣٢) ترتفع درجة حرارة الوطن العربي كلما اتجهنا شمال دائرة الاستواء.
- ٣٣) تسقط الأمطار بغزارة على منحدرات الجبال المواجهة للرياح الجافة.
- ٣٤) يؤدي سوء الأحوال المناخية إلى تأجيل أو إلغاء رحلات الطيران.
- ٣٥) لا يتأثر مناخ الوطن العربي بالموقع الفلكي.
- ٣٦) يقل تأثير المسطحات المائية بالوطن العربي على المناخ بسبب ضيق مساحتها.
- ٣٧) تنمو أشجار الصنوبر في شمال الوطن العربي.



- () ٣٨ تنتمي محمية أرز الشوف للإقليم المداري الحار.
- () ٣٩ يتم الاحتفال باليوم العالمي للأحياء البرية يوم 3 مارس من كل عام.
- () ٤٠ تعيش الأسود والزراف في حشائش الاستبس.
- () ٤١ يقل المدى الحراري في معظم الصحاري الكبرى بالوطن العربي.
- () ٤٢ تساعد المحميات الطبيعية في الحفاظ على الحياة البرية
- () ٤٣ تنتشر حشائش الاستبس في الإقليم الصحراوي الحار.
- () ٤٤ تنمو حشائش السافانا في الإقليم المداري الحار.
- () ٤٥ تنوعت الحياة البرية في الوطن العربي بسبب تنوع الأقاليم المناخية.
- () ٤٦ يمتد الإقليم الصحراوي الحار بين دائرتي عرض 30 شمالاً : 15 شمالاً بالوطن العربي.
- () ٤٧ تقع مدينة المنيا ضمن إقليم البحر المتوسط.
- () ٤٨ يشغل الإقليم الصحراوي الحار معظم مساحة الوطن العربي.
- () ٤٩ تنمو النباتات التي تتحمل الجفاف في الإقليم المداري الحار.
- () ٥٠ تربي الماعز والأغنام في إقليم البحر المتوسط.
- () ٥١ يمكن أن تصل درجة الحرارة إلى ما دون الصفر المئوي في بعض مناطق الإقليم الصحراوي الحار
- () ٥٢ تنتمي معظم شبه الجزيرة العربية للإقليم الصحراوي الحار.
- () ٥٣ اتخذت معظم دول الوطن العربي إجراءات مثل سن القوانين لحماية المحميات الطبيعية.
- () ٥٤ تقع محمية جبل علبة في جنوب الوطن العربي.
- () ٥٥ الكثرة في استخدام مصادر الطاقة النظيفة يساهم في حل المشكلات البيئية.
- () ٥٦ تناقص كمية المطر لمدة أسبوع يعرف بالجفاف.
- () ٥٧ استخدام الأسمدة الكيماوية والمبيدات الحشرية يؤدي إلى حدوث مشكلة ندرة المياه العذبة.
- () ٥٨ يساهم القطع العشوائي للأشجار في حل مشكلة التصحر.
- () ٥٩ أكبر موجة جفاف تعرضت لها إحدى دول الجناح العربي الإفريقي.
- () ٦٠ التوسع المستمر في الزراعة يؤدي إلى حدوث مشكلة الجفاف.
- () ٦١ تم إنشاء المدن الذكية بهدف تقليل انبعاثات الغازات الدفيئة.
- () ٦٢ تحتفل الدول العربية باليوم العربي للبيئة في 14 أكتوبر من كل عام.
- () ٦٣ فازت مدينة الداخلة بمحافظة الوادي الجديد بلقب عاصمة الدول العربية لعام 2022م.
- () ٦٤ تتناقص قدرة الأرض على الإنتاج بسبب استخدام طرق الري الحديثة.
- () ٦٥ تعمل الدول العربية على حل مشكلات البيئة بإقامة مساكن مستقرة للسياح
- () ٦٦ يتميز الوطن العربي بسقوط كميات أمطار كبيرة تسمح بزراعة مساحات واسعة.



- ٦٧ قامت الدول العربية بإصدار قوانين تجرم القطع العشوائي للأشجار لمواجهة مشكلات البيئة. ()
- ٦٨ من أسباب ندرة المياه العذبة النمو المتزايد لأعداد السكان. ()
- ٦٩ أكبر الأقاليم المناخية مساحة في الوطن العربي هو الإقليم المداري. ()
- ٧٠ تنخفض درجات الحرارة في المناطق الداخلية بالوطن العربي. ()

أكمل العبارات التالية بالاجابة المناسبة مما بين القوسين

السؤال الثالث

١

(الرياح - البحر الميت - الجزائر - السعودية - الانكسارية - اليمن - الالتوائية)

تقع واحة عين صالح في دولة

يقع وادي الجيرير في دولة

أدنى نقطة في الوطن العربي هي

تعتبر جبال الحجاز من أمثلة الجبال

تكونت التجمعات الرملية بفعل

٢

(أوروبا - الصحراوي الحار - الهضاب - المعتدل " البحر المتوسط " - موسمية)

أكبر الظواهر التضاريسية مساحة في الوطن العربي هي

يسود معظم أجزاء الوطن العربي المناخ

يسود الأجزاء الشمالية من الوطن العربي المناخ

الأمطار التي تسقط صيفا على دولة الصومال تسمى أمطار

يقترّب الوطن العربي من قارة

٣

(الإقليم الصحراوي - الرعي الجائر والصيد الجائر - ثلاث - الشتاء - أربعة - المداري الحار)

إقليم مناخي يتميز بشتاء معتدل جاف وصيف حار ممطر هو

تتعرض المحميات الطبيعية للعديد من المخاطر البشرية منها

يتميز الإقليم الصحراوي باعتدال المناخ نهارا في فصل

يسود الوطن العربي أقاليم مناخية كبرى.

يتسم مناخ بندرة الأمطار طوال السنة والتي قد تسقط على هيئة سيول.



٤

- (مصر - الصومال - ثلثي - السعودية - ثلث - الحياة النباتية والحيوانية - البحرين)
 تعاني من أكبر موجة جفاف والتي أدت إلى نقص الغذاء وحدوث مجاعات.
 يعاني مساحة الوطن العربي من مشكلة التصحر .
 أطلقت مبادرة زراعة 450 مليون شجرة.
 تؤدي المشكلات البيئية إلى تدمير في كثير مناطق الوطن العربي.
 عقد مؤتمر المناخ للأمم المتحدة cop27 عام 2022م في دولة

 ١
 ٢
 ٣
 ٤
 ٥

اكتب ما تشير اليه العبارات التالية

السؤال الرابع

- () جبال نشأت نتيجة لحركات باطنية تعرضت لها الأرض.
 () جبال نشأت نتيجة حدوث انكسار في القشرة الأرضية.
 () سهول كونتها الأنهار نتيجة ترسيب المواد العالقة بمياهها.
 () سهول فيضية تنتشر بدولة العراق.
 () أكبر ظاهرة تضاريسية في الوطن العربي.
 () عوامل باطنية أدت إلى نشأت جبال أطلس.
 () هضبة تقع في شمال شبه جزيرة العربية.
 () هضبة تقع جنوب شبه الجزيرة العربية.
 () حركة مياه البحار والمحيطات
 () المناطق البعيدة عن المسطحات المائية.
 () تيارات بحرية تعمل على رفع درجة حرارة السواحل التي تمر بها.
 () تيارات بحرية تعمل على خفض درجة حرارة السواحل التي تمر بها.
 () الفرق بين متوسط درجات الحرارة ليلاً ونهاراً.
 () الفرق بين متوسط درجات الحرارة صيفاً وشتاءً.
 () منطقة جغرافية من سطح الأرض تتسم بخصائص مناخية تميزها عن غيرها.
 () إقليم مناخي يشغل معظم مساحة الوطن العربي.
 () إقليم مناخي يسود شمال دول المغرب العربي وشمال مصر وليبيا.
 () إقليم مناخي يمتد من الخليج العربي شرقاً حتى ساحل موريتانيا غرباً.
 () إقليم مناخي يسود دولة اليمن بشبه الجزيرة العربية.
 () نقص كمية الأمطار في بعض السنوات بما لا يسمح بالزراعة ونمو الحشائش
 () تدهور الأراضي الزراعية وتناقص قدرتها على الإنتاج.

 ١
 ٢
 ٣
 ٤
 ٥
 ٦
 ٧
 ٨
 ٩
 ١٠
 ١١
 ١٢
 ١٣
 ١٤
 ١٥
 ١٦
 ١٧
 ١٨
 ١٩
 ٢٠
 ٢١


- () ٢٢ مدينة عقد بها مؤتمر المناخ للأمم المتحدة cop27 عام 2022م.
- () ٢٣ مشكلة بيئية يعاني منها ثلثى مساحة الوطن العربي.
- () ٢٤ دولة عربية تعاني من أكبر موجة جفاف وحدث بها مجاعة لأكثر من مليون شخص .
- () ٢٥ دولة أطلقت مبادرة زراعة 450 مليون شجرة وأعلنت عن إنشاء مدينة نيوم الخضراء.
- () ٢٦ محافظة مصرية قام أبنائها بتنفيذ عدد من المشروعات الخضراء للتغلب على الآثار السلبية الناتجة عن التغيرات المناخية.
- () ٢٧ مدينة مصرية حاصلة على لقب عاصمة المدن العربية لعام 2022م
- () ٢٨ دولة أنشأت مشروع صناعة الأخشاب من مخلفات النخيل لأول مرة في العالم.
- () ٢٩ مشكلة تحدث نتيجة لزيادة استهلاك المياه.
- () ٣٠ أعلى قمة جبلية في الوطن العربي.
- () ٣١ حركات باطنية أدت إلى تكوين جبال البحر الأحمر.
- () ٣٢ الجبال الإنكسارية التي تسقط عليها الأمطار الموسمية.

اجب عن الاسئلة الآتية

السؤال الخامس

١ بم تفسر : نشأت جبال أطلس وعمان وزاجروس ؟

٢ ما النتائج المترتبة على : حدوث الحركات الانكسارية في أرض الوطن العربي.

٣ دلل على صحة العبارة التالية : تتنوع السهول في الوطن العربي.

٤ ماذا يحدث إذا : لم يتعرض الوطن العربي لحركات التوائية ؟

٥ ما وجه التشابه والاختلاف بين جبال البحر الأحمر وجبال أطلس ؟

٦ ما السبب في قلة الموانئ على سواحل البحر الأحمر ؟

٧ ما الأثر الناتج على وجود المياه الجوفية في الواحات بالوطن العربي ؟



٨ ما الرابط بين الأودية الجافة والواحات في الوطن العربي ؟

.....

٩ ما النتائج المترتبة على الموقع الفلكي للوطن العربي ؟
ما النتائج المترتبة على مرور دائرة الاستواء بجنوب الوطن العربي ؟

.....

١٠ بم تفسر : يوجد تباين في درجات الحرارة والأمطار بين دول الوطن العربي ؟

.....

١١ ما العلاقة بين درجة الحرارة ودائرة الاستواء ؟

.....

١٢ دلل تؤثر مظاهر السطح على المناخ الوطن العربي.

.....

١٣ بم تفسر يقل تأثير المسطحات المائية في الوطن العربي بشكل عام ؟

.....

١٤ ماذا يحدث إذا لم تتعامد الشمس على مدار السرطان بالنسبة للوطن العربي ؟

.....

١٥ دلل تسقط الأمطار الموسمية الصيفية على بعض مناطق الوطن العربي صيفاً ؟

.....

١٦ ما النتائج المترتبة على التغيرات المناخية للوطن العربي ؟

.....

١٧ بم تفسر اتجهت الدول العربية إلى استضافة المؤتمرات الخاصة بالتغيرات المناخية وتبني المشروعات الخضراء ؟

.....

١٨ ماذا يحدث إذا سقطت أمطار بغزارة صيفاً على الإقليم الصحراوي الحار.

.....

١٩ بم تفسر أهمية حشائش الاسبتس بالنسبة للثروة الحيوانية.

.....

٢٠ دلل على صحة العبارات التالية : ساعدت مساحة الوطن العربي على اختلاف الظروف المناخية.

.....

٢١ ما النتائج المترتبة على وجود تهديدات تواجه المحميات الطبيعية في الوطن العربي .

.....



٢٢ بم تفسر أهمية المحميات الطبيعية .

.....

٢٣ ما العلاقة بين الأنشطة البشرية والحياة البرية ؟

.....

٢٤ ما النتائج المترتبة على تعرض الصومال لأكبر موجة جفاف .

.....

٢٥ بم تفسر : تعاني معظم الدول العربية من مشكلة ندرة المياه العذبة ؟

.....

٢٦ بم تفسر : تدمير الحياة النباتية والحيوانية في كثير من مناطق الوطن العربي.

.....

٢٧ دلل تعلم الدول العربية على حل المشكلات البيئية .

.....

٢٨ ما العلاقة بين مشكلة التغير المناخي وكل من الجفاف والتصحر ؟

.....

٢٩ ما النتائج المترتبة على زحف الكثبان الرملية وتناقص مخزون المياه الجوفية والرعي الجائر ؟

.....

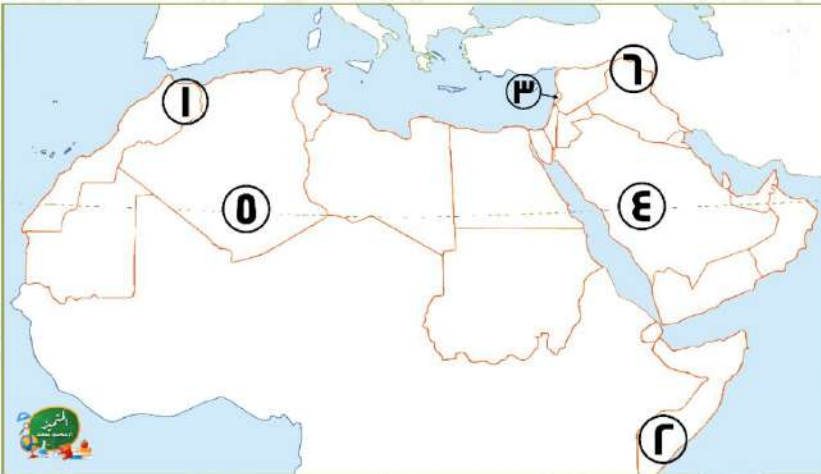
٣٠ ما العلاقة بين جهود الدول العربية والمساحات الخضراء ؟

.....

لاحظ الخريطة ثم أجب

السؤال السادس

١



١ جبال نشأت نتيجة لحركات

.....

٢ تسقط علي تلك المنطقة أمطار

.....

٣ دولة تقع بها محمية أرز الشوف

.....

٤ دولة أعلنت عن إنشاء مدينة

.....

نيوم الخضراء

.....

٥ واحة

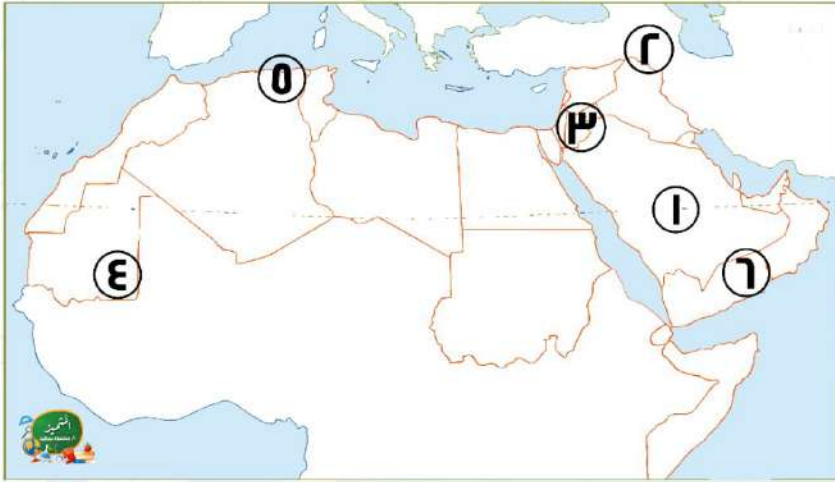
.....

٦ إقليم مناخ

.....

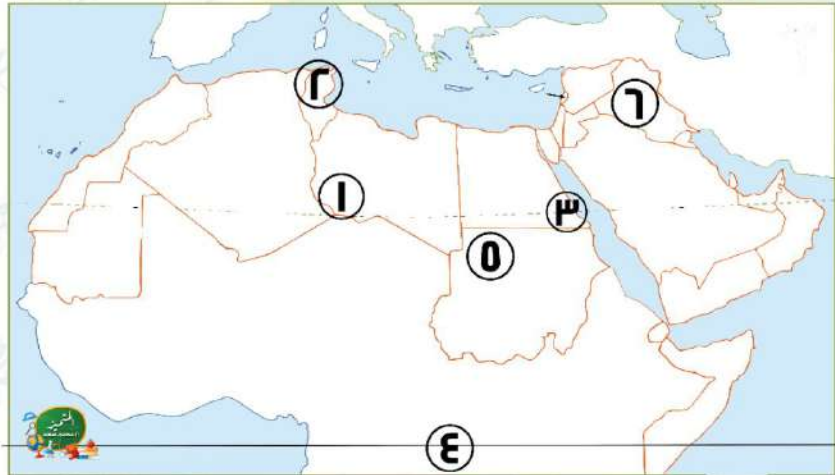


٢



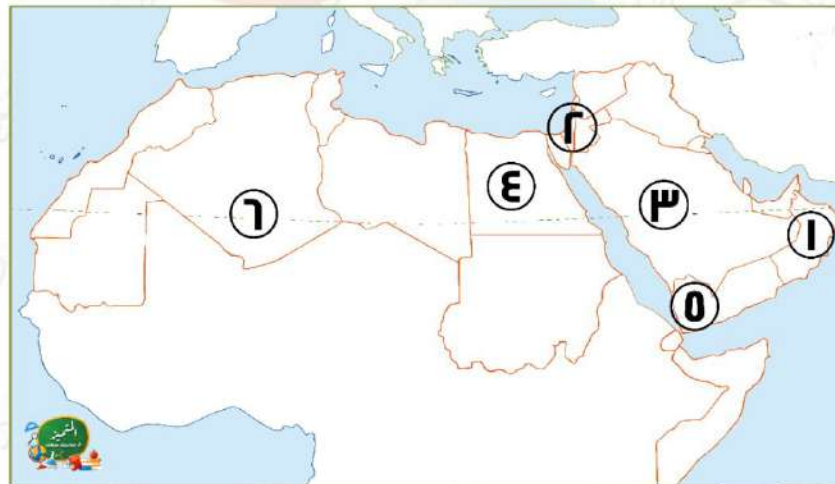
- أحد الأودية الجافة ١
منطقة جبال ٢
دولة تقع بها محمية ضانا ٣
إقليم مناخ ٤
سهول ٥
هضبة ٦

٣



- أهم هضاب إفريقيا ١
منطقة تسقط عليها أمطار ٢
محمية ٣
دائرة عرض ٤
إقليم مناخ ٥
سهول نهري ٦

٤



- جبال ١
مناخ ٢
هضبة ٣
دولة قامت بزراعة 100 مليون شجرة ٤
منطقة تسقط عليها أمطار ٥
إقليم مناخي يتميز بندرة أمطاره طوال العام ٦

تم بحمد الله ،

بِسْمِ اللَّهِ الرَّحْمَنِ الرَّحِيمِ " إِنَّ الَّذِينَ آمَنُوا وَعَمِلُوا الصَّالِحَاتِ إِنَّا لَا نُضِيعُ أَجْرَ مَنْ أَحْسَنَ عَمَلًا " صدق الله العظيم





بنك أسئلة التميز علي مقررات شهر نوفمبر

اختر الاجابة الصحيحة

السؤال الأول

١. أحد الجبال الانكسارية في الوطن العربي هي جبال
 ا. توبقال ب. عسير ج. عمان د. زاجروس
٢. جبال نشأت نتيجة حدوث التواءات في القشرة الأرضية
 ا. جبال الشام ب. البحر الأحمر ج. جبال الحجاز د. جبال أطلس
٣. سهول تسقط عليها الأمطار في فصل الشتاء هي
 ا. البحر الأحمر ب. الخليج العربي ج. البحر المتوسط د. البحر العربي
٤. نشأت جبال زاجروس نتيجة لحدوث
 ا. حركات التوائية ب. ثورات بركانية ج. حركات انكسارية د. تعرية هوائية
٥. تكونت بفعل التعرية المائية.
 ا. الجبال ب. الهضاب ج. الأودية الجافة د. التجمعات الرملية
٦. نشأت نتيجة ترسيب المواد العالقة في مياه الأنهار.
 ا. السهول الساحلية ب. السهول الفيضية ج. الجبال د. الهضاب
٧. تمتد جبال في دولتي مصر والسودان.
 ا. الأحمر ب. أطلس ج. الشام د. كردستان
٨. تمتد هضبة من ساحل البحر الأحمر شرقاً إلى ساحل المحيط الأطلنطي غرباً.
 ا. التبت ب. نجد ج. بادية الشام د. إفريقيا الشمالية
٩. تتميز سهول بتربتها الفقيرة الملحية.
 ا. الخليج العربي ب. البحر المتوسط ج. نهر النيل د. المحيط الأطلنطي
١٠. تقع بحيرة في دولة جيبوتي.
 ا. سيوة ب. فيكتوريا ج. طبرية د. عسل
١١. تقع هضبة بادية الشام في الجزيرة العربية.
 ا. شمال ب. وسط ج. غرب د. جنوب
١٢. يقع وادي الجريير الجاف في دولة
 ا. مصر ب. الجزائر ج. السعودية د. المغرب
١٣. كل مما يلي يقع في الجناح العربي الآسيوي ما عدا
 ا. جبال زاجروس ب. جبال كردستان ج. واحة عين صالح د. وادي الجريير



- ١٤ تؤثر الشعاب المرجانية سلباً على النقل
 أ **البحري** ب النهري ج الجوي د البري
- ١٥ تقع أعلى نقطة فوق مستوى سطح البحر في الوطن العربي في دولة
 أ مصر ب **المغرب** ج الجزائر د ليبيا
- ١٦ تتشابه الأهمية للأودية الجافة والواحات في وجود بهما.
 أ التربة الخصبة ب **المياه الجوفية** ج البحيرات د الجبال
- ١٧ توجد جبال على الساحل الشرقي للبحر الأحمر .
 أ كردستان ب طوروس ج **الحجاز** د أطلس
- ١٨ يقل سقوط الأمطار في الوطن العربي على
 أ الأودية ب الجبال ج السهول د **الصحراء**
- ١٩ تمر دائرة عرض بجنوب الوطن العربي.
 أ **الاستواء** ب السرطان ج الجدي د القطبية الشمالية
- ٢٠ يحل فصل الصيف على الوطن العربي عندما تتعامد الشمس على مدار
 أ **السرطان** ب الجدي ج الاستواء د القطب الجنوبي
- ٢١ تهب الرياح الباردة على الوطن العربي من قارتي شتاءً.
 أ آسيا وأستراليا ب **آسيا وأوروبا** ج إفريقيا وآسيا د أستراليا وإفريقيا
- ٢٢ تسقط أمطار موسمية صيفية على دولة
 أ لبنان ب سوريا ج تونس د **اليمن**
- ٢٣ يقل المدى الحراري اليومي والسنوي بسبب
 أ التيارات البحرية ب منطقة ظل المطر ج **المسطحات المائية** د كل ما سبق
- ٢٤ تقل الأمطار على
 أ المنحدرات المواجهة ب **منطقة ظل المطر** ج السواحل الشمالية د كل ما سبق
- ٢٥ تهب الرياح الحارة من جنوب صيفاً على الوطن العربي.
 أ أستراليا ب **آسيا** ج أوروبا د إفريقيا
- ٢٦ يزداد المدى الحراري اليومي والسنوي في مدينة
 أ الإسكندرية ب **الرياض** ج شرم الشيخ د بورسعيد
- ٢٧ أكثر المدن تعرضاً للمناخ القاري
 أ شرم الشيخ ب **المنيا** ج القاهرة د بورسعيد
- ٢٨ دول تتعرض لمناخ المسطحات المائية في بعض أجزائها
 أ الأردن ب العراق ج السودان د **مصر**
- ٢٩ الفرق بين متوسط درجات الحرارة صيفاً وشتاءً
 أ المدى الحراري ب **المدى الحراري السنوي** ج المناطق الداخلية د كل ما سبق



تقل درجة الحرارة كلما ارتفعنا متر عن مستوى البحر تقل درجة الحرارة 1 مئوية.

150 أ 250 ب 350 ج 450 د

تكون الحرارة معتدلة شتاءً على معظم أجزاء الوطن العربي باستثناء تكون شديدة البرودة.

ساحل البحر الأحمر أ ساحل البحر الميت ب مناطق الأنهار ج بعض الأجزاء الشمالية د

تقع دولة بأكملها في نطاق الإقليم الصحراوي الحار.

السعودية أ اليمن ب مصر ج المغرب د

ترتفع درجة الحرارة الوطن العربي.

شمال أ غرب ب جنوب ج شرق د

يسود المناخ المعتدل الأجزاء من الوطن العربي.

الشمالية أ الجنوبية ب الشرقية ج الغربية د

تهب الرياح شديدة البرودة على الوطن العربي في فصل

الصيف أ الشتاء ب الربيع ج الخريف د

تنتمي حشائش السافانا لإقليم

البحر المتوسط أ الصحراوي الحار ب المداري الحار ج التندرا د

تقع محمية في الأردن.

جبل علة أ ضانا ب أرز الشوف ج وادي العلاقي د

دولة عربية بالكامل تقع داخل الإقليم الصحراوي الحار

الجزائر أ الكويت ب السودان ج لبنان د

يعيش الأسود والزراف في إقليم مناخ

البحر المتوسط أ الصحراوي الحار ب المداري الحار ج التندرا د

تنمو نباتات الصبار التي تتحمل الجفاف والحرارة الشديدة في إقليم مناخ

البحر المتوسط أ الصحراوي الحار ب المداري الحار ج التندرا د

تعد حشائش مراعي طبيعية تربي عليها الأغنام والماعز.

السافانا أ الاستبس ب التندرا ج كل سبق د

تقع محمية أرز الشوف بدولة

سوريا أ الأردن ب مصر ج لبنان د

كل مما يلي ينتمي لإقليم البحر المتوسط ما عدا

سوريا أ الكويت ب لبنان ج تونس د

تتبع السواحل الشمالية لدولة الصومال إقليم مناخ

البحر المتوسط أ الصحراوي الحار ب المداري الحار ج التندرا د



- ٤٥ تسقط الأمطار الموسمية الصيفية على دولة
 (أ) مصر (ب) عمان (ج) اليمن (د) فلسطين
- ٤٦ تنمو أشجار في البحر المتوسط.
 (أ) الماهوجني (ب) المطاط (ج) الزيتون (د) الصمغ
- ٤٧ تعد حشائش حديقة حيوان طبيعية حيث يعيش بها الأسود والزراف.
 (أ) الاستبس (ب) السافانا (ج) التندرا (د) الصمغ
- ٤٨ يتميز إقليم البحر المتوسط بسقوط الأمطار في فصل
 (أ) الشتاء (ب) الخريف (ج) الربيع (د) الصيف
- ٤٩ إحدى الدول العربية تقع أجزاءها الشمالية في إقليم مناخ البحر المتوسط.....
 (أ) موريتانيا (ب) السودان (ج) الجزائر (د) عمان
- ٥٠ تنمو أشجار الصنوبر في إقليم مناخ
 (أ) البحر المتوسط (ب) الاستوائي (ج) الصحراوي الحار (د) المداري
- ٥١ تسقط أمطار الإقليم المداري في فصل
 (أ) الشتاء (ب) الصيف (ج) الخريف (د) الربيع
- ٥٢ يتسم مناخ الجزء الجنوبي الغربي من شبه الجزيرة العربية —
 (أ) شتاء بارد ممطر (ب) صيف حار جاف (ج) شتاء معتدل جاف (د) صيف بارد ممطر
- ٥٣ يتسم مناخ مدينة الإسكندرية بمصر بأنه أقل حرارة من
 (أ) الرياض (ب) بيروت (ج) مرسى مطروح (د) الدار البيضاء
- ٥٤ دولة تعاني من أكبر موجة جفاف في وطننا العربي هي
 (أ) الصومال (ب) السودان (ج) مصر (د) الجزائر
- ٥٥ حصلت مدينة على جائزة عاصمة المدن العربية لعام 2022م.
 (أ) رأس محمد (ب) رأس غارب (ج) الخارجة (د) الداخلة
- ٥٦ يعاني نحو مساحة الوطن العربي من مشكلة التصحر.
 (أ) ثلثي (ب) نصف (ج) ربع (د) ثلث
- ٥٧ أعلنت دولة عن إنشاء مدينة نيوم الخضراء.
 (أ) مصر (ب) السعودية (ج) تونس (د) سوريا
- ٥٨ أطلقت مبادأة زراعة 100 مليون شجرة مثمرة.
 (أ) السعودية (ب) المغرب (ج) مصر (د) ليبيا
- ٥٩ كل مما يلي من أسباب التصحر ما عدا
 (أ) التوسع العمراني (ب) تزايد أعداد السكان (ج) الرعي الجائر (د) إزالة الغابات
- ٦٠ من المشكلات التي تؤدي إلى ندرة المياه العذبة
 (أ) التوسع في الزراعة (ب) زحف الرمال (ج) إزالة الغابات (د) التوسع العمراني



- الإفراط في استخدام الأسمدة الكيماوية والمبيدات الحشرية تؤدي إلى حدوث
 ٦١ أ) الجفاف ب) التصحر ج) ندرة المياه العذبة د) كل ما سبق
- حدثت مجاعة لأكثر من مليون شخص في إحدى دول الجناح العربي الإفريقي وهي
 ٦٢ أ) السودان ب) سوريا ج) الصومال د) فلسطين
- أحد السهول الفيضية في الجناح الآسيوي هي سهول نهر
 ٦٣ أ) السوياط ب) الفرات ج) النيل د) الكونغو
- مدينتان متشابهتان في مناخهما الصحراوي الحار
 ٦٤ أ) بيروت والإسكندرية ب) الرياض وأسوان ج) صنعاء والإسكندرية د) الرياض وبيروت
- تسقط الأمطار على جنوب موريتانيا خلال فصل
 ٦٥ أ) الربيع ب) الشتاء ج) الخريف د) الصيف
- أطلقت مبادرة زراعة 450 مليون شجرة.
 ٦٦ أ) مصر ب) سوريا ج) السعودية د) تونس
- قام أبناء مدينة بمصر بإنشاء مشروع إنتاج الطاقة الكهربائية من الطاقة الشمسية وتصديرها للاتحاد الأوروبي.
 ٦٧ أ) الداخلة ب) الخارجة ج) سيوة د) أسوان
- " تدهور الأرض وتناقص قدرتها على الإنتاج " تشير العبارة لتعريف
 ٦٨ أ) الجفاف ب) التصحر ج) الفيضان د) السيول
- جبال أطلس نتجت عن
 ٦٩ أ) حركات الزلازل ب) الثورات البركانية ج) حركات التوائية د) حركات انكسارية

ضع علامة صح أو علامة خطأ أمام العبارات التالية

السؤال الثاني

- ١ تشكلت جبال عمان نتيجة لحركات التوائية. ✓
- ٢ تعد الجبال أكثر الظواهر التضاريسية انتشاراً في الوطن العربي. ✗
- ٣ ساعد تنوع مظاهر السطح على تنوع الأنشطة الاقتصادية. ✓
- ٤ تعد هضبة نجد من هضاب الجناح العربي الآسيوي. ✓
- ٥ يقع بحر الرمال العظيم بين الجزائر وليبيا في الجناح العربي الإفريقي. ✗
- ٦ تكونت بعض الأودية الجافة نتيجة لحركات باطنية تعرضت لها الأرض. ✗
- ٧ تتميز سهول البحر الأحمر بأنها كثيرة السكان. ✗
- ٨ يسهل انتقال السكان بين سهول المحيط الأطلسي. ✓



- ٩ تقوم الزراعة في الواحات بالوطن العربي اعتماداً على مياه الأمطار.
- ١٠ تتشابه سهول نهري دجلة والنيل في سبب تكوينهما.
- ١١ تستخرج المعادن ومصادر الطاقة من المناطق الصحراوية في الوطن العربي.
- ١٢ تكونت السهول الساحلية عن طريق ترسيب المواد العالقة في المياه.
- ١٣ تمتد جبال أطلس في ثلاث دول عربية من الجناح العربي الإفريقي.
- ١٤ من الأهمية الاقتصادية لجبال لبنان وجود سياحة التسلق و التزلج بها.
- ١٥ يعد البحر الميت أدنى نقطة في سطح الوطن العربي فقط وليس العالم كله.
- ١٦ يتركز بعض السكان في هضاب الجناح العربي الإفريقي.
- ١٧ أثرت الحركات الانكسارية في الساحل الشرقي والغربي للبحر الأحمر.
- ١٨ تستخدم الواحات كطرق للمواصلات في الصحاري.
- ١٩ تؤثر التغيرات المناخية على الأمن الغذائي و المائي لسكان الوطن العربي.
- ٢٠ موسم المطر الأساسي في الوطن العربي يكون صيفاً باستثناء بعض المناطق.
- ٢١ ترتفع درجة حرارة الأودية عن درجة حرارة الجبال.
- ٢٢ تتأثر بعض الدول العربية بالرياح القادمة من أوروبا وآسيا صيفاً.
- ٢٣ لا بد من تخطيط ممر الطائرات مع اتجاه الرياح السائدة.
- ٢٤ تم إنشاء مصنع للهيدروجين الأخضر في مصر للحفاظ على البيئة.
- ٢٥ يؤثر توزيع اليابس والماء على مناخ الوطن العربي.
- ٢٦ تؤثر التيارات البحرية الدفيئة على المناطق الداخلية للوطن العربي.
- ٢٧ يتشابه مناخ مدينة الرياض مع مناخ محافظة المنيا في مصر.
- ٢٨ يسود المناخ المعتدل معظم أجزاء الوطن العربي صيفاً.
- ٢٩ تسقط الأمطار بغزارة على مرتفعات اليمن صيفاً.
- ٣٠ يقع الوطن العربي بين دائرتي عرض 2 جنوباً : 37.30 شمالاً
- ٣١ تؤثر المسطحات المائية على المدى الحراري اليومي والسنوي.
- ٣٢ ترتفع درجة حرارة الوطن العربي كلما اتجهنا شمال دائرة الاستواء.
- ٣٣ تسقط الأمطار بغزارة على منحدرات الجبال المواجهة للرياح الجافة.
- ٣٤ يؤدي سوء الأحوال المناخية إلى تأجيل أو إلغاء رحلات الطيران.
- ٣٥ لا يتأثر مناخ الوطن العربي بالموقع الفلكي.
- ٣٦ يقل تأثير المسطحات المائية بالوطن العربي على المناخ بسبب ضيق مساحتها.
- ٣٧ تنمو أشجار الصنوبر في شمال الوطن العربي.



- ٣٨ تنتمي محمية أرز الشوف للإقليم المداري الحار.
- ٣٩ يتم الاحتفال باليوم العالمي للأحياء البرية يوم 3 مارس من كل عام.
- ٤٠ تعيش الأسود والزراف في حشائش الاستبس.
- ٤١ يقل المدى الحراري في معظم الصحاري الكبرى بالوطن العربي.
- ٤٢ تساعد المحميات الطبيعية في الحفاظ على الحياة البرية
- ٤٣ تنتشر حشائش الاستبس في الإقليم الصحراوي الحار.
- ٤٤ تنمو حشائش السافانا في الإقليم المداري الحار.
- ٤٥ تنوعت الحياة البرية في الوطن العربي بسبب تنوع الأقاليم المناخية.
- ٤٦ يمتد الإقليم الصحراوي الحار بين دائرتي عرض 30 شمالاً : 15 شمالاً بالوطن العربي.
- ٤٧ تقع مدينة المنيا ضمن إقليم البحر المتوسط.
- ٤٨ يشغل الإقليم الصحراوي الحار معظم مساحة الوطن العربي.
- ٤٩ تنمو النباتات التي تتحمل الجفاف في الإقليم المداري الحار.
- ٥٠ تربي الماعز والأغنام في إقليم البحر المتوسط.
- ٥١ يمكن أن تصل درجة الحرارة إلى ما دون الصفر المئوي في بعض مناطق الإقليم الصحراوي الحار
- ٥٢ تنتمي معظم شبه الجزيرة العربية للإقليم الصحراوي الحار.
- ٥٣ اتخذت معظم دول الوطن العربي إجراءات مثل سن القوانين لحماية المحميات الطبيعية.
- ٥٤ تقع محمية جبل علبة في جنوب الوطن العربي.
- ٥٥ الكثرة في استخدام مصادر الطاقة النظيفة يساهم في حل المشكلات البيئية.
- ٥٦ تناقص كمية المطر لمدة أسبوع يعرف بالجفاف.
- ٥٧ استخدام الأسمدة الكيماوية والمبيدات الحشرية يؤدي إلى حدوث مشكلة ندرة المياه العذبة.
- ٥٨ يساهم القطع العشوائي للأشجار في حل مشكلة التصحر.
- ٥٩ أكبر موجة جفاف تعرضت لها إحدى دول الجناح العربي الإفريقي.
- ٦٠ التوسع المستمر في الزراعة يؤدي إلى حدوث مشكلة الجفاف.
- ٦١ تم إنشاء المدن الذكية بهدف تقليل انبعاثات الغازات الدفيئة.
- ٦٢ تحتفل الدول العربية باليوم العربي للبيئة في 14 أكتوبر من كل عام.
- ٦٣ فازت مدينة الداخلة بمحافظة الوادي الجديد بلقب عاصمة الدول العربية لعام 2022م.
- ٦٤ تتناقص قدرة الأرض على الإنتاج بسبب استخدام طرق الري الحديثة.
- ٦٥ تعمل الدول العربية على حل مشكلات البيئة بإقامة مساكن مستقرة للسياح
- ٦٦ يتميز الوطن العربي بسقوط كميات أمطار كبيرة تسمح بزراعة مساحات واسعة.





- ٦٧ قامت الدول العربية بإصدار قوانين تجرم القطع العشوائي للأشجار لمواجهة مشكلات البيئة.
- ٦٨ من أسباب ندرة المياه العذبة النمو المتزايد لأعداد السكان.
- ٦٩ أكبر الأقاليم المناخية مساحة في الوطن العربي هو الإقليم المداري.
- ٧٠ تنخفض درجات الحرارة في المناطق الداخلية بالوطن العربي.

أكمل العبارات التالية بالاجابة المناسبة مما بين القوسين

السؤال الثالث

١

(الرياح - البحر الميت - الجزائر - السعودية - الانكسارية - اليمن - الالتوائية)

- ١ تقع واحة عين صالح في دولة الجزائر.....
- ٢ يقع وادي الجريز في دولة السعودية.....
- ٣ أدنى نقطة في الوطن العربي هي البحر الميت.....
- ٤ تعتبر جبال الحجاز من أمثلة الجبال الانكسارية.....
- ٥ تكونت التجمعات الرملية بفعل الرياح.....

٢

(أوروبا - الصحراوي الحار - الهضاب - المعتدل " البحر المتوسط " - موسمية)

- ١ أكبر الظواهر التضاريسية مساحة في الوطن العربي هي الهضاب.....
- ٢ يسود معظم أجزاء الوطن العربي المناخ الصحراوي الحار.....
- ٣ يسود الأجزاء الشمالية من الوطن العربي المناخ المعتدل (البحر المتوسط).....
- ٤ الأمطار التي تسقط صيفا على دولة الصومال تسمى أمطار موسمية.....
- ٥ يقترب الوطن العربي من قارة أوروبا.....

٣

(الإقليم الصحراوي - الرعي الجائر والصيد الجائر - ثلاث - الشتاء - أربعة - المداري الحار)

- ١ إقليم مناخي يتميز بشتاء معتدل جاف وصيف حار ممطر هو المداري الحار.....
- ٢ تتعرض المحميات الطبيعية للعديد من المخاطر البشرية منها ... الرعي الجائر و الصيد الجائر.....
- ٣ يتميز الإقليم الصحراوي باعتدال المناخ نهارا في فصل الشتاء.....
- ٤ يسود الوطن العربي ثلاث..... أقاليم مناخية كبرى.
- ٥ يتسم مناخ الإقليم الصحراوي..... بندرة الأمطار طوال السنة والتي قد تسقط على هيئة سيول.



٤

- (مصر - الصومال - ثلثي - السعودية - ثلث - الحياة النباتية والحيوانية - البحرين)
 تعاني ... **الصومال** .. من أكبر موجة جفاف والتي أدت إلى نقص الغذاء و حدوث مجاعات.
 يعاني ... **ثلثي** .. مساحة الوطن العربي من مشكلة التصحر .
 أطلقت **السعودية** مبادرة زراعة 450 مليون شجرة.
 تؤدي المشكلات البيئية إلى تدمير ... **الحياة النباتية و الحيوانية** ... في كثير مناطق الوطن العربي.
 عقد مؤتمر المناخ للأمم المتحدة cop27 عام 2022م في دولة **مصر**

- ١
٢
٣
٤
٥

اكتب ما تشير اليه العبارات التالية

السؤال الرابع

- جبال التوائية
جبال انكسارية
السهول الفيضية
نهري دجلة والفرات
هضبة إفريقيا الشمالية
عوامل باطنية
بادية الشام
حضر موت
تيارات بحرية
المناطق الداخلية
تيارات بحرية دفيئة
تيارات بحرية باردة
المدى الحراري اليومي
المدى الحراري السنوي

- إقليم مناخي
الصحراوي الحار
البحر المتوسط
الصحراوي الحار
المدار الحار
الجفاف
التصحر

- ١ جبال نشأت نتيجة لحركات باطنية تعرضت لها الأرض.
 ٢ جبال نشأت نتيجة حدوث انكسار في القشرة الأرضية.
 ٣ سهول كونتها الأنهار نتيجة ترسيب المواد العالقة بمياهها.
 ٤ سهول فيضية تنتشر بدولة العراق.
 ٥ أكبر ظاهرة تضاريسية في الوطن العربي.
 ٦ عوامل باطنية أدت إلى نشأت جبال أطلس.
 ٧ هضبة تقع في شمال شبه جزيرة العربية.
 ٨ هضبة تقع جنوب شبه الجزيرة العربية.
 ٩ حركة مياه البحار والمحيطات
 ١٠ المناطق البعيدة عن المسطحات المائية.
 ١١ تيارات بحرية تعمل على رفع درجة حرارة السواحل التي تمر بها.
 ١٢ تيارات بحرية تعمل على خفض درجة حرارة السواحل التي تمر بها.
 ١٣ الفرق بين متوسط درجات الحرارة ليلاً ونهاراً.
 ١٤ الفرق بين متوسط درجات الحرارة صيفاً وشتاءً.
 ١٥ منطقة جغرافية من سطح الأرض تتسم بخصائص مناخية تميزها عن غيرها.
 ١٦ إقليم مناخي يشغل معظم مساحة الوطن العربي.
 ١٧ إقليم مناخي يسود شمال دول المغرب العربي وشمال مصر وليبيا.
 ١٨ إقليم مناخي يمتد من الخليج العربي شرقاً حتى ساحل موريتانيا غرباً.
 ١٩ إقليم مناخي يسود دولة اليمن بشبه الجزيرة العربية.
 ٢٠ نقص كمية الأمطار في بعض السنوات بما لا يسمح بالزراعة ونمو الحشائش
 ٢١ تدهور الأراضي الزراعية وتناقص قدرتها على الإنتاج.

- ١
٢
٣
٤
٥
٦
٧
٨
٩
١٠
١١
١٢
١٣
١٤
١٥
١٦
١٧
١٨
١٩
٢٠
٢١



- ٢٢ مدينة عقد بها مؤتمر المناخ للأمم المتحدة cop27 عام 2022م.
- ٢٣ مشكلة بيئية يعاني منها ثلثي مساحة الوطن العربي.
- ٢٤ دولة عربية تعاني من أكبر موجة جفاف وحدث بها مجاعة لأكثر من مليون شخص
- ٢٥ دولة أطلقت مبادرة زراعة 450 مليون شجرة وأعلنت عن إنشاء مدينة نيوم الخضراء.
- ٢٦ محافظة مصرية قام أبنائها بتنفيذ عدد من المشروعات الخضراء للتغلب على الآثار السلبية الناتجة عن التغيرات المناخية.
- ٢٧ مدينة مصرية حاصلة على لقب عاصمة المدن العربية لعام 2022م
- ٢٨ دولة أنشأت مشروع صناعة الأخشاب من مخلفات النخيل لأول مرة في العالم.
- ٢٩ مشكلة تحدث نتيجة لزيادة استهلاك المياه.
- ٣٠ أعلى قمة جبلية في الوطن العربي.
- ٣١ حركات باطنية أدت إلى تكوين جبال البحر الأحمر.
- ٣٢ الجبال الإنكسارية التي تسقط عليها الأمطار الموسمية.
- شرم الشيخ
- التصحّر
- الصومال
- السعودية.
- الوادي الجديد
- مدينة الخارجة
- مصر
- ندرة المياه العذبة
- قمة توبقال
- حركات انكسارية
- مرتفعات اليمن وعسير

اجب عن الاسئلة الآتية

السؤال الخامس

- ١ بم تفسر : نشأت جبال أطلس وعمان وزاجروس ؟
- بسبب الحركات الباطنية الالتوائية التي تعرضت لها أرض الوطن العربي.
- ٢ ما النتائج المترتبة على : حدوث الحركات الانكسارية في أرض الوطن العربي.
- أدى إلى تكونت الجبال الانكسارية مثل جبال البحر الأحمر في الجناح العربي الإفريقي وجبال الحجاز وعسير ومرتفعات اليمن في الجناح العربي الآسيوي.
- ٣ دلل على صحة العبارة التالية : تتنوع السهول في الوطن العربي.
- حيث يوجد سهول ساحلية مثل سواحل البحر المتوسط والمحيط الأطلنطي والبحر الأحمر ويوجد سهول فيضية : مثل سهول نهري دجلة والفرات في العراق وسهول نهر النيل في مصر والسودان.
- ٤ ماذا يحدث إذا : لم يتعرض الوطن العربي لحركات التوائية ؟
- لم تنشأ الجبال الالتوائية مثل جبال عمان وأطلس وزاجروس وكردستان.
- ٥ ما وجه التشابه والاختلاف بين جبال البحر الأحمر وجبال أطلس ؟
- التشابه : الاثنين نشأوا نتيجة لعوامل باطنية تعرض لها أرض الوطن العربي.
- الاختلاف : أن جبال البحر الأحمر انكسارية بينما جبال أطلس التوائية.
- ٦ ما السبب في قلة الموانئ على سواحل البحر الأحمر ؟
- بسبب وجود الشعاب المرجانية على طول الساحل.



٧ ما الأثر الناتج على وجود المياه الجوفية في الواحات بالوطن العربي ؟

أدى إلى تركيز السكان بالواحات وقيام الزراعة.

٨ ما الرابط بين الأودية الجافة والواحات في الوطن العربي ؟

الأتنين يوجد بهم مياه جوفية.

٩ ما النتائج المترتبة على الموقع الفلكي للوطن العربي ؟

ما النتائج المترتبة على مرور دائرة الاستواء بجنوب الوطن العربي ؟

أدى إلى سيادة المناخ الحار معظم أجزاء الوطن العربي والمناخ المعتدل في الأجزاء الشمالية منه.

١٠ بم تفسر : يوجد تباين في درجات الحرارة والأمطار بين دول الوطن العربي ؟

لتأثير عدة عوامل هي : الموقع الفلكي - القرب أو البعد عن المسطحات المائية - مظاهر السطح - التيارات البحرية.

١١ ما العلاقة بين درجة الحرارة ودائرة الاستواء ؟

ترتفع درجة الحرارة كلما اقتربنا من دائرة الاستواء وتنخفض درجة الحرارة كلما ابتعدنا عنها.

١٢ دلل تؤثر مظاهر السطح على المناخ الوطن العربي.

حيث يؤثر عامل الارتفاع وعامل اتجاه الجبل :

عامل الارتفاع : كلما ارتفعنا 150 عن مستوى سطح البحر تقل درجة الحرارة 1 مئوية.

عامل اتجاه الجبل : تسقط الأمطار بغزارة على منحدرات الجبال المواجهة للرياح المحملة ببخار الماء.

١٣ بم تفسر يقل تأثير المسطحات المائية في الوطن العربي بشكل عام ؟

بسبب ضيق مساحة المسطحات المائية وعدم توغل تأثيرها إلى الداخل لوجود الصحاري والمرتفعات القريبة

من الساحل مثل جبال البحر الأحمر.

١٤ ماذا يحدث إذا لم تتعامد الشمس على مدار السرطان بالنسبة للوطن العربي ؟

لم يحل فصل الصيف ولم ترتفع درجات الحرارة بشكل عام في أنحاء الوطن العربي.

١٥ دلل تسقط الأمطار الموسمية الصيفية على بعض مناطق الوطن العربي صيفاً ؟

حيث تسقط أمطار موسمية صيفية على مرتفعات اليمن وعسير وجنوب موريتانيا ومعظم أنحاء الصومال .

١٦ ما النتائج المترتبة على التغيرات المناخية للوطن العربي ؟

• ارتفاع درجات الحرارة وتناقص كميات المطر.

• ظهور مشكلات عديدة منها (التصحر والجفاف) مما يؤثر على الأمن الغذائي و الأمن المائي.

١٧ بم تفسر اتجهت الدول العربية إلى استضافة المؤتمرات الخاصة بالتغيرات المناخية وتبني المشروعات

الخضراء ؟

بسبب ظهور مشكلات عديدة مثل الجفاف والتصحر وتناقص كمية المطر نتيجة للتغيرات المناخية

١٨ ماذا يحدث إذا سقطت أمطار بغزارة صيفاً على الإقليم الصحراوي الحار.

نمو النباتات الطبيعية بكثرة في البيئة الصحراوية.

١٩ بم تفسر أهمية حشائش الاسبتس بالنسبة للثروة الحيوانية.

تربي عليها الأغنام والماعز.



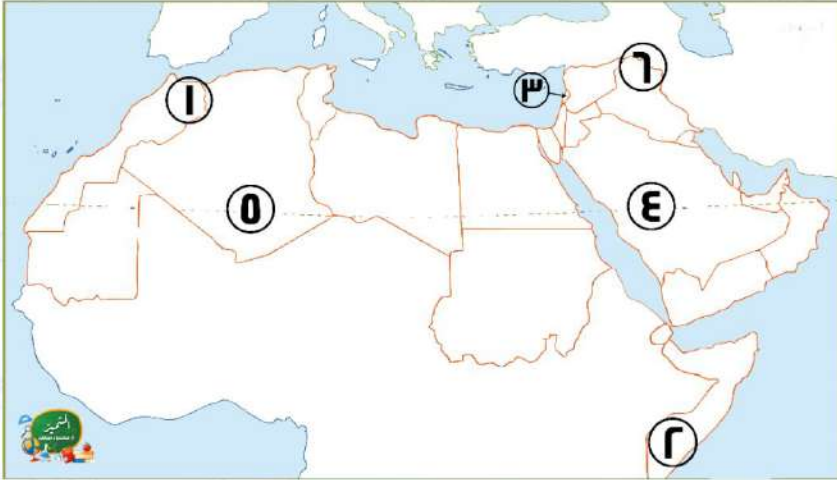
- ٢٠ دال على صحة العبارات التالية : ساعدت مساحة الوطن العربي على اختلاف الظروف المناخية.
- حيث أدت مساحة الوطن العربي 13 مليون كم2 إلى تقسيم الوطن العربي إلى ثلاث أقاليم مناخية وهي مناخ البحر المتوسط - الصحراوي الحار - المداري الحار.
- ٢١ ما النتائج المترتبة على وجود تهديدات تواجه المحميات الطبيعية في الوطن العربي .
- اتخذت معظم الدول العربية إجراءات مثل سن القوانين ضماناً لحمايتها.
- ٢٢ بم تفسر أهمية المحميات الطبيعية .
- تساعد في الحفاظ على الحياة البرية - تنشيط السياحة وجذب السياح - تحقيق التوازن البيئي - الحد من التلوث
- ٢٣ ما العلاقة بين الأنشطة البشرية والحياة البرية ؟
- تتعرض الحياة البرية لمخاطر نتيجة لتطور الأنشطة البشرية وتدهور الموارد النباتية وانقراض أنواع عديدة من الحيوانات البرية.
- ٢٤ ما النتائج المترتبة على تعرض الصومال لأكبر موجة جفاف .
- أدى ذلك إلى : نقص الغذاء وحدوث مجاعة لأكثر من مليون شخص.
- ٢٥ بم تفسر : تعاني معظم الدول العربية من مشكلة ندرة المياه العذبة ؟
- وذلك نتيجة لتزايد معدلات استهلاك المياه بسبب : النمو المتزايد لأعداد السكان - والتوسع المستمر في الزراعة.
- ٢٦ بم تفسر : تدمير الحياة النباتية والحيوانية في كثير من مناطق الوطن العربي.
- بسبب المشكلات البيئية التي يتعرض لها الوطن العربي مثل الجفاف والتصحر وندرة المياه العذبة.
- ٢٧ دال تعلم الدول العربية على حل المشكلات البيئية .
- وذلك من خلال : إقامة مساكن لاستقرار الرعاة - إصدار قوانين تجرم القطع العشوائي للأشجار - زيادة المساحات الخضراء - استخدام مصادر طاقة نظيفة - إنشاء المدن الذكية.
- ٢٨ ما العلاقة بين مشكلة التغير المناخي وكل من الجفاف والتصحر ؟
- أدى التغير المناخي إلى التأثير على كميات الأمطار ودرجات الحرارة مما أدى إلى حدوث مشكلات بيئية مثل الجفاف والتصحر.
- ٢٩ ما النتائج المترتبة على زحف الكثبان الرملية وتناقص مخزون المياه الجوفية والرعي الجائر ؟
- أدى ذلك إلى حدوث مشكلة التصحر.
- ٣٠ ما العلاقة بين جهود الدول العربية والمساحات الخضراء ؟
- من جهود دول الوطن العربي لمواجهة مشكلات الوطن العربي البيئية زيادة المساحات الخضراء مثل مبادرات التشجير التي قامت بها مصر والسعودية.



لاحظ الخريطة ثم أجب

السؤال السادس

١



١ جبال نشأت نتيجة لحركات

..... التوائية

٢ تسقط علي تلك المنطقة أمطار

..... موسمية

٣ دولة تقع بها محمية أرز الشوف

..... لبنان

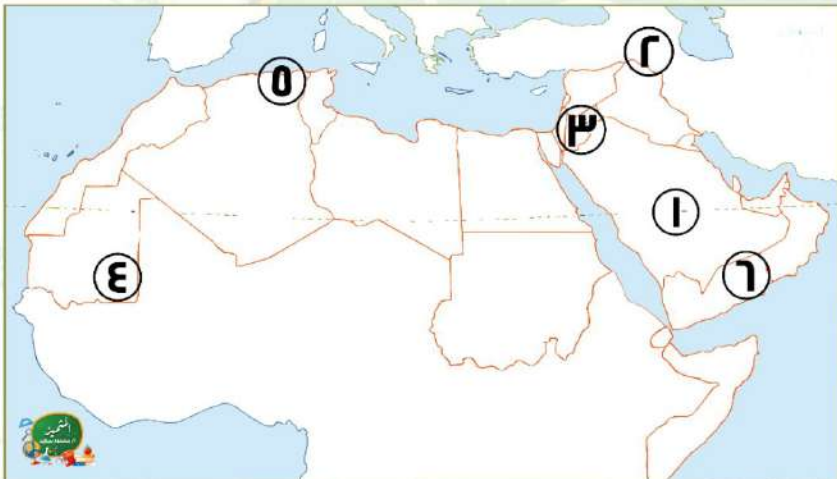
٤ دولة أعلنت عن إنشاء مدينة

نيوم الخضراء السعودية

٥ واحة عين صالح

٦ إقليم مناخ البحر المتوسط

٢



١ أحد الأودية الجافة الجرير

٢ منطقة جبال كرديستان

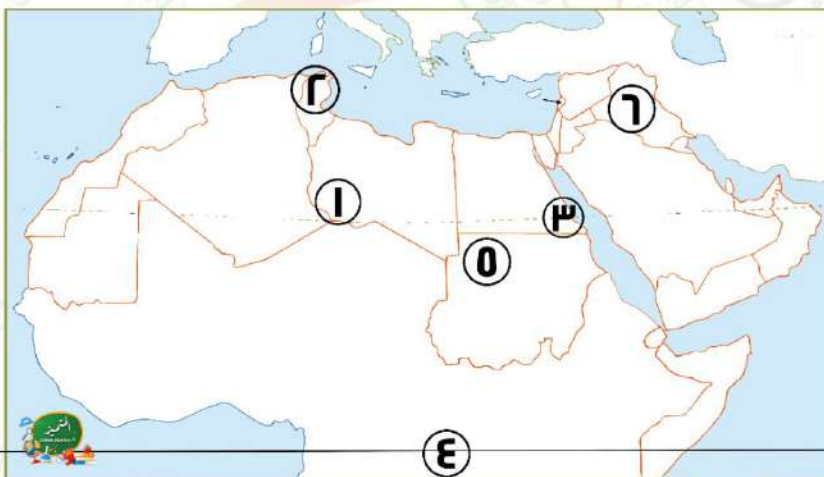
٣ دولة تقع بها محمية ضانا الأردن

٤ إقليم مناخ المداري

٥ سهول ساحلية

٦ هضبة حضر موت

٣



١ أهم هضاب إفريقيا

.... هضبة إفريقيا الشمالية

٢ منطقة تسقط عليها أمطار.. شتوية

٣ محمية جبل علبه

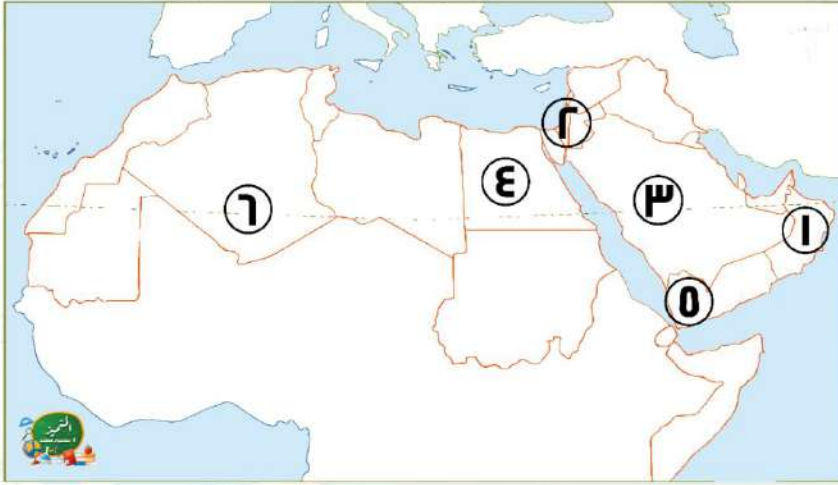
٤ دائرة عرض الاستواء

٥ إقليم مناخ الصحراوي الحار

٦ سهول نهري دجلة والفرات



٤



- ١ عمان جبال
- ٢ البحر المتوسط مناخ
- ٣ نجد هضبة
- ٤ دولة قامت بزراعة 100 مليون شجرة
- ٥ مصر منطقة تسقط عليها أمطار
- ٦ موسمية صيفية إقليم مناخي يتميز بندرة أمطاره طوال
- الصحراوي الحار العام

تم بحمد الله ،

بسم الله الرحمن الرحيم " إِنَّ الَّذِينَ آمَنُوا وَعَمِلُوا الصَّالِحَاتِ إِنَّا لَا نُضِيعُ أَجْرَ مَنْ أَحْسَنَ عَمَلًا " صدق الله العظيم



بنك أسئلة البروفيسور الشامل في مادة " الدراسات الاجتماعية "

على مقررات شهر نوفمبر

السؤال الأول : ضع علامة (✓) أمام العبارة الصحيحة وعلامة (×) أمام العبارة الخاطئة : -

- ١ - أدنى نقطة في سطح الوطن العربي هي بحر قزوين . ()
- ٢ - يؤثر الموقع الفلكي للوطن العربي على مناخه . ()
- ٣ - تنوع الأقاليم المناخية في الوطن العربي أدى إلى تنوع النبات الطبيعي . ()
- ٤ - الجفاف هو نقص كمية الأمطار ليومين . ()
- ٥ - تشكلت جبال زاغروس نتيجة حركات التوائية . ()
- ٦ - يقع وطننا العربي بين دائرتي عرض ٢ جنوباً : ٣٠ شمالاً . ()
- ٧ - يمتد إقليم البحر المتوسط بين دائرتي عرض ١٥ : ٣٠ شمالاً بالوطن العربي . ()
- ٨ - يؤثر التغير المناخي على درجة الحرارة وكمية المطر . ()
- ٩ - جبال عمان من الجبال الانكسارية في الوطن العربي . ()
- ١٠ - تمر دائرة الاستواء في شمال الوطن العربي . ()
- ١١ - تقع مدينة أسوان في إقليم البحر المتوسط . ()
- ١٢ - أنشئت المدن الذكية بهدف تقليل انبعاثات الغازات الدفيئة . ()
- ١٣ - تمتد هضبة إفريقيا الشمالية من سواحل المحيط الأطلنطي غرباً حتى ساحل الخليج العربي شرقاً . ()
- ١٤ - تقل درجات الحرارة كلما ارتفعنا فوق مستوى سطح البحر . ()
- ١٥ - ينتشر نبات الصبار والنخيل بإقليم البحر المتوسط . ()
- ١٦ - تعرضت دولة المغرب لأكبر موجة جفاف سببت نقصاً في الغذاء . ()
- ١٧ - الكثبان الرملية تكونت بفعل التعرية الهوائية . ()
- ١٨ - تؤدي التيارات البحرية الباردة إلى ارتفاع درجة حرارة السواحل التي تمر بها . ()
- ١٩ - تنمو حشائش السافانا في الإقليم المداري بالوطن العربي . ()
- ٢٠ - التوسع المستمر في الزراعة يؤدي إلى ندرة المياه العذبة . ()
- ٢١ - تقوم الزراعة في الواحات اعتماداً على المياه الجوفية . ()
- ٢٢ - يتسم وطننا العربي بمناخ شديد الحرارة صيفاً . ()
- ٢٣ - تنتشر حشائش الإستبس في الإقليم الصحراوي الحار . ()

- ٢٤ - يحدث التصحر في الوطن العربي بسبب استخدام طرق الري الحديثة . ()
- ٢٥ - تعد هضبة نجد من هضاب الجناح العربي الإفريقي . ()
- ٢٦ - ترتفع درجة الحرارة شتاءً في المناطق الداخلية من الوطن العربي . ()
- ٢٧ - تساعد المحميات الطبيعية في الحفاظ على الحياة البرية بالوطن العربي . ()
- ٢٨ - يساهم القطع العشوائي للأشجار في حل مشكلة التصحر . ()
- ٢٩ - نشأ وادي الجرير بفعل التعرية المائية . ()
- ٣٠ - يقل تأثير المسطحات المائية بالوطن العربي على المناخ بسبب ضيق مساحتها . ()
- ٣١ - استخدام الأسمدة الكيماوية والمبيدات الحشرية يقلل من مشكلة التصحر . ()
- ٣٢ - تتميز سهول البحر المتوسط بأنها كثيرة السكان . ()
- ٣٣ - تسقط الأمطار بغزارة على منحدرات الجبال المواجهة للرياح الجافة . ()
- ٣٤ - المشكلات البيئية في الوطن العربي تهدد صحة وحياة المواطنين . ()
- ٣٥ - تمتد السهول الفيضية لنهري دجلة والفرات بدولة اليمن . ()
- ٣٦ - تسقط الأمطار صيفا على الأطراف الشمالية للوطن العربي . ()
- ٣٧ - يساهم استخدام مصادر الطاقة النظيفة في حل المشكلات البيئية في الوطن العربي . ()
- ٣٨ - تتميز سهول المحيط الأطلنطي بقلة السكان وسهولة الانتقال . ()
- ٣٩ - يؤدي سوء الأحوال المناخية إلى تأجيل أو إلغاء الرحلات الجوية . ()
- ٤٠ - ساعد تنوع مظاهر السطح على تنوع الأنشطة الاقتصادية . ()

السؤال الثاني : اختر الإجابة الصحيحة من بين الأقواس : -

- ١- أحد الجبال الالتوائية في الوطن العربي هي جبال.....
(الشام - الحجاز - أطلس - عسير) .
- ٢- تمر بأراضي الوطن العربي جنوبا.....
(الدائرة القطبية الشمالية - مدار السرطان - دائرة الاستواء - خط جرينتش) .
- ٣- يتميز إقليم البحر المتوسط بسقوط الأمطار في فصل.....
(الشتاء - الخريف - الربيع - الصيف) .
- ٤- يعاني نحو ثلثي مساحة الوطن العربي من مشكلة.....
(الجفاف - التصحر - ندرة المياه العذبة - قلة المراعي الطبيعية) .

- ٥- جبال نشأت نتيجة انكسار في القشرة الأرضية.....
(كردستان - زاجروس - عمان - عسير) .
- ٦- المناطق القريبة من المسطحات المائية يكون مناخها.....
(شديد الحرارة والجفاف - أكثر اعتدالا ومطرا - أقل اعتدالا ومطرا - شديد البرودة والجفاف) .
- ٧- إحدى الدول العربية التي تقع أجزاءها الشمالية في إقليم مناخ البحر المتوسط.....
(موريتانيا - السودان - ليبيا - اليمن) .
- ٨- أكثر الدول العربية التي تعرضت لخطر الجفاف دولة.....
(الصومال - المغرب - العراق - البحرين) .
- ٩- نشأت جبال أطلس نتيجة.....
(حركات انكسارية - حركات التوائية - ثورات بركانية - حركات الزلازل) .
- ١٠- تهب علي الوطن العربي شتاء رياح شديدة البرودة قادمة من.....
(قارة إفريقيا - المحيط الهندي - قارة أوروبا - المحيط الهادي) .
- ١١- تنمو أشجار الأرز في إقليم مناخ.....
(البحر المتوسط - الاستوائي - الصحراوي الحار - المداري) .
- ١٢- تدهور الأرض وتناقص قدرتها علي الإنتاج تشير العبارة لتعريف.....
(الجفاف - الفيضان - التصحر - السيول) .
- ١٣- تمتد جبال البحر الأحمر في دولتي.....
(موريتانيا والمغرب - مصر والسودان - الجزائر والمغرب - ليبيا وتونس) .
- ١٤- مناخ مدينة الإسكندرية معتدل أكثر من مناخ مدينة الرياض بسبب تأثير.....
(اتجاه المرتفعات - المسطحات المائية - التيارات البحرية - خط جرينتش) .
- ١٥- دولة عربية تقع بالكامل داخل الإقليم الصحراوي الحار هي.....
(الجزائر - الكويت - السودان - لبنان) .
- ١٦- إحدى الدول العربية التي أطلقت مبادرة لزيادة المساحات الخضراء.....
(اليمن - سوريا - لبنان - مصر) .
- ١٧- أكبر هضاب الوطن العربي مساحة هضبة.....
(الجلف الكبير - بادية الشام - إفريقيا الشمالية - حضر موت) .

- ١٨- الارتفاع لمسافة ١٥٠ مترا فوق مستوي سطح البحر يؤدي إلي انخفاض درجة الحرارة....
(درجة واحدة - درجتين - ثلاث درجات - أربع درجات) .
- ١٩- يتسم مناخ الجزء الجنوبي الغربي من شبه الجزيرة العربية ب.....
(شتاء بارد ممطر - صيف حار جاف - شتاء معتدل جاف - صيف بارد ممطر) .
- ٢٠- أعلن عن إنشاء مدينة نيوم الخضراء بدولة.....
(المغرب - مصر - السعودية - الجزائر) .
- ٢١- إحدى هضاب الجناح العربي الآسيوي هضبة.....
(الشطوط - الصحراء الكبرى - المعازة - بادية الشام) .
- ٢٢- تسقط أمطار موسمية صيفية علي دولة.....
(لبنان - سوريا - اليمن - تونس) .
- ٢٣- تسقط أمطار الإقليم المداري في فصل.....
(الشتاء - الصيف - الخريف - الربيع) .
- ٢٤- يعاني نحو.....مساحة الوطن العربي من مشكلة التصحر.
(ثلث - ثلثي - ربع - نصف) .
- ٢٥- تكونت نتيجة ترسيب المواد العالقة في مياه الأنهار تشير العبارة إلي.....
(السهول الساحلية - الجبال - الهضاب - السهول الفيضية) .
- ٢٦- يحل فصل الشتاء علي الوطن العربي عندما تتعامد الشمس علي.....
(مدار السرطان - مدار الجدي - الدائرة القطبية - دائرة الاستواء) .
- ٢٧- تقع محمية ضانا في دولة.....
(سوريا - لبنان - فلسطين - الأردن) .
- ٢٨- مشروع صناعة الأخشاب من مخلفات النخيل يوجد في مصر في محافظة.....
(البحر الأحمر - الوادي الجديد - شمال سيناء - جنوب سيناء) .
- ٢٩- إحدى الظواهر التي تكونت بفعل التعرية المائية.....
(الجبال - الهضاب - الأودية الجافة - التجمعات الرملية) .
- ٣٠- تهب الرياح الحارة علي الوطن من جنوب قارة.....صيفا .
(إفريقيا - أوروبا - آسيا - أمريكا) .

- ٣١- يمتد إقليم البحر المتوسط في الجناح الآسيوي للوطن العربي في دولتي.....
(قطر والبحرين - اليمن وعمان - فلسطين ولبنان - العراق والأردن) .
- ٣٢- جائزة عاصمة المدن العربية لعام ٢٠٢٢م حصلت عليها مدينة.....
(رأس محمد - رأس غارب - الخارجة - الدخلة) .
- ٣٣- السهول التي تتميز بتساقط الأمطار في فصل الشتاء هي سهول.....
(البحر المتوسط - البحر الأحمر - الخليج العربي - بحر العرب) .
- ٣٤- يقل سقوط الأمطار في الوطن العربي علي.....
(الجبال - السهول - الأودية - الصحراء) .
- ٣٥- محمية جبل علبة من أشهر محميات الوطن العربي التي تقع في دولة.....
(لبنان - الأردن - السودان - مصر) .
- ٣٦- تمتد هضبة إفريقيا الشمالية من جبال البحر الأحمر إلي المحيط.....
(الهادي - الهندي - الأطلنطي - القطبي) .
- ٣٧- يتميز مناخ الوطن العربي بالحرارة الشديدة في فصل.....
(الشتاء - الربيع - الصيف - الخريف) .
- ٣٨- حشائش الإستبس تنمو ضمن إقليم مناخ.....
(البحر المتوسط - المداري - الصحراوي - الموسمي) .
- ٣٩- توجد في دولتي مصر والسودان جبال.....
(كردستان - زاجروس - الحجاز - البحر الأحمر) .
- ٤٠- تقع دولة فلسطين ولبنان ضمن الإقليم المناخ.....
(البحر المتوسط - المداري - الصحراوي - الموسمي) .
- ٤١- تعد من الجبال الالتوائية في الوطن العربي جبال.....
(عسير - البحر الأحمر - عمان - الحجاز) .
- ٤٢- يمتد الإقليم المداري في.....الوطن العربي .
(شمال - جنوب - شرق - غرب) .
- ٤٣- تعوق الشعاب المرجانية إقامة المواني علي سواحل.....في الوطن العربي .
(البحر المتوسط - الخليج العربي - البحر الأحمر - المحيط الأطلنطي) .

- ٤٤ - إقليم مناخي يشمل النطاق الساحلي من الصومال وتندر به الأمطار هو.....
(البحر المتوسط - المداري - الصحراوي - الموسمي) .
- ٤٥ - يقصد السياح واحة سيوة في دولة..... للعلاج .
(الصومال - مصر - السودان - جيبوتي) .
- ٤٦ - تنتشر النباتات التي لها قدرة علي تحمل الجفاف في الإقليم المناخي.....
(البحر المتوسط - المداري - الصحراوي - الموسمي) .
- ٤٧ - أكثر أشكال السطح انتشارا في الوطن العربي هي.....
(الجبال - الهضاب - السهول الفيضية - السهول الساحلية) .
- ٤٨ - يعيش الزراف والأسود بالإقليم.....
(البحر المتوسط - المداري - الصحراوي - الموسمي) .
- ٤٩ - تقع بحيرة عسل في دولة.....
(الصومال - السودان - جيبوتي - مصر) .
- ٥٠ - من الأودية التي تكونت بفعل التعرية المائية وادي الجرير في.....
(مصر - ليبيا - تونس - السعودية) .

السؤال الثالث : أكمل العبارات التالية : -

- ١ - أعلى قمة جبلية في الوطن العربي هي قمة جبل.....
- ٢ - يسود معظم أجزاء الوطن العربي المناخ.....
- ٣ - يتميز إقليم البحر المتوسط بتساقط الأمطار في فصل.....
- ٤ - عُقد مؤتمر المناخ للأمم المتحدة (COP ٢٧) عام ٢٠٢٢م في دولة.....
- ٥ - تكونت جبال أطلس نتيجة الحركات.....
- ٦ - الأجزاء الشمالية من الوطن العربي يسودها المناخ.....
- ٧ - تربي الماعز والأغنام في إقليم مناخ.....
- ٨ - تزداد معدلات استهلاك المياه العذبة في الوطن العربي بسبب النمو المتزايد في أعداد.....
- ٩ - مرتفعات اليمن تكونت نتيجة.....
- ١٠ - تتأثر المناطق الساحلية بالتيارات البحرية الدفيئة التي تؤدي إلى ارتفاع.....
- ١١ - يسود معظم مساحة الوطن العربي إقليم المناخ.....
- ١٢ - يتعرض الوطن العربي لمشكلة التصحر بسبب زحف.....

- ١٣- تقع هضبة حزموت في الجناح.....
- ١٤- يهب على الوطن العربي صيفاً رياح حارة قادمة من جنوب.....
- ١٥- تنمو بالإقليم المداري في الوطن العربي حشائش.....
- ١٦- تؤدي المشكلات البيئية في العديد من مناطق الوطن العربي إلى تدمير.....
- ١٧- أكثر مظاهر السطح انتشاراً في الوطن العربي هي.....
- ١٨- تنخفض درجة حرارة السواحل عند مرور التيارات.....
- ١٩- تسقط الأمطار صيفاً في الإقليم المناخي.....
- ٢٠- إنشاء المدن الذكية بالوطن العربي يقلل من انبعاث.....
- ٢١- تعتبر جبال عسير من أمثلة الجبال.....
- ٢٢- تسقط الأمطار بغزارة على منحدرات الجبال المواجهة للرياح المحملة.....
- ٢٣- ينمو نبات الصبار في الإقليم.....
- ٢٤- انطلقت مبادرة زراعة ٤٥٠ مليون شجرة في دولة.....
- ٢٥- يمتد بحر الرمال العظيم بين مصر و.....
- ٢٦- الأمطار التي تسقط صيفاً على معظم أنحاء الصومال تسمى أمطار.....
- ٢٧- تقع محمية ضانا في دولة.....
- ٢٨- تكونت السهول الفيضية نتيجة.....
- ٢٩- تسقط الأمطار شتاءً في الوطن العربي على المناطق المطلة على البحر.....
- ٣٠- تعد سهول دجلة والفرات من السهول.....
- ٣١- حركة مياه البحر والمحيطات تسمى.....

السؤال الرابع : صوب العبارات التالية : -

- ١- تكونت جبال زاغروس نتيجة للحركات الانكسارية .
- ٢- يسود المناخ المعتدل مناطق الوطن العربي الجنوبية .
- ٣- نقص كمية الأمطار بما لا يسمح بالزراعة ونمو الحشائش، تشير العبارة إلى التصحّر .
- ٤- تعد جبال البحر الأحمر ومرتفعات اليمن من الجبال الالتوائية .
- ٥- يقترب الوطن العربي من قارة أستراليا .
- ٦- سببت موجة الجفاف حدوث مجاعة لأكثر من مليون شخص في دولة تونس .
- ٧- تقع هضبة بادية الشام في الجناح العربي الإفريقي .

- ٨- يحل فصل الشتاء على الوطن العربي عندما تتعامد الشمس على دائرة الاستواء .
- ٩- تتناقص قدرة الأرض على الإنتاج بسبب استخدام طرق الري الحديثة .
- ١٠- توجد جبال الحجاز على الساحل الشرقي للبحر المتوسط .
- ١١- يعاني الوطن العربي من شدة البرودة شتاء في بعض الأجزاء الجنوبية .
- ١٢- تعمل الدول العربية على حل مشكلات البيئة بإقامة مساكن مستقرة للسباح .
- ١٣- تكونت سهول دجلة والفرات عن طريق ترسب المواد العالقة بمياه البحار .
- ١٤- تنخفض درجات الحرارة فوق الجبال فتكون الرمال .
- ١٥- يمكن حل المشكلات البيئية عن طريق زيادة المناطق السكنية .

السؤال الخامس : اكتب ما تشير اليه العبارة : -

- ١- الحركات الباطنية التي أدت إلى تكون جبال أطلس .
- ٢- مشكلة تحدث نتيجة لزيادة استهلاك المياه .
- ٣- الحركات الباطنية التي أدت إلى تكون جبال البحر الأحمر .
- ٤- نقص كمية الأمطار في بعض السنوات بما لا يسمح بالزراعة أو نمو الحشائش .
- ٥- سهول كونتها الأنهار نتيجة ترسيب المواد العالقة بمياهها .
- ٦- تدهور الأراضي وتناقص قدرتها على الإنتاج .
- ٧- دولة عربية تعرضت لأكبر موجة جفاف .

السؤال السادس : اجب عما يأتي : -

- ١- نشأة جبال أطلس .
- ٢- مدينة الإسكندرية أكثر اعتدالا في مناخها من مدينة الرياض .
- ٣- أهمية حشائش الإستبس بالنسبة للثروة الحيوانية .
- ٤- حدوث الجفاف في بعض الدول العربية .
- ٥- نشأة جبال البحر الأحمر .

٦- يقل تأثير المسطحات المائية مناخيا على الوطن العربي .

٧- أهمية المحميات الطبيعية .

٨- زيادة معدل استهلاك المياه العذبة بالوطن العربي .

٩- تكون التجمعات الرملية في وطننا العربي .

١٠- يختلف مناخ المناطق المرتفعة عن مناخ الأودية والسهول .

١١- تنوع الأقاليم المناخية في وطننا العربي .

١٢- حدوث مشكلة التصحر في مساحات واسعة من الوطن العربي .

١٣- أهمية الأودية الجافة .

١٤- اعتدال الحرارة على معظم أرجاء الوطن العربي شتاء .

١٥- سقوط الأمطار صيفاً على جنوب غرب شبه الجزيرة العربية.

١٦- إنشاء المدن الذكية .

١٧- صعوبة إنشاء المواني على سواحل البحر الأحمر .

١٨- تنخفض درجات الحرارة شتاء بالوطن العربي .

١٩- تكون سهول وادي النيل .

٢٠- ترتفع درجات الحرارة صيفا بالوطن العربي .

٢١- أهمية السهول الفيضية في وطننا العربي .

٢٢- تغطي الثلوج قمة جبل توبقال في المغرب .

٢٣- يعيش بعض السكان في الواحات .

ب : ما النتائج المترتبة على :

١ - حدوث الحركات الالتوائية .

٢ - الموقع الفلكي للوطن العربي .

٣- ظهور تهديدات تواجه المحميات الطبيعية في الوطن العربي .

٤- تعرّض الصومال لأكبر موجة جفاف بالوطن العربي .

٥- حدوث الحركات الانكسارية .

٦- تعامد الشمس على مدار السرطان صيفاً بالنسبة للوطن العربي .

٧- امتداد إقليم المناخ الصحراوي الحار بين ١٥:٣٠ شمالاً .

٨- الرعي الجائر للحيوانات في الوطن العربي .

٩- وجود المياه الجوفية في الواحات .

١٠- مرور التيارات البحرية الدفيئة بالقرب من المناطق الساحلية .

١١- وجود العديد من المشكلات البيئية في الوطن العربي .

١٢- تنوع مظاهر سطح الوطن العربي .

ج : دال على صحة العبارات الآتية :

١ : ساعدت مساحة الوطن العربي على اختلاف الظروف المناخية فيه .

د : ما العلاقة بين كل من :

١ - التصحر ، الغابات .

٢ - السكان ، مشكلة ندرة المياه .

٣ - المشكلات البيئية ، الحياة الحيوانية والنباتية .

٤ - الطاقة النظيفة ، المشكلات البيئية .

هـ : أجب عن الأسئلة الآتية :

١ - ما المقصود بالإقليم المناخي؟

ز- صنف النباتات الآتية حسب الإقليم المناخي الذي توجد فيه :

(حشائش السافانا - أشجار الزيتون - الصبار - حشائش الإستبس)

.....

.....

.....

.....

و : اكتب دليلا واحدا علي :

١- تعدد المشكلات البيئية في الوطن العربي .

.....

.....

٢- تبذل السعودية جهودًا لمواجهة المشكلات البيئية .

.....

.....

ي : حدد المختلف فيما يلي مع ذكر السبب :

١ - ثعلب - ثعبان - سحلية - زرافة .

.....

.....

٢- أشجار السنوبر - أشجار الزيتون - نبات الصبار - أشجار الأرز .

.....

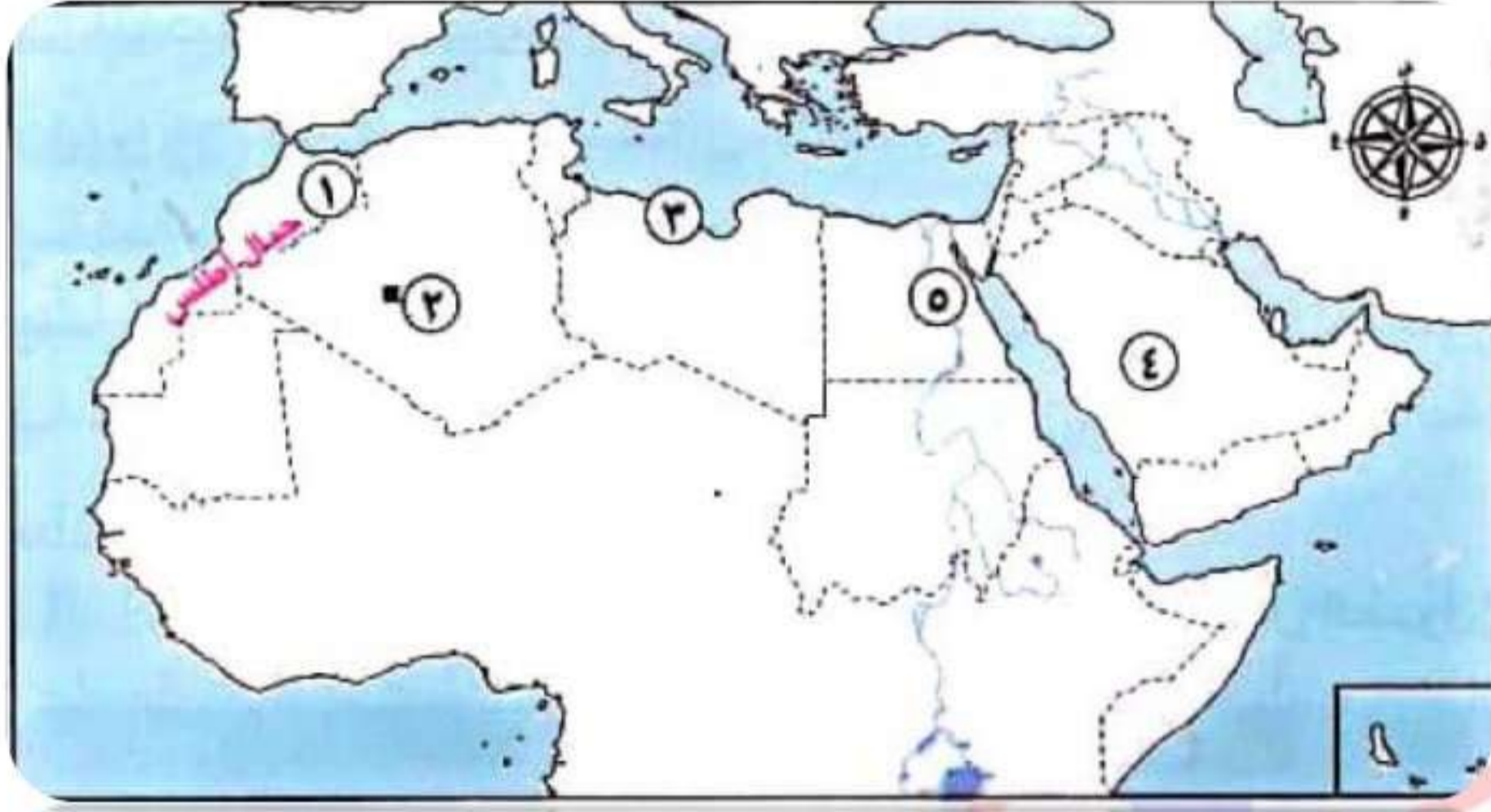
.....

01016058940

السؤال السابع : الخرائط : -

1

أمامك خريطة صماء للوطن العربي أكتب مدلول الأرقام :



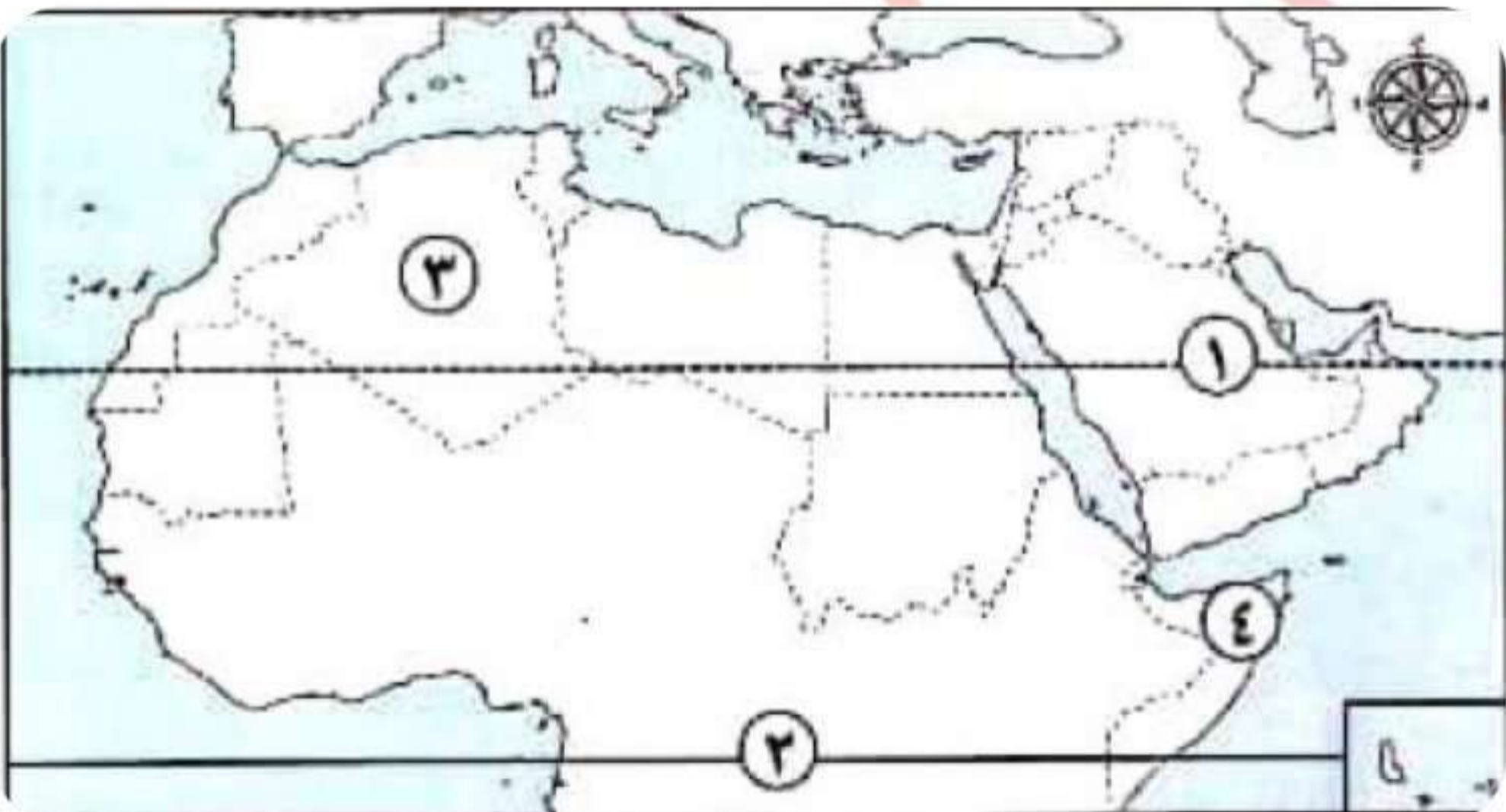
- ١ - نشأت الجبال نتيجة لحركات
- ٢ - واحة.....
- ٣ - تصنف السهول لسهول.....
- ٤ - تنتمي الهضبة للجناح.....
- ٥ - تعد سهولا.....

الأستاذ

أحمد فتحي 2 المراكبي

01016058940

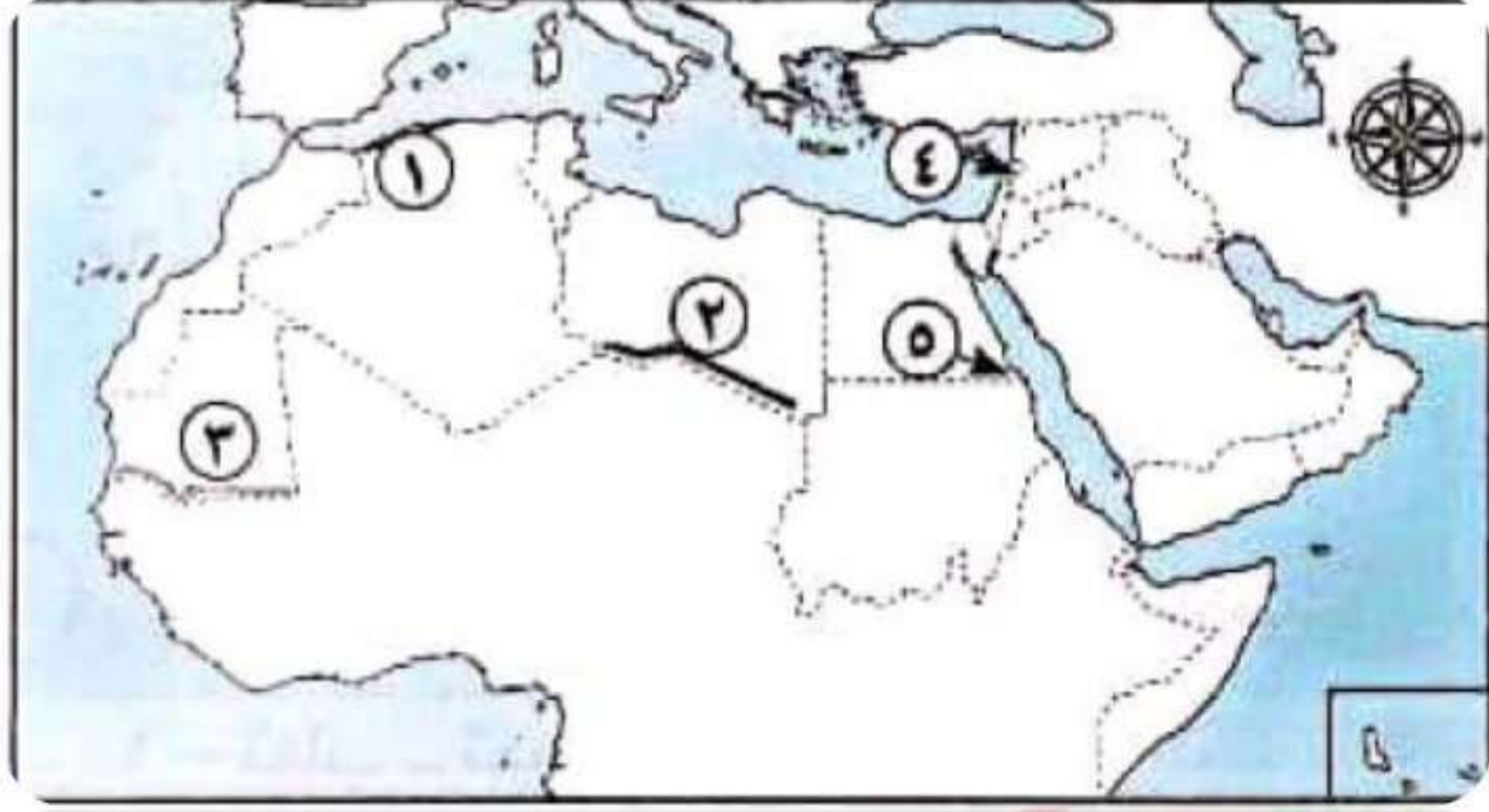
أمامك خريطة صماء للوطن العربي أكتب مدلول الأرقام :



- ١ - مدار.....
- ٢ - دائرة.....
- ٣ - منطقة يسودها مناخ.....
- ٤ - دولة تسقط عليها أمطار موسمية.....

3

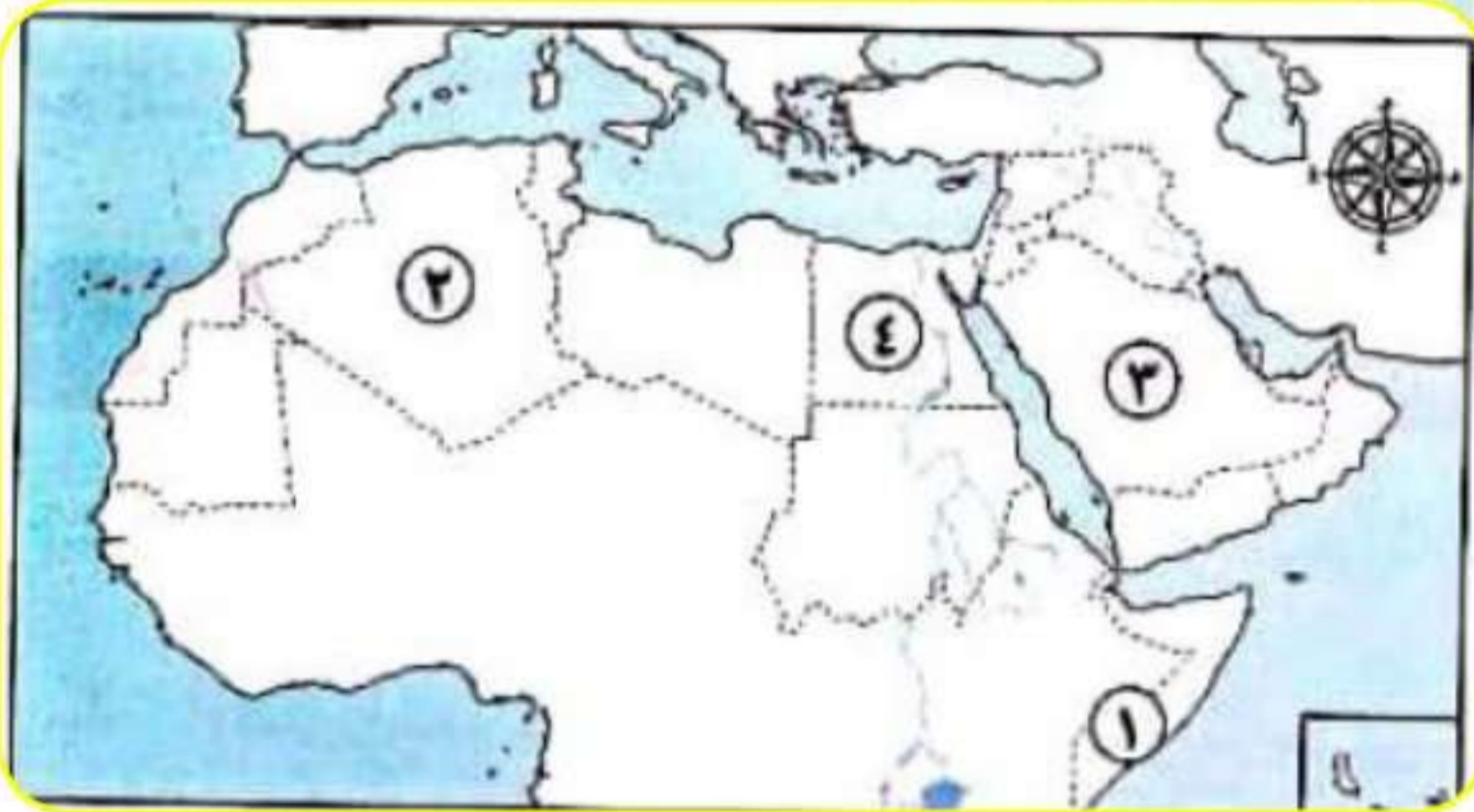
أمامك خريطة صماء للوطن العربي اكتب مدلول الأرقام :



- ١ - إقليم مناخي.....
- ٢ - إقليم مناخي.....
- ٣ - إقليم مناخي.....
- ٤ - دولة تقع فيها محمية أرز الشوف.....
- ٥ - إحدى المحميات المصرية.....

4

أمامك خريطة صماء للوطن العربي اكتب مدلول الأرقام :



- ١ - دولة تعرضت لأكبر موجة جفاف رقم ()
- ٢ - دولة أعلنت عن بناء مدينة نيوم الخضراء رقم ()
- ٣ - دولة أطلقت مبادرة لزراعة ١٠٠ مليون شجرة رقم ()

بنك أسئلة البروفيسور الشامل في مادة " الدراسات الاجتماعية "

على مقررات شهر نوفمبر

السؤال الأول : ضع علامة (✓) أمام العبارة الصحيحة وعلامة (×) أمام العبارة الخاطئة : -

- ١ - أدنى نقطة في سطح الوطن العربي هي بحر **قزوين** . البحر الميت . (×)
- ٢ - يؤثر الموقع الفلكي للوطن العربي على مناخه . (✓)
- ٣ - تنوع الأقاليم المناخية في الوطن العربي أدى إلى تنوع النبات الطبيعي . (✓)
- ٤ - الجفاف هو نقص كمية الأمطار **ليومين** . لسنوات . (×)
- ٥ - تشكلت جبال زاغروس نتيجة حركات التوائية . (✓)
- ٦ - يقع وطننا العربي بين دائرتي عرض ٢ جنوباً : ٣٠ شمالاً . (✓)
- ٧ - يمتد إقليم **البحر المتوسط** بين دائرتي عرض ١٥ : ٣٠ شمالاً بالوطن العربي . حار . (×)
- ٨ - يؤثر التغير المناخي على درجة الحرارة وكمية المطر . (✓)
- ٩ - جبال عمان من الجبال **الانكسارية** في الوطن العربي . **الالتوائية** . (×)
- ١٠ - تمر دائرة الاستواء في **شمال** الوطن العربي . **جنوب** . (×)
- ١١ - تقع مدينة أسوان في إقليم **البحر المتوسط** . **الصحراوي الحار** . (×)
- ١٢ - أنشئت المدن الذكية بهدف تقليل انبعاثات الغازات الدفيئة . (✓)
- ١٣ - تمتد هضبة إفريقيا الشمالية من سواحل المحيط الأطلنطي غرباً حتى ساحل **الخليج العربي** شرقاً . (×)
- ١٤ - تقل درجات الحرارة كلما ارتفعنا فوق مستوى سطح البحر . (✓)
- ١٥ - ينتشر نبات الصبار والنخيل بإقليم **البحر المتوسط** . **الصحراوي الحار** . (×)
- ١٦ - تعرضت دولة **المغرب** لأكبر موجة جفاف سببت نقصاً في الغذاء . **الصومال** . (×)
- ١٧ - الكثبان الرملية تكونت بفعل التعرية الهوائية . (✓)
- ١٨ - تؤدي التيارات البحرية الباردة إلى **ارتفاع** درجة حرارة السواحل التي تمر بها . **انخفاض** (×)
- ١٩ - تنمو حشائش السافانا في الإقليم المداري بالوطن العربي . (✓)
- ٢٠ - التوسع المستمر في الزراعة يؤدي إلى ندرة المياه العذبة . (✓)
- ٢١ - تقوم الزراعة في الواحات اعتماداً على المياه الجوفية . (✓)
- ٢٢ - يتسم وطننا العربي بمناخ شديد الحرارة صيفاً . (✓)
- ٢٣ - تنتشر حشائش الإستبس في الإقليم **الصحراوي الحار** . **البحر المتوسط** . (×)

- ٢٤ - يحدث التصحر في الوطن العربي بسبب استخدام طرق الري **الحديثة** . التقليدية (×) .
- ٢٥ - تعد هضبة نجد من هضاب الجناح العربي **الإفريقي** . الآسيوي (×) .
- ٢٦ - **ترتفع** درجة الحرارة شتاءً في المناطق الداخلية من الوطن العربي . تنخفض (×) .
- ٢٧ - تساعد المحميات الطبيعية في الحفاظ على الحياة البرية بالوطن العربي . (✓) .
- ٢٨ - يساهم القطع العشوائي للأشجار في **حل** مشكلة التصحر . حدوث (×) .
- ٢٩ - نشأ وادي الجرير بفعل التعرية المائية . (✓) .
- ٣٠ - يقل تأثير المسطحات المائية بالوطن العربي على المناخ بسبب ضيق مساحتها . (✓) .
- ٣١ - استخدام الأسمدة الكيماوية والمبيدات الحشرية **يقلل** من مشكلة التصحر . يزيد (×) .
- ٣٢ - تتميز سهول البحر المتوسط بأنها كثيرة السكان . (✓) .
- ٣٣ - تسقط الأمطار بغزارة على منحدرات الجبال المواجهة للرياح الجافة . (×) .
- ٣٤ - المشكلات البيئية في الوطن العربي تهدد صحة وحياة المواطنين . (✓) .
- ٣٥ - تمتد السهول الفيضية لنهري دجلة والفرات بدولة **اليمن** . العراق (×) .
- ٣٦ - تسقط الأمطار **صيفاً** على الأطراف الشمالية للوطن العربي . شتاءً (×) .
- ٣٧ - يساهم استخدام مصادر الطاقة النظيفة في حل المشكلات البيئية في الوطن العربي . (✓) .
- ٣٨ - تتميز سهول **المحيط الأطلنطي** بقلة السكان وسهولة الانتقال . البحر الأحمر (×) .
- ٣٩ - يؤدي سوء الأحوال المناخية إلى تأجيل أو إلغاء الرحلات الجوية . (✓) .
- ٤٠ - ساعد تنوع مظاهر السطح على تنوع الأنشطة الاقتصادية . (✓) .

السؤال الثاني : اختر الإجابة الصحيحة من بين الأقواس : -

- ١- أحد الجبال الالتوائية في الوطن العربي هي جبال.....
(الشام - الحجاز - **أطلس** - عسير) .
- ٢- تمر بأراضي الوطن العربي جنوباً.....
(الدائرة القطبية الشمالية - مدار السرطان - **دائرة الاستواء** - خط جرينتش) .
- ٣- يتميز إقليم البحر المتوسط بسقوط الأمطار في فصل.....
(**الشتاء** - الخريف - الربيع - الصيف) .
- ٤- يعاني نحو ثلثي مساحة الوطن العربي من مشكلة.....
(الجفاف - **التصحر** - ندرة المياه العذبة - قلة المراعي الطبيعية) .

- ٥- جبال نشأت نتيجة انكسار في القشرة الأرضية.....
- (كردستان - زاجروس - عمان - عسير) .
- ٦- المناطق القريبة من المسطحات المائية يكون مناخها.....
- (شديد الحرارة والجفاف - أكثر اعتدالا ومطرا - أقل اعتدالا ومطرا - شديد البرودة والجفاف) .
- ٧- إحدى الدول العربية التي تقع أجزاءها الشمالية في إقليم مناخ البحر المتوسط.....
- (موريتانيا - السودان - ليبيا - اليمن) .
- ٨- أكثر الدول العربية التي تعرضت لخطر الجفاف دولة.....
- (الصومال - المغرب - العراق - البحرين) .
- ٩- نشأت جبال أطلس نتيجة.....
- (حركات انكسارية - حركات التوائية - ثورات بركانية - حركات الزلازل) .
- ١٠- تهب علي الوطن العربي شتاء رياح شديدة البرودة قادمة من.....
- (قارة إفريقيا - المحيط الهندي - قارة أوروبا - المحيط الهادي) .
- ١١- تنمو أشجار الأرز في إقليم مناخ.....
- (البحر المتوسط - الاستوائي - الصحراوي الحار - المداري) .
- ١٢- تدهور الأرض وتناقص قدرتها علي الإنتاج تشير العبارة لتعريف.....
- (الجفاف - الفيضان - التصحّر - السيول) .
- ١٣- تمتد جبال البحر الأحمر في دولتي.....
- (موريتانيا والمغرب - مصر والسودان - الجزائر والمغرب - ليبيا وتونس) .
- ١٤- مناخ مدينة الإسكندرية معتدل أكثر من مناخ مدينة الرياض بسبب تأثير.....
- (اتجاه المرتفعات - المسطحات المائية - التيارات البحرية - خط جرينتش) .
- ١٥- دولة عربية تقع بالكامل داخل الإقليم الصحراوي الحار هي.....
- (الجزائر - الكويت - السودان - لبنان) .
- ١٦- إحدى الدول العربية التي أطلقت مبادرة لزيادة المساحات الخضراء.....
- (اليمن - سوريا - لبنان - مصر) .
- ١٧- أكبر هضاب الوطن العربي مساحة هضبة.....
- (الجلف الكبير - بادية الشام - إفريقيا الشمالية - حضر موت) .

- ١٨- الارتفاع لمسافة ١٥٠ مترا فوق مستوي سطح البحر يؤدي إلي انخفاض درجة الحرارة....
(**درجة واحدة** - درجتين - ثلاث درجات - أربع درجات) .
- ١٩- يتسم مناخ الجزء الجنوبي الغربي من شبه الجزيرة العربية ب.....
(**شتاء بارد ممطر** - صيف حار جاف - **شتاء معتدل جاف** - صيف بارد ممطر) .
- ٢٠- أعلن عن إنشاء مدينة نيوم الخضراء بدولة.....
(**المغرب** - مصر - **السعودية** - الجزائر) .
- ٢١- إحدى هضاب الجناح العربي الآسيوي هضبة.....
(**الشطوط** - الصحراء الكبرى - **المعازة** - **بادية الشام**) .
- ٢٢- تسقط أمطار موسمية صيفية علي دولة.....
(**لبنان** - سوريا - **اليمن** - تونس) .
- ٢٣- تسقط أمطار الإقليم المداري في فصل.....
(**الشتاء** - **الصيف** - الخريف - الربيع) .
- ٢٤- يعاني نحو.....مساحة الوطن العربي من مشكلة التصحر.
(**ثلث** - **ثلثي** - ربع - نصف) .
- ٢٥- تكونت نتيجة ترسيب المواد العالقة في مياه الأنهار تشير العبارة إلي.....
(**السهول الساحلية** - الجبال - الهضاب - **السهول الفيضية**) .
- ٢٦- يحل فصل الشتاء علي الوطن العربي عندما تتعامد الشمس علي.....
(مدار السرطان - **مدار الجدي** - الدائرة القطبية - دائرة الاستواء) .
- ٢٧- تقع محمية ضانا في دولة.....
(سوريا - لبنان - فلسطين - **الأردن**) .
- ٢٨- مشروع صناعة الأخشاب من مخلفات النخيل يوجد في مصر في محافظة.....
(البحر الأحمر - **الوادي الجديد** - شمال سيناء - جنوب سيناء) .
- ٢٩- إحدى الظواهر التي تكونت بفعل التعرية المائية.....
(الجبال - الهضاب - **الأودية الجافة** - التجمعات الرملية) .
- ٣٠- تهب الرياح الحارة علي الوطن من جنوب قارة.....صيفا .
(إفريقيا - أوروبا - **آسيا** - أمريكا) .

- ٣١- يمتد إقليم البحر المتوسط في الجناح الآسيوي للوطن العربي في دولتي.....
(قطر والبحرين - اليمن وعمان - فلسطين ولبنان - العراق والأردن) .
- ٣٢- جائزة عاصمة المدن العربية لعام ٢٠٢٢م حصلت عليها مدينة.....
(رأس محمد - رأس غارب - الخارجة - الدخلة) .
- ٣٣- السهول التي تتميز بتساقط الأمطار في فصل الشتاء هي سهول.....
(البحر المتوسط - البحر الأحمر - الخليج العربي - بحر العرب) .
- ٣٤- يقل سقوط الأمطار في الوطن العربي علي.....
(الجبال - السهول - الأودية - الصحراء) .
- ٣٥- محمية جبل علبة من أشهر محميات الوطن العربي التي تقع في دولة.....
(لبنان - الأردن - السودان - مصر) .
- ٣٦- تمتد هضبة إفريقيا الشمالية من جبال البحر الأحمر إلي المحيط.....
(الهادي - الهندي - الأطنطي - القطبي) .
- ٣٧- يتميز مناخ الوطن العربي بالحرارة الشديدة في فصل.....
(الشتاء - الربيع - الصيف - الخريف) .
- ٣٨- حشائش الإستبس تنمو ضمن إقليم مناخ.....
(البحر المتوسط - المداري - الصحراوي - الموسمي) .
- ٣٩- توجد في دولتي مصر والسودان جبال.....
(كردستان - زاجروس - الحجاز - البحر الأحمر) .
- ٤٠- تقع دولة فلسطين ولبنان ضمن الإقليم المناخ.....
(البحر المتوسط - المداري - الصحراوي - الموسمي) .
- ٤١- تعد من الجبال الالتوائية في الوطن العربي جبال.....
(عسير - البحر الأحمر - عمان - الحجاز) .
- ٤٢- يمتد الإقليم المداري في.....الوطن العربي .
(شمال - جنوب - شرق - غرب) .
- ٤٣- تعوق الشعاب المرجانية إقامة المواني علي سواحل.....في الوطن العربي .
(البحر المتوسط - الخليج العربي - البحر الأحمر - المحيط الأطنطي) .

- ٤٤ - إقليم مناخي يشمل النطاق الساحلي من الصومال وتندر به الأمطار هو.....
 (البحر المتوسط - **المداري** - الصحراوي - الموسمي) .
- ٤٥ - يقصد السياح واحة سيوة في دولة..... للعلاج .
 (الصومال - **مصر** - السودان - جيبوتي) .
- ٤٦ - تنتشر النباتات التي لها قدرة علي تحمل الجفاف في الإقليم المناخي.....
 (البحر المتوسط - المداري - **الصحراوي** - الموسمي) .
- ٤٧ - أكثر أشكال السطح انتشارا في الوطن العربي هي.....
 (الجبال - **الهضاب** - السهول الفيضية - السهول الساحلية) .
- ٤٨ - يعيش الزراف والأسود بالإقليم.....
 (البحر المتوسط - **المداري** - الصحراوي - الموسمي) .
- ٤٩ - تقع بحيرة عسل في دولة.....
 (الصومال - السودان - **جيبوتي** - مصر) .
- ٥٠ - من الأودية التي تكونت بفعل التعرية المائية وادي الجرير في.....
 (مصر - ليبيا - تونس - **السعودية**) .

السؤال الثالث : أكمل العبارات التالية : -

- ١ - أعلى قمة جبلية في الوطن العربي هي قمة جبل توبقال .
- ٢ - يسود معظم أجزاء الوطن العربي المناخ **الحار** .
- ٣ - يتميز إقليم البحر المتوسط بتساقط الأمطار في فصل **الشتاء** .
- ٤ - عُقد مؤتمر المناخ للأمم المتحدة (COP ٢٧) عام ٢٠٢٢م في دولة **مصر** .
- ٥ - تكونت جبال أطلس نتيجة الحركات **الالتوائية** .
- ٦ - الأجزاء الشمالية من الوطن العربي يسودها المناخ **المعتدل** .
- ٧ - تربي الماعز والأغنام في إقليم مناخ **البحر المتوسط** .
- ٨ - تزداد معدلات استهلاك المياه العذبة في الوطن العربي بسبب النمو المتزايد في أعداد **السكان** .
- ٩ - مرتفعات اليمن تكونت نتيجة الحركات **الانكسارية** .
- ١٠ - تتأثر المناطق الساحلية بالتيارات البحرية الدفيئة التي تؤدي إلى ارتفاع **درجات الحرارة** .
- ١١ - يسود معظم مساحة الوطن العربي إقليم المناخ **الصحراوي الحار** .
- ١٢ - يتعرض الوطن العربي لمشكلة التصحر بسبب زحف **الكثبان الرملية** .

- ١٣- تقع هضبة حزموت في الجناح الآسيوي .
- ١٤- يهب على الوطن العربي صيفاً رياح حارة قادمة من جنوب آسيا .
- ١٥- تنمو بالإقليم المداري في الوطن العربي حشائش السافانا .
- ١٦- تؤدي المشكلات البيئية في العديد من مناطق الوطن العربي إلى تدمير الحياة النباتية والحيوانية
- ١٧- أكثر مظاهر السطح انتشاراً في الوطن العربي هي الهضاب .
- ١٨- تنخفض درجة حرارة السواحل عند مرور التيارات البحرية الباردة .
- ١٩- تسقط الأمطار صيفاً في الإقليم المناخي المداري .
- ٢٠- إنشاء المدن الذكية بالوطن العربي يقلل من انبعاث الغازات الدفيئة .
- ٢١- تعتبر جبال عسير من أمثلة الجبال الانكسارية .
- ٢٢- تسقط الأمطار بغزارة على منحدرات الجبال المواجهة للرياح المحملة ببخار الماء .
- ٢٣- ينمو نبات الصبار في الإقليم الصحراوي الحار .
- ٢٤- انطلقت مبادرة زراعة ٤٥٠ مليون شجرة في دولة السعودية .
- ٢٥- يمتد بحر الرمال العظيم بين مصر و ليبيا .
- ٢٦- الأمطار التي تسقط صيفاً على معظم أنحاء الصومال تسمى أمطار موسمية .
- ٢٧- تقع محمية ضانا في دولة الأردن .
- ٢٨- تكونت السهول الفيضية نتيجة رواسب الأنهار .
- ٢٩- تسقط الأمطار شتاءً في الوطن العربي على المناطق المطلة على البحر المتوسط .
- ٣٠- تعد سهول دجلة والفرات من السهول الفيضية .
- ٣١- حركة مياه البحر والمحيطات تسمى التيارات البحرية .

السؤال الرابع : صوب العبارات التالية : -

- ١- تكونت جبال زاغروس نتيجة للحركات الانكسارية . الالتوائية
- ٢- يسود المناخ المعتدل مناطق الوطن العربي الجنوبية . الشمالية
- ٣- نقص كمية الأمطار بما لا يسمح بالزراعة ونمو الحشائش، تشير العبارة إلى التصحر . الجفاف
- ٤- تعد جبال البحر الأحمر ومرتفعات اليمن من الجبال الالتوائية . الانكسارية
- ٥- يقترب الوطن العربي من قارة أستراليا . أوروبا
- ٦- سببت موجة الجفاف حدوث مجاعة لأكثر من مليون شخص في دولة تونس . الصومال
- ٧- تقع هضبة بادية الشام في الجناح العربي الإفريقي . الآسيوي

- ٨- يحل فصل الشتاء على الوطن العربي عندما تتعامد الشمس على دائرة الاستواء . مدار الجدي
- ٩- تتناقص قدرة الأرض على الإنتاج بسبب استخدام طرق الري الحديثة . التقليدية
- ١٠- توجد جبال الحجاز على الساحل الشرقي للبحر المتوسط . الأحمر
- ١١- يعاني الوطن العربي من شدة البرودة شتاء في بعض الأجزاء الجنوبية . الشمالية
- ١٢- تعمل الدول العربية على حل مشكلات البيئة بإقامة مساكن مستقرة للسباح . للرعاة
- ١٣- تكونت سهول دجلة والفرات عن طريق ترسب المواد العالقة بمياه البحار . الأنهار
- ١٤- تنخفض درجات الحرارة فوق الجبال فتتكون الرمال . الثلج
- ١٥- يمكن حل المشكلات البيئية عن طريق زيادة المناطق السكنية . المساحات الخضراء

السؤال الخامس : اكتب ما تشير اليه العبارة : -

- ١- الحركات الباطنية التي أدت إلى تكون جبال أطلس . الجبال الالتوائية
- ٢- مشكلة تحدث نتيجة لزيادة استهلاك المياه . ندرة المياه العذبة
- ٣- الحركات الباطنية التي أدت إلى تكون جبال البحر الأحمر . الجبال الانكسارية
- ٤- نقص كمية الأمطار في بعض السنوات بما لا يسمح بالزراعة أو نمو الحشائش . الجفاف
- ٥- سهول كونتها الأنهار نتيجة ترسيب المواد العالقة بمياهها . السهول الفيضية
- ٦- تدهور الأراضي وتناقص قدرتها على الإنتاج . التصحّر
- ٧- دولة عربية تعرضت لأكبر موجة جفاف . الصومال

السؤال السادس : اجب عما يأتي : -

- ١- نشأة جبال أطلس .
- ☞ نتيجة حركات التوائية التي تعرضت لها الأرض .
- ٢- مدينة الإسكندرية أكثر اعتدالا في مناخها من مدينة الرياض .
- ☞ لأن الإسكندرية مدينة ساحلية حيث البحر المتوسط يلطف درجات الحرارة .
- ٣- أهمية حشائش الإستبس بالنسبة للثروة الحيوانية .
- ☞ حيث يربي عليها الماعز والأغنام .
- ٤- حدوث الجفاف في بعض الدول العربية .
- ☞ بسبب نقص كمية الأمطار في بعض السنوات بما لا يسمح بالزراعة .
- ٥- نشأة جبال البحر الأحمر .
- ☞ نتيجة حركات انكسارية في قشرة الأرض .

- ٦- يقل تأثير المسطحات المائية مناخيا على الوطن العربي .
- ☞ بسبب ضيق مساحة المسطحات المائية وعدم توغل تأثيرها إلى الداخل .
- ٧- أهمية المحميات الطبيعية .
- ☞ تنشيط السياحة ، الحفاظ على الحياة البرية .
- ٨- زيادة معدل استهلاك المياه العذبة بالوطن العربي .
- ☞ النمو المتزايد في أعداد السكان .
- ٩- تكون التجمعات الرملية في وطننا العربي .
- ☞ بفعل التعرية الهوائية .
- ١٠- يختلف مناخ المناطق المرتفعة عن مناخ الأودية والسهول .
- ☞ لأن كلما ارتفعنا ١٥٠ متر عن سطح البحر تنخفض درجة الحرارة درجة مئوية واحدة .
- ١١- تنوع الأقاليم المناخية في وطننا العربي .
- ☞ بسبب اتساع مساحة الوطن العربي .
- ١٢- حدوث مشكلة التصحر في مساحات واسعة من الوطن العربي .
- ☞ بسبب استخدام طرق الري التقليدية . فتحي المراكبي
- ١٣- أهمية الأودية الجافة .
- ☞ تستخدم كطرق للمواصلات ، الحصول منها على المياه الجوفية .
- ١٤- اعتدال الحرارة على معظم أرجاء الوطن العربي شتاء .
- ☞ بسبب المسطحات المائية التي تعمل على تلطيف الحرارة .
- ١٥- سقوط الأمطار صيفاً على جنوب غرب شبه الجزيرة العربية .
- ☞ بسبب وقوعها ضمن الإقليم المداري .
- ١٦- إنشاء المدن الذكية .
- ☞ لتقليل انبعاث الغازات الدفيئة .
- ١٧- صعوبة إنشاء المواني على سواحل البحر الأحمر .
- ☞ بسبب وجود الشعاب المرجانية .
- ١٨- تنخفض درجات الحرارة شتاء بالوطن العربي .
- ☞ بسبب تعرضه لهبوب رياح شديدة البرودة قادمة من أوروبا وآسيا شتاء .

- ١٩- تكون سهول وادي النيل .
- ☞ بسبب ترسيب المياه العالقة بمياه نهر النيل .
- ٢٠- ترتفع درجات الحرارة صيفا بالوطن العربي .
- ☞ بسبب تعرضه لهبوب رياح حارة قادمة من جنوب آسيا صيفا .
- ٢١- أهمية السهول الفيضية في وطننا العربي .
- ☞ تعد تربتها أخصب أنواع الأراضي .
- ٢٢- تغطي الثلوج قمة جبل توبقال في المغرب .
- ☞ لأن كلما ارتفعنا ١٥٠ متر عن سطح البحر تنخفض درجة الحرارة درجة مئوية واحدة .
- ٢٣- يعيش بعض السكان في الواحات .
- بسبب قيام الزراعة اعتمادا على المياه الجوفية العذبة .

ب : ما النتائج المترتبة على :

- ١ - حدوث الحركات الالتوائية .
- ☞ نشأة الجبال الالتوائية مثل جبل أطلس .
- ٢ - الموقع الفلكي للوطن العربي .
- ☞ سيادة المناخ الحار جنوب الوطن العربي والمناخ المعتدل في الأجزاء الشمالية .
- ٣ - ظهور تهديدات تواجه المحميات الطبيعية في الوطن العربي .
- ☞ اتخذت معظم الدول إجراءات للحفاظ على هذه المحميات كسن القوانين .
- ٤ - تعرّض الصومال لأكبر موجة جفاف بالوطن العربي .
- ☞ إدي إلى نقص الغذاء وحدث مجاعة لأكثر من مليون شخص .
- ٥ - حدوث الحركات الانكسارية .
- ☞ نشأة الجبال الانكسارية مثل جبال الحجاز .
- ٦ - تعامد الشمس على مدار السرطان صيفاً بالنسبة للوطن العربي .
- ☞ ارتفاع درجات الحرارة بشكل عام في الوطن العربي .
- ٧ - امتداد إقليم المناخ الصحراوي الحار بين ١٥:٣٠ شمالاً .
- ☞ إدي إلى تغطيته معظم مساحة الوطن العربي .
- ٨ - الرعي الجائر للحيوانات في الوطن العربي .
- ☞ إدي لحدوث مشكلة التصحر .

٩- وجود المياه الجوفية في الواحات .

☞ **إدي إلي قيام الزراعة .**

١٠- مرور التيارات البحرية الدفيئة بالقرب من المناطق الساحلية .

☞ **تؤدي لارتفاع درجات الحرارة بالسواحل التي تمر بها .**

١١- وجود العديد من المشكلات البيئية في الوطن العربي .

☞ **إدي لتهديد صحة المواطن العربي وحياته ، تدمير الحياة النباتية والحيوانية .**

١٢- تنوع مظاهر سطح الوطن العربي .

☞ **إدي إلي تنوع الموارد والثروات .**

ج : دلل علي صحة العبارات الآتية :

١ : ساعدت مساحة الوطن العربي على اختلاف الظروف المناخية فيه .

☞ **حيث يوجد في الوطن العربي ثلاثة أقاليم وكل إقليم مختلف عن غيره .**

د : ما العلاقة بين كل من :

١ - التصحر ، الغابات .

☞ **يؤدي إزالة الغابات إلي حدوث التصحر المراكبي**

٢- السكان ، مشكلة ندرة المياه .

☞ **يؤدي النمو المتزايد في السكان لحدوث مشكلة ندرة المياه .**

٣- المشكلات البيئية ، الحياة الحيوانية والنباتية .

☞ **تؤدي المشكلات البيئية إلي تدمير الحياة الحيوانية .**

٤- الطاقة النظيفة ، المشكلات البيئية .

☞ **يساعد استخدامها علي تقليل أثر المشكلات البيئية .**

هـ : أجب عن الأسئلة الآتية :

١ - ما المقصود بالإقليم المناخي؟

☞ **منطقة جغرافية من سطح الأرض تتسم بخصائص مناخية تميزها عن غيرها .**

ز- صنف النباتات الآتية حسب الإقليم المناخي الذي توجد فيه :

(حشائش السافانا - أشجار الزيتون - الصبار - حشائش الإستبس)

☞ حشائش السافانا : توجد في الإقليم المناخي المداري .

☞ أشجار الزيتون وحشائش الاستبس : توجد في إقليم مناخ البحر المتوسط .

☞ الصبار : يوجد في الإقليم المناخي الصحراوي الحار .

و : اكتب دليلا واحدا علي :

١- تعدد المشكلات البيئية في الوطن العربي .

☞ الجفاف ، ندرة المياه العذبة ، التصحر .

٢- تبذل السعودية جهودًا لمواجهة المشكلات البيئية .

☞ أطلقت مبادرة لزراعة ٥٠ مليون شجرة .

ي : حدد المختلف فيما يلي مع ذكر السبب :

١ - ثعلب - ثعبان - سحلية - زرافة .

. زرافة : لأنها من الحيوانات التي تعيش في حشائش السافانا في الإقليم المداري .

٢- أشجار الصنوبر - أشجار الزيتون - نبات الصبار - أشجار الأرز .

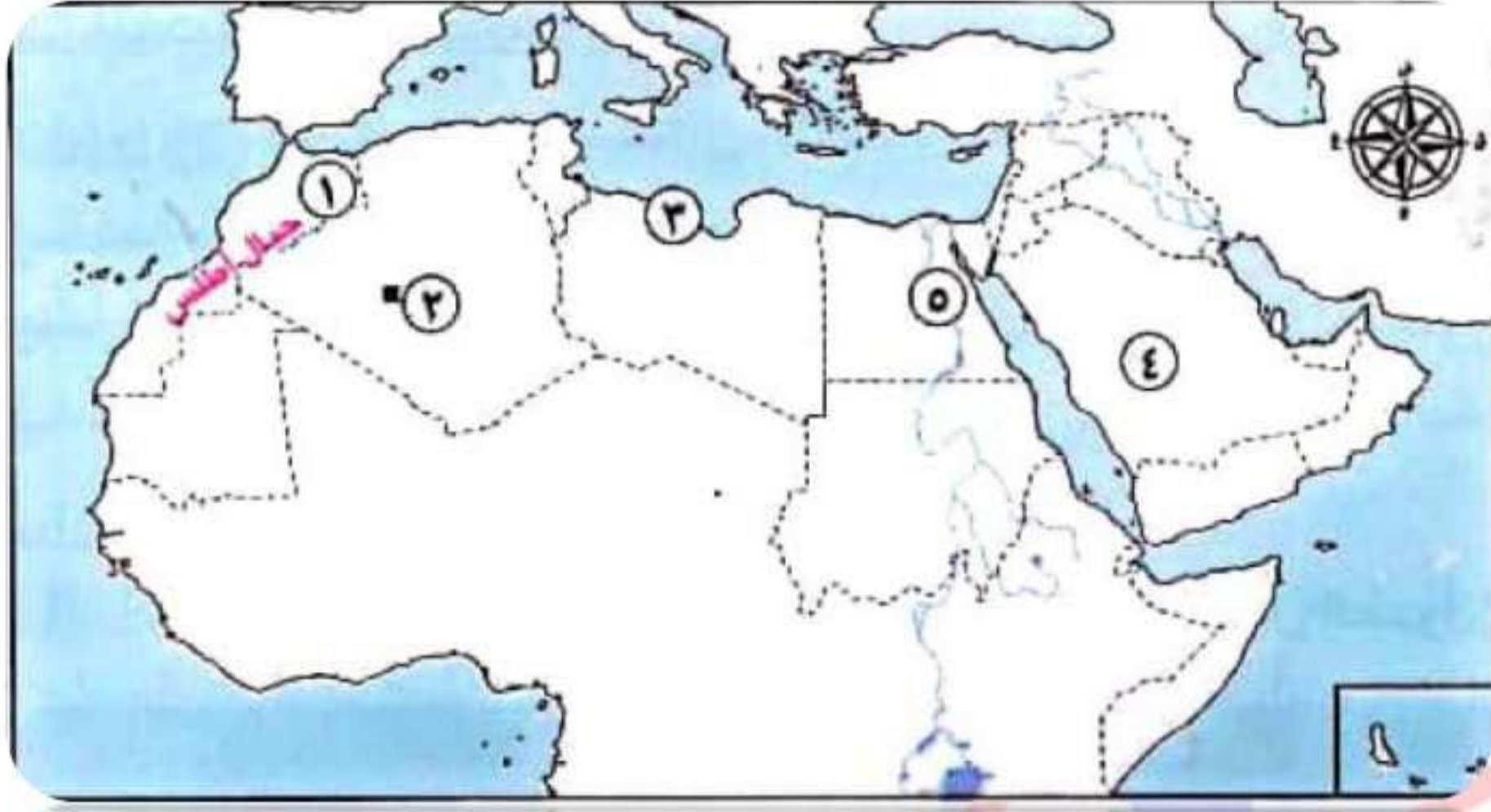
. نبات الصبار : لأنه من نباتات الإقليم الصحراوي الحار .

01016058940

السؤال السابع : الخرائط : -

1

أمامك خريطة صماء للوطن العربي اكتب مدلول الأرقام :



١ - نشأت الجبال نتيجة لحركات التوائية

٢ - واحة عين صالح

٣ - تصنف السهول لسهول ساحلية

٤ - تنتمي الهضبة للجناح الآسيوي

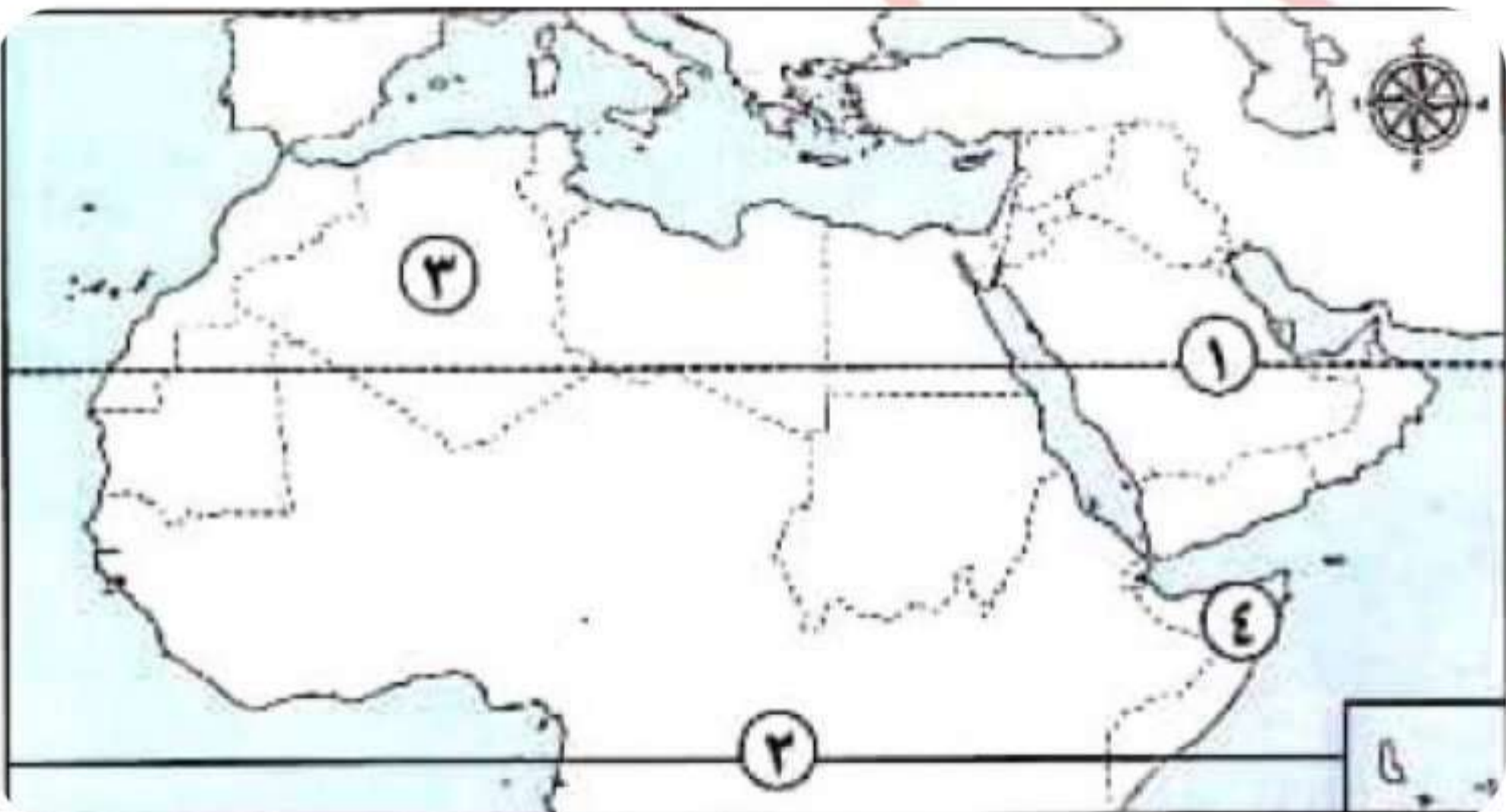
٥ - تعد سهولا فيضية

الأستاذ

أحمد فتحي المراكبي

01016058940

أمامك خريطة صماء للوطن العربي اكتب مدلول الأرقام :



١ - مدار السرطان

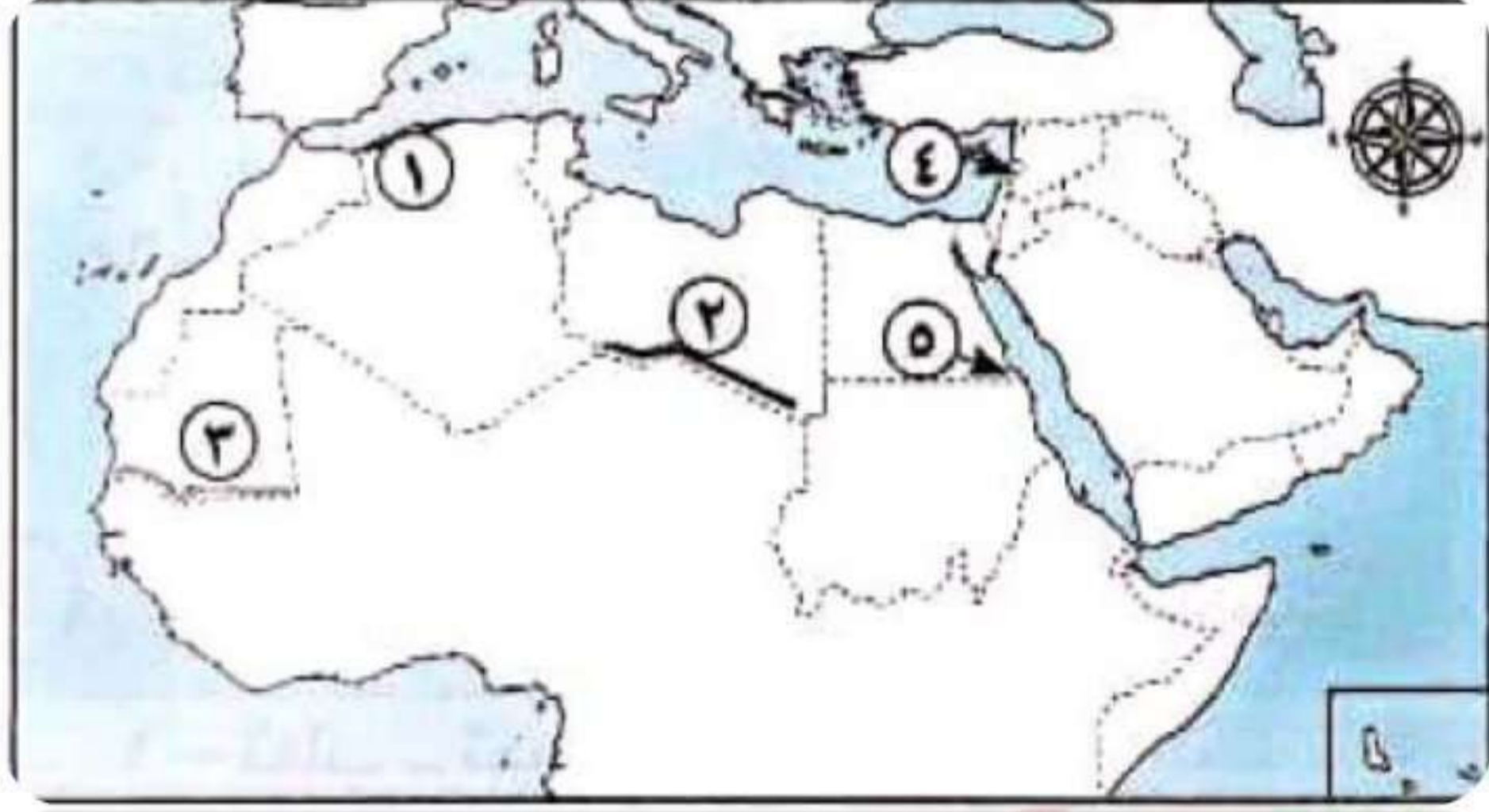
٢ - دائرة الاستواء

٣ - منطقة يسودها مناخ حار

٤ - دولة تسقط عليها أمطار موسمية الصومال

3

أمامك خريطة صماء للوطن العربي اكتب مدلول الأرقام :



١ - إقليم مناخي البحر المتوسط

٢ - إقليم مناخي الصحراوي الحار

٣ - إقليم مناخي المداري

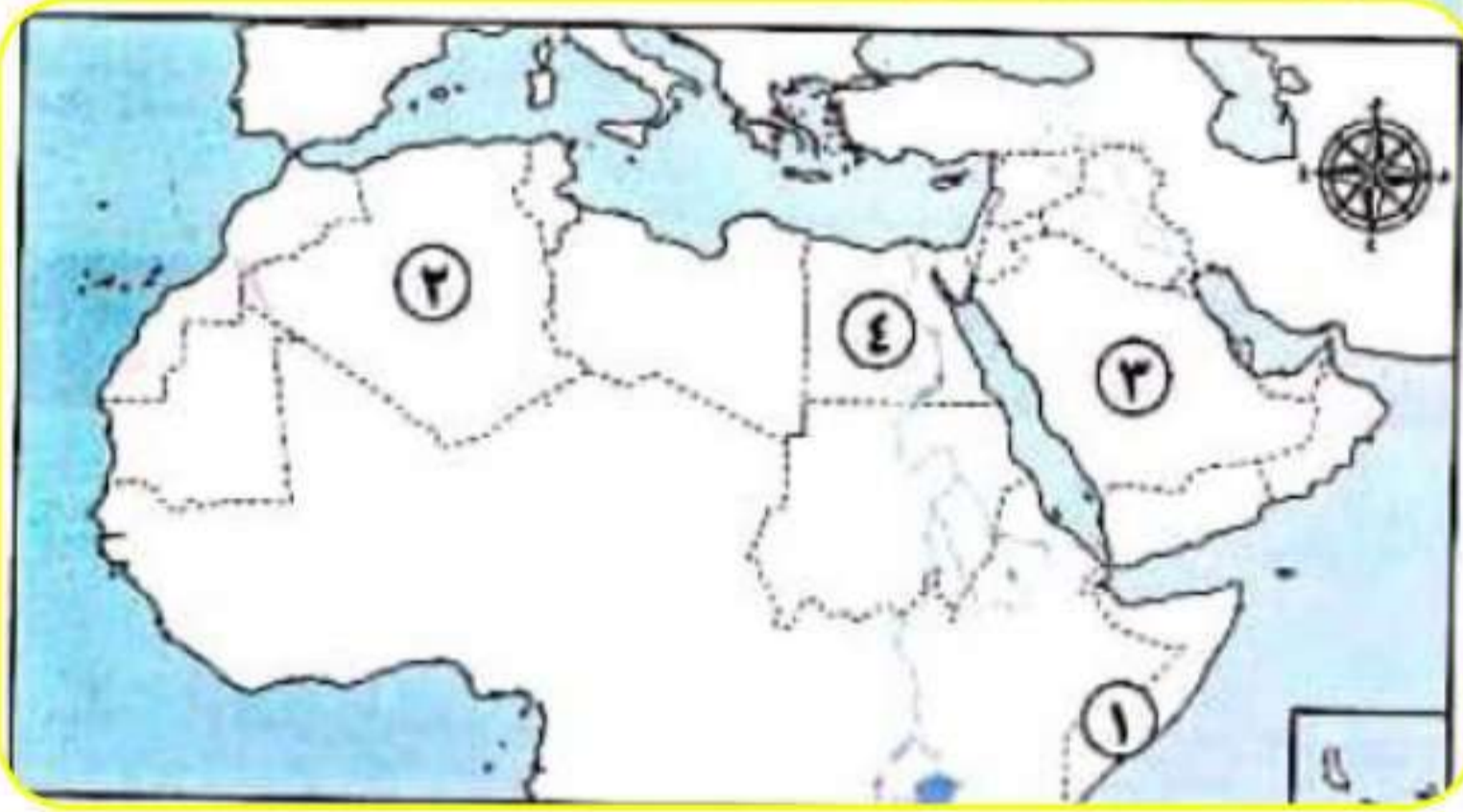
٤ - دولة تقع فيها محمية أرز الشوف لبنان

٥ - إحدى المحميات المصرية جبل علبة

4

الأستاذ
أحمد فتحي المراكبي

أمامك خريطة صماء للوطن العربي اكتب مدلول الأرقام :

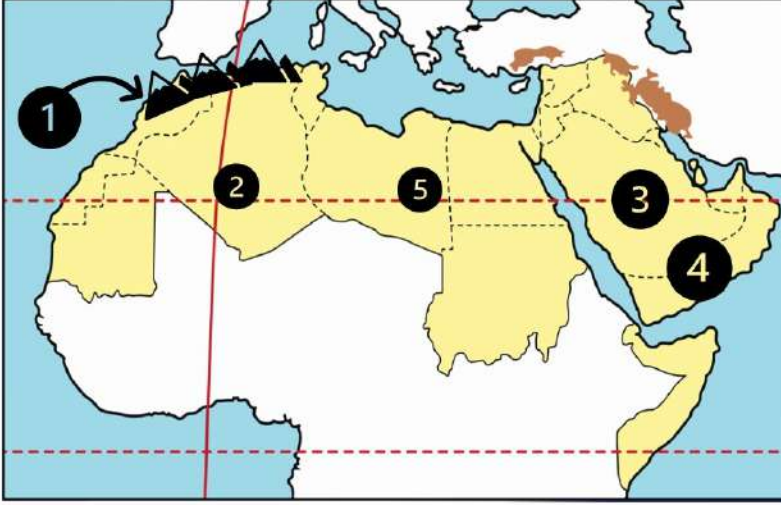


١ - دولة تعرضت لأكبر موجة جفاف رقم (١)

٢ - دولة أعلنت عن بناء مدينة نيوم الخضراء رقم (٣)

٣ - دولة أطلقت مبادرة لزراعة ١٠٠ مليون شجرة رقم (٤)

الدرس (1) مظاهر سطح وطننا العربي

الوحدة
الثانيةالسؤال الأول
لاحظ الخريطة ثم أجب

- ① جبال
- ② واحة
- ③ هضبة
- ④ هضبة
- ⑤ واحة

السؤال الثاني
أكمل العبارات التالية بكلمات مناسبة

- ① أعلى قمة جبلية في الوطن العربي هي قمة جبل
- ② أدنى نقطة في الوطن العربي هي في الأردن
- ③ يوجد في وطننا العربي نوعان من جبال وجبال
- ④ تقع واحة عين صالح في دولة
- ⑤ يقع وادي الجرير في دولة
- ⑥ تكونت جبال أطلس نتيجة الحركات
- ⑦ مرتفعات اليمن تكونت نتيجة
- ⑧ تقع هضبة حضر موت في الجناح
- ⑨ يصعب إقامة مواني على ساحل البحر الأحمر لوجود
- ⑩ أكبر الظواهر التضاريسية مساحة في الوطن العربي هي
- ⑪ أكثر مظاهر السطح انتشارا في الوطن العربي هي
- ⑫ تعتبر جبال عسير من أمثلة الجبال
- ⑬ يمتد بحر الرمال العظيم بين مصر و

- 14) تكونت السهول الفيضية نتيجة
- 15) تكونت الأودية الجافة في الوطن العربي نتيجة
- 16) تقع سهول دجلة والفرات في قارة
- 17) تعد سهول دجلة والفرات من السهول
- 18) تكونت التجمعات الرملية بفعل
- 19) تقوم الزراعة بواحة صالح اعتماداً على
- 20) تتميز السهول الساحلية المطلة على البحر المتوسط بأمطارها في فصل

السؤال الثالث / اكتب كلمة (صواب) أمام العبارة الصحيحة وكلمة (خطأ) أمام العبارة غير الصحيحة

- 1) توجد جبال أطلس في الجناح الآسيوي للوطن العربي ()
- 2) بحر الرمال العظيم يقع بين دولتي مصر والسودان ()
- 3) تقع سلاسل جبال الحجاز وعسير في شبه جزيرة سيناء ()
- 4) تقع جبال الحجاز في الجناح الإفريقي من الوطن العربي ()
- 5) هضبة حضر موت إحدى هضاب الجناح الآسيوي ()
- 6) تقع هضبة بادية الشام في وسط شبه الجزيرة العربية ()
- 7) تكونت جبال أطلس نتيجة انكسار في القشرة الأرضية ()
- 8) جبال عُمان أحد أنواع الجبال الالتوائية في الوطن العربي ()
- 9) تستخرج الثروات المعدنية ومصادر الطاقة من سهول البحر الأحمر ()
- 10) أدنى نقطة في سطح الوطن العربي هي بحر قزوين ()
- 11) تتميز سهول المحيط الأطلنطي بقلّة السكان وسهولة التنقل ()
- 12) تتميز سهول البحر المتوسط بأنها كثيرة السكان ()
- 13) تقوم الزراعة في الواحات اعتماداً على المياه الجوفية ()
- 14) ساعد تنوع مظاهر السطح على تنوع الأنشطة الاقتصادية ()

السؤال الرابع اختر الاجابة الصحيحة مما بين القوسين

- ① تقع بحيرة عسل في دولة
(الصومال - السودان - جيبوتي - مصر)
- ② يقصد السياح واحة سيوة في دولة للعلاج
(الصومال - مصر - السودان - جيبوتي)
- ③ من الأودية التي تكونت بفعل التعرية المائية وادي الجريير في
(مصر - ليبيا - تونس - السعودية)
- ④ أكثر أشكال السطح انتشارا في الوطن العربي هي
(الجبال - الهضاب - السهول الفيضية - السهول الساحلية)
- ⑤ تعوق الشعاب المرجانية إقامة الموانئ على ساحل في الوطن العربي
(البحر المتوسط - الخليج العربي - البحر الأحمر - المحيط الأطلسي)
- ⑥ توجد في دولتي مصر والسودان جبال
(كردستان - زاجروس - عسير - البحر الأحمر)
- ⑦ تمتد هضبة إفريقيا الشمالية من جبال البحر الأحمر إلى المحيط
(الهادي - الهندي - الأطلسي - القطبي)
- ⑧ أحد الجبال الالتوائية في الوطن العربي هي جبال
(الشام - الحجاز - أطلس - عسير)
- ⑨ جبال نشأت نتيجة انكسار في القشرة الأرضية
(كردستان - زاجروس - عمان - عسير)
- ⑩ إحدى هضاب الجناح العربي الآسيوي
(الشطوط - الصحراء الكبرى - المعازة - بادية الشام)
- ⑪ (تكونت نتيجة ترسب المواد العالقة في مياه الأنهار) تشير هذه العبارة إلى
(السهول الساحلية - الجبال - الهضاب - السهول الفيضية)

- ⑫ السهول الساحلية التي تتميز بتساقط الأمطار في فصل الشتاء هي سهول
(البحر المتوسط - البحر الأحمر - الخليج العربي - بحر العرب)
- ⑬ (تستخدم كطريق للمواصلات في الصحاري) تنطبق العبارة على
(السهول الفيضية - السهول الساحلية - الأودية الجافة - الجبال الإنكسارية)
- ⑭ تعتمد الزراعة في الواحات على
(المياه الجوفية - البحار - الأنهار - الأمطار الشتوية)
- ⑮ السهول التي تتميز بتربها الفقيرة أو الملحية تقع على
(البحر المتوسط - المحيط الأطلسي - نهر النيل - الخليج العربي)

السؤال الخامس / أجب عما يأتي؟

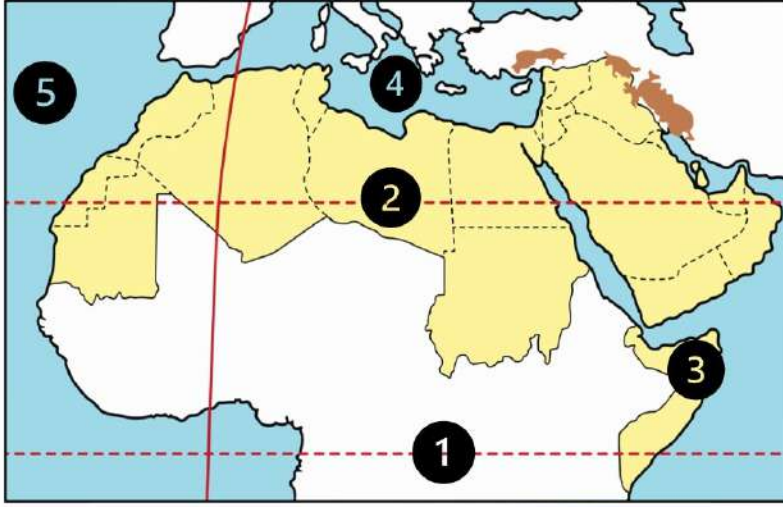
- ① بم تفسر // نشأة جبال البحر الأحمر ؟
.....
- ② بم تفسر // نشأة جبال أطلس ؟
.....
- ③ بم تفسر // أهمية الأودية الجافة؟
.....
- ④ بم تفسر // قلة الموانئ على البحر الأحمر؟
.....
- ⑤ بم تفسر // يعيش بعض السكان في الواحات ؟
.....
- ⑥ بم تفسر // تكون السهول الفيضية في الوطن العربي ؟
.....
- ⑦ ما النتائج المترتبة على // تنوع مظاهر سطح الوطن العربي ؟
.....
- ⑧ ما النتائج المترتبة على // وجود الشعاب المرجانية على ساحل البحر الأحمر ؟
.....
- ⑨ حدد أوجه التشابه والاختلاف بين // جبال البحر الأحمر وجبال أطلس

جبال البحر الأحمر	جبال أطلس	
		التشابه
		الاختلاف

الوحدة الثانية

الدرس (2) العوامل المؤثرة في مناخ وطننا العربي

السؤال الأول لاحظ الخريطة ثم أجب



- ① دائرة
- ② مدار
- ③ دولة تسقط عليها
أمطار موسمية
- ④ البحر
- ⑤ المحيط

السؤال الثاني أكمل العبارات التالية بكلمات مناسبة

- ① يسود المناخ معظم أجزاء الوطن العربي
- ② يسود المناخ المعتدل الأجزاء من الوطن العربي
- ③ تسقط الأمطار بغزارة على منحدرات الجبال المواجهة للرياح لأنها محملة بـ
- ④ الرياح الباردة تهب على الوطن العربي من أوروبا و
- ⑤ يهب على الوطن العربي صيفا رياح حارة قادمة من جنوب
- ⑥ تمر دائرة الاستواء الوطن العربي
- ⑦ الأمطار التي تسقط صيفا على معظم أنحاء الصومال تسمى
- ⑧ حركة مياه البحار والمحيطات تسمى

السؤال الثالث اكتب كلمة (صواب) أمام العبارة الصحيحة وكلمة (خطأ) أمام العبارة غير الصحيحة

- ① يؤثر الموقع الفلكي للوطن العربي على مناخه ()
- ② تمر دائرة الاستواء في شمال الوطن العربي ()
- ③ ترتفع درجات الحرارة كلما اتجهنا جنوب الوطن العربي ()
- ④ المناطق الداخلية من الوطن العربي تكون أكثر اعتدالا من المناطق الساحلية ()
- ⑤ تؤثر المسطحات المائية على مناخ الوطن العربي ()

- ⑥ تؤثر المسطحات المائية على المدى الحراري اليومي والسنوي ()
- ⑦ تسقط الأمطار على مرتفعات اليمن شتاء ()
- ⑧ تسقط الأمطار صيفا على الأطراف الشمالية للوطن العربي ()
- ⑨ يتعرض الوطن العربي إلى رياح حارة صيفا قادمة من أوروبا ()
- ⑩ يؤدي سوء الأحوال المناخية إلى تأجيل أو إلغاء الرحلات الجوية ()
- ⑪ لا يتم مراعاة الظروف المناخية عند اختيار المواقع لبناء المطارات ()

السؤال الرابع اختر الاجابة الصحيحة مما بين القوسين

- ① يمر بأراضي الوطن العربي جنوبا
(الدائرة القطبية الشمالية - مدار السرطان - دائرة الاستواء - خط جرينتش)
- ② يقل سقوط الأمطار في الوطن العربي على
(الجبال - السهول - الأودية - الصحراء)
- ③ المناطق القريبة من المسطحات المائية يكون مناخها
(شديد الحرارة والجفاف - أكثر اعتدالا ومطرا - اقل اعتدالا ومطرا - شديد البرودة والجفاف)
- ④ يتميز مناخ الوطن العربي بالحرارة الشديدة في فصل
(الشتاء - الربيع - الصيف - الخريف)
- ⑤ تهب على الوطن العربي شتاء رياح شديدة البرودة قادمة من
(قارة إفريقيا - المحيط الهندي - قارة أوروبا - المحيط الهادي)
- ⑥ مناخ مدينة الإسكندرية معتدل أكثر من مناخ مدينة الرياض بسبب تأثير
(اتجاه المرتفعات - المسطحات المائية - التيارات البحرية - خط جرينتش)
- ⑦ الارتفاع لمسافة ١٥٠ متر فوق مستوى سطح البحر يؤدي إلى انخفاض درجة الحرارة بقدر
(درجة واحدة - درجتين - ثلاث درجات - أربع درجات)
- ⑧ تسقط أمطار موسمية صيفية على دولة
(لبنان - سوريا - اليمن - تونس)

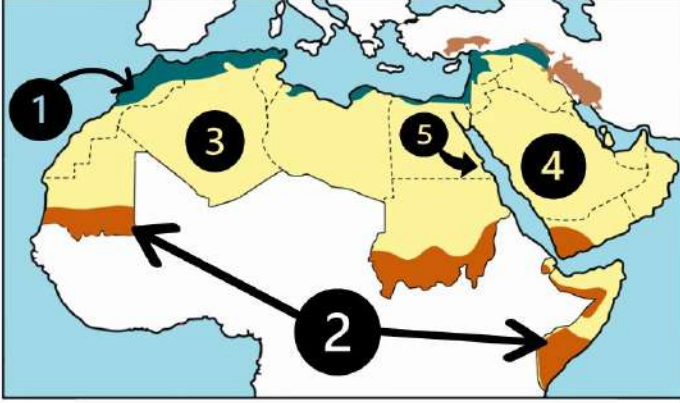
- ⑨ يحل فصل الشتاء على الوطن العربي عندما تتعامد الشمس على
(مدار السرطان - مدار الجدي - الدائرة القطبية - دائرة الاستواء)
- ⑩ يحل فصل الصيف على الوطن العربي عندما تتعامد الشمس على
(مدار السرطان - مدار الجدي - الدائرة القطبية - دائرة الاستواء)

السؤال الخامس / أجب عما يأتي؟

- ① ما النتائج المترتبة على // الموقع الفلكي للوطن العربي ؟
.....
.....
- ② بم تفسر // ارتفاع درجة الحرارة في المناطق الجنوبية للوطن العربي ؟
.....
.....
- ③ بم تفسر // انخفاض درجة الحرارة في الأجزاء الشمالية من الوطن العربي ؟
.....
.....
- ④ بم تفسر // المناطق الساحلية أكثر اعتدالا من المناطق الداخلية (القارية) بالوطن العربي؟
.....
.....
- ⑤ بم تفسر // انخفاض درجة الحرارة شتاء في المناطق الداخلية (القارية) ؟
.....
.....
- ⑥ بم تفسر // ارتفاع درجة الحرارة صيفا في المناطق الداخلية (القارية) ؟
.....
.....
- ⑦ بم تفسر // مناخ مدينة الإسكندرية أكثر اعتدالا من مناخ مدينة الرياض ؟
.....
.....
- ⑧ بم تفسر // يقل تأثير المسطحات المائية في الوطن العربي ؟
.....
.....
- ⑨ بم تفسر // انخفاض درجة الحرارة في المناطق المرتفعة بالوطن العربي؟
.....
.....
- ⑩ دلل // يؤثر المناخ على الأنشطة البشرية مثل الطيران
.....
.....

الوحدة الثانية
الدرس (3) الأقاليم المناخية والنباتية في وطننا العربي

السؤال الأول / لاحظ الخريطة ثم أجب



- ① إقليم مناخ
- ② إقليم المناخ
- ③ إقليم المناخ
- ④ دولة
- ⑤ إحدى المحميات المصرية

السؤال الثاني / أكمل العبارات التالية بكلمات مناسبة

- ① يسود الوطن العربي أقاليم مناخية
- ② يتميز إقليم البحر المتوسط بتساقط الأمطار في فصل
- ③ تربي الأغنام والماعز في إقليم مناخ
- ④ يسود معظم الوطن العربي إقليم المناخ
- ⑤ ينتشر في إقليم البحر المتوسط أشجار و.....
- ⑥ تنمو بالإقليم المداري في الوطن العربي حشائش
- ⑦ تسقط الأمطار صيفا في الإقليم المناخي
- ⑧ ينمو نبات الصبار في الإقليم
- ⑨ تقع محمية ضانا في دولة
- ⑩ تقع محمية أرز الشوف بدولة

السؤال الثالث / اكتب كلمة (صواب) أمام العبارة الصحيحة وكلمة (خطأ) أمام العبارة غير الصحيحة

- ① تعيش الأسود في إقليم مناخ البحر المتوسط ()
- ② تقع محمية ضانا في الكويت ()
- ③ تنوع الأقاليم المناخية في الوطن العربي أدى إلى تنوع النبات الطبيعي ()
- ④ تربي الماعز والأغنام في الإقليم المداري ()

- ⑤ يشغل معظم مساحة الوطن العربي الإقليم الصحراوي ()
- ⑥ تنمو حشائش السافانا في إقليم البحر المتوسط ()
- ⑦ تنمو حشائش السافانا في الإقليم المداري بالوطن العربي ()
- ⑧ يقل المدي الحراري في معظم الصحاري الكبرى بالوطن العربي ()
- ⑨ تساعد المحميات الطبيعية في الحفاظ على الحياة البرية بالوطن العربي ()
- ⑩ يحتفل العالم يوم ٣ مارس من كل عام باليوم العالمي للحياة البرية ()

السؤال الرابع اختر الاجابة الصحيحة مما بين القوسين

- ① تسقط أمطار إقليم البحر المتوسط في فصل
(الشتاء - الخريف - الربيع - الصيف)
- ② تسقط أمطار الإقليم المداري في فصل
(الشتاء - الخريف - الربيع - الصيف)
- ③ يمتد الإقليم المداري في الوطن العربي
(شمال - جنوب - شرق - غرب)
- ④ يمتد إقليم البحر المتوسط في الوطن العربي
(شمال - جنوب - شرق - غرب)
- ⑤ محمية جبل علبة من أشهر المحميات في الوطن العربي والتي تقع بدولة
(الصومال - مصر - السودان - جيبوتي)
- ⑥ إحدى الدول العربية التي تقع أجزاءها الشمالية في إقليم مناخ البحر المتوسط
(موريتانيا - ليبيا - السودان - اليمن)
- ⑦ حشائش الإستبس تنمو في إقليم مناخي
(البحر المتوسط - الصحراوي - المداري - الموسمي)
- ⑧ تنمو أشجار الأرز في إقليم مناخ
(الاستوائي - الصحراوي الحار - البحر المتوسط - المداري)

- ⑨ تنتشر النباتات التي لها قدرة على تحمل الجفاف في الإقليم المناخي
(المداري - الصحراوي الحار - المتوسط - الموسمي)
- ⑩ تقع دولة فلسطين ولبنان ضمن الإقليم المناخي
(الاستوائي - الصحراوي الحار - البحر المتوسط - المداري)
- ⑪ دولة عربية تقع بالكامل داخل الإقليم الصحراوي الحار هي
(الجزائر - الكويت - السودان - لبنان)
- ⑫ يعيش الزراف والأسود بالإقليم
(الصحراوي - البحر المتوسط - المداري - الموسمي)
- ⑬ إقليم مناخي يشمل النطاق الساحلي من الصومال وتندر به الأمطار هو الإقليم
(المداري - الصحراوي - البحر المتوسط - الموسمي)
- ⑭ يتسم مناخ الجزء الجنوبي الغربي من شبه الجزيرة العربية بأنه
(شتاء بارد ممطر - صيف حار جاف - شتاء معتدل جاف - ممطر طوال العام)

السؤال الخامس / أجب عما يأتي؟

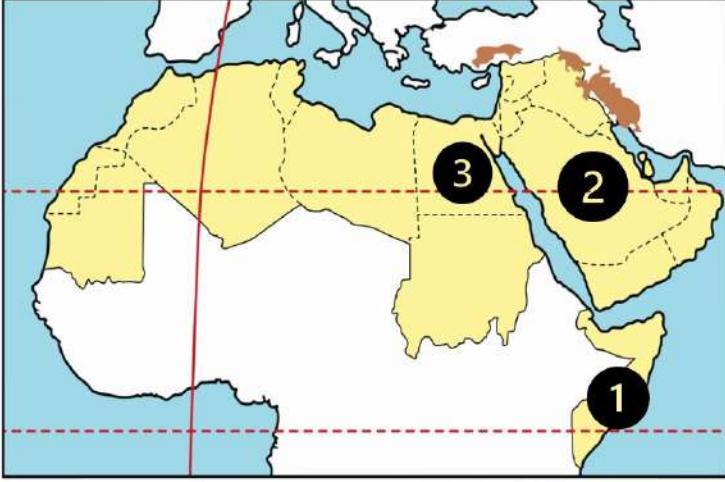
- ① بم تفسر // تنوع الأقاليم المناخية في وطننا العربي ؟
- ② بم تفسر // أهمية حشائش الإستبس بالنسبة للثروة الحيوانية ؟
- ③ بم تفسر // إنشاء الدول العربية المحميات الطبيعية ؟
- ④ بم تفسر // الأهمية الاقتصادية للمحميات الطبيعية ؟
- ⑤ بم تفسر // سقوط الأمطار صيفا على جنوب غرب شبه الجزيرة العربية ؟
- ⑥ ما النتائج المترتبة على // تنوع الأقاليم المناخية للوطن العربي؟

الوحدة الثانية

الدرس (4) المشكلات البيئية في وطننا العربي

السؤال الأول

لاحظ الخريطة ثم أجب



- ① دولة تعرضت لأكبر موجة جفاف
- ② دولة أعلنت بناء مدينة نيوم الخضراء
- ③ دولة أطلقت مبادرة لزراعة ١٠٠ مليون شجرة مثمرة هي

السؤال الثاني

أكمل العبارات التالية بكلمات مناسبة

- ① عقد مؤتمر المناخ للأمم المتحدة عام ٢٠٢٢ في دولة بمدينة
- ② ظهرت مشكلات بيئية نتيجة التغير المناخي وهي و..... و.....
- ③ إنشاء المدن الذكية بالوطن العربي يقلل من انبعاث
- ④ انطلقت مبادرة زراعة ٤٥٠ مليون شجرة في دولة
- ⑤ تزداد معدلات استهلاك المياه العذبة بالوطن العربي بسبب النمو المتزايد في أعداد
- ⑥ تؤدي المشكلات البيئية في الوطن العربي إلى تدمير
- ⑦ أعلن عن إنشاء مدينة نيوم الخضراء عام ٢٠٢٢ في دولة

السؤال الثالث

اكتب كلمة (صواب) أمام العبارة الصحيحة وكلمة (خطأ) أمام العبارة غير الصحيحة

- ① التغير المناخي من المشكلات البيئية في وطننا العربي ()
- ② الجفاف هو نقص كمية المطر ليومين ()
- ③ يؤثر التغير المناخي على درجة الحرارة وكمية المطر ()
- ④ تعرضت دولة المغرب لأكبر موجة جفاف سببت نقصاً في الغذاء ()
- ⑤ التوسع المستمر في الزراعة يؤدي إلى ندرة المياه العذبة ()
- ⑥ المشكلات البيئية في الوطن العربي تهدد صحة وحياة المواطنين ()

- ⑦ يحدث التصحر في الوطن العربي بسبب استخدام طرق الري الحديثة ()
- ⑧ أنشئت المدن الذكية بهدف تقليل انبعاثات الغازات الدفيئة ()
- ⑨ تهتم الدول العربية باستخدام مصادر الطاقة النظيفة ()
- ⑩ تعاني معظم الدول العربية من ندرة المياه المالحة ()
- ⑪ تحتفل الدول العربية باليوم العربي للبيئة في ١٤ أكتوبر من كل عام ()

السؤال الرابع اختر الاجابة الصحيحة مما بين القوسين

- ① دولة تعاني من أكبر موجة جفاف في وطننا العربي هي
(الصومال - السودان - جيبوتي - مصر)
- ② يعاني نحو مساحة الوطن العربي من مشكلة التصحر
(ثلث - ثلثي - ربع - نصف)
- ③ أعلن عن إنشاء مدينة نيوم الخضراء بدولة
(مصر - ليبيا - تونس - السعودية)
- ④ إحدى الدول العربية التي أطلقت مبادرة لزيادة المساحات الخضراء
(اليمن - سوريا - لبنان - مصر)
- ⑤ تدهور الأرض وتناقص قدرتها على الإنتاج تشير هذه العبارة لتعريف
(الجفاف - الفيضان - التصحر - السيول)
- ⑥ يحدث التصحر بسبب
(زيادة مساحات الغابات - كثرة الأمطار والسيول - زحف الكثبان الرملية - إنشاء المدن الذكية)
- ⑦ مشروع صناعة الأخشاب من مخلفات النخيل يوجد في مصر بمحافظة
(البحر الأحمر - الوادي الجديد - شمال سيناء - جنوب سيناء)
- ⑧ جائزة عاصمة المدن العربية لعام ٢٠٢٢م حصلت عليها مدينة
(رأس محمد - رأس غارب - الخارجة - الداخلة)

السؤال الخامس / أجب عما يأتي؟

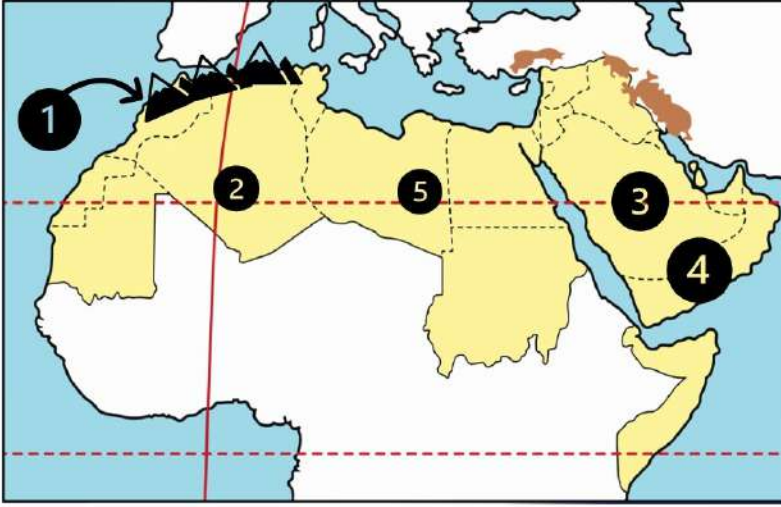
- ① بم تفسر // مشاركة الدول العربية في مؤتمر المناخ للأمم المتحدة ٢٠٢٢ م ؟
- ② بم تفسر // زيادة معدل استهلاك المياه العذبة في الوطن العربي ؟
- ③ بم تفسر // حدوث مشكلة التصحر ؟
- ④ بم تفسر // إنشاء المدن الذكية ؟
- ⑤ ما النتائج المترتبة على // تعرض الصومال لأكبر موجة جفاف بالوطن العربي ؟
- ⑥ ما النتائج المترتبة على // الرعي الجائر للحيوانات في الوطن العربي ؟
- ⑦ ما النتائج المترتبة على // زحف الكثبان الرملية وتناقص المياه الجوفية في وطننا العربي ؟
- ⑧ ما النتائج المترتبة على // وجود العديد من المشكلات البيئية في الوطن العربي ؟

شحتو

الوحدة الثانية

الدرس (1) مظاهر سطح وطننا العربي

السؤال الأول / لاحظ الخريطة ثم أجب



① جبال ...أطلس..

② واحة عين صالح

③ هضبة ...نجد..

④ هضبة ...حضر موت

⑤ واحة ...الكفرة..

السؤال الثاني / أكمل العبارات التالية بكلمات مناسبة

① أعلى قمة جبلية في الوطن العربي هي قمة جبل**توبقال**.....② أدنى نقطة في الوطن العربي هي **البحر الميت** في الأردن③ يوجد في وطننا العربي نوعان من جبال **التوائية** و جبال **انكسارية**④ تقع واحة عين صالح في دولة **الجزائر**⑤ يقع وادي الجرير في دولة **السعودية**⑥ تكونت جبال أطلس نتيجة الحركات **الباطنية(الإلتوائية)**⑦ مرتفعات اليمن تكونت نتيجة **الحركات الإنكسارية**⑧ تقع هضبة حضر موت في الجناح**الآسيوي**.....⑨ يصعب إقامة مواني على ساحل البحر الأحمر لوجود **الشعاب المرجانية**⑩ أكبر الظاهرات التضاريسية مساحة في الوطن العربي هي **هضبة إفريقيا الشمالية**⑪ أكثر مظاهر السطح انتشارا في الوطن العربي هي **الهضاب**.....⑫ تعتبر جبال عسير من أمثلة الجبال **الإنكسارية**.....⑬ يمتد بحر الرمال العظيم بين مصر و**ليبيا**.....

- 14 تكونت السهول الفيضية نتيجة **رواسب الأنهار**
- 15 تكونت الأودية الجافة في الوطن العربي نتيجة **التعرية المائية**
- 16 تقع سهول دجلة والفرات في قارة **آسيا**.....
- 17 تعد سهول دجلة والفرات من السهول **الفيضية**.....
- 18 تكونت التجمعات الرملية بفعل **التعرية الهوائية**
- 19 تقوم الزراعة بواحة صالح اعتماداً على **المياه الجوفية**
- 20 تتميز السهول الساحلية المطلة على البحر المتوسط بأمتارها في فصل **الشتاء**...

السؤال الثالث / اكتب كلمة (صواب) أمام العبارة الصحيحة وكلمة (خطأ) أمام العبارة غير الصحيحة

- 1 توجد جبال أطلس في الجناح الآسيوي للوطن العربي (X)
- 2 بحر الرمال العظيم يقع بين دولتي مصر والسودان (X)
- 3 تقع سلاسل جبال الحجاز وعسير في شبه جزيرة سيناء (X)
- 4 تقع جبال الحجاز في الجناح الإفريقي من الوطن العربي (X)
- 5 هضبة حضر موت إحدى هضاب الجناح الآسيوي (✓)
- 6 تقع هضبة بادية الشام في وسط شبه الجزيرة العربية (X)
- 7 تكونت جبال أطلس نتيجة انكسار في القشرة الأرضية (X)
- 8 جبال عُمان أحد أنواع الجبال الالتوائية في الوطن العربي (✓)
- 9 تستخرج الثروات المعدنية ومصادر الطاقة من سهول البحر الأحمر (✓)
- 10 أدنى نقطة في سطح الوطن العربي هي بحر قزوين (X)
- 11 تتميز سهول المحيط الأطلنطي بقلّة السكان وسهولة التنقل (X)
- 12 تتميز سهول البحر المتوسط بأنها كثيرة السكان (✓)
- 13 تقوم الزراعة في الواحات اعتماداً على المياه الجوفية (✓)
- 14 ساعد تنوع مظاهر السطح على تنوع الأنشطة الاقتصادية (✓)

السؤال الرابع اختر الاجابة الصحيحة مما بين القوسين

- ① تقع بحيرة عسل في دولة
- (الصومال - السودان - جيبوتي - مصر)
- ② يقصد السياح واحة سيوة في دولة للعلاج
- (الصومال - مصر - السودان - جيبوتي)
- ③ من الأودية التي تكونت بفعل التعرية المائية وادي الجريير في
- (مصر - ليبيا - تونس - السعودية)
- ④ أكثر أشكال السطح انتشارا في الوطن العربي هي
- (الجبال - الهضاب - السهول الفيضية - السهول الساحلية)
- ⑤ تعوق الشعاب المرجانية إقامة الموانئ على ساحل في الوطن العربي
- (البحر المتوسط - الخليج العربي - البحر الأحمر - المحيط الأطلسي)
- ⑥ توجد في دولتي مصر والسودان جبال
- (كردستان - زاجروس - عسير - البحر الأحمر)
- ⑦ تمتد هضبة إفريقيا الشمالية من جبال البحر الأحمر إلى المحيط
- (الهادي - الهندي - الأطلسي - القطبي)
- ⑧ أحد الجبال الالتوائية في الوطن العربي هي جبال
- (الشام - الحجاز - أطلس - عسير)
- ⑨ جبال نشأت نتيجة انكسار في القشرة الأرضية
- (كردستان - زاجروس - عمان - عسير)
- ⑩ إحدى هضاب الجناح العربي الآسيوي
- (الشطوط - الصحراء الكبرى - المعازة - بادية الشام)
- ⑪ (تكونت نتيجة ترسب المواد العالقة في مياه الأنهار) تشير هذه العبارة إلى
- (السهول الساحلية - الجبال - الهضاب - السهول الفيضية)

- 12) السهول الساحلية التي تتميز بتساقط الأمطار في فصل الشتاء هي سهول
(البحر المتوسط - البحر الأحمر - الخليج العربي - بحر العرب)
- 13) (تستخدم كطريق للمواصلات في الصحاري) تنطبق العبارة على
(السهول الفيضية - السهول الساحلية - الأودية الجافة - الجبال الإنكسارية)
- 14) تعتمد الزراعة في الواحات على
(المياه الجوفية - البحار - الأنهار - الأمطار الشتوية)
- 15) السهول التي تتميز بتربها الفقيرة أو الملحية تقع على
(البحر المتوسط - المحيط الأطلنطي - نهر النيل - الخليج العربي)

السؤال الخامس / أجب عما يأتي؟

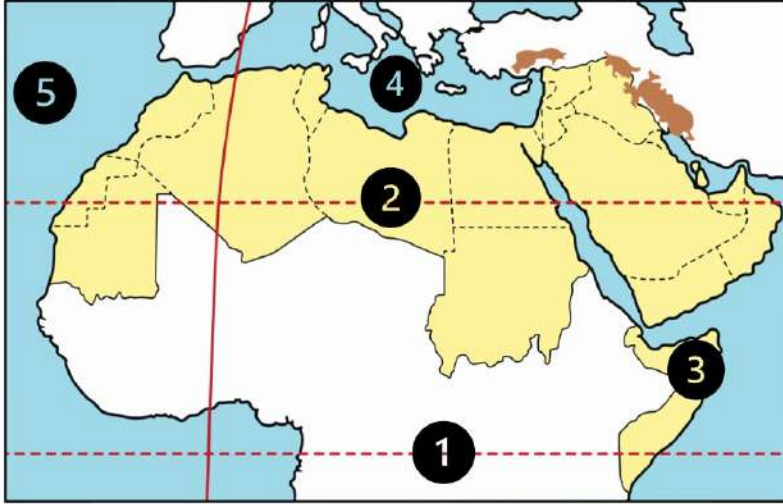
- 1) بم تفسر // نشأة جبال البحر الأحمر ؟
.....نتيجة حدوث انكسار في القشرة الأرضية (الحركات الإنكسارية)
- 2) بم تفسر // نشأة جبال أطلس ؟
.....نتيجة الحركات الباطنية للأرض (الحركات الالتوائية)
- 3) بم تفسر // أهمية الأودية الجافة؟
.....تستخدم كطرق للمواصلات - والحصول على المياه الجوفية
- 4) بم تفسر // قلة الموانئ على البحر الأحمر؟
.....بسبب وجود الشعاب المرجانية
- 5) بم تفسر // يعيش بعض السكان في الواحات ؟
.....بسبب قيام الزراعة بها اعتماداً على المياه الجوفية
- 6) بم تفسر // تكون السهول الفيضية في الوطن العربي ؟
.....كونتها الأنهار عن طريق ترسب المواد العالقة بمياهها
- 7) ما النتائج المترتبة على // تنوع مظاهر سطح الوطن العربي ؟
.....أدى إلى تنوع الأنشطة الاقتصادية
- 8) ما النتائج المترتبة على // وجود الشعاب المرجانية على ساحل البحر الأحمر ؟
.....أدى إلى صعوبة إنشاء الموانئ على البحر الأحمر
- 9) حدد أوجه التشابه والاختلاف بين // جبال البحر الأحمر وجبال أطلس

جبال البحر الأحمر	جبال أطلس	
التشابه	يقعان في الجناح الإفريقي	
الاختلاف	جبال انكسارية	جبال التوائية

الوحدة الثانية

الدرس (2) العوامل المؤثرة في مناخ وطننا العربي

السؤال الأول لاحظ الخريطة ثم أجب



- ① دائرة.....الاستواء
- ② مدار...السرطان
- ③ دولة تسقط عليها
أمطار موسمية...الصومال
- ④ البحر...المتوسط
- ⑤ المحيط...الأطلسي

السؤال الثاني أكمل العبارات التالية بكلمات مناسبة

- ① يسود المناخ.....الحار..... معظم أجزاء الوطن العربي
- ② يسود المناخ المعتدل الأجزاء...الشمالية... من الوطن العربي
- ③ تسقط الأمطار بغزارة على منحدرات الجبال المواجهة للرياح لأنها محملة بـ**بخار الماء**...
- ④ الرياح الباردة تهب على الوطن العربي من أوروبا و...**آسيا**.....
- ⑤ يهب على الوطن العربي صيفا رياح حارة قادمة من جنوب...**آسيا**.....
- ⑥ تمر دائرة الاستواء...**جنوب**... الوطن العربي
- ⑦ الأمطار التي تسقط صيفا على معظم أنحاء الصومال تسمى...**أمطار موسمية**...
- ⑧ حركة مياه البحار والمحيطات تسمى...**التيارات البحرية**...

السؤال الثالث اكتب كلمة (صواب) أمام العبارة الصحيحة وكلمة (خطأ) أمام العبارة غير الصحيحة

- ① يؤثر الموقع الفلكي للوطن العربي على مناخه (✓)
- ② تمر دائرة الاستواء في شمال الوطن العربي (✗)
- ③ ترتفع درجات الحرارة كلما اتجهنا جنوب الوطن العربي (✓)
- ④ المناطق الداخلية من الوطن العربي تكون أكثر اعتدالا من المناطق الساحلية (✗)
- ⑤ تؤثر المسطحات المائية على مناخ الوطن العربي (✓)

- ⑥ تؤثر المسطحات المائية على المدى الحراري اليومي والسنوي (✓)
- ⑦ تسقط الأمطار على مرتفعات اليمن شتاء (✗)
- ⑧ تسقط الأمطار صيفا على الأطراف الشمالية للوطن العربي (✗)
- ⑨ يتعرض الوطن العربي إلى رياح حارة صيفا قادمة من أوروبا (✗)
- ⑩ يؤدي سوء الأحوال المناخية إلى تأجيل أو إلغاء الرحلات الجوية (✓)
- ⑪ لا يتم مراعاة الظروف المناخية عند اختيار المواقع لبناء المطارات (✗)

السؤال الرابع اختر الاجابة الصحيحة مما بين القوسين

- ① يمر بأراضي الوطن العربي جنوبا
(الدائرة القطبية الشمالية - مدار السرطان - دائرة الاستواء - خط جرينتش)
- ② يقل سقوط الأمطار في الوطن العربي على
(الجبال - السهول - الأودية - الصحراء)
- ③ المناطق القريبة من المسطحات المائية يكون مناخها
(شديد الحرارة والجفاف - أكثر اعتدالا ومطرا - اقل اعتدالا ومطرا - شديد البرودة والجفاف)
- ④ يتميز مناخ الوطن العربي بالحرارة الشديدة في فصل
(الشتاء - الربيع - الصيف - الخريف)
- ⑤ تهب على الوطن العربي شتاء رياح شديدة البرودة قادمة من
(قارة إفريقيا - المحيط الهندي - قارة أوروبا - المحيط الهادي)
- ⑥ مناخ مدينة الإسكندرية معتدل أكثر من مناخ مدينة الرياض بسبب تأثير
(اتجاه المرتفعات - المسطحات المائية - التيارات البحرية - خط جرينتش)
- ⑦ الارتفاع لمسافة ١٥٠ متر فوق مستوى سطح البحر يؤدي إلى انخفاض درجة الحرارة بقدر
(درجة واحدة - درجتين - ثلاث درجات - أربع درجات)
- ⑧ تسقط أمطار موسمية صيفية على دولة
(لبنان - سوريا - اليمن - تونس)

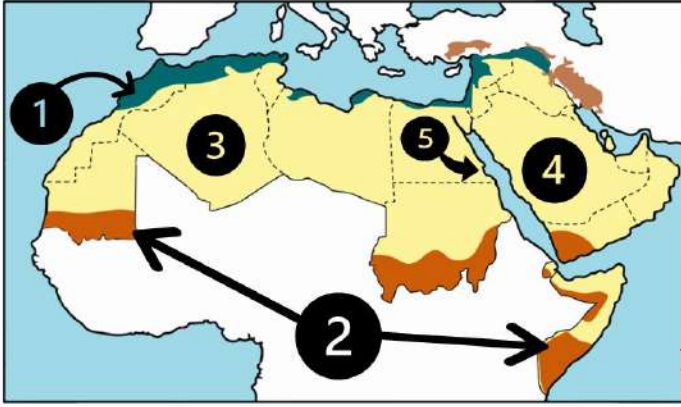
- ⑨ يحل فصل الشتاء على الوطن العربي عندما تتعامد الشمس على
(مدار السرطان - مدار الجدي - الدائرة القطبية - دائرة الاستواء)
- ⑩ يحل فصل الصيف على الوطن العربي عندما تتعامد الشمس على
(مدار السرطان - مدار الجدي - الدائرة القطبية - دائرة الاستواء)

السؤال الخامس / أجب عما يأتي؟

- ① ما النتائج المترتبة على // الموقع الفلكي للوطن العربي ؟
أصبح المناخ الحار يسود في معظم الوطن العربي والمناخ المعتدل يسود في الأجزاء الشمالية
- ② بم تفسر // ارتفاع درجة الحرارة في المناطق الجنوبية للوطن العربي ؟
بسبب مرور دائرة الاستواء جنوب الوطن العربي
- ③ بم تفسر // انخفاض درجة الحرارة في الأجزاء الشمالية من الوطن العربي ؟
بسبب بعدها عن دائرة الاستواء وقربها من المسطحات المائية
- ④ بم تفسر // المناطق الساحلية أكثر اعتدالا من المناطق الداخلية (القارية) بالوطن العربي؟
لأن المسطحات المائية تلتف منذر درجة الحرارة // وتقلل المدى الحراري اليومي والسنوي وتزيد من فرص سقوط الأمطار
- ⑤ بم تفسر // انخفاض درجة الحرارة شتاء في المناطق الداخلية (القارية) ؟
بسبب هبوب رياح شديدة البرودة من أوروبا وآسيا شتاء
- ⑥ بم تفسر // ارتفاع درجة الحرارة صيفا في المناطق الداخلية (القارية) ؟
بسبب هبوب رياح حارة من جنوب آسيا صيفا
- ⑦ بم تفسر // مناخ مدينة الإسكندرية أكثر اعتدالا من مناخ مدينة الرياض ؟
لأن الإسكندرية مدينة ساحلية قريبة من المسطحات المائية الرياض مدينة داخلية
- ⑧ بم تفسر // يقل تأثير المسطحات المائية في الوطن العربي ؟
بسبب ضيق مساحة المسطحات المائية وعدم توغل تأثيرها إلى الداخل لوجود الصحاري = المرتفعات
- ⑨ بم تفسر // انخفاض درجة الحرارة في المناطق المرتفعة بالوطن العربي؟
لأنه كلما ارتفعنا 150 متر فوق مستوى سطح البحر تنخفض درجة الحرارة درجة واحدة
- ⑩ دلل // يؤثر المناخ على الأنشطة البشرية مثل الطيران
يؤدي سوء الأحوال الجوية إلى تأجيل أو إلغاء الرحلات الجوية

الوحدة الثانية
الدرس (3) الأقاليم المناخية والنباتية في وطننا العربي

السؤال الأول لاحظ الخريطة ثم أجب



- ① إقليم مناخ البحر المتوسط
- ② إقليم المناخ ...المداري...
- ③ إقليم المناخ الصحراوي الحار
- ④ دولة ...السعودية
- ⑤ إحدى المحميات المصرية جبل عيابة

السؤال الثاني أكمل العبارات التالية بكلمات مناسبة

- ① يسود الوطن العربي ...ثلاثة... أقاليم مناخية
- ② يتميز إقليم البحر المتوسط بتساقط الأمطار في فصل ...الشتاء...
- ③ تربي الأغنام والماعز في إقليم مناخ البحر المتوسط
- ④ يسود معظم الوطن العربي إقليم المناخ الصحراوي الحار
- ⑤ ينتشر في إقليم البحر المتوسط أشجار ...الأرز... و...الزيتون... والصنوبر
- ⑥ تنمو بالإقليم المداري في الوطن العربي حشائش ...الساافانا
- ⑦ تسقط الأمطار صيفا في الإقليم المناخي ...المداري.
- ⑧ ينمو نبات الصبار في الإقليم الصحراوي الحار
- ⑨ تقع محمية ضانا في دولة ...الأردن...
- ⑩ تقع محمية أرز الشوف بدولة ...لبنان...

السؤال الثالث اكتب كلمة (صواب) أمام العبارة الصحيحة وكلمة (خطأ) أمام العبارة غير الصحيحة

- ① تعيش الأسود في إقليم مناخ البحر المتوسط (X)
- ② تقع محمية ضانا في الكويت (X)
- ③ تنوع الأقاليم المناخية في الوطن العربي أدى إلى تنوع النبات الطبيعي (✓)
- ④ تربي الماعز والأغنام في الإقليم المداري (X)

- ⑤ يشغل معظم مساحة الوطن العربي الإقليم الصحراوي (✓)
- ⑥ تنمو حشائش السافانا في إقليم البحر المتوسط (✗)
- ⑦ تنمو حشائش السافانا في الإقليم المداري بالوطن العربي (✓)
- ⑧ يقل المدي الحراري في معظم الصحاري الكبرى بالوطن العربي (✗)
- ⑨ تساعد المحميات الطبيعية في الحفاظ على الحياة البرية بالوطن العربي (✓)
- ⑩ يحتفل العالم يوم ٣ مارس من كل عام باليوم العالمي للحياة البرية (✓)

السؤال الرابع اختر الاجابة الصحيحة مما بين القوسين

- ① تسقط أمطار إقليم البحر المتوسط في فصل
(الشتاء - الخريف - الربيع - الصيف)
- ② تسقط أمطار الإقليم المداري في فصل
(الشتاء - الخريف - الربيع - الصيف)
- ③ يمتد الإقليم المداري في الوطن العربي
(شمال - جنوب - شرق - غرب)
- ④ يمتد إقليم البحر المتوسط في الوطن العربي
(شمال - جنوب - شرق - غرب)
- ⑤ محمية جبل علبة من أشهر المحميات في الوطن العربي والتي تقع بدولة
(الصومال - مصر - السودان - جيبوتي)
- ⑥ إحدى الدول العربية التي تقع أجزاءها الشمالية في إقليم مناخ البحر المتوسط
(موريتانيا - ليبيا - السودان - اليمن)
- ⑦ حشائش الإستبس تنمو في إقليم مناخي
(البحر المتوسط - الصحراوي - المداري - الموسمي)
- ⑧ تنمو أشجار الأرز في إقليم مناخ
(الاستوائي - الصحراوي الحار - البحر المتوسط - المداري)

- ⑨ تنتشر النباتات التي لها قدرة على تحمل الجفاف في الإقليم المناخي
(المداري - الصحراوي الحار - المتوسط - الموسمي)
- ⑩ تقع دولة فلسطين ولبنان ضمن الإقليم المناخي
(الاستوائي - الصحراوي الحار - البحر المتوسط - المداري)
- ⑪ دولة عربية تقع بالكامل داخل الإقليم الصحراوي الحار هي
(الجزائر - الكويت - السودان - لبنان)
- ⑫ يعيش الزراف والأسود بالإقليم
(الصحراوي - البحر المتوسط - المداري - الموسمي)
- ⑬ إقليم مناخي يشمل النطاق الساحلي من الصومال وتندر به الأمطار هو الإقليم
(المداري - الصحراوي - البحر المتوسط - الموسمي)
- ⑭ يتسم مناخ الجزء الجنوبي الغربي من شبه الجزيرة العربية بأنه
(شتاء بارد ممطر - صيف حار جاف - شتاء معتدل جاف - ممطر طوال العام)

السؤال الخامس / أجب عما يأتي؟

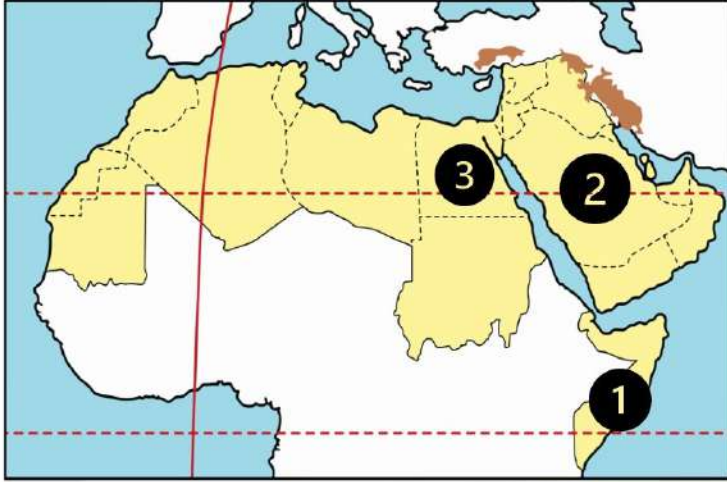
- ① بم تفسر // تنوع الأقاليم المناخية في وطننا العربي ؟
بسبب مساحة الوطن العربي التي تزيد عن 13 مليون كم² // وامتداده في 40 دائرة عرض
- ② بم تفسر // أهمية حشائش الإستبس بالنسبة للثروة الحيوانية ؟
تربى عليها الأغنام والماعز
- ③ بم تفسر // إنشاء الدول العربية المحميات الطبيعية ؟
بسبب تعرض النباتات الطبيعية والحيوانات البرية للمخاطر مثل تدهور النباتات وانقراض بعض الحيوانات
- ④ بم تفسر // الأهمية الاقتصادية للمحميات الطبيعية ؟
لحفاظ على الحياة البرية // تنشيط السياحة وجذب السياح // تحقيق التوازن البيئي
- ⑤ بم تفسر // سقوط الأمطار صيفا على جنوب غرب شبه الجزيرة العربية؛ لحد من التلوث
لأنها تقع في الإقليم المداري الممطر صيفا
- ⑥ ما النتائج المترتبة على // تنوع الأقاليم المناخية للوطن العربي؟
أدى إلى تنوع النباتات الطبيعية والحيوانات البرية

الوحدة الثانية

الدرس (4) المشكلات البيئية في وطننا العربي

السؤال الأول

لاحظ الخريطة ثم أجب



- ① دولة تعرضت لأكبر موجة جفاف **البيومال**
- ② دولة أعلنت بناء مدينة نيوم الخضراء **السعودية**
- ③ دولة أطلقت مبادرة لزراعة ١٠٠ مليون شجرة مثمرة هي **مصر**.....

السؤال الثاني

أكمل العبارات التالية بكلمات مناسبة

- ① عقد مؤتمر المناخ للأمم المتحدة عام ٢٠٢٢ في دولة **مصر**..... بمدينة **شيرم الشيخ**
- ② ظهرت مشكلات بيئية نتيجة التغير المناخي وهي **الجفاف** و **التصحّر** و **ندرة المياه العذبة**
- ③ إنشاء المدن الذكية بالوطن العربي يقلل من انبعاث **الغازات الدفيئة**
- ④ انطلقت مبادرة زراعة ٤٥٠ مليون شجرة في دولة **السعودية**
- ⑤ تزداد معدلات استهلاك المياه العذبة بالوطن العربي بسبب النمو المتزايد في أعداد **السكان**
- ⑥ تؤدي المشكلات البيئية في الوطن العربي إلى تدمير **الحياة النباتية والحيوانية**
- ⑦ أعلن عن إنشاء مدينة نيوم الخضراء عام ٢٠٢٢ في دولة **السعودية**.....

السؤال الثالث

اكتب كلمة (صواب) أمام العبارة الصحيحة وكلمة (خطأ) أمام العبارة غير الصحيحة

- ① التغير المناخي من المشكلات البيئية في وطننا العربي (✓)
- ② الجفاف هو نقص كمية المطر ليومين (✗)
- ③ يؤثر التغير المناخي على درجة الحرارة وكمية المطر (✓)
- ④ تعرضت دولة المغرب لأكبر موجة جفاف سببت نقصاً في الغذاء (✗)
- ⑤ التوسع المستمر في الزراعة يؤدي إلى ندرة المياه العذبة (✓)
- ⑥ المشكلات البيئية في الوطن العربي تهدد صحة وحياة المواطنين (✓)

- (X) ⑦ يحدث التصحر في الوطن العربي بسبب استخدام طرق الري الحديثة
- (✓) ⑧ أنشئت المدن الذكية بهدف تقليل انبعاثات الغازات الدفيئة
- (✓) ⑨ تهتم الدول العربية باستخدام مصادر الطاقة النظيفة
- (X) ⑩ تعاني معظم الدول العربية من ندرة المياه المالحة
- (✓) ⑪ تحتفل الدول العربية باليوم العربي للبيئة في ١٤ أكتوبر من كل عام

السؤال الرابع اختر الاجابة الصحيحة مما بين القوسين

- ① دولة تعاني من أكبر موجة جفاف في وطننا العربي هي
(الصومال - السودان - جيبوتي - مصر)
- ② يعاني نحو مساحة الوطن العربي من مشكلة التصحر
(ثلث - ثلثي - ربع - نصف)
- ③ أعلن عن إنشاء مدينة نيوم الخضراء بدولة
(مصر - ليبيا - تونس - السعودية)
- ④ إحدى الدول العربية التي أطلقت مبادرة لزيادة المساحات الخضراء
(اليمن - سوريا - لبنان - مصر)
- ⑤ تدهور الأرض وتناقص قدرتها على الإنتاج تشير هذه العبارة لتعريف
(الجفاف - الفيضان - التصحر - السيول)
- ⑥ يحدث التصحر بسبب
(زيادة مساحات الغابات - كثرة الأمطار والسيول - زحف الكثبان الرملية - إنشاء المدن الذكية)
- ⑦ مشروع صناعة الأخشاب من مخلفات النخيل يوجد في مصر بمحافظة
(البحر الأحمر - الوادي الجديد - شمال سيناء - جنوب سيناء)
- ⑧ جائزة عاصمة المدن العربية لعام ٢٠٢٢م حصلت عليها مدينة
(رأس محمد - رأس غارب - الخارجة - الداخلة)

السؤال الخامس / أجب عما يأتي؟

- ① بم تفسر // مشاركة الدول العربية في مؤتمر المناخ للأمم المتحدة ٢٠٢٢ م ؟
لمناقشة قضية التغير المناخي
- ② بم تفسر // زيادة معدل استهلاك المياه العذبة في الوطن العربي ؟
بسبب نمو أعداد السكان // والتوسع المستمر في الزراعة
- ③ بم تفسر // حدوث مشكلة التصحر ؟
استخدام الري التقليدي / التوسع العمراني / زحف الكثبان الرملية / الرعي الجائر / إزالة الغابات
- ④ بم تفسر // إنشاء المدن الذكية ؟
لتقليل انبعاثات الغازات الدفيئة
- ⑤ ما النتائج المترتبة على // تعرض الصومال لأكثر موجة جفاف بالوطن العربي ؟
نقص الغذاء و حدوث مجاعة لأكثر من مليون شخص
- ⑥ ما النتائج المترتبة على // الرعي الجائر للحيوانات في الوطن العربي ؟
أدى إلى حدوث التصحر
- ⑦ ما النتائج المترتبة على // زحف الكثبان الرملية وتناقص المياه الجوفية في وطننا العربي ؟
أدى إلى حدوث التصحر
- ⑧ ما النتائج المترتبة على // وجود العديد من المشكلات البيئية في الوطن العربي ؟
**تهديد صحة المواطن وحياته // إعاقة خطط التنمية
تدمير الحياة النباتية والحيوانية**



تدريبات علي الدرس الاول

مظاهر سطح وطننا العربي

السؤال الاول اكل العبارات الاتية

- 1- من الجبال الانكسارية جبال
- 2- من الهضاب التي تقع في قاره افريقيا هضبه
- 3- توجد هضبه نجد في قاره
- 4- من الوحات التي توجد في دوله الجزائر
- 5- تستخدم السهول في الزراعه
- 6- يوجد النشاط التعديني في المناطق

السؤال الثاني بم تفسر

1- اهميه الاوديه الجافه

2- يتنوع استخدام السهول الساحليه

3- اهميه السهول الفيضية

السؤال الثالث ما النتائج المترتبه علي

1- الحركات الانكسارية

2- الترسيب المواد العلاقه بمياه الانهار

3- فقر التربه في المناطق الصحراويه





السؤال الرابع ضع علامة صح او خطأ امام العبارات الاتية

- () من امثله الجبال الانكسارية جبال البحر الاحمر
 () توجد هضبه افريقيا الشماليه في قاره اسيا
 () تساعد السهول الصحراويه في عميله الزراعة

السؤال الخامس قارن بين السهول الساحلية والفيضية

.....

السؤال السادس هناك علاقه بين مظاهر السطح والانشطه الاقتصاديه في وطننا العربي وضح

.....

السؤال السابع اختر الاجابة الصحيحه مما بين الأقواس:

- (أ) أدت ثورات البراكين إلى تكوين هضبة
 (ب) من آثار التعرية الهوائية ... (السهول الفيضية - الأودية الجافة - الكثبان الرملية - السهول الساحلية)
 (ج) من الجبال الانكسارية في الوطن العربي جبال (الشطوط - نجد - بادية الشام - اليمن)
 (د) من الجبال الانكسارية في الوطن العربي جبال (عسير - عمان - أطلس - زاغروس)

السؤال الثامن مت المقصود بالمصطلحات الجغرافية الآتية...؟

(١) الحركات الانكسارية.

.....

(٢) السهل الساحلي

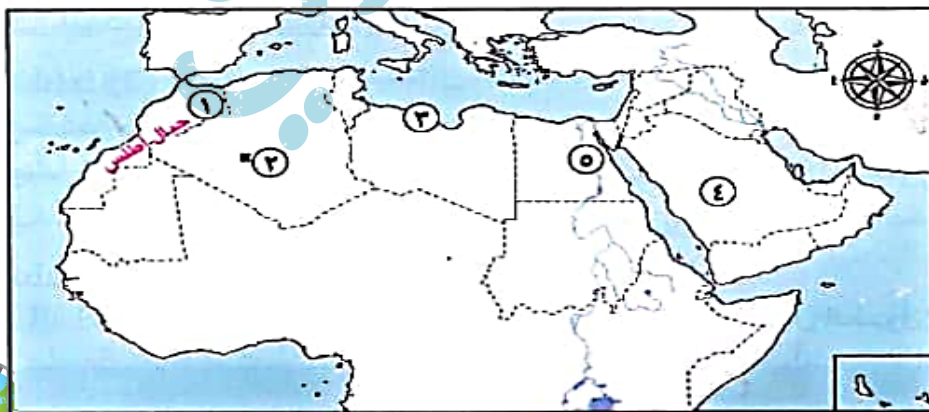
.....

(٣) واحة

.....

السؤال التاسع...؟

- ١ - نشأت الجبال رقم (١) نتيجة لحركات
 ٢ - واحة
 ٣ - تصنف السهول رقم (٣) سهولاً
 ٤ - تنتمي الهضبة رقم (٤) للجنح
 ٥ - تُعد رقم (٥) سهولاً





تدريبات علي الدرس الثاني

العوامل المؤثرة في مناخ وطننا العربي

(1) اختر الإجابة الصحيحة مما بين الأقواس:

- (1) كل العوامل التالية تؤثر في مناخ الوطن العربي ما عدا (الموقع الفلكي - التضاريس - التكديس السكاني - المياه)
- (2) تمر باراضي الوطن العربي جنوبا (الدائره القطبية - مدار السرطان - مدار الجدي - دائرة الاستواء)
- (3) تسقط امطار موسمية صيفيه علي دولة
- (4) يحل فصل الصيف علي الوطن العربي عند تعمد الشمس علي مدارا (السرطان - الجدي - الاستواء)

(2) اكتب كلمة (صواب) او (خطأ) أمام العبارات مع التصويب

- () (١) تؤثر المسطحات المائية في مناخ المناطق المحيطة بها .
- () (3) ياتي فصل الصيف عندما تتعمد الشمس علي مدار السرطان
- () (4) يكون المناخ في الاقليم البحر المتوسط حار صيفا ومعتدل شتاء

(3) ما المقصود بالتيارات البحرية

(4) بم تفسر..؟

- (1) تأثير كمية الأمطار باتجاه الكتل الجبلية.

- (2) تنوع النبات الطبيعي .

- (3) يؤثر الارتفاع علي المناخ في الوطن العربي





(4) تقل درجة الحرارة في الجزء الشمالي من الوطن العربي

(5) قارن بين

(1) الإقليم المدارى وإقليم البحر المتوسط من حيث: (الموقع - الخصائص المناخية)

(6) ما النتائج المترتبة علي

1- تتعامد الشمس على مدار الجدي

2- تتعامد الشمس على مدار السرطان

(7) ما العلاقة بين

1- المناخ والرحلات الجوية

2- تعمد الشمس على مدار الجدي والمناخ في مصر

3- المسطحات المائية ومناخ الوطن العربي





تدريبات علي الدرس الثالث

الاقليم المناخية والنباتية في وطننا العربي

(1) ما المقصود

1- الاقاليم المناخية

.....

(2) ما النتائج المترتبة علي

1- تعرض المحميات لتهديد بشري

.....

.....

2- تنوع الاقاليم المناخية في الوطن العربي

.....

.....

3- ظهور حيوانات تتحمل العطش في الاقليم الصحراوي

.....

.....

(3) اكمل العبارات الاتيه

1- من المحميات التي توجد في لبنان

2- من المحميات التي توجد في الاردن

3- تقع دوله موريتانيا تبع الاقليم

4- يقع في شمال الوطن العربي اقليم

5- يعيش حيوان الاسد في الاقليم

6- تظهر حشائش الاستبس في الاقليم





(4) قارن بين الاقليم المداري واقليم البحر المتوسط من حيث الخصائص المناخية والموقع

(5) كيف واجهت الدول العربية الخطر المحميات الطبيعية

(6) اكتب المصطلح الجغرافي المناسب للعبارة الآتية:

- (١) الإقليم المناخى الذى يتمثل في الأطراف الشمالية للوطن العربي. ()
- (٢) إقليم مناخى يتميز بارتفاع الحرارة صيفا وانخفاضها في الشتاء وندرة الأمطار ()
- (٣) حشائش تنمو بين إقليم مناخ البحر المتوسط وإقليم المناخ الصحراوى. ()
- (٤) اكبر أقاليم الوطن العربي النباتية مساحة. ()
- (٥) إقليم مناخى يتمثل في معظم السودان وجنوب غرب شبه الجزيرة العربية. ()
- (٦) غابات تنمو في الأجزاء الشمالية من الوطن العربي. ()

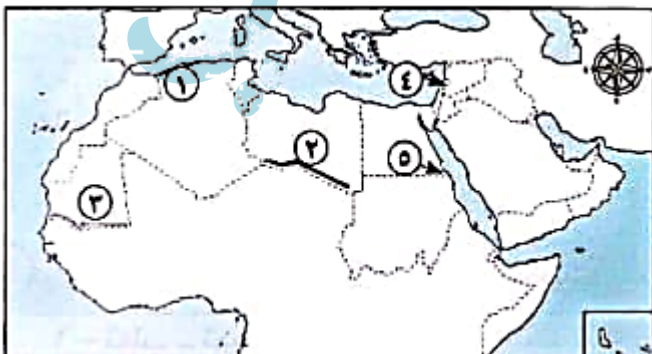
(7) بم تفسر..؟

(٢) تأثر كمية الأمطار باتجاه الكتل الجبلية.

(٣) تنوع النبات الطبيعي في الإقليم الصحراوى.

(٤) يعد الإقليم الصحراوى أكبر الأقاليم المناخية في الوطن العربي.

(8) خريطة ؟



- ١ - إقليم مناخ
- ٢ - إقليم المناخ
- ٣ - إقليم المناخ
- ٤ - دولة تقع فيها محمية أرز الشوف
- ٥ - إحدى المحميات المصرية





تدريبات علي الدرس الرابع

المشكلات البيئية في وطننا العربي

(1) ما المقصود

1- الجفاف

2- التصحر

(2) بم تفسر

1- تعني معظم الدول العربية من ندره المياه

2- حدوث ظاهره التصحر

3- حدوث مشكلات بيئيه في وطننا العربي

4- زياده استهلاك المياه في الوطن العربي

(3) ما النتائج المترتبة علي

1- الجفاف

2- المشكلات البيئيه في الوطن العربي





3- انشاء مشروع الطاقه الكهربائيه

.....

4- التوسع العمراني وازاله الغابات

.....

(4) اكمل العبارات

1- من اسباب التصحر هو

2- اكثر الدول العربيه تعاني من الجفاف دوله

3- اطلقت دوله مبادرة ١٠٠ مليون شجره

4- تعاني كثير من الدول العربيه من خطر

(5) وضح كيف تواجه الدول العربيه مشكلات البيئه

.....

.....

.....

(6) صوب ما تحته خط

1- نقص كمية الامطار بما لا يسمح بالزراعه يسمي التصحر

2- يمكن حل مشكل البيئه عن طريق زياده السكان

3- سبب موجه الجفاف حدث مجاعه لاكثر من مليون شخص في تونس

امير المصري





تدريبات على الشخصيات

1 أكمل العبارات الآتية بما يناسبها من كلمات

- ١- ولد الرسول (ﷺ) وأبو بكر الصديق في مدينة
- ٢- سمي العام الذي ولد فيه الرسول (ﷺ) باسم عام
- ٣- كان الرسول (ﷺ) يذهب لغار حراء من أجل
- ٤- تزوج النبي من ابنة أبي بكر الصديق وهي السيدة.
- ٥- أنجز أبو بكر الصديق خلال توليه الخلافة مشروعًا عظيمًا للإسلام هو جمع

2 اكتب كلمة (صواب) أمام العبارة الصحيحة، وكلمة (خطأ) أمام العبارة غير الصحيحة

- ١- واجه الرسول العديد من الصعوبات في نشر الدعوة الإسلامية. ()
- ٢- كان الرسول يأخذ بآراء زوجاته في شئون عدة. ()
- ٣- أول من أسلم من الرجال هو عبد الرحمن بن عوف ()
- ٤- فشل أبو بكر الصديق في استعادة وحدة الدولة الإسلامية بعد وفاة الرسول (ﷺ) ()
- ٥- اهتم أبو بكر الصديق برعاية الفقراء والمرضى. ()

3 اختر الإجابة الصحيحة مما بين القوسين

- ١- كان الرسول (ﷺ) يستشيرهم في كثير من الأمور المتعلقة بالدولة الإسلامية .
(زعماء قريش - الصحابة - قبائل العرب - الخوارج)
- ٢- توفي الرسول (ﷺ) في .
(المدينة - مكة - الطائف - الشام)
- ٣- كان اهتمام أبي بكر الصديق بالفتوحات يتركز على بلاد .
(الحبشة وفارس - الشام والمغرب - النوبة وأرمينيا - العراق والشام)





4 أجب عما يلي:

١- ما النتائج المترتبة على عمل الرسول (ﷺ) في شبابه بحرفة رعي الأغنام؟

٢- فسر العبارة التالية: كان الرسول (ﷺ) يجتمع مع المسلمين في دار الأرقم بن أبي الأرقم.

٣- حدد بعضاً من الصفات النبيلة التي اتصف بها الرسول (ﷺ).

٤- دلل على صحة العبارة: اتصف أبو بكر الصديق بالحكمة والقدرة على مواجهة المواقف الصعبة خلال فترة خلافته

أ. أمير المصري





تدريبات البركان على الوحدة الثانية

السؤال الاول : اختر الاجابة الصحيحة مما بين الاقواس

- 1- أعلى نقطة في وطننا العربي توجد في دولة (مصر - الأردن - المغرب - سوريا)
- 2- من الجبال الالتيوانية في وطننا العربي (أطلس - عمان - زاجروس - جميع ما سبق)
- 3- توجد جبال البحر الأحمر في دولتي مصر و (السودان - ليبيا - تونس - الكويت)
- 4- من السهول الفيضية في الجناح الاسيوى (وادى النيل - جوبا وشبيلي - دجلة والفرات)
- 5- نشأت الكثبان الرملية نتيجة التعرية (المائية - الهوائية - الانكسارية - ليس ذلك)
- 6- هي مناطق تقوم بها الزراعة على المياه الجوفية وتوجد في الصحراء .
(الواحات - الاودية الجافة - الجبال - التلال)
- 7- تمتد هضبة افريقيا الشمالية من جبال البحر الأحمر الى المحيط
(الهادى - الهندى - الاطلنطى - القطبي الشمالى)
- 8- من الجبال الانكسارية في الوطن العربي (كردستان - زاجروس - عمان - الحجاز)
- 9- تعوق الشعاب المرجانية إقامة الموانئ على سواحل في الوطن العربي .
(البحر المتوسط - الخليج العربى - البحر الأحمر - المحيط الاطلنطى)
- 10- بحيرة عسل تقع في دولة (الصومال - اليمن - جيبوتى - العراق)
- 11- يسود المناخ المعتدل الأجزاء من الوطن العربي .
(الشمالية - الجنوبية - الشرقية - الغربية)
- 12- الرياح الباردة تهب على الوطن العربي من اوربا و (استراليا - اسيا - انتاركتيكا)
- 13- تمر دائرة الاستواء فى الوطن العربى . (شمال - جنوب - شرق - غرب)
- 14- تتساقط الامطار بغزارة على منحدرات
(الجبال - الهضاب - السهول - المنخفضات)
- 15- يقل سقوط الامطار في الوطن العربي على (الجبال - السهول - الاودية - الصحراء)
- 16- يتميز مناخ الوطن العربي بالحرارة المرتفعة في فصل
(الصيف - الشتاء - الربيع - الخريف)
- 17- من العوامل المثرة على مناخ الوطن العربي
(الموقع - مظاهر السطح - القرب او البعد عن المسطحات المائية - جميع ما سبق)
- 18- تتميز المناطق بالمناخ المعتدل في الوطن العربي .
(القارية - الداخلية - الساحلية - الصحراوية)
- 19- التيارات البحرية الدفينة تعمل على درجة حرارة السواحل التي تمر بها .
(رفع - خفض - نقص - اعتدال)
- 20- من امثلة المدن الداخلية القارية بالوطن العربي (الإسكندرية - الرياض - الرباط)





- 21- يمتد إقليم البحر المتوسط في الجناح الاسيوى في دولتى
(قطر والبحرين - اليمن وعمان - فلسطين ولبنان - العراق والسعودية)
متر: محمد عبد الصبور
- 22- محمية علبة من اشهر محميات الوطن العربى التى توجد بدولة
(مصر - الجزائر - السودان - عمان)
متر: محمد عبد الصبور
- 23- حشائش الاستبس تنمو في الاقليم
(المدارى - الصحراوى - البحر المتوسط)
- 24- يعيش الزراف والاسود في الاقليم
(المدارى - الصحراوى - البحر المتوسط)
- 25- يمتد الإقليم المدارى الوطن العربى .
(شمال - جنوب - شرق - غرب)
- 26- تنتشر في إقليم البحر المتوسط اشجار
(الأرز - الزيتون - الصنوبر - جميع ما سبق)
- 27- من محميات الوطن العربى محمية
(ارز الشوف - ضانا - جبل علبة - الزرانيق)
متر: محمد عبد الصبور
- 28- يحتفل العالم بيوم 3 مارس من كل عام يوم عالمى لـ
(الحياة البرية - الامية - البطالة - المرور)
متر: محمد عبد الصبور
- 29- تبلغ مساحة الوطن العربى كم مربع .
(10 مليون - 13 مليون - 20 مليون)
- 30- تسقط الامطار في الإقليم المدارى في فصل
(الشتاء - الصيف - الربيع - الخريف)
- 31- من الدول التى تعانى من اكبر موجة جفاف في وطننا العربى
(الصومال - السودان - مصر - تونس)
متر: محمد عبد الصبور
- 32- جائزة عاصمة المدن العربية حصلت عليها مدينة
(رأس محمد - رأس غارب - الخارجة - الداخلة)
- 33- توجد مدينة نيوم الخضراء في دولة
(السعودية - قطر - الامارات - البحرين)
- 34- يعانى نحو ثلثى مساحة الوطن العربى من مشكلة
(الجفاف - التصحر - ندرة المياه العذبة - قلة المراعى الطبيعية)
- 35- " تدهور الأرض وتناقص قدرتها على الإنتاج " تشير هذه العبارة الى
(الجفاف - الفيضان - التصحر - السيول)
- 36- احدى دول الوطن العربى التى اطلقت مبادرة لزيادة المساحات الخضراء
(اليمن - سوريا - لبنان - مصر)
- 37- الجفاف هو نقص كمية في بعض السنوات بما لايسمح الزراعة .
(الامطار - الغذاء - الكتبان - العمران)
- 38- تحتفل الدول العربية بيوم من كل عام باليوم العالمى للبيئة .
(14 أكتوبر - 10 مارس - 6 يوليو - 22 نوفمبر)
متر: محمد عبد الصبور
- 39- من اهم المشروعات بمدينة مشروع انتاج الكهرباء من الشمس .
(رأس محمد - رأس غارب - الخارجة - الداخلة)
متر: محمد عبد الصبور
- 40- اطلقت مصر مبادرة بزراعة شجرة مثمرة .
(100 مليون - 420 مليون - 300 مليون)
متر: محمد عبد الصبور





السؤال الثاني : أكمل العبارات التالية بكلمات مناسبة

- 1- تتميز سهول البحر المتوسط في الوطن العربي بسقوط الامطار
- 2- تقوم الزراعة بواحة عين صالح اعتماداً على
متر : محمد عبد الصبور
- 3- تعد جبال الحجاز وعسير من الجبال بالوطن العربي .
متر : محمد عبد الصبور
- 4- نحت الماء للسهول وارسابها أدى الى تكون
- 5- نشأت الكثبان الرملية في الوطن العربي نتيجة
- 6- من هضاب الوطن العربي بالجنح الاسيوي و
- 7- من الجبال الالتوائية بالوطن العربي و
- 8- أدنى نقطة بالوطن العربي هي البحر بدولة الأردن .
متر : محمد عبد الصبور
- 9- تكونت الاودية الجافة في الوطن العربي نتيجة
- 10- من الاودية الجافة في الوطن العربي وادي الجريير في
- 11- يتميز الوطن العربي بمناخ في معظم اجزاءه .
متر : محمد عبد الصبور
- 12- المناطق الداخلية تتميز بارتفاع الحرارة في فصل
- 13- تعمل التيارات البحرية الباردة على درجة حرارة السواحل .
- 14- اتجهت مصر لانشاء مصنع مصنع للهيدروجين
- 15- تنخفض درجة الحرارة كلما ارتفعنا عن سطح البحر مثل جبال
متر : محمد عبد الصبور
- 16- يعتمد تخطيط المطار والممرات الأرضية على اتجاهات
- 17- من المدن الداخلية في وطننا العربي مدينة
- 18- يسود الوطن العربي أقاليم مناخية كبرى .
- 19- تقع محمية ضانا في الوطن العربي بدولة
- 20- إقليم مناخى يتميز بانه شديد الحرارة صيفاً وشديد البرودة شتاءاً هو
- 21- الإقليم المدارى امطاره بينما إقليم البحر المتوسط امطاره
- 22- تعيش في الإقليم الصحراوى بعض الحيوانات منها
- 23- يمتد في شمال الوطن العربي اقليم
- 24- عقد مؤتمر المناخ للأمم المتحدة عام 2022 في مصر بمدينة
- 25- تقع معظم مساحة وطننا العربي في الاقليم
- 26- ولد الرسول "ص" في مدينة عام 570 م المعروف بعام الفيل .
- 27- عمل الرسول "ص" بحرفة رعى الأغنام ثم عمل بحرفة
متر : مفيدي شهابه الصبور
- 28- لقب الرسول "ص" بـ
- 29- بعد نزول الوحي كان يجتمع الرسول "ص" بالمسلمين في دار
- 30- من صفات الرسول "ص" و و



متر : محمد عبد الصبور



- 31- في العام العاشر من الهجرة خرج الرسول "ص" لأداء فريضة
- 32- يعد اول من اسلم من الرجال .
متر: محمد عبد الصبور
- 33- أسلم على يد أبو بكر الصديق كل من و
- 34- تزوج الرسول "ص" من بنت ابي بكر الصديق السيدة
- 35- من اهم مشروعات الخليفة أبو بكر الصديق هو جمع
- متر: محمد عبد الصبور

السؤال الثالث : ضع كلمة (صواب) امام العبارة الصحيحة وكلمة (خطأ) امام العبارة غير الصحيحة

- 1- يوجد بالوطن العربي مظاهر متنوعة تتميز باشكالها الجذابة والوانها الخلابة . ()
- 2- يوجد في وطننا العربي جبال التوائية فقط . ()
- 3- توجد جبال أطلس في الجناح الاسوي للوطن العربي . ()
متر: محمد عبد الصبور
- 4- بحر الرمال العظيم يقع بين دولتي مصر والسودان . ()
- 5- تكونت بعض الاودية الجافة نتيجة لحركات باطنية تعرضت لها الأرض . ()
- 6- تستخرج المعادن ومصادر الطاقة من المناطق الصحراوية في الوطن العربي . ()
- 7- يتركز بعض السكان في هضاب الجناح الافريقي للوطن العربي . ()
- 8- تقع سلاسل جبال الحجار وعسير في شبه جزيرة سيناء . ()
- 9- تتشابه درجات الحرارة بين دول الوطن العربي . ()
- 10- تزداد كمية الامطار المتساقطة باتجاه المرتفعات . ()
متر: محمد عبد الصبور
- 11- المناخ الحار يسود كل أجزاء الوطن العربي . ()
- 12- المسطحات المائية تعمل على تلطيف درجات الحرارة . ()
- 13- تنخفض درجات الحرارة في جنوب الوطن . ()
- 14- تتميز المناطق الساحلية باعتدال درجات الحرارة بها . ()
- 15- التغيرات المناخية تؤثر سلباً على الأمن الغذائي والمائي . ()
- 20- سوء الأحوال الجوية يؤدي الى تأجيل الرحلات الجوية . ()
- 21- يشغل معظم مساحة الوطن العربي الإقليم الصحراوي . ()
- 22- تعد محمية ضانا بالأردن من اشهر المحميات الطبيعية بالوطن العربي . ()
- 23- يقل المدى الحرارى في معظم الصحارى الكبرى بالوطن العربي . ()
- 24- تربي الماعز والاغنام في الإقليم الصحراوي . ()
- 25- يحتفل العالم بيوم 3 مارس من كل عام باليوم العالمي للحياة البرية . ()
متر: محمد عبد الصبور
- 26- يمتد الإقليم المدارى في أجزاء من الصومال والسودان والجزائر . ()
- 27- تعيش حيوانات مثل الزراف والأسود في حشائش الاستبس . ()
- 28- التغير المناخى من المشكلات البيئية في وطننا العربي . ()
متر: محمد عبد الصبور
- 29- تهتم دول الوطن العربي باستخدام مصادر الطاقة النظيفة ()
متر: محمد عبد الصبور
- 30- تنتشر بالوطن العربي المراعى الطبيعية . ()





- 31- تعاني معظم الدول العربية من ندرة المياه المالحة . ()
 32- نقص كمية الامطار في بعض السنوات بما لا يسمح بالزراعة . ()
 33- من صفات النبي "ص" حليماً مع أهله وكان يساند العجوز . ()
 34- كان النبي "ص" يستشير أصحابه في الغزوات منذ بدء التخطيط لها . ()
 35- عثمان بن عفان والزبير بن العوام من الذين اسلموا على يد ابي بكر الصديق . ()

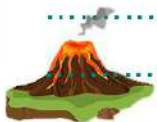
متر: محمد عبد الصبور

السؤال الرابع : صوب ما تحته خط

- 1- توجد أعلى نقطة في وطننا العربي في الجناح الاسيوى .
 2- من الاودية الحافة في الوطن العربي وادى الجريير في ليبيا .
 3- يعيش السائح تجربة التزلج على جبل طوروس في دولة لبنان .
 4- توجد الشعاب المرجانية على سواحل البحر المتوسط .
 5- تمتد هضبة حضر موت من البحر المتوسط شمالاً الى وسط افريقيا جنوباً .
 6- التيارات البحرية الباردة تعمل على رفع درجة حرارة السواحل .
 7- المناخ يكون معتدلاً في الوطن العربي في فصل الصيف .
 8- المسطحات المائية يزداد تأثيرها في الوطن العربي .
 9- درجات الحرارة وكمية الامطار تتشابه بين دول الوطن العربي .
 10- المناطق الداخلية للوطن العربي معتدلة المناخ .
 11- يسود المناخ المعتدل الأجزاء الجنوبية من الوطن العربي .
 12- تهب الرياح شديدة البرودة على الوطن العربي صيفاً .
 13- ترتفع درجات الحرارة شمال الوطن العربي .
 14- يمتد إقليم البحر المتوسط في الجزء الجنوبي الغربي من شبه جزيرة سيناء .
 15- يوجد بالوطن العربي خمسة أقاليم مناخية كبرى .
 16- ينتشر في الإقليم المداري نباتات مثل أشجار الأرز والزيتون والصنوبر .
 17- تنتشر في حشائش الاستبس تربية الزواحف والثعالب .
 18- تنمو حشائش السافانا بالاقليم الصحراوي بالوطن العربي .
 19- تقع محمية ضانا في الوطن العربي بدولة مصر .
 20- الجفاف هو زيادة كمية الامطار في بعض السنوات .
 21- يعاني نحو ربع مساحة الوطن العربي من مشكلة التصحّر .
 22- من أسباب التصحر زيادة مخزون المياه الجوفية .
 23- مدينة الداخلية اول مدينة صديقة للبيئة على مستوى جمهورية مصر العربية .
 24- قامت العراق بانشاء مدينة نيوم الخضراء عام 2022 م .
 25- عمل الرسول "ص" بحرفة التجارة في صغرة: متر: محمد عبد الصبور

متر: محمد عبد الصبور

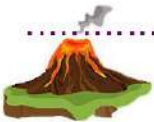
متر: محمد عبد الصبور





السؤال الخامس : اجب عن الاسئلة التالية

- 1- اكتب ما تشير اليه : جبال نشأت نتيجة حركات انكسارية في قشرة الأرض .
متر : محمد عبد الصبور
- 2- هناك عوامل لتشكل سطح وطننا العربي اذكرها ؟
متر : محمد عبد الصبور
- 3- ما النتائج المترتبة على : وجود السكان في الواحات بالوطن العربي .
- 4- بم تفسر : أهمية الاودية الجافة في الوطن العربي .
- 5- اذكر سبباً واحداً : تكون السهول الفيضية في الوطن العربي .
متر : محمد عبد الصبور
- 6- اكتب اثنين : من الجبال الالتوائية بالوطن العربي .
- 7- اكتب نتيجة واحدة : وجود الشعاب المرجانية في سواحل البحر الأحمر .
متر : محمد عبد الصبور
- 8- بم تفسر : تباين درجات الحرارة بين دول الوطن العربي .
- 9- بم تفسر : أهمية المسطحات المائية في الوطن العربي .
متر : محمد عبد الصبور
- 10- ما العلاقة بين : المناخ والرحلات الجوية .
- 11- ما النتائج المترتبة على : تعامد الشمس على مدار الجدى شتاءً في الوطن العربي .
- 12- اكتب اثنين : من الدول العربية التي قامت بالمشروعات الخضراء
- 13- اكتب ما تشير اليه : المناطق القريبة من المسطحات المائية .
- 14- ما العلاقة بين : التيارات البحرية الدفينة ودرجة الحرارة .
- 15- بم تفسر: يقل تأثير المسطحات المائية في الوطن العربي .
- 16- دلل : يؤثر المناخ على الأنشطة البشرية مثل الطيران .
متر : محمد عبد الصبور
- 17- حدد المختلف : أشجار الأرز - الصبار - الصنوبر - الزيتون .
متر : محمد عبد الصبور
- 18- حدد المختلف : فلسطين - الصومال - لبنان - تونس .
متر : محمد عبد الصبور





19- بم تفسر : انشاء الدول العربية للمحميات الطبيعية .

متر : محمد عبد الصبور
20- ما العلاقة بين : الموقع الفلكي لإقليم البحر المتوسط وسقوط الامطار .

متر : محمد عبد الصبور
21- ما النتائج المترتبة على : تنوع الأقاليم المناخية في وطننا العربي .

22- بم تفسر : تنوع الأقاليم المناخية في وطننا العربي .

متر : محمد عبد الصبور
23- ما المقصود بـ : الإقليم المناخي .

متر : محمد عبد الصبور
24- دلل : ظهور بعض المشكلات البيئية نتيجة التغير المناخي .

25- بم تفسر : حدوث التصحر .

26- بم تفسر : تعاني معظم الدول العربية من الفقر المائي .

متر : محمد عبد الصبور

27- ما العلاقة بين : جهود بعض الدول العربية والمساحات الخضراء .

28- ما النتائج المترتبة على : زحف الكثبان الرملية وتناقص المياه الجوفية في وطننا العربي .

29- قارن بين : الإقليم المداري والصحراوي من حيث المناخ .

30- وضح : أشهر المحميات الطبيعية في وطننا العربي .

متر : محمد عبد الصبور

متر : محمد عبد الصبور



متر : محمد عبد الصبور



تدريبات البركان على الوحدة الثانية

السؤال الاول : اختر الاجابة الصحيحة مما بين الاقواس

- 1- أعلى نقطة في وطننا العربي توجد في دولة (مصر - الأردن - المغرب - سوريا)
- 2- من الجبال الالتيوانية في وطننا العربي (أطلس - عمان - زاجروس - جميع ما سبق)
- 3- توجد جبال البحر الأحمر في دولتي مصر و (السودان - ليبيا - تونس - الكويت)
- 4- من السهول الفيضية في الجناح الاسيوى (وادى النيل - جوبا وشبيلي - دجلة والفرات)
- 5- نشأت الكثبان الرملية نتيجة التعرية (المائية - الهوائية - الانكسارية - ليس ذلك)
- 6- هي مناطق تقوم بها الزراعة على المياه الجوفية وتوجد في الصحراء .
(الواحات - الاودية الجافة - الجبال - التلال)
- 7- تمتد هضبة افريقيا الشمالية من جبال البحر الأحمر الى المحيط
(الهادى - الهندى - الاطلنطى - القطبي الشمالى)
- 8- من الجبال الانكسارية في الوطن العربي (كردستان - زاجروس - عمان - الحجاز)
- 9- تعوق الشعاب المرجانية إقامة الموانئ على سواحل (البحر المتوسط - الخليج العربي - البحر الأحمر - المحيط الاطلنطى)
- 10- بحيرة عسل تقع في دولة (الصومال - اليمن - جيبوتى - العراق)
- 11- يسود المناخ المعتدل الأجزاء (الشمالية - الجنوبية - الشرقية - الغربية) من الوطن العربي .
- 12- الرياح الباردة تهب على الوطن العربي من اوربا و (استراليا - اسيا - انتاركتيكا)
- 13- تمر دائرة الاستواء فى (شمال - جنوب - شرق - غرب) الوطن العربي .
- 14- تتساقط الامطار بغزارة على منحدرات (الجبال - الهضاب - السهول - المنخفضات)
- 15- يقل سقوط الامطار في الوطن العربي على (الجبال - السهول - الاودية - الصحراء)
- 16- يتميز مناخ الوطن العربي بالحرارة المرتفعة في فصل (الصيف - الشتاء - الربيع - الخريف)
- 17- من العوامل المؤثرة على مناخ الوطن العربي (الموقع - مظاهر السطح - القرب او البعد عن المسطحات المائية - جميع ما سبق)
- 18- تتميز المناطق (القارية - الداخلية - الساحلية - الصحراوية) بالمواسم المعتدل في الوطن العربي .
- 19- التيارات البحرية الدفينة تعمل على (رفع - خفض - نقص - اعتدال) درجة حرارة السواحل التي تمر بها .
- 20- من امثلة المدن الداخلية القارية (الإسكندرية - الرياض - الرباط) بالوطن العربي





- 21- يمتد إقليم البحر المتوسط في الجناح الاسيوى في دولتى
(قطر والبحرين - اليمن وعمان - فلسطين ولبنان - العراق والسعودية)
متر: محمد عبد الصبور
- 22- محمية علبة من اشهر محميات الوطن العربى التى توجد بدولة
(مصر - الجزائر - السودان - عمان)
(المدارى - الصحراوى - البحر المتوسط)
(المدارى - الصحراوى - البحر المتوسط)
- 23- حشائش الاستبس تنمو في الاقليم
24- يعيش الزراف والاسود في الاقليم
25- يمتد الإقليم المدارى الوطن العربى . (شمال - جنوب - شرق - غرب)
- 26- تنتشر في إقليم البحر المتوسط اشجار (الأرز - الزيتون - الصنوبر - جميع ما سبق)
27- من محميات الوطن العربى محمية التى توجد بدولة لبنان .
متر: محمد عبد الصبور
(ارز الشوف - ضانا - جبل علبة - الزرائق)
- 28- يحتفل العالم بيوم 3 مارس من كل عام يوم عالمى لـ
(الحياة البرية - الامية - البطالة - المرور)
متر: محمد عبد الصبور
- 29- تبلغ مساحة الوطن العربى كم مربع . (10 مليون - 13 مليون - 20 مليون)
30- تسقط الامطار في الإقليم المدارى في فصل (الشتاء - الصيف - الربيع - الخريف)
- 31- من الدول التى تعانى من اكبر موجة جفاف في وطننا العربى
(الصومال - السودان - مصر - تونس)
متر: محمد عبد الصبور
- 32- جائزة عاصمة المدن العربية حصلت عليها مدينة
(رأس محمد - رأس غارب - الخارجة - الداخلة)
- 33- توجد مدينة نيوم الخضراء في دولة (السعودية - قطر - الامارات - البحرين)
- 34- يعانى نحو ثلثى مساحة الوطن العربى من مشكلة
(الجفاف - التصحر - ندرة المياه العذبة - قلة المراعى الطبيعية)
- 35- " تدهور الأرض وتناقص قدرتها على الإنتاج " تشير هذه العبارة الى
(الجفاف - الفيضان - التصحر - السيول)
- 36- احدى دول الوطن العربى التى اطلقت مبادرة لزيادة المساحات الخضراء
(اليمن - سوريا - لبنان - مصر)
- 37- الجفاف هو نقص كمية في بعض السنوات بما لايسمح الزراعة .
(الامطار - الغذاء - الكتبان - العمران)
- 38- تحتفل الدول العربية بيوم من كل عام باليوم العالمى للبيئة .
متر: محمد عبد الصبور
(14 أكتوبر - 10 مارس - 6 يوليو - 22 نوفمبر)
- 39- من اهم المشروعات بمدينة مشروع انتاج الكهرباء من الشمس .
متر: محمد عبد الصبور
(رأس محمد - رأس غارب - الخارجة - الداخلة)
- 40- اطلقت مصر مبادرة بزراعة شجرة مثمرة .
متر: محمد عبد الصبور
(100 مليون - 420 مليون - 300 مليون)





السؤال الثاني : أكمل العبارات التالية بكلمات مناسبة

- 1- تتميز سهول البحر المتوسط في الوطن العربي بسقوط الامطار **شتاء**
- 2- تقوم الزراعة بواحة عين صالح اعتمادا على **المياه الجوفية**
- 3- تعد جبال الحجاز وعسير من الجبال **الانكسارية** .. بالوطن العربي .
- 4- نحت الماء للسهول وارسابها أدى الى تكون **السهول الفيضية** ..
- 5- نشأت الكثبان الرملية في الوطن العربي نتيجة **التعرية الهوائية**
- 6- من هضاب الوطن العربي بالجنح الاسيوي **بادية الشام** .. و **نجد**
- 7- من الجبال الالتوائية بالوطن العربي **زاجروس** .. و **عمان**
- 8- أدنى نقطة بالوطن العربي هي البحر **الميت** .. دولة الأردن .
- 9- تكونت الاودية الجافة في الوطن العربي نتيجة **التعرية المائية**
- 10- من الاودية الجافة في الوطن العربي وادي الجريز في **السعودية** ..
- 11- يتميز الوطن العربي بمناخ **صحراوي جاف** .. في معظم اجزاءه .
- 12- المناطق الداخلية تتميز بارتفاع الحرارة في فصل **الصيف**
- 13- تعمل التيارات البحرية الباردة على **خفض** .. درجة حرارة السواحل .
- 14- اتجهت مصر لانشاء مصنع مصنع للهيدروجين **الاخضر**
- 15- تنخفض درجة الحرارة كلما ارتفعنا عن سطح البحر مثل جبال **لبنان** ..
- 16- يعتمد تخطيط المطار والممرات الأرضية على اتجاهات **الرياح**
- 17- من المدن الداخلية في وطننا العربي مدينة **الرياض**
- 18- يسود الوطن العربي **ثلاث** .. أقاليم مناخية كبرى .
- 19- تقع محمية ضانا في الوطن العربي بدولة **الأردن**
- 20- إقليم مناخى يتميز بانه شديد الحرارة صيفاً وشديد البرودة شتاء هو **الصحراوي**
- 21- الإقليم المدارى امطاره **صيفية** .. بينما إقليم البحر المتوسط امطاره **شتوية**
- 22- تعيش في الإقليم الصحراوي بعض الحيوانات منها **الزواحف** .. **الابل** ..
- 23- يمتد في شمال الوطن العربي اقليم **البحر المتوسط**
- 24- عقد مؤتمر المناخ للأمم المتحدة عام 2022 في مصر بمدينة **شرم الشيخ**
- 25- تقع معظم مساحة وطننا العربي في الاقليم **الصحراوي**
- 26- ولد الرسول "ص" في مدينة **مكة** .. عام 570 م المعروف بعام الفيل .
- 27- عمل الرسول "ص" بحرفة رعى الأغنام ثم عمل بحرفة **التجارة** .. في شبابه ..
- 28- لقب الرسول "ص" بـ **الصادق الأمين** ..
- 29- بعد نزول الوحي كان يجتمع الرسول "ص" بالمسلمين في دار **الارقم بن ابى الارقم** ..
- 30- من صفات الرسول "ص" **حليما مع اهله** .. و **مساعد للمحتاج** .. و **يزور المريض** ..





- 31- في العام العاشر من الهجرة خرج الرسول "ص" لأداء فريضة.....**الحج**.....
- 32- يعد **ابو بكر الصديق**..... اول من اسلم من الرجال .
- 33- أسلم على يد أبو بكر الصديق كل من **الزبير بن العوام**.. و **عثمان بن عفان**...
- 34- تزوج الرسول "ص" من بنت ابي بكر الصديق السيدة.....**عائشة**.....
- 35- من اهم مشروعات الخليفة أبو بكر الصديق هو جمع....**القران الكريم**.....

متر : محمد عبد الصبور

السؤال الثالث : ضع كلمة (صواب) امام العبارة الصحيحة وكلمة (خطأ) امام العبارة غير الصحيحة

- 1- يوجد بالوطن العربي مظاهر متنوعة تتميز باشكالها الجذابة والوانها الخلابة . (✓)
- 2- يوجد في وطننا العربي جبال التوائية فقط . (✗)
- 3- توجد جبال **أطلس** في **الجناح الاسيوي** للوطن العربي . (✗)
- 4- بحر الرمال العظيم يقع بين دولتي **مصر والسودان** . (✗)
- 5- تكونت بعض الاودية الجافة نتيجة لحركات **باطنية** تعرضت لها الأرض . (✗)
- 6- تستخرج المعادن ومصادر الطاقة من المناطق الصحراوية في الوطن العربي . (✓)
- 7- يتركز بعض السكان في هضاب الجناح الافريقي للوطن العربي . (✓)
- 8- تقع سلاسل جبال الحجار وعسير في شبه جزيرة **سيناء** . (✗)
- 9- **تتشابه** درجات الحرارة بين دول الوطن العربي . (✗)
- 10- تزداد كمية الامطار المتساقطة باتجاه المرتفعات . (✓)
- 11- المناخ الحار يسود **كل** أجزاء الوطن العربي . (✗)
- 12- المسطحات المائية تعمل على تلطيف درجات الحرارة . (✓)
- 13- **تنخفض** درجات الحرارة في جنوب الوطن . (✗)
- 14- تتميز المناطق الساحلية باعتدال درجات الحرارة بها . (✓)
- 15- التغيرات المناخية تؤثر سلباً على الأمن الغذائي والمائي . (✓)
- 20- سوء الأحوال الجوية يؤدي الى تأجيل الرحلات الجوية . (✓)
- 21- يشغل معظم مساحة الوطن العربي الإقليم الصحراوي . (✓)
- 22- تعد محمية ضانا بالأردن من اشهر المحميات الطبيعية بالوطن العربي . (✓)
- 23- **يقل** المدى الحرارى في معظم الصحارى الكبرى بالوطن العربي . (✗)
- 24- تربي الماعز والاغنام في الإقليم **الصحراوي** . (✗)
- 25- يحتفل العالم بيوم 3 مارس من كل عام باليوم العالمي للحياة البرية . (✓)
- 26- يمتد الإقليم المدارى في أجزاء من الصومال والسودان والجزائر . (✗)
- 27- تعيش حيوانات مثل الزراف والأسود في حشائش **الاستبس** . (✗)
- 28- التغير المناخى من المشكلات البيئية في وطننا العربي . (✓)
- 29- تهتم دول الوطن العربي باستخدام مصادر الطاقة النظيفة . (✓)
- 30- **تنتشر** بالوطن العربي المراعى الطبيعية . (✗)

متر : محمد عبد الصبور

متر : محمد عبد الصبور





- 31- تعاني معظم الدول العربية من ندرة المياه المالحة . (X)
 32- نقص كمية الامطار في بعض السنوات بما لا يسمح بالزراعة . (L)
 33- من صفات النبي "ص" حليماً مع أهله وكان يساند العجوز . (L)
 34- كان النبي "ص" يستشير أصحابه في الغزوات منذ بدء التخطيط لها . (L)
 35- عثمان بن عفان والزبير بن العوام من الذين اسلموا على يد ابي بكر الصديق . (L)

السؤال الرابع : صوب ما تحته خط

- 1- توجد أعلى نقطة في وطننا العربي في الجناح الاسيوى .
 2- من الاودية الحافة في الوطن العربي وادى الجريز في ليبيا .
 3- يعيش السائح تجربة التزلج على جبل طوروس في دولة لبنان .
 4- توجد الشعاب المرجانية على سواحل البحر المتوسط .
 5- تمتد هضبة حضر موت من البحر المتوسط شمالاً الى وسط افريقيا جنوباً .
 6- التيارات البحرية الباردة تعمل على رفع درجة حرارة السواحل .
 7- المناخ يكون معتدلاً في الوطن العربي في فصل الصيف .
 8- المسطحات المائية يزداد تأثيرها في الوطن العربي .
 9- درجات الحرارة وكمية الامطار تتشابه بين دول الوطن العربي .
 10- المناطق الداخلية للوطن العربي معتدلة المناخ .
 11- يسود المناخ المعتدل الأجزاء الجنوبية من الوطن العربي .
 12- تهب الرياح شديدة البرودة على الوطن العربي صيفاً .
 13- ترتفع درجات الحرارة شمال الوطن العربي .
 14- يمتد إقليم البحر المتوسط في الجزء الجنوبي الغربي من شبه جزيرة العربية
 15- يوجد بالوطن العربي خمسة أقاليم مناخية كبرى .
 16- ينتشر في الإقليم المداري نباتات مثل أشجار الأرز والزيتون والصنوبر .
 17- تنتشر في حشائش الاستبس تربية الزواحف والثعالب .
 18- تنمو حشائش السافانا بالإقليم الصحراوي بالوطن العربي .
 19- تقع محمية ضانا في الوطن العربي بدولة مصر .
 20- الجفاف هو زيادة كمية الامطار في بعض السنوات .
 21- يعاني نحو ربع مساحة الوطن العربي من مشكلة التصحر .
 22- من أسباب التصحر زيادة مخزون المياه الجوفية .
 23- مدينة الداخلية اول مدينة صديقة للبيئة على مستوى جمهورية مصر العربية .
 24- قامت العراق باتشاء مدينة نيوم الخضراء عام 2022 م .
 25- عمل الرسول "ص" بحرفة التجارة في صغرة : محمد عبد الصبور



السؤال الخامس : اجب عن الاسئلة التالية

- 1- اكتب ما تشير اليه : جبال نشأت نتيجة حركات انكسارية في قشرة الأرض . الجبال الانكسارية
متر : محمد عبد الصبور
التعرية المائية . التعرية الهوائية . الحركات الانكسارية . الحركات الالتوائية
- 2- هناك عوامل لتشكل سطح وطننا العربي اذكرها ؟
متر : محمد عبد الصبور
- 3- ما النتائج المترتبة على : وجود السكان في الواحات بالوطن العربي . حيث يقوم السكان بحرفة الزراعة اعتماداً على المياه الجوفية
- 4- بم تفسر : أهمية الاودية الجافة في الوطن العربي . تستخدم كطرق للمواصلات او للحصول على المياه الجوفية مثل وادي الجربير
- 5- اذكر سبباً واحداً : تكون السهول الفيضية في الوطن العربي . كونتها الانهار عن طريق ترسيب المواد العالقة بمياهها . التعرية المائية
متر : محمد عبد الصبور
- 6- اكتب اثنين : من الجبال الالتوائية بالوطن العربي . أطلس - عمان
- 7- اكتب نتيجة واحدة : وجود الشعاب المرجانية في سواحل البحر الأحمر . لدى الى انها تعوق قيام الموانئ الطبيعية هناك
- 8- بم تفسر : تباين درجات الحرارة بين دول الوطن العربي . بسبب مجموعة من العوامل : الموقع الفلكي ومظاهر السطح والقرب او البعد عن المسطحات المائية
- 9- بم تفسر : أهمية المسطحات المائية في الوطن العربي . تلطف من درجة الحرارة - تقلل من المدى الجراي اليومي والسنوي - تزيد من فرص سقوط الامطار
- 10- ما العلاقة بين : المناخ والرحلات الجوية . يؤدي سوء المناخ الى تأجيل او الغاء الرحلات الجوية
- 11- ما النتائج المترتبة على : تعامد الشمس على مدار الجدى شتاءً في الوطن العربي . تكون الحرارة معتدلة في معظم اجزاء الوطن العربي باستثناء الاجزاء الشمالية والجبالية تكون اشد برودة
- 12- اكتب اثنين : من الدول العربية التي قامت بالمشروعات الخضراء مصر - السعودية
- 13- اكتب ما تشير اليه : المناطق القريبة من المسطحات المائية . المناطق الساحلية
- 14- ما العلاقة بين : التيارات البحرية الدفينة ودرجة الحرارة . تعمل التيارات البحرية الدفينة على رفع درجة حرارة السواحل التي تمر بها
- 15- بم تفسر: يقل تأثير المسطحات المائية في الوطن العربي . بسبب ضيق مساحتها - عدم توغل تأثيرها الى الداخل لوجود الصحاري ومرتفعات قريبة من السواحل
- 16- دلل : يؤثر المناخ على الأنشطة البشرية مثل الطيران . الاول : عند اختيار مواقع المطارات يجب مراعاة الظروف المناخية - الثاني : يعتمد تخطيط المطان والممرات الارضية على اتجاهات الرياح - الثالث : يجب ان يكون الطيار لديه قدرة على تفسير الظواهر الجوية
- 17- حدد المختلف : اشجار الأرز - الصبار - الصنوبر - الزيتون
متر : محمد عبد الصبور
- 18- حدد المختلف : فلسطين - الصومال - لبنان - تونس
متر : محمد عبد الصبور





- 19- بم تفسر : انشاء الدول العربية للمحميات الطبيعية . بسبب تعرض الحياة البرية للمخاطر مثل تطور الانشطة البشرية . تدهور الموارد النباتية . انقراض انواع عديدة من الحيوانات البرية
 متر : محمد عبد الصبور
- 20- ما العلاقة بين : الموقع الفلكي لإقليم البحر المتوسط وسقوط الامطار .
 يقع اقليم البحر المتوسط في الاطراف الشمالية بين دائرتي عرض 30 و 37.5 شمالا مما ادى الى سقوط
 متر : محمد عبد الصبور
- 21- ما النتائج المترتبة على : تنوع الأقاليم المناخية في وطننا العربي .
 ادى الى تنوع النباتات الطبيعية والحيوانات البرية
- 22- بم تفسر : تنوع الأقاليم المناخية في وطننا العربي .
 بسبب امتداد الوطن العربي نحو 40 دائرة عرضية ومساحة تبلغ 13 مليون كم مربع
- 23- ما المقصود ب : الإقليم المناخي .
 منطقة جغرافية من سطح الارض تتسم بخصائص مناخية متشابهة تميزها عن غيرها
 متر : محمد عبد الصبور
- 24- دلل : ظهور بعض المشكلات البيئية نتيجة التغير المناخي .
 الاولى : الجفاف حيث تتعرض كثير من الدول العربية الى الجفاف مثل الصومال - الثانية : ندرة المياه العذبة
 وتعرضها لها الدول العربية نتيجة النمو المتزايد في السكان - الثالثة : التصحر حيث تتدهور التربة ويعانى منها
 ثلثي مساحة الوطن العربي
- 25- بم تفسر : حدوث التصحر .
 بسبب استخدام طرق الري التقليدية - زحف الكثبان الرملية - التوسع العمراني - الرعي الجائر
- 26- بم تفسر : تعاني معظم الدول العربية من الفقر المائي .
 بسبب تزايد معدلات الاستهلاك نتيجة النمو السكاني المتزايد والتوسع المستمر في الزراعة
- 27- ما العلاقة بين : جهود بعض الدول العربية والمساحات الخضراء .
 حيث قامت الدول العربية بزيادة المساحات الخضراء مثل مصر والسعودية
- 28- ما النتائج المترتبة على : زحف الكثبان الرملية وتناقص المياه الجوفية في وطننا العربي .
 ادى ذلك الى حدوث مشكلة التصحر في الوطن العربي
- 29- قارن بين : الإقليم المدارى والصحراوي من حيث المناخ .
 المدارى : حار ممطر صيفاً ومعتدل جاف شتاءً - الصحراوي : شديد الحرارة صيفاً وشديد البرودة شتاءً
- 30- وضح : أشهر المحميات الطبيعية في وطننا العربي .
 جبل علبه في مصر - ضانا في الاردن - ارز الشوف في لبنان

متر : محمد عبد الصبور

متر : محمد عبد الصبور



متر : محمد عبد الصبور

مراجعة متربرين لأهم مصطلحات الوحدة الثانية

المفهوم	التعريف
الجبال الانكسارية	هي جبال نشأت نتيجة حدوث انكسار (حركات باطنية انكسارية) في قشرة الأرض.
الجبال الالتوائية	هي جبال نشأت نتيجة حركات باطنية (التوائية) تعرضت لها الأرض.
التيارات البحرية	هي حركة مياه البحار والمحيطات.
الإقليم المناخي	هو منطقة جغرافية من سطح الأرض تتسم بخصائص مناخية تميزها عن غيرها.
المحمية الطبيعية	مساحة من الأرض أو المياه تتميز بوجود نباتات أو حيوانات أو أسماك أو ظاهرات طبيعية ذات قيمة ثقافية أو علمية أو سياحية أو جمالية ويحظر فيها الصيد أو إتلاف النباتات.
الجفاف	هو نقص كمية الأمطار في بعض السنوات، بما لا يسمح بالزراعة أو نمو الحشائش.
التغير المناخي	الاختلافات والتحولت في الأحوال المناخية مثل تغير درجة الحرارة عن المعتاد
التصحّر	هو تدهور الأراضي وتناقص قدرتها على الإنتاج.



بنك أسئلة متربرين الشاملة في مادة " الدراسات الاجتماعية " على مقرر شهر نوفمبر

السؤال الأول

اختر الإجابة الصحيحة مما بين القوسين

1- تكونت نتيجة ترسب المواد العالقة في مياه الأنهار تشير العبارة إلى.....

(السهول الساحلية - الجبال - الهضاب - السهول الفيضية)

2- إحدى الظواهر التي تكونت بفعل التعرية المائية.....

(الجبال- الهضاب - الأودية الجافة - التجمعات الرملية)

3- السهول التي تتميز بتساقط الأمطار في فصل الشتاء هي سهول.....

(البحر المتوسط - البحر الأحمر - الخليج العربي - بحر العرب)

4- تمتد جبال البحر الأحمر في دولتي.....و.....

(موريتانيا والمغرب - مصر والسودان - الجزائر والمغرب - ليبيا وتونس)

5- تسقط أمطار موسمية صيفية على دولة.....

(لبنان - سوريا - اليمن - تونس)

6- يعاني نحو ثلثي مساحة الوطن العربي من مشكلة.....

(الجفاف - التصحر - ندرة المياه العذبة - قلة المراعي الطبيعية)

7- أكبر هضاب الوطن العربي مساحة هضبة.....

(الجلف الكبير - بادية الشام - إفريقيا الشمالية - حضرموت)



8- إحدى هضاب الجناح العربي الآسيوي هضبة

(الشطوط - الصحراء الكبرى - المعازة - بادية الشام)

9- أحد الجبال الالتوائية في الوطن العربي هي جبال

(الشام – الحجاز – أطلس - عسير)

10- مدينة عربية تقع في مناخ المناطق الساحلية

(الإسكندرية - الخرطوم - أسوان - الرياض)

11- أحد أشهر النباتات التي تنمو في إقليم المناخ الصحراوي الحار

(الأرز - الزيتون - الصنوبر - الصبار)

12- يحدث التصحر بسبب

(زيادة مساحات الغابات - كثرة الأمطار والسيول - زحف الكثبان الرملية - إنشاء المدن الذكية)

13- جبال نشأت نتيجة انكسار في القشرة الأرضية

(كردستان - زاجروس - عمان - عسير)

14- نشأت جبال أطلس نتيجة

(حركات انكسارية - حركات التوائية - ثورات بركانية - حركات الزلازل)

15- إحدى الدول العربية التي أطلقت مبادرة لزيادة المساحات الخضراء

(اليمن - سوريا - لبنان - مصر)

16- أعلن عن إنشاء مدينة نيوم الخضراء بدولة

(المغرب - مصر - السعودية - الجزائر)



17- توفي الرسول (ﷺ) في

(المدينة - مكة - الطائف - الشام)

18- تهب على الوطن العربي شتاء رياح شديدة البرودة قادمة من.....

(قارة إفريقيا - المحيط الهندي - قارة أوروبا - المحيط الهادي)

19- مناخ مدينة الإسكندرية معتدل أكثر من مناخ مدينة الرياض بسبب تأثير.....

(اتجاه المرتفعات - المسطحات المائية - التيارات البحرية - خط جرينتش)

20- أكثر الدول العربية التي تعرضت لخطر الجفاف دولة

(الصومال - المغرب - العراق - البحرين)

21- تدهور الأرض وتناقص قدرتها على الإنتاج، تشير العبارة لتعريف

(الجفاف - الفيضان - التصحر - السيول)

22- يحل فصل الشتاء على الوطن العربي عندما تتعامد الشمس على

(مدار السرطان - مدار الجدي - الدائرة القطبية - دائرة الاستواء)

23- كان الرسول (ﷺ) يستشيرهم في كثير من الأمور المتعلقة بالدولة الإسلامية

(زعماء قريش - الصحابة - قبائل العرب - الخوارج)

24- تمر بأراضي الوطن العربي جنوبا

(الدائرة القطبية الشمالية - مدار السرطان - دائرة الاستواء - خط جرينتش)



25- المناطق القريبة من المسطحات المائية يكون مناخها

(شديد الحرارة والجفاف - أكثر اعتدالاً ومطراً - أقل اعتدالاً ومطراً - شديد البرودة والجفاف)

26- الارتفاع لمسافة ١٥٠٠ متراً فوق مستوى سطح البحر يؤدي إلى انخفاض الحرارة.....

(درجة واحدة - درجتين - ثلاث درجات - أربع درجات)

27- تسقط أمطار الإقليم المداري في فصل.....

(الشتاء - الصيف - الخريف - الربيع)

28- تقع محمية ضانا في دولة

(سوريا - لبنان - فلسطين - الأردن)

29- كان اهتمام أبي بكر الصديق بالفتوحات يتركز على بلاد

(الحبشة وفارس - الشام والمغرب - النوبة وأرمينيا - العراق والشام)

30- تنمو أشجار الأرز في إقليم مناخ.....

(البحر المتوسط - الاستوائي - الصحراوي الحار - المداري)

31- دولة عربية تقع بالكامل داخل الإقليم الصحراوي الحار هي

(الجزائر - الكويت - السودان - لبنان)

32- يتسم مناخ الجزء الجنوبي الغربي من شبه الجزيرة العربية بأنه.....

(شتاء بارد ممطر - صيف حار جاف - شتاء معتدل جاف - ممطر طوال العام)

33- جبال أطلس نتجت عن (حركات الزلازل - الثورات البركانية - حركات التوائية - حركات انكسارية)



32- يتميز إقليم البحر المتوسط بسقوط الأمطار في فصل

(الشتاء - الخريف - الربيع - الصيف)

34- إحدى الدول العربية التي تقع أجزاءها الشمالية في إقليم مناخ البحر المتوسط.....

(موريتانيا - السودان - ليبيا - اليمن)

35- يتسم مناخ الجزء الجنوبي الغربي من شبه الجزيرة العربية

(شتاء بارد ممطر - صيف حار جاف - شتاء معتدل جاف - صيف بارد ممطر)

36- يتميز مناخ مدينة الإسكندرية بمصر بأنه أقل حرارة من

(الرياض - بيروت - مرسى مطروح - الدار البيضاء)

37- مدينتان متشابهتان في مناخهما الصحراوي الحار

(الرياض وأسوان – بيروت والرياض - الإسكندرية وصنعاء - الإسكندرية وبيروت)

السؤال الثاني

اكتب كلمة (صواب) أمام العبارة الصحيحة، وكلمة (خطأ) أمام العبارة غير الصحيحة:

- 1- تتميز سهول البحر المتوسط بأنها كثيرة السكان. ()
- 2- تمتد السهول الفيضية لنهري دجلة والفرات بدولة اليمن. ()
- 3- تتميز سهول المحيط الأطلنطي بقلة السكان وسهولة الانتقال. ()
- 4- ساعد تنوع مظاهر السطح على تنوع الأنشطة الاقتصادية. ()
- 5- تمتد هضبة إفريقيا الشمالية من سواحل المحيط الأطلنطي غرباً حتى ساحل الخليج العربي شرقاً. ()
- 6- الكثبان الرملية تكونت بفعل التعرية الهوائية. ()



بنك أسئلة الدراسات الإجتماعية

الصف السادس الابتدائي – الفصل الدراسي الأول

- () 7- تقوم الزراعة في الواحات اعتماداً على المياه الجوفية.
- () 8- أدنى نقطة في سطح الوطن العربي هي بحر قزوين.
- () 9- أنشأت المدن الذكية بهدف تقليل انبعاثات الغازات الدفيئة.
- () 10- تعرضت دولة المغرب لأكبر موجة جفاف سببت نقصاً في الغذاء.
- () 11- تشكلت جبال زاغروس نتيجة حركات التوائية.
- () 12- جبال عمان من الجبال الانكسارية في الوطن العربي.
- () 13- تعد هضبة نجد من هضاب الجناح العربي الإفريقي.
- () 14- نشأ وادي الجريير بفعل التعرية المائية.
- () 15- تسقط الأمطار بغزارة على منحدرات الجبال المواجهة للرياح الجافة.
- () 16- تسقط الأمطار صيفا على الأطراف الشمالية للوطن العربي.
- () 17- يؤدي سوء الأحوال المناخية إلى تأجيل أو إلغاء الرحلات الجوية.
- () 18- تؤدي التيارات البحرية الباردة إلى ارتفاع درجة حرارة السواحل التي تمر بها.
- () 19- يتسم وطننا العربي بمناخ شديد الحرارة صيفاً.
- () 20- ترتفع درجة الحرارة شتاءً في المناطق الداخلية من الوطن العربي.
- () 21- استخدام الأسمدة الكيماوية والمبيدات الحشرية يقلل من مشكلة التصحر.
- () 22- المشكلات البيئية في الوطن العربي تهدد صحة وحياة المواطنين.
- () 23- يؤثر الموقع الفلكي للوطن العربي على مناخه.



- () 24- أول من أسلم من الرجال هو عبد الرحمن بن عوف (رضي الله عنه).
- () 25- يقع وطننا العربي بين دائرتي عرض ٢ جنوباً : ٣٠ ٣٧ شمالاً.
- () 26- تمر دائرة الاستواء في شمال الوطن العربي.
- () 27- اهتم أبو بكر الصديق برعاية الفقراء والمرضى.
- () 28- يُساهم القطع العشوائي للأشجار في حل مشكلة التصحر.
- () 29- تقل درجات الحرارة كلما ارتفعنا فوق مستوى سطح البحر.
- () 30- يقل تأثير المسطحات المائية بالوطن العربي على المناخ بسبب ضيق مساحتها.
- () 31- تقع مدينة أسوان في إقليم البحر المتوسط.
- () 32- تنتشر حشائش الإستبس في الإقليم الصحراوي الحار.
- () 33- الجفاف هو نقص كمية الأمطار ليومين.
- () 34- فشل أبو بكر الصديق (رضي الله عنه) في استعادة وحدة الدولة الإسلامية بعد وفاة الرسول (ﷺ).
- () 35- يُؤثر التغير المناخي على درجة الحرارة وكمية المطر.
- () 36- التوسع المستمر في الزراعة يؤدي إلى ندرة المياه العذبة.
- () 37- يحدث التصحر في الوطن العربي بسبب استخدام طرق الري الحديثة.
- () 38- يساهم استخدام مصادر الطاقة النظيفة في حل المشكلات البيئية في الوطن العربي.
- () 39- تُساعد المحميات الطبيعية في الحفاظ على الحياة البرية بالوطن العربي.
- () 40- تعيش الأسود في إقليم مناخ البحر المتوسط.
- () 41- ينتشر نبات الصبار والنخيل بإقليم البحر المتوسط.



بنك أسئلة الدراسات الإجتماعية

الصف السادس الابتدائي – الفصل الدراسي الأول

- () 42- تنوع الأقاليم المناخية في الوطن العربي أدى إلى تنوع النبات الطبيعي.
- () 43- تقع محمية ضانا في دولة الكويت.
- () 44- واجه الرسول (ﷺ) العديد من الصعوبات في نشر الدعوة الإسلامية.
- () 45- يمتد إقليم البحر المتوسط بين دائرتي عرض ١٥:٣٠ شمالا بالوطن العربي.
- () 46- تنمو حشائش السافانا في الإقليم المداري بالوطن العربي.
- () 47- تهب على الوطن العربي شتاء رياح باردة قادمة من أوروبا.
- () 48- أعلى قمة جبلية في الوطن العربي توجد في اليمن.
- () 49- يسود المناخ المعتدل الأجزاء الجنوبية من الوطن العربي.
- () 50- يؤثر التغير المناخي على كميات الأمطار ودرجات الحرارة بالوطن العربي.
- () 51- كان الرسول (ﷺ) يأخذ بآراء زوجاته في شئون عدة.

السؤال الثالث

أكمل العبارات الآتية:

- 1- أكثر مظاهر السطح انتشاراً في الوطن العربي هي
- 2- تعتبر جبال عسير من أمثلة الجبال
- 3- تكونت جبال أطلس نتيجة الحركات
- 4- مرتفعات اليمن تكونت نتيجة
- 5- يمتد بحر الرمال العظيم بين و.....
- 6- تقع محمية ضانا في دولة



بنك أسئلة الدراسات الإجتماعية

الصف السادس الابتدائي – الفصل الدراسي الأول

- 7- تقع محمية أرز الشوف في دولة
- 8- تقع محمية جبل عُلبة في دولة
- 9- كان الرسول (ﷺ) يذهب لغار حراء من أجل
- 10- يتميز إقليم البحر المتوسط بتساقط الأمطار في فصل
- 11- يسود معظم مساحة الوطن العربي إقليم المناخ
- 12- تنمو حشائش السافانا في إقليم المناخ
- 13- أكثر مظاهر السطح انتشاراً في الوطن العربي هي
- 14- أنجز أبو بكر الصديق (رضي الله عنه) خلال توليه الخلافة مشروعاً عظيماً للإسلام هو جمع
- 15- أعلن عن إنشاء مدينة نيوم الخضراء عام ٢٠٢٢م في دولة
- 16- تقع سهول دجلة والفرات في قارة
- 17- تكونت السهول الفيضية نتيجة
- 18- تعد سهول دجلة والفرات من السهول
- 19- أعلى قمة جبلية في الوطن العربي هي قمة جبل
- 20- سمي العام الذي ولد فيه الرسول (ﷺ) باسم عام
- 21- تقع هضبة حضرموت في الجناح
- 22- تسقط الأمطار بغزارة على منحدرات الجبال المواجهة للرياح
- 23- الأمطار التي تسقط صيفاً على معظم أنحاء الصومال تسمى



- 24- تسقط الأمطار شتاءً في الوطن العربي على المناطق المطلة على البحر
- 25- حركة مياه البحر والمحيطات تسمى.....
- 26- تزوج النبي (ﷺ) من ابنة أبي بكر الصديق (رضي الله عنه) وهي السيدة
- 27- يسود معظم أجزاء الوطن العربي المناخ
- 28- تزداد معدلات استهلاك المياه العذبة في الوطن العربي بسبب النمو المتزايد في أعداد
- 29- يتعرض الوطن العربي لمشكلة التصحر بسبب زحف
- 30- تؤدي المشكلات البيئية في العديد من مناطق الوطن العربي إلى تدمير
- 31- الأجزاء الشمالية من الوطن العربي يسودها المناخ
- 32- تنخفض درجة حرارة السواحل عند مرور التيارات
- 33- ولد الرسول (ﷺ) وأبو بكر الصديق (رضي الله عنه) في مدينة
- 34- تتأثر المناطق الساحلية بالتيارات البحرية الدفينة التي تؤدي إلى ارتفاع
- 35- يهب على الوطن العربي صيفاً رياح حارة قادمة من جنوب
- 36- تنمو بالإقليم المداري في الوطن العربي حشائش
- 37- تربي الماعز والأغنام في إقليم مناخ
- 38- تسقط الأمطار صيفاً في الإقليم المناخي
- 39- إنشاء المدن الذكية بالوطن العربي يقلل من انبعاث
- 40- انطلقت مبادرة زراعة ٤٥٠ مليون شجرة في دولة



41- ينمو نبات الصبار في الإقليم

42 – عقد مؤتمر المناخ للأمم المتحدة Cop27 عام 2022 في دولة

السؤال الرابع

صوب ما تحته خط

- 1- تكونت سهول دجلة والفرات عن طريق ترسب المواد العالقة بمياه البحار.
- 2- تقع هضبة بادية الشام في الجناح العربي الإفريقي.
- 3- يمكن حل المشكلات البيئية عن طريق زيادة المناطق السكنية.
- 4- توجد جبال الحجاز على الساحل الشرقي للبحر المتوسط.
- 5- تكونت جبال زاغروس نتيجة للحركات الانكسارية.
- 6- تعد جبال البحر الأحمر ومرتفعات اليمن من الجبال الالتوائية.
- 7- سببت موجة الجفاف حدوث مجاعة لأكثر من مليون شخص في دولة تونس.
- 8- يعاني الوطن العربي من شدة البرودة شتاءً في بعض الأجزاء الجنوبية.
- 9- تعمل الدول العربية على حل مشكلات البيئة بإقامة مساكن مستقرة للسياح.
- 10- تنخفض درجات الحرارة فوق الجبال فتتكون الرمال.
- 11- تتناقص قدرة الأرض على الإنتاج بسبب استخدام طرق الري الحديثة.
- 12- يحل فصل الشتاء على الوطن العربي عندما تتعامد الشمس على دائرة الاستواء.
- 13- يسود المناخ المعتدل مناطق الوطن العربي الجنوبية.
- 14- يقترب الوطن العربي من قارة أستراليا.



15- نقص كمية الأمطار بما لا يسمح بالزراعة ونمو الحشائش، تشير العبارة إلى التصحّر.

السؤال الخامس

اكتب ما تشير إليه العبارة

- 1- الحركات الباطنية التي أدت إلى تكون جبال أطلس. (.....)
- 2- نقص كمية الأمطار في بعض السنوات بما لا يسمح بالزراعة أو نمو الحشائش. (.....)
- 3- تدهور الأراضي وتناقص قدرتها على الإنتاج. (.....)
- 4- الحركات الباطنية التي أدت إلى تكون جبال البحر الأحمر. (.....)
- 5- دولة عربية تعرضت لأكبر موجة جفاف. (.....)
- 6- سهول كوئنتها الأنهار نتيجة ترسيب المواد العالقة بمياهها. (.....)
- 7- مشكلة تحدث نتيجة لزيادة استهلاك المياه. (.....)

السؤال السادس

بم تفسر.....؟

1- صعوبة إنشاء الموانئ على سواحل البحر الأحمر؟

.....

2- تكون سهول وادي النيل؟

.....

3- أهمية السهول الفيضية في وطننا العربي؟

.....



بنك أسئلة الدراسات الإجتماعية

الصف السادس الابتدائي – الفصل الدراسي الأول

4- يعيش بعض السكان في الواحات؟

.....

5- نشأة جبال أطلس؟

.....

6- نشأة جبال البحر الأحمر؟

.....

7- تكون التجمعات الرملية في وطننا العربي؟

.....

8- أهمية الأودية الجافة؟

.....

9- مدينة الإسكندرية أكثر اعتدالاً في مناخها من مدينة الرياض؟

.....

10- زيادة معدل استهلاك المياه العذبة بالوطن العربي؟

.....

11- يقل تأثير المسطحات المائية مناخياً على الوطن العربي؟

.....

12- يختلف مناخ المناطق المرتفعة عن مناخ الأودية والسهول؟

.....



بنك أسئلة الدراسات الإجتماعية

الصف السادس الابتدائي – الفصل الدراسي الأول

13- تغطي الثلوج قمة جبل توبقال في المغرب؟

.....

14- اعتدال الحرارة على معظم أرجاء الوطن العربي شتاءً؟

.....

15- تنخفض درجات الحرارة شتاءً بالوطن العربي؟

.....

16- كان الرسول (ﷺ) يجتمع مع المسلمين في دار الأرقم بن أبي الأرقم؟

.....

17- حدوث مشكلة التصحر في مساحات واسعة من الوطن العربي؟

.....

18- ترتفع درجات الحرارة صيفاً بالوطن العربي؟

.....

19- سقوط الأمطار صيفاً على جنوب غرب شبه الجزيرة العربية؟

.....

20- تنوع الأقاليم المناخية في وطننا العربي؟

.....

21- إنشاء المدن الذكية؟

.....



بنك أسئلة الدراسات الإجتماعية

الصف السادس الابتدائي – الفصل الدراسي الأول

22- أهمية حشائش الإستبس بالنسبة للثروة الحيوانية؟

.....

23- أهمية المحميات الطبيعية؟

.....

24- حدوث الجفاف في بعض الدول العربية؟

.....

السؤال السابع

ما النتائج المترتبة على.....؟

1- وجود المياه الجوفية في الواحات؟

.....

2- حدوث الحركات الالتوائية؟

.....

3- تنوع مظاهر سطح الوطن العربي؟

.....

4- حدوث الحركات الانكسارية؟

.....

5- وجود العديد من المشكلات البيئية في الوطن العربي؟

.....



بنك أسئلة الدراسات الإجتماعية

الصف السادس الابتدائي – الفصل الدراسي الأول

6- عمل الرسول (ﷺ) في شبابه بحرفة رعي الأغنام؟

.....

7- تعامد الشمس على مدار السرطان صيفا بالنسبة للوطن العربي؟

.....

8- مرور التيارات البحرية الدفيئة بالقرب من المناطق الساحلية؟

.....

9- الرعي الجائر للحيوانات في الوطن العربي؟

.....

10- امتداد الوطن العربي في قارتي إفريقيا وآسيا واقترابه من أوروبا؟

.....

11- تعرض الصومال الأكبر موجة جفاف بالوطن العربي؟

.....

12- الموقع الفلكي للوطن العربي؟

.....

13- امتداد إقليم المناخ الصحراوي الحار بين ١٥:٣٠ شمالا؟

.....

14- ظهور تهديدات تواجه المحميات الطبيعية في الوطن العربي؟

.....



بنك أسئلة الدراسات الإجتماعية

الصف السادس الابتدائي – الفصل الدراسي الأول

السؤال الثامن

دلل على هذه العبارات:

1- تتنوع السهول في الوطن العربي.

.....

2- المشكلات البيئية تمثل خطورة على الوطن العربي؟

.....

3- أثرت الحركات الانكسارية على مظاهر سطح الوطن العربي.

.....

4- تبذل السعودية جهودًا لمواجهة المشكلات البيئية؟

.....

5- تؤثر التيارات البحرية على مناخ المناطق الساحلية؟

.....

6- اتصف أبو بكر الصديق (رضي الله عنه) بالحكمة والقدرة على مواجهة المواقف الصعبة خلال فترة خلافته؟

.....

7- تؤثر مظاهر السطح على المناخ في الوطن العربي؟

.....

8- يؤثر الموقع الجغرافي على مناخ الوطن العربي؟

.....



بنك أسئلة الدراسات الإجتماعية

الصف السادس الابتدائي – الفصل الدراسي الأول

9- تعدد المشكلات البيئية في الوطن العربي؟

.....

أجب عما يلي:

السؤال التاسع

1- أعط مثالاً واحداً لكل من: (الجبال الالتوائية في الجناح الآسيوي - السهول الساحلية في الجناح الإفريقي)

.....

2- ماذا يحدث إذا لم يتعرض الوطن العربي لحركات التوائية؟

.....

3- حدد أهم العوامل المؤثرة في مناخ الوطن العربي؟

.....

4- وضح كيف يؤثر المناخ على الرحلات الجوية؟

.....

5- حدد بعضاً من الصفات النبيلة التي اتصف بها الرسول (ﷺ)؟

.....

6- قدم مقترحات لحل كل من:

أ- مشكلة ندرة المياه العذبة في الوطن العربي؟

.....

ب- مشكلة التصحر في الوطن العربي؟

.....



بنك أسئلة الدراسات الإجتماعية

الصف السادس الابتدائي – الفصل الدراسي الأول

7- ما العلاقة بين مناخ الوطن العربي والموقع الفلكي؟

.....

8- ما العلاقة بين مناخ الوطن العربي ومجال الطيران؟

.....

9- ما العلاقة بين مناخ الوطن العربي ومظاهر السطح؟

.....

10- ما العلاقة بين مناخ الوطن العربي والمسطحات المائية؟

.....

11- ما العلاقة بين مناخ الوطن العربي والتيارات البحرية؟

.....

12- ما العلاقة بين الأنشطة البشرية - الحياة البرية؟

.....

13- ما العلاقة بين؟

أ- الطاقة النظيفة - المشكلات البيئية.

.....

ب- السكان - مشكلة ندرة المياه العذبة.

.....



ج- المشكلات البيئية - الحياة الحيوانية والنباتية.

.....

د- التصحر - الغابات.

.....

14- **قارن بين:** التيارات البحرية الدفيئة والباردة؟

.....

15- **قارن بين:** مناخ الوطن العربي صيفا وشتاءً من حيث (الحرارة والمطر).

.....

16- **قارن بين:** الأقاليم المناخية من حيث (الموقع والتوزيع الجغرافي -الخصائص المناخية)

.....

17- **صنف** الظواهر التضاريسية التالية حسب عوامل تشكيلها:

(جبال البحر الأحمر - جبال زاغروس - سهول دجلة - وادي الجير - بحر الرمال العظيم)

.....

18- **صنف** الجبال التالية إلى جبال التوائية وأخرى انكسارية:

(جبال عمان - جبال الحجاز - جبال زاغروس - جبال عسير - جبال كردستان - مرتفعات اليمن)

.....



بنك أسئلة الدراسات الإجتماعية

الصف السادس الابتدائي – الفصل الدراسي الأول

19- صف النباتات الآتية حسب الإقليم المناخي الذي توجد فيه:

(حشائش السافانا – السنوبر- أشجار الزيتون - الصبار – الأرز- حشائش الإستبس)

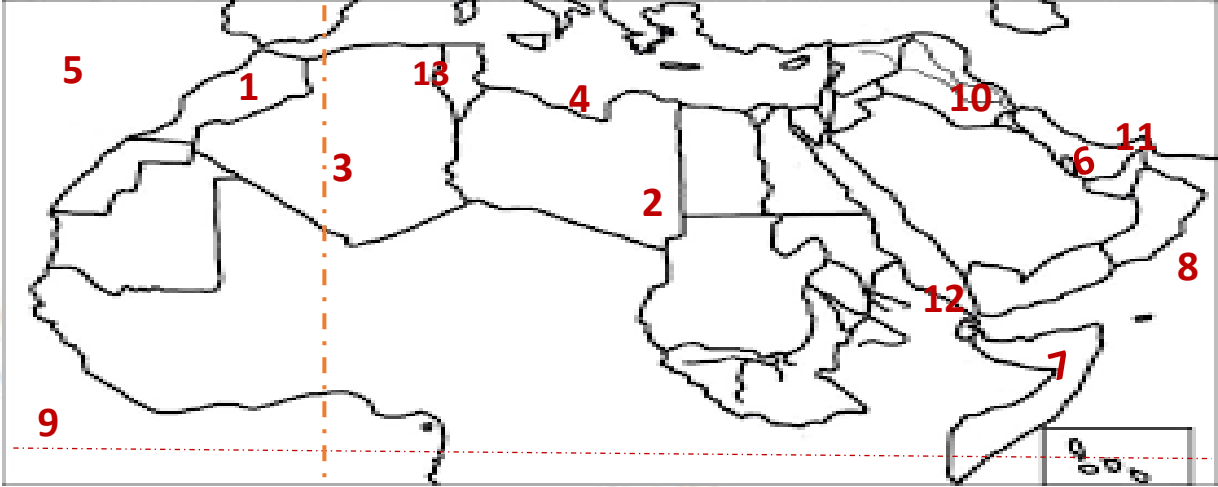
20- صف الحيوانات الآتية حسب الإقليم المناخي الذي توجد فيه:

(ثعلب الصحراء – الماعز – الزرافات – الأغنام – الزواحف - الأسود)



السؤال العاشر

لاحظ الخريطة، ثم أجب عما يلي:



1- يشير رقم (1) لجبال.....

2- يشير رقم (2) لواحة.....

3- واحة.....

4- تصنف السهول رقم (4) سهولاً.....

5- المحيط.....

6- الخليج.....

7- تعاني دولة..... من أكبر مجاعة جفاف.

8- البحر.....

9- دائرة عرض رئيسية.....

10- نشأت الجبال رقم (10) نتيجة لحركات.....

11- مضيق.....

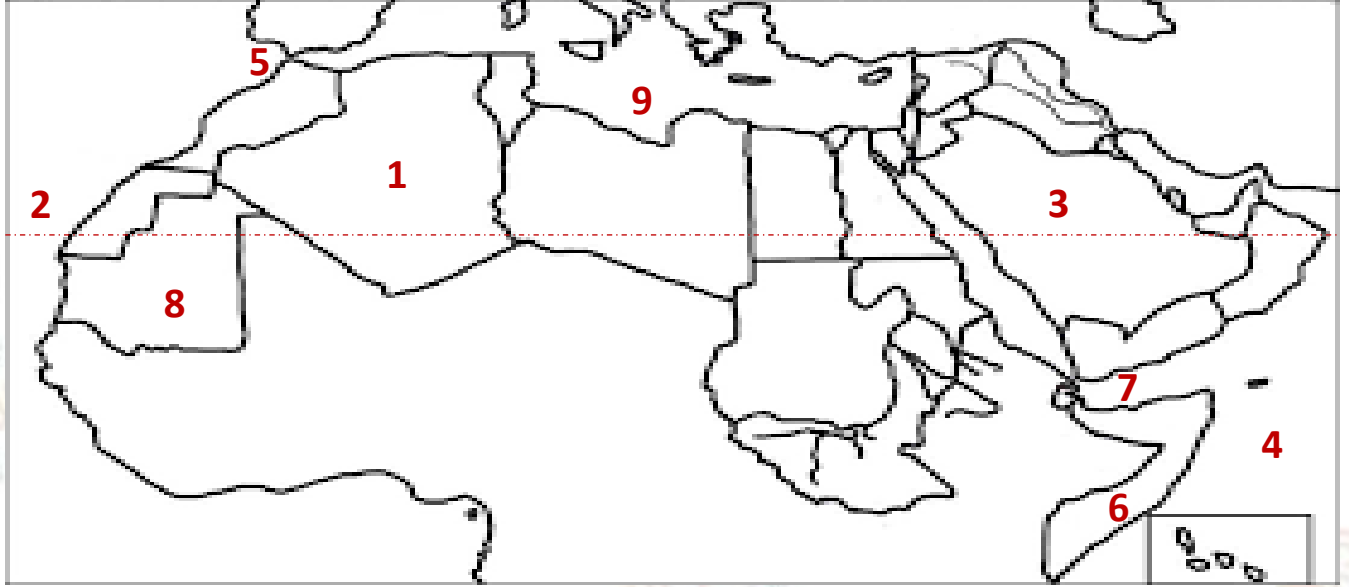
12- مضيق.....

13- دولة.....

14- خط طول رئيسي.....



ب-



1- منطقة يسودها المناخ..... 2- مدار.....

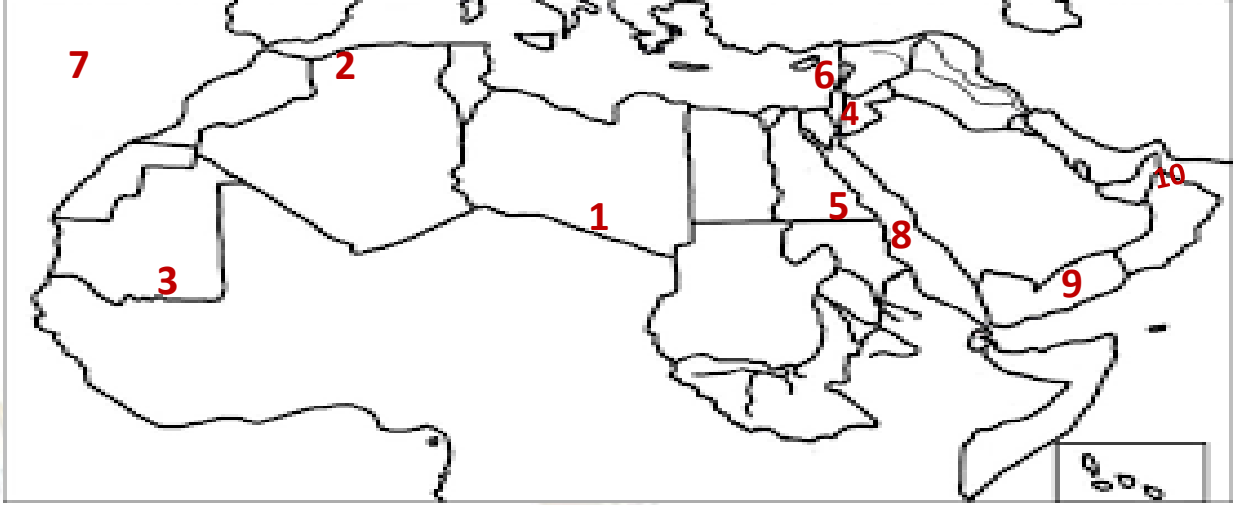
3- صواب أم خطأ: ترتفع الحرارة في المنطقة رقم (3) لأنها بعيدة عن المسطحات المائية. ()

4- المحيط..... 5- مضيق.....

6- دولة تسقط عليها أمطار موسمية..... 7- خليج.....

8- دولة..... 9- البحر.....





- 1- إقليم مناخ
 2- إقليم مناخ
 3- إقليم مناخ
 4- دولة تقع فيها محمية ضانا
 5- إحدى المحميات المصرية
 6- دولة تقع فيها محمية أرز الشوف
 7- المحيط
 8- البحر
 9- دولة
 10- خليج

عمدًا لله الذي أعاننا على ذلك، وصلاة وسلامًا على نبينا محمد وآله وصحبه أجمعين.



بنك أسئلة مترارين الشاملة في مادة " الدراسات الاجتماعية " على مقرر شهر نوفمبر

اختر الإجابة الصحيحة مما بين القوسين

السؤال الأول

1- تكونت نتيجة ترسب المواد العالقة في مياه الأنهار تشير العبارة إلى.....

(السهول الساحلية - الجبال - الهضاب - السهول الفيضية)

2- إحدى الظواهر التي تكونت بفعل التعرية المائية.....

(الجبال- الهضاب - الأودية الجافة - التجمعات الرملية)

3- السهول التي تتميز بتساقط الأمطار في فصل الشتاء هي سهول.....

(البحر المتوسط - البحر الأحمر - الخليج العربي - بحر العرب)

4- تمتد جبال البحر الأحمر في دولتيو.....

(موريتانيا والمغرب - مصر والسودان - الجزائر والمغرب - ليبيا وتونس)

5- تسقط أمطار موسمية صيفية على دولة.....

(لبنان - سوريا - اليمن - تونس)

6- يعاني نحو ثلثي مساحة الوطن العربي من مشكلة.....

(الجفاف - التصحّر - ندرة المياه العذبة - قلة المراعي الطبيعية)

7- أكبر هضاب الوطن العربي مساحة هضبة.....

(الجلف الكبير - بادية الشام - إفريقيا الشمالية - حضرموت)

8- إحدى هضاب الجناح العربي الآسيوي هضبة.....

(الشطوط - الصحراء الكبرى - المعازة - بادية الشام)



9- أحد الجبال الالتوائية في الوطن العربي هي جبال

(الشام-الحجاز-أطلس-عسير)

10- مدينة عربية تقع في مناخ المناطق الساحلية

(الرياض - أسوان - الخرطوم - الإسكندرية - أسوان - الرياض)

11- أحد أشهر النباتات التي تنمو في إقليم المناخ الصحراوي الحار

(الأرز - الزيتون - الصنوبر - الصبار)

12- يحدث التصحر بسبب

(زيادة مساحات الغابات-كثرة الأمطار والسيول -زحف الكثبان الرملية -إنشاء المدن الذكية)

13- جبال نشأت نتيجة انكسار في القشرة الأرضية

(کردستان - زاجروس - عمان - عسير)

14- نشأت جبال أطلس نتيجة

(حركات انكسارية - حركات التوائية - ثورات بركانية - حركات الزلازل)

15- إحدى الدول العربية التي أطلقت مبادرة لزيادة المساحات الخضراء

(اليمن - سوريا - لبنان - مصر)

16- أعلن عن إنشاء مدينة نيوم الخضراء بدولة

(المغرب - مصر - السعودية - الجزائر)

17- توفي الرسول (ﷺ) في

(المدينة - مكة - الطائف - الشام)



18- تهب على الوطن العربي شتاء رياح شديدة البرودة قادمة من.....

(قارة إفريقيا - المحيط الهندي - قارة أوروبا - المحيط الهادي)

19- مناخ مدينة الإسكندرية معتدل أكثر من مناخ مدينة الرياض بسبب تأثير.....

(اتجاه المرتفعات - المسطحات المائية - التيارات البحرية - خط جرينتش)

20- أكثر الدول العربية التي تعرضت لخطر الجفاف دولة.....

(الصومال - المغرب - العراق - البحرين)

21- تدهور الأرض وتناقص قدرتها على الإنتاج، تشير العبارة لتعريف.....

(الجفاف - الفيضان - التصحّر - السيول)

22- يحل فصل الشتاء على الوطن العربي عندما تتعامد الشمس على.....

(مدار السرطان - مدار الجدي - الدائرة القطبية - دائرة الاستواء)

23- كان الرسول (ﷺ) يستشيرهم في كثير من الأمور المتعلقة بالدولة الإسلامية.....

(زعماء قريش - الصحابة - قبائل العرب - الخوارج)

24- تمر بأراضي الوطن العربي جنوباً.....

(الدائرة القطبية الشمالية - مدار السرطان - دائرة الاستواء - خط جرينتش)

25- المناطق القريبة من المسطحات المائية يكون مناخها.....

(شديد الحرارة والجفاف-أكثر اعتدالاً ومطراً-أقل اعتدالاً ومطراً-شديد البرودة والجفاف)



26- الارتفاع لمسافة ١٥٠٠ مترًا فوق مستوى سطح البحر يؤدي إلى انخفاض الحرارة.....

(درجة واحدة - درجتين - ثلاث درجات - أربع درجات)

27- تسقط أمطار الإقليم المداري في فصل.....

(الشتاء - الصيف - الخريف - الربيع)

28- تقع محمية ضانا في دولة

(سوريا - لبنان - فلسطين - الأردن)

29- كان اهتمام أبي بكر الصديق بالفتوحات يتركز على بلادو.....

(الحبشة وفارس - الشام والمغرب - النوبة وأرمينيا - العراق والشام)

30- تنمو أشجار الأرز في إقليم مناخ.....

(البحر المتوسط - الاستوائي - الصحراوي الحار - المداري)

31- دولة عربية تقع بالكامل داخل الإقليم الصحراوي الحار هي

(الجزائر - الكويت - السودان - لبنان)

32- يتسم مناخ الجزء الجنوبي الغربي من شبه الجزيرة العربية بأنه.....

(شتاء بارد ممطر - صيف حار جاف - شتاء معتدل جاف - ممطر طوال العام)

33- جبال أطلس نتجت عن (حركات الزلازل - الثورات البركانية - حركات التوائية - حركات انكسارية)

32- يتميز إقليم البحر المتوسط بسقوط الأمطار في فصل (الشتاء - الخريف - الربيع - الصيف)



34- إحدى الدول العربية التي تقع أجزاءها الشمالية في إقليم مناخ البحر المتوسط.....

(موريتانيا - السودان - ليبيا - اليمن)

35- يتسم مناخ الجزء الجنوبي الغربي من شبه الجزيرة العربية

(شتاء بارد ممطر - صيف حار جاف - شتاء معتدل جاف - صيف بارد ممطر)

36- يتميز مناخ مدينة الإسكندرية بمصر بأنه أقل حرارة من

(الرياض - بيروت - مرسى مطروح - الدار البيضاء)

37- مدينتان متشابهتان في مناخهما الصحراوي الحار

(الرياض وأسوان - بيروت والرياض - الإسكندرية وصنعاء - الإسكندرية وبيروت)

السؤال الثاني

اكتب كلمة (صواب) أمام العبارة الصحيحة، وكلمة (خطأ) أمام العبارة غير الصحيحة:

- 1- تتميز سهول البحر المتوسط بأنها كثيرة السكان. (✓)
- 2- تمتد السهول الفيضية لنهري دجلة والفرات بدولة اليمن. (×)
- 3- تتميز سهول المحيط الأطلسي بقلّة السكان وسهولة الانتقال. (×)
- 4- ساعد تنوع مظاهر السطح على تنوع الأنشطة الاقتصادية. (✓)
- 5- تمتد هضبة إفريقيا الشمالية من سواحل المحيط الأطلسي غرباً حتى ساحل الخليج العربي شرقاً. (×)
- 6- الكثبان الرملية تكونت بفعل التعرية الهوائية. (✓)
- 7- تقوم الزراعة في الواحات اعتماداً على المياه الجوفية. (✓)
- 8- أدنى نقطة في سطح الوطن العربي هي بحر قزوين. (×)



- 9- أنشئت المدن الذكية بهدف تقليل انبعاثات الغازات الدفيئة. (✓)
- 10- تعرضت دولة المغرب لأكبر موجة جفاف سببت نقصا في الغذاء. (×)
- 11- تشكلت جبال زاغروس نتيجة حركات التوائية. (✓)
- 12- جبال عمان من الجبال الانكسارية في الوطن العربي. (×)
- 13- تعد هضبة نجد من هضاب الجناح العربي الإفريقي. (×)
- 14- نشأ وادي الجريير بفعل التعرية المائية. (✓)
- 15- تسقط الأمطار بغزارة على منحدرات الجبال المواجهة للرياح الجافة. (×)
- 16- تسقط الأمطار صيفا على الأطراف الشمالية للوطن العربي. (×)
- 17- يؤدي سوء الأحوال المناخية إلى تأجيل أو إلغاء الرحلات الجوية. (✓)
- 18- تؤدي التيارات البحرية الباردة إلى ارتفاع درجة حرارة السواحل التي تمر بها. (×)
- 19- يتسم وطننا العربي بمناخ شديد الحرارة صيفاً. (✓)
- 20- ترتفع درجة الحرارة شتاءً في المناطق الداخلية من الوطن العربي. (×)
- 21- استخدام الأسمدة الكيماوية والمبيدات الحشرية يقلل من مشكلة التصحر. (×)
- 22- المشكلات البيئية في الوطن العربي تهدد صحة وحياة المواطنين. (✓)
- 23- يؤثر الموقع الفلكي للوطن العربي على مناخه. (✓)
- 24- أول من أسلم من الرجال هو عبد الرحمن بن عوف (رضي الله عنه). (×)
- 25- يقع وطننا العربي بين دائرتي عرض ٢ جنوباً: ٣٠ ٣٧ شمالاً. (✓)



بنك أسئلة الدراسات الإجتماعية

الصف السادس الابتدائي – الفصل الدراسي الأول

- 26- تمر دائرة الاستواء في شمال الوطن العربي. (×)
- 27- اهتم أبو بكر الصديق برعاية الفقراء والمرضى. (✓)
- 28- يُساهم القطع العشوائي للأشجار في حل مشكلة التصحر. (×)
- 29- تقل درجات الحرارة كلما ارتفعنا فوق مستوى سطح البحر. (✓)
- 30- يقل تأثير المسطحات المائية بالوطن العربي على المناخ بسبب ضيق مساحتها. (✓)
- 31- تقع مدينة أسوان في إقليم البحر المتوسط. (×)
- 32- تنتشر حشائش الإستبس في الإقليم الصحراوي الحار. (×)
- 33- الجفاف هو نقص كمية الأمطار ليومين. (×)
- 34- فشل أبو بكر الصديق (رضي الله عنه) في استعادة وحدة الدولة الإسلامية بعد وفاة الرسول (ﷺ). (×)
- 35- يُؤثر التغير المناخي على درجة الحرارة وكمية المطر. (✓)
- 36- التوسع المستمر في الزراعة يؤدي إلى ندرة المياه العذبة. (✓)
- 37- يحدث التصحر في الوطن العربي بسبب استخدام طرق الري الحديثة. (×)
- 38- يساهم استخدام مصادر الطاقة النظيفة في حل المشكلات البيئية في الوطن العربي. (✓)
- 39- تساعد المحميات الطبيعية في الحفاظ على الحياة البرية بالوطن العربي. (✓)
- 40- تعيش الأسود في إقليم مناخ البحر المتوسط. (×)
- 41- ينتشر نبات الصبار والنخيل بإقليم البحر المتوسط. (×)
- 42- تنوع الأقاليم المناخية في الوطن العربي أدى إلى تنوع النبات الطبيعي. (✓)



بنك أسئلة الدراسات الإجتماعية

الصف السادس الابتدائي – الفصل الدراسي الأول

- 43- تقع محمية ضانا في دولة الكويت. (×)
- 44- واجه الرسول (ﷺ) العديد من الصعوبات في نشر الدعوة الإسلامية. (✓)
- 45- يمتد إقليم البحر المتوسط بين دائرتي عرض ١٥ : ٣٠ ◊ شمالا بالوطن العربي. (×)
- 46- تنمو حشائش السافانا في الإقليم المداري بالوطن العربي. (✓)
- 47- تهب على الوطن العربي شتاء رياح باردة قادمة من أوروبا. (✓)
- 48- أعلى قمة جبلية في الوطن العربي توجد في اليمن. (×)
- 49- يسود المناخ المعتدل الأجزاء الجنوبية من الوطن العربي. (×)
- 50- يؤثر التغير المناخي على كميات الأمطار ودرجات الحرارة بالوطن العربي. (✓)
- 51- كان الرسول (ﷺ) يأخذ بآراء زوجاته في شئون عدة. (✓)

السؤال الثالث

أكمل العبارات الآتية:

- 1- أكثر مظاهر السطح انتشاراً في الوطن العربي هي الهضاب.
- 2- تعتبر جبال عسير من أمثلة الجبال الانكسارية.
- 3- تكونت جبال أطلس نتيجة الحركات الالتوائية.
- 4- مرتفعات اليمن تكونت نتيجة الحركات الانكسارية.
- 5- يمتد بحر الرمال العظيم بين مصر و ليبيا.
- 6- تقع محمية ضانا في دولة الأردن.
- 7- تقع محمية أرز الشوف في دولة لبنان.



- 8- تقع محمية جبل عُلبة في دولة مصر.
- 9- كان الرسول (ﷺ) يذهب لغار حراء من أجل التعبد والتأمل.
- 10- يتميز إقليم البحر المتوسط بتساقط الأمطار في فصل الشتاء.
- 11- يسود معظم مساحة الوطن العربي إقليم المناخ الصحراوي الحار.
- 12- تنمو حشائش السافانا في إقليم المناخ المداري.
- 13- أكثر مظاهر السطح انتشاراً في الوطن العربي هي الهضاب.
- 14- أنجز أبو بكر الصديق (رضي الله عنه) خلال توليه الخلافة مشروعاً عظيماً للإسلام هو جمع القرآن الكريم.
- 15- أعلن عن إنشاء مدينة نيوم الخضراء عام ٢٠٢٢م في دولة السعودية.
- 16- تقع سهول دجلة والفرات في قارة آسيا.
- 17- تكونت السهول الفيضية نتيجة رواسب الأنهار.
- 18- تعد سهول دجلة والفرات من السهول الفيضية.
- 19- أعلى قمة جبلية في الوطن العربي هي قمة جبل توبقال.
- 20- سمي العام الذي ولد فيه الرسول (ﷺ) باسم عام الفيل.
- 21- تقع هضبة حزموت في الجناح الآسيوي.
- 22- تسقط الأمطار بغزارة على منحدرات الجبال المواجهة للرياح المحملة ببخار الماء.
- 23- الأمطار التي تسقط صيفاً على معظم أنحاء الصومال تسمى أمطار موسمية.
- 24- تسقط الأمطار شتاءً في الوطن العربي على المناطق المطلة على البحر المتوسط.



بنك أسئلة الدراسات الإجتماعية

الصف السادس الابتدائي – الفصل الدراسي الأول

- 25- حركة مياه البحر والمحيطات تسمى التيارات البحرية.
- 26- تزوج النبي (ﷺ) من ابنة أبي بكر الصديق (رضي الله عنه) وهي السيدة عائشة (رضي الله عنها).
- 27- يسود معظم أجزاء الوطن العربي المناخ الحار.
- 28- تزداد معدلات استهلاك المياه العذبة في الوطن العربي بسبب النمو المتزايد في أعداد السكان.
- 29- يتعرض الوطن العربي لمشكلة التصحر بسبب زحف الكثبان الرملية.
- 30- تؤدي المشكلات البيئية في العديد من مناطق الوطن العربي إلى تدمير الحياة النباتية والحيوانية.
- 31- الأجزاء الشمالية من الوطن العربي يسودها المناخ المعتدل.
- 32- تنخفض درجة حرارة السواحل عند مرور التيارات البحرية الباردة.
- 33- ولد الرسول (ﷺ) وأبو بكر الصديق (رضي الله عنه) في مدينة مكة.
- 34- تتأثر المناطق الساحلية بالتيارات البحرية الدفيئة التي تؤدي إلى ارتفاع درجات الحرارة.
- 35- يهب على الوطن العربي صيفاً رياح حارة قادمة من جنوب آسيا.
- 36- تنمو بالإقليم المداري في الوطن العربي حشائش السافانا.
- 37- تربي الماعز والأغنام في إقليم مناخ البحر المتوسط.
- 38- تسقط الأمطار صيفاً في الإقليم المناخي المداري.
- 39- إنشاء المدن الذكية بالوطن العربي يقلل من انبعاث الغازات الدفيئة.
- 40- انطلقت مبادرة زراعة ٤٥٠ مليون شجرة في دولة السعودية.
- 41- ينمو نبات الصبار في الإقليم الصحراوي الحار.



42 – عقد مؤتمر المناخ للأمم المتحدة Cop27 عام 2022 في دولة مصر

السؤال الرابع

صوب ما تحته خط

1-تكونت سهول دجلة والفرات عن طريق ترسب المواد العالقة بمياه البحار. الأنهار

2-تقع هضبة بادية الشام في الجناح العربي الإفريقي. الآسيوي

3-يمكن حل المشكلات البيئية عن طريق زيادة المناطق السكنية. المساحات الخضراء

4-توجد جبال الحجاز على الساحل الشرقي للبحر المتوسط. الأحمر

5-تكونت جبال زاغروس نتيجة للحركات الانكسارية. الالتوائية

6-تعد جبال البحر الأحمر ومرتفعات اليمن من الجبال الالتوائية. الانكسارية

7-سببت موجة الجفاف حدوث مجاعة لأكثر من مليون شخص في دولة تونس. الصومال

8-يعاني الوطن العربي من شدة البرودة شتاءً في بعض الأجزاء الجنوبية. الشمالية

9-تعمل الدول العربية على حل مشكلات البيئة بإقامة مساكن مستقرة للسياح. للرعاة

10-تنخفض درجات الحرارة فوق الجبال فتتكون الرمال. الثلوج

11-تتناقص قدرة الأرض على الإنتاج بسبب استخدام طرق الري الحديثة. التقليدية

12-يحل فصل الشتاء على الوطن العربي عندما تتعامد الشمس على دائرة الاستواء. مدار الجدي

13-يسود المناخ المعتدل مناطق الوطن العربي الجنوبية. الشمالية

14-يقترّب الوطن العربي من قارة أستراليا. أوروبا



بنك أسئلة الدراسات الإجتماعية

الصف السادس الابتدائي – الفصل الدراسي الأول

السؤال الخامس

اكتب ما تشير إليه العبارة

- 1-الحركات الباطنية التي أدت إلى تكون جبال أطلس. (الجبال الالتوائية)
- 2-نقص كمية الأمطار في بعض السنوات بما لايسمح بالزراعة أو نمو الحشائش. (الجفاف)
- 3-تدهور الأراضي وتناقص قدرتها على الإنتاج. (التصحر)
- 4-الحركات الباطنية التي أدت إلى تكون جبال البحر الأحمر. (الجبال الانكسارية)
- 5- دولة عربية تعرضت لأكبر موجة جفاف. (الصومال)
- 6-سهول كوئتها الأنهار نتيجة ترسيب المواد العالقة بمياهها. (السهول الفيضية)
- 7-مشكلة تحدث نتيجة لزيادة استهلاك المياه. (ندرة المياه العذبة)

السؤال السادس

بم تفسر.....؟

- 1- صعوبة إنشاء الموانئ على سواحل البحر الأحمر؟

بسبب وجود الشعاب المرجانية

- 2- تكون سهول وادي النيل؟

كونتها الأنهار عن طريق ترسب المواد العالقة بمياهها مما أدى لتكوين تربة فيضيه تُعد من أخصب أنواع الأراضي.

- 3- أهمية السهول الفيضية في وطننا العربي؟

تكون تربة فيضيه تُعد من أخصب أنواع الأراضي الزراعية مثل:

○ سهول وادي النيل في مصر والسودان.

○ سهول دجلة والفرات في العراق.



بنك أسئلة الدراسات الإجتماعية

الصف السادس الابتدائي – الفصل الدراسي الأول

4- يعيش بعض السكان في الواحات؟

بسبب قيام الزراعة اعتماداً على المياه الجوفية العذبة.

5- نشأة جبال أطلس؟

نتيجة حركات باطنية (التوائية) تعرضت لها الأرض.

6- نشأة جبال البحر الأحمر؟

نتيجة حركات انكسار (انكسارية) في قشرة الأرض.

7- تكون التجمعات الرملية في وطننا العربي؟

بفعل التعرية الهوائية.

8- أهمية الأودية الجافة؟

تستخدم كطرق للمواصلات مثل وادي الجدير في السعودية – نحصل منها على المياه الجوفية.

9- مدينة الإسكندرية أكثر اعتدالاً في مناخها من مدينة الرياض؟

لأن الإسكندرية مدينة ساحلية تطل على البحر المتوسط الذي يلطف درجات الحرارة بها ويقلل المدي الحراري اليومي والسنوي ويزيد فرص سقوط الأمطار بينما الرياض مدينة داخلية لا تطل على السواحل.

10- زيادة معدل استهلاك المياه العذبة بالوطن العربي؟

النمو المتزايد في أعداد السكان.

11- يقل تأثير المسطحات المائية مناخياً على الوطن العربي؟

بسبب ضيق مساحة المسطحات المائية وعدم توغل تأثيرها إلى الداخل لوجود الصحاري والمرتفعات.

12- يختلف مناخ المناطق المرتفعة عن مناخ الأودية والسهول؟

لأن درجات الحرارة تقل بمقدار درجة مئوية واحدة كلما ارتفعنا 150م عن مستوي سطح البحر.



بنك أسئلة الدراسات الإجتماعية

الصف السادس الابتدائي – الفصل الدراسي الأول

13- تغطي الثلوج قمة جبل توبقال في المغرب؟

لأن درجات الحرارة تقل بمقدار درجة مئوية واحدة كلما ارتفعنا 150م عن مستوي سطح البحر.

14- اعتدال الحرارة على معظم أرجاء الوطن العربي شتاءً؟

لتعامد الشمس على مدار الجدي.

15- تنخفض درجات الحرارة شتاءً بالوطن العربي؟

بسبب تعرضه لهبوب رياح شديدة البرودة قادمة من أوروبا وآسيا شتاءً.

16- كان الرسول (ﷺ) يجتمع مع المسلمين في دار الأرقم بن أبي الأرقم؟

ليتلو عليهم القرآن الكريم ويعلمهم أحكام الدين الإسلامي.

17- حدوث مشكلة التصحر في مساحات واسعة من الوطن العربي؟

بسبب استخدام طرق الري التقليدية.

18- ترتفع درجات الحرارة صيفاً بالوطن العربي؟

بسبب تعرضه لهبوب رياح حارة قادمة من جنوب آسيا صيفاً.

19- سقوط الأمطار صيفاً على جنوب غرب شبه الجزيرة العربية؟

لأنها تقع ضمن الإقليم المداري (الذي مناخه حار ممطر صيفاً – معتدل جاف شتاءً)

20- تنوع الأقاليم المناخية في وطننا العربي؟

بسبب اتساع مساحة الوطن العربي حيث يمتد في نحو 40 دائرة عرض بمساحة تزيد عن 13 مليون كم².

21- إنشاء المدن الذكية؟

لتقليل انبعاثات الغازات الدفينة.



بنك أسئلة الدراسات الإجتماعية

الصف السادس الابتدائي – الفصل الدراسي الأول

22- أهمية حشائش الإستبس بالنسبة للثروة الحيوانية؟

حيث يُربي عليها الماعز والأغنام شمال الوطن العربي.

23- أهمية المحميات الطبيعية؟

الحفاظ على الحياة البرية بما تتضمنه من نباتات طبيعية وحيوانات برية – تنشيط السياحة وجذب السياح – تساعد في تحقيق التوازن البيئي – الحد من التلوث تحقيقاً للتنمية المستدامة.

24- حدوث الجفاف في بعض الدول العربية؟

بسبب نقص كمية الأمطار في بعض السنوات بما لا يسمح بالزراعة أو نمو الحشائش.

السؤال السابع

ما النتائج المترتبة على.....؟

1- وجود المياه الجوفية في الواحات؟

قيام الزراعة اعتماداً على المياه الجوفية ويعيش فيها السكان مثل واحة سيوة في مصر، واحة الكفرة في ليبيا واحة عين صالح في الجزائر.

2- حدوث الحركات الالتوائية؟

نشأة الجبال الالتوائية مثل جبال أطلس.

3- تنوع مظاهر سطح الوطن العربي؟

أدى إلى تنوع الأنشطة الاقتصادية.

4- حدوث الحركات الانكسارية؟

نشأة الجبال الانكسارية مثل جبال الحجاز.

5- وجود العديد من المشكلات البيئية في الوطن العربي؟

أدت لتهديد صحة المواطن العربي وحياته - إعاقة تنفيذ الخطط التنموية - تدمير الحياة النباتية والحيوانية.



بنك أسئلة الدراسات الإجتماعية

الصف السادس الابتدائي – الفصل الدراسي الأول

6- عمل الرسول (ﷺ) في شبابه بحرفة رعي الأغنام؟

تعلم منها الرحمة والرفقة.

7- تعامد الشمس على مدار السرطان صيفا بالنسبة للوطن العربي؟

ارتفاع درجات الحرارة بشكل عام في الوطن العربي.

8- مرور التيارات البحرية الدفيئة بالقرب من المناطق الساحلية؟

تؤدي لارتفاع درجات الحرارة بالسواحل التي تمر بها.

9- الرعي الجائر للحيوانات في الوطن العربي؟

أدى لحدوث مشكلة التصحر.

10- امتداد الوطن العربي في قارتي إفريقيا وآسيا واقترابه من أوروبا؟

مما أدى إلى تعرضه لهبوب رياح شديدة البرودة من أوروبا وآسيا شتاء ورياح حارة من جنوب آسيا صيفاً.

11- تعرض الصومال الأكبر موجة جفاف بالوطن العربي؟

أدى إلى نقص الغذاء وحدوث مجاعة لأكثر من مليون شخص.

12- الموقع الفلكي للوطن العربي؟

سيادة المناخ الحار جنوب الوطن العربي والمناخ المعتدل في الأجزاء الشمالية من الوطن العربي.

13- امتداد إقليم المناخ الصحراوي الحار بين ١٥:٣٠ شمالاً؟

أدى إلى أنه يشغل معظم مساحة الوطن العربي الذي يشمل المناطق من الخليج العربي شرقاً إلى شرق ساحل موريتانيا غرباً، كمل يشمل النطاق الساحلي من الصومال، ومناخه نادر الأمطار طول السنة تسقط على هيئة سيول شديدة الحرارة صيفا معتدل نهاراً شديد البرودة ليلاً.

14- ظهور تهديدات تواجه المحميات الطبيعية في الوطن العربي؟

اتخذت معظم الدول العربية إجراءات للحفاظ على هذه المحميات مثل سن القوانين ضماناً لحمايتها.



بنك أسئلة الدراسات الإجتماعية

الصف السادس الابتدائي - الفصل الدراسي الأول

دلل على هذه العبارات:

السؤال الثامن

1- تتنوع السهول في الوطن العربي.

يوجد نوعان من السهول (فيضية، ساحلية)

الفيضية مثل: سهول وادي النيل، دجلة والفرات.

الساحلية: سهول البحر المتوسط والمحيط الأطلنطي وسهول البحر الأحمر والخليج العربي.

2- المشكلات البيئية تمثل خطورة على الوطن العربي؟

تهديد صحة المواطن العربي وحياته - تعيق تنفيذ الخطط التنموية - تدمير الحياة النباتية والحيوانية.

3- أثرت الحركات الانكسارية على مظاهر سطح الوطن العربي.

نتيجة حدوث انكسار (حركات انكسارية) في قشرة الأرض مثل جبال الحجاز، جبال البحر الأحمر.

4- تبذل السعودية جهودًا لمواجهة المشكلات البيئية؟

حيث أطلقت مبادرة لزراعة 450 مليون شجرة.

5- تؤثر التيارات البحرية على مناخ المناطق الساحلية؟

1- الدفينة: تؤدي لارتفاع الحرارة، 2- الباردة: تؤدي لانخفاض الحرارة.

6- اتصف أبو بكر الصديق (رضي الله عنه) بالحكمة والقدرة على مواجهة المواقف الصعبة خلال فترة خلافته؟

حيث أظهر قدرة فائقة في إدارة شئون الدولة والتي تعرضت لانقسام خطير بسبب ظهور المرتدين فأعاد للدولة وحدتها وأمنها.

7- تؤثر مظاهر السطح على المناخ في الوطن العربي؟

1- الارتفاع: يختلف مناخ المناطق المرتفعة عن الأودية والسهول، 2- اتجاه المرتفعات: يؤثر على كمية المطر.



بنك أسئلة الدراسات الإجتماعية

الصف السادس الابتدائي - الفصل الدراسي الأول

8- يؤثر الموقع الجغرافي على مناخ الوطن العربي؟

كلما اقتربنا من دائرة الاستواء ترتفع درجة الحرارة في المناطق الجنوبية من الوطن العربي وكلما ابتعدنا عنها تنخفض درجة الحرارة كلما اتجهنا شمالاً.

9- تعدد المشكلات البيئية في الوطن العربي؟

حيث يوجد بالوطن العربي العديد من المشكلات البيئية مثل (الجفاف - التصحر - ندرة المياه العذبة)

السؤال التاسع

أجب عما يلي:

1- أعط مثالا واحداً لكل من: (الجبال الالتوائية في الجناح الآسيوي - السهول الساحلية في الجناح الإفريقي)

الجبال الالتوائية في الجناح الآسيوي: (كرديستان، زاجروس، عمان).

السهول الساحلية في الجناح الإفريقي: (سهول البحر المتوسط والمحيط الأطلنطي).

2- ماذا يحدث إذا لم يتعرض الوطن العربي لحركات التوائية؟

لما تكونت جبال عمان - جبال أطلس - زاجروس - كرديستان

3- حدد أهم العوامل المؤثرة في مناخ الوطن العربي؟

الموقع الفلكي، القرب أو البعد عن المسطحات المائية، مظاهر السطح، التيارات البحرية.

4- وضح كيف يؤثر المناخ على الرحلات الجوية؟

يؤدي سوء الأحوال الجوية أحياناً لتأجيل أو إلغاء الرحلات الجوية.

5- حدد بعضاً من الصفات النبيلة التي اتصف بها الرسول (ﷺ)؟

كان (ﷺ) حليماً مع أهله، يدخل عليهم باسمًا، يساند العجوز، يزور المريض، يعطف على المسكين، يلعب الأطفال، يقدر المرأة ويحترمها.



6- قدم مقترحات لحل كل من:

أ- مشكلة ندرة المياه العذبة في الوطن العربي؟

الحد من النمو السكاني وضبطه - إيجاد بدائل لري الزراعة - ترشيد استهلاك المياه العذبة - التوعية بضرورة المحافظة عليها.

ب- مشكلة التصحر في الوطن العربي؟

استخدام طرق الري الحديثة بدلاً من التقليدية - الحد من استخدام الأسمدة الكيماوية والمبيدات الحشرية - الحد من التوسع العمراني - الحد من الرعي الجائر للحيوانات وعدم إزالة الغابات - الحفاظ على مخزون المياه الجوفية وترشيد استهلاكه.

7- ما العلاقة بين مناخ الوطن العربي والموقع الفلكي؟

كلما اقتربنا من دائرة الاستواء ترتفع درجة الحرارة في المناطق الجنوبية من الوطن العربي وكلما ابتعدنا عنها تنخفض درجة الحرارة كلما اتجهنا شمالاً، لذلك يسود المناخ الحار الوطن العربي والمناخ المعتدل شمالاً.

8- ما العلاقة بين مناخ الوطن العربي ومجال الطيران؟

يؤدي سوء الأحوال الجوية إلى إلغاء الرحلات الجوية في بعض الأحيان.

9- ما العلاقة بين مناخ الوطن العربي ومظاهر السطح؟

يختلف مناخ المناطق المرتفعة عن مناخ الأودية والسهول، فكلما ارتفعنا 150 م تقل درجة الحرارة درجة واحدة مئوية مثل جبال لبنان.

10- ما العلاقة بين مناخ الوطن العربي والمساحات المائية؟

المناطق الداخلية تنخفض فيها الحرارة شتاءً وترتفع صيفاً عكس المناطق الساحلية مناخها معتدل.

11- ما العلاقة بين مناخ الوطن العربي والتيارات البحرية؟

تؤدي التيارات البحرية الدفينة إلى رفع درجات حرارة السواحل التي تمر بها، والتيارات البحرية الباردة تؤدي لانخفاض حرارة السواحل التي تمر بها.

بنك أسئلة الدراسات الإجتماعية

الصف السادس الابتدائي - الفصل الدراسي الأول

12- ما العلاقة بين الأنشطة البشرية - الحياة البرية؟

تتعرض الحياة البرية (النباتات الطبيعية - الحيوانات البرية) لمخاطر نتيجة تطور الأنشطة البشرية مثل (تدهور الموارد النباتية - انقراض أنواع عديدة من الحيوانات البرية) مما دفع الدول العربية لإنشاء المحميات الطبيعية.

13- ما العلاقة بين؟

أ- الطاقة النظيفة - المشكلات البيئية.

يساعد استخدام الطاقة النظيفة على تقليل أثر المشكلات البيئية في الوطن العربي مثل تغير المناخ.

ب- السكان - مشكلة ندرة المياه العذبة.

يؤدي النمو المتزايد في أعداد السكان إلى ندرة المياه العذبة بسبب زيادة الاستهلاك.

ج- المشكلات البيئية - الحياة الحيوانية والنباتية.

تؤدي المشكلات البيئية إلى تدمير الحياة الحيوانية والنباتية في عدة مناطق من الوطن العربي.

د- التصحر - الغابات. يؤدي إزالة الغابات إلى حدوث التصحر.

14- قارن بين: التيارات البحرية الدفينة والباردة؟

التيارات البحرية الباردة	التيارات البحرية الدفينة
تؤدي لانخفاض حرارة السواحل التي تمر بها.	تؤدي إلى رفع درجات حرارة السواحل التي تمر بها

15- قارن بين: مناخ الوطن العربي صيفاً وشتاءً من حيث (الحرارة والمطر).

مناخ الوطن العربي شتاءً	مناخ الوطن العربي صيفاً
تتعامل الشمس على مدار الجدي.	تتعامل الشمس على مدار السرطان.
الحرارة: معتدلة على معظم أنحاء الوطن العربي، لكنها تكون أشد برودة على بعض الأجزاء الشمالية - الجبلية.	الحرارة: ترتفع فيه درجات الحرارة بشكل عام في أنحاء الوطن العربي.
المطر: الشتاء ممطر خاصة في المناطق المطلة على البحر المتوسط.	المطر: يتسم الصيف بالجفاف باستثناء سقوط أمطار موسمية على - مرتفعات اليمن وعسير - معظم أنحاء الصومال وجنوب موريتانيا.



16- قارن بين: الأقاليم المناخية من حيث (الموقع والتوزيع الجغرافي - الخصائص المناخية)

المقارنة	1. إقليم مناخ البحر المتوسط	2. الاقليم الصحراوي الحار	3. الإقليم المداري
الموقع:	الأطراف الشمالية من الوطن العربي. ما بين دائرتي عرض 30 : 30 37 شمالاً.	يشمل معظم الوطن العربي. ما بين دائرتي عرض 15 : 30 شمالاً.	يقع جنوب الوطن العربي.
التوزيع الجغرافي:	يشمل المناطق المطلة على سواحل البحر المتوسط في شمال افريقيا. في (مصر - ليبيا - المغرب). في (فلسطين - لبنان - معظم سوريا - شمال العراق).	يشمل المناطق من الخليج العربي شرقاً حتى ساحل موريتانيا غرباً. يشمل النطاق الساحلي من الصومال.	يشمل أجزاء من الصومال وجيبوتي والسودان وموريتانيا والجزء الجنوبي الغربي من شبه الجزيرة العربية.
الخصائص المناخية:	حار جاف صيفاً. دافئ ممطر شتاءً.	ندرة الأمطار طوال السنة. وتسقط الأمطار على هيئة سيول في بعض المناطق. شديد الحرارة صيفاً. تصل لأكثر من 50 درجة مئوية. معتدل نهاراً - شديد البرودة ليلاً شتاءً. تصل لتحت الصفر في بعض المناطق.	حار ممطر صيفاً. معتدل جاف شتاءً.



17- صف الظواهر التضاريسية التالية حسب عوامل تشكيلها:

(جبال البحر الأحمر - جبال زاغروس - سهول دجلة - وادي الجريير - بحر الرمال العظيم)

عوامل تشكيلها	الظواهر التضاريسية
الحركات الانكسارية	جبال البحر الأحمر
الحركات الالتوائية	جبال زاغروس
ترسب المواد العالقة بمياه النهر	سهول دجلة
التعرية المائية	وادي الجريير
التعرية الهوائية	بحر الرمال العظيم

18- صف الجبال التالية إلى جبال التوائية وأخرى انكسارية:

(جبال عمان - جبال الحجاز - جبال زاغروس - جبال عسير - جبال كردستان - مرتفعات اليمن)

الجبال الانكسارية	الجبال الالتوائية
جبال الحجاز	جبال عمان
جبال عسير	جبال كردستان
مرتفعات اليمن	سهول زاغروس

19- صف النباتات الآتية حسب الإقليم المناخي الذي توجد فيه:

(حشائش السافانا - الصنوبر - أشجار الزيتون - الصبار - الأرز - حشائش الإستبس)

النباتات	الإقليم المناخي الذي توجد فيه
حشائش السافانا	الإقليم المداري
حشائش الإستبس وأشجار الزيتون، الأرز، الصنوبر	إقليم البحر المتوسط
الصبار	الإقليم الصحراوي الحار



بنك أسئلة الدراسات الإجتماعية

الصف السادس الابتدائي – الفصل الدراسي الأول

20- صف الحيوانات الآتية حسب الإقليم المناخي الذي توجد فيه:
(ثعلب الصحراء – الماعز – الزرافات – الأغنام – الزواحف - الأسود)

الحيوانات	الإقليم المناخي الذي توجد فيه
الماعز والأغنام	إقليم البحر المتوسط
ثعلب الصحراء والزواحف	الإقليم الصحراوي الحار
الزرافات والأسود	الإقليم المداري

السؤال العاشر

لاحظ الخريطة، ثم أجب عما يلي:

- أ-
- 1- يشير رقم (1) لجبال **أطلس**.
 - 2- يشير رقم (2) لواحة **الكفرة**.
 - 3- واحة **عين صالح**.
 - 4- تصنف السهول رقم (4) سهولاً **ساحلية**.
 - 5- المحيط **الأطلسي**.
 - 6- الخليج **العربي**.
 - 7- تعاني دولة **الصومال** من أكبر مجاعة جفاف.
 - 8- البحر **العربي**.
 - 9- دائرة عرض رئيسية **الاستواء**.
 - 10- نشأت الجبال رقم (10) نتيجة لحركات **التوائية**.
 - 11- مضيق **هرمز**.....
 - 12- مضيق **باب المندب**.....
 - 13- دولة **تونس**.....
 - 14- خط طول رئيسي **جرينتش**.....



بنك أسئلة الدراسات الإجتماعية

الصف السادس الابتدائي – الفصل الدراسي الأول

ب-

- 1- منطقة يسودها المناخ **الحار**.
- 2- مدار **السرطان**.
- 3- صواب أم خطأ: ترتفع الحرارة في المنطقة رقم (3) لأنها بعيدة عن المسطحات المائية. (✓)
- 4- المحيط **الهندي**.
- 5- مضيق **جبل طارق**.
- 6- دولة تسقط عليها أمطار موسمية **الصومال**.
- 7- خليج **عدن**.
- 8- دولة **موريتانيا**.
- 9- البحر **المتوسط**.

ج-

- 1- إقليم مناخ **الصحراوي الحار**.
- 2- إقليم مناخ **البحر المتوسط**.
- 3- إقليم مناخ **المداري**.
- 4- دولة تقع فيها محمية ضانا **الأردن**.
- 5- إحدى المحميات المصرية **مصر**.
- 6- دولة تقع فيها محمية أرز الشوف **لبنان**.
- 7- المحيط **الأطلسي**.
- 8- البحر **الأحمر**.
- 9- دولة **اليمن**.
- 10- خليج **عمان**.

عمدًا لله الذي أعاننا على ذلك، وصلاة وسلامًا على نبينا محمد وآله وصحبه أجمعين.



الوحدة الثانية الدرس الأول : مظاهر السطح

اهم المصطلحات

- الجبال الالتوائية : جبال نشأت نتيجة لحركات باطنية تعرضت لها الارض
- الجبال الانكسارية : جبال نشأت نتيجة حدوث الكسار في قشرة الارض
- التعرية المائية : نحت الماء للصخور ونقلها وارسابها مثل السهول الفيضية
- التعرية الهوائية : نحت الرياح للصخور ونقلها وارسابها مثل الكثبان الرملية
- السهول الفيضية : سهول كونتها الأنهار عن طريق ترسيب المواد العالقة بمياهها
- الواحات : ارض تقوم فيها الزراعة اعتمادا على المياه الجوفية ويسكن فيها بعض السكان

اهم التفسيرات

- 1- يعيش بعض السكان في الواحات بالوطن العربي ؟
بسبب قيام الزراعة اعتمادا على المياه الجوفية
- 2- أهمية الودية الجافة في الوطن العربي ؟
تستخدم كطرق للمواصلات أو للحصول على المياه الجوفية مثل : وادي الجدير في السعودية
- 3- تكون السهول الفيضية في الوطن العربي ؟
كونتها الأنهار عن طريق ترسيب المواد العالقة بمياهها
- 4- كثرة السكان على سواحل المحيط الاطلنطي ؟
بسبب : تميز سواحل المحيط الاطلنطي بأماطرها الشتوية ، كثرة سكانها ، سهولة الانتقال على طول امتدادها
- 5- قلة الموالى على سواحل البحر الاحمر ؟
بسبب وجود الشعاب المرجانية التي تعوق قيام الموالى
- 6- أهمية الودية الجافة ؟
تستخدم طريق للمواصلات ونحصل منها على المياه الجوفية .

ما النتائج المترتبة على

- 1- وجود السكان في الواحات بالوطن العربي ؟
قيام الزراعة اعتمادا على المياه الجوفية
- 2- وجود الشعاب المرجانية في سواحل البحر الاحمر ؟
قلة الموالى على سواحل البحر الاحمر
- 3- التعرية الهوائية بالنسبة للوطن العربي ؟
كونت بحر الرمال العظيم والكثبان الرملية



اهم النقاط التي وردت بالدرس

- 1- أعلى نقطة في وطننا العربي توجد في دولة المغرب
- 2- يوجد في وطننا العربي نوعان من الجبال هما جبال التوائية و الكسارية
- 3- من الجبال الالوتوائية في وطننا العربي جبال اطلس وكردستان
- 4- توجد جبال البحر الاحمر في الوطن العربي في دولة مصر والسودان
- 5- يمتد في الجناح الاسيوى للوطن العربي سهول نهر دجلة والفرات
- 6- من هضاب الجناح الاسيوى للوطن العربي هضبة نجد والشام وحضرموت
- 7- نشأت الكثبان الرملية في الوطن العربي نتيجة التعرية الهوائية
- 8- تحت الماء للسهول وإرسابها أدى إلى تكون السهول الفيضية
- 9- تعد جبال الحجاز وعسير من الجبال الكسارية
- 10- تقوم الزراعة بواحة عين صالح اعتمادا على المياة الجوفية
- 11- تتميز سهول البحر المتوسط في الوطن العربي بسقوط الامطار الشتوية



الدرس الثاني : العوامل المؤثرة في المناخ

اهم المصطلحات

المناطق الساحلية : هي المناطق القريبة من المسطحات المائية

المناطق الداخلية او القارية : هي المناطق البعيدة عن المسطحات المائية

فصل الصيف : فصل تتعامد فيه الشمس على مدار السرطان

فصل الشتاء : فصل تتعامد فيه الشمس على مدار الجدي

المدى الحراري اليومي : الفرق بين متوسط درجة الحرارة ليلا ونهارا

المدى الحراري السنوي : الفرق بين متوسط درجة الحرارة الصيف والشتاء

اهم التفسيرات

- 1- تباين درجات الحرارة بين دول الوطن العربي ؟
بسبب تأثير الموقع الفلكي حيث يقع الوطن العربي بين دائرتي عرض 2 جنوبا و 3- شمالا - وتأثير القرب أو البعد عن المسطحات المائية - تأثير مظاهر السطح والتيارات البحرية
- 2- ارتفاع درجة الحرارة في المناطق الجنوبية للوطن العربي ؟
بسبب مرور دائرة الاستواء جنوب الوطن العربي
- 3- انخفاض درجات الحرارة في الاجزاء الشمالية من الوطن العربي ؟
بسبب بعدها عن دائرة الاستواء والقرب من المسطحات المائية
- 4- يقع الوطن العربي تحت تأثيرات قارية ؟
بسبب تعرضه لهبوب رياح شديدة البرودة من أوروبا وآسيا ورياح حارة من جنوب آسيا صيفا
- 5- أهمية المسطحات المائية في الوطن العربي ؟
تعمل المسطحات المائية على تلطيف درجة حرارة المناطق القريبة منها
- 6- يقل تأثير المسطحات المائية في الوطن العربي ؟
بسبب ضيق مساحتها وعدم توغل تأثيرها إلى الداخل لوجود صحار ومرتفعات قريبة من السواحل كجبال البحر الأحمر
- 7- انخفاض درجة الحرارة في المناطق المرتفعة بالوطن العربي ؟
لأنه كلما ارتفعنا 150 مترا فوق سطح البحر انخفضت الحرارة درجة واحدة مئوية
- 8- اختلاف المناخ بين دولتي فلسطين ولبنان ؟
سبب مرتفعات لبنان حيث يؤثر الارتفاع في انخفاض درجة الحرارة وكمية الأمطار المتساقطة
- 9- أهمية التيارات البحرية للوطن العربي ؟
التيارات البحرية الدافئة ترفع درجة حرارة السواحل التي تمر بها. أما التيارات البحرية الباردة فتعمل على خفض درجة حرارة السواحل
- 10- ينخفض المدى الحراري لمدينة الإسكندرية ؟
بسبب اقترابها من المسطحات المائية التي تعمل على تلطيف درجة حرارة المدينة



ما النتائج المترتبة على

- 1- مرور دائرة الاستواء بجنوب الوطن العربي ؟
أدى ذلك إلى ارتفاع الحرارة في المناطق الجنوبية وانخفاضها كلما اتجهنا شمالاً
- 2- الموقع الفلكي للوطن العربي ؟
أدى ذلك إلى تباين درجات الحرارة وكمية الأمطار بين دول وطننا العربي
- 3- التيارات البحرية الدفينة ؟
أدى إلى ارتفاع درجة حرارة السواحل التي تمر بها
- 4- تعامد الشمس على مدار السرطان صيفاً في الوطن العربي ؟
يؤدي إلى ارتفاع درجات الحرارة بشكل عام في أرجاء الوطن العربي، ويتسم فصل الصيف بالجفاف فيما عدا المرتفعات
- 5- سوء الأحوال الجوية في الوطن العربي ؟
يؤدي أحياناً إلى تأجيل أو إلغاء الرحلات الجوية أو إغلاق بعض المطارات
- 6- التغيرات المناخية للوطن العربي ؟
أدى إلى ظهور مشكلات عديدة منها الجفاف والتصحر ويؤثر ذلك حتماً على الأمن الغذائي والأمن المائي
- 7- ضيق المسطحات المائية في الوطن العربي ؟
أدى ذلك إلى قلة تأثيرها على الوطن العربي

ما العلاقة بين

- 1- المناخ والرحلات الجوية ؟
يؤدي سوء الأحوال الجوية إلى تأجيل أو إلغاء الرحلات الجوية
- 2- التيارات البحرية ودرجات الحرارة ؟
التيارات البحرية الدافئة ترفع درجة حرارة السواحل التي تمر بها، أما التيارات الباردة فتعمل على خفض درجة حرارة السواحل
- 3- المناطق المرتفعة والحرارة وسقوط الأمطار ؟
تنخفض الحرارة درجة واحدة كلما ارتفعنا عن مستوى سطح البحر وتسقط الأمطار بغزارة على منحدرات الجبال المواجهة للرياح المحملة ببخار الماء

دل على صحة العبارة الآتية

- يؤثر المناخ على الأنشطة البشرية مثل الطيران ؟
- فعند اختيار مواقع المطارات يجب مراعاة الظروف المناخية، بحيث تكون هذه المواقع غير معرضة للضباب أو العواصف الرعدية أو السحب المنخفضة، كما يجب أن يعتمد تخطيط المطار والممرات الأرضية على اتجاهات الرياح السائدة



الدرس الثالث: الأقاليم المناخية والنباتية

اهم المصطلحات

إقليم مناخي

منطقة جغرافية من سطح الأرض تتسم بخصائص مناخية تميزها عن غيرها

● **إقليم البحر المتوسط** : إقليم مناخي يقع على الأطراف الشمالية للوطن العربي

● **الإقليم الصحراوي** : إقليم مناخي يمتد من الخليج العربي شرقاً حتى ساحل موريتانيا غرباً

● **الإقليم المداري** : إقليم مناخي يشمل الجزء الجنوبي الغربي من شبه الجزيرة العربية

● **الإقليم الصحراوي** : إقليم مناخي يشغل معظم مساحة الوطن العربي

اهم التفسيرات

1- إنشاء دول الوطن العربي المحميات الطبيعية ؟

بسبب تعرض الحياة البرية لمخاطر نتيجة لتطور الأنشطة البشرية - تدهور الموارد النباتية - القراض ألواع عديدة من الحيوانات البرية

2- أهمية المحميات الطبيعية ؟

تساعد في الحفاظ على الحياة البرية بما تتضمنه من نباتات طبيعية وحيوانات برية تعد مناطق جذب سياحي - تساعد في تحقيق التوازن البيئي والحد من الأثوث تحقيقاً للتنمية المستدامة

3- احتفال العالم باليوم العالمي للحياة البرية ؟

للتوعية بضرورة حماية الحيوانات والنباتات البرية المهددة بالانقراض - إيجاد حلول للحفاظ على الحياة البرية بما يتماشى مع أهداف الأمم المتحدة للتنمية المستدامة تعزيز استخدامها المستدام من قبل البشرية

4- الأهمية الاقتصادية للمحميات الطبيعية ؟

تعد مناطق جذب سياحي

ما النتائج المترتبة على

1- تنوع الأقاليم المناخية للوطن العربي ؟

أدى إلى تنوع النباتات الطبيعية والحيوانات البرية

2- تطور الأنشطة البشرية في الوطن العربي ؟

تعرض الحياة البرية لمخاطر



ما العلاقة بين

1- الموقع الفلكي لإقليم البحر المتوسط وسقوط الأمطار ؟

يقع إقليم البحر المتوسط في الاطراف الشمالية من الوطن العربي بين دائرتي عرض 30 و 37.0° شمالاً، مما أدى إلى سقوط الأمطار

2- الأقاليم المناخية والنباتات الطبيعية والحيوانات البرية ؟

وطننا العربي يمتاز بتنوع أقاليمه المناخية، مما أدى إلى تنوع النباتات الطبيعية والحيوانات البرية

3- تطور الأنشطة البشرية والموارد النباتية والحيوانات البرية ؟

تتعرض الموارد النباتية والحيوانات البرية لمخاطر نتيجة لتطور الأنشطة البشرية

دليل

1- تتعرض المحميات الطبيعية إلى تهديدات بشرية ؟

تتعرض المحميات إلى تهديدات بشرية منها: الرعي، والصيد الجائر، والتلوث البيئي

2- يسعى العالم لوقف فقدان التنوع البيولوجي ؟

يحتفل العالم يوم 3 مارس من كل عام باليوم العالمي للحياة البرية، وذلك بهدف ضمان صون الحياة البرية على الأرض ووقف فقدان التنوع البيولوجي

3- سعي معظم الدول العربية في اتخاذ إجراءات لحماية المحميات الطبيعية ؟

أنشأ الوطن العربي المحميات الطبيعية منذ بدايات القرن العشرين، ومن أشهر المحميات : محمية أرز الشوف في لبنان - محمية ضانا في الاردن - محمية الدندر في السودان - محمية رأس محمد ومحمية جبل علبة في مصر



الشخص الناجح هو من يفعل أفضل ما
بوسعه، حين لا يشعر أنه يريد ذلك



الدرس الرابع : المشكلات البيئية

اهم المصطلحات

- **الجفاف** : نقص كمية الأمطار بما لا يسمح بالزراعة أو نمو الحشائش الرعي
- **مدينة الخارجة** : المدينة المصرية الحاصلة على لقب عاصمة المدن العربية لعام 2022 م
- **التصحّر** : تدهور الأراضي الزراعية وتناقص قدرتها على الإنتاج
- **مصر** : دولة أنشأت مشروع صناعة الأخشاب من مخلفات النخيل لأول مرة في العالم

اهم التفسيرات

- 1- مشاركة الدول العربية في مؤتمر المناخ للأمم المتحدة عام 2022 م ؟
لمناقشة قضية التغير المناخي وما يترتب عليها من مشكلات تؤثر على البيئة
- 2- تعاني معظم الدول العربية من الفقر المالي ؟
لان نحو 90% من مساحة دول وطننا العربي تقع في الإقليم الصحراوي الحار ويندر فيها سقوط الأمطار. مما جعل دول وطننا العربي تواجه تحديات بيئية عديدة كما لا تحصل الدول العربية إلا على 1% فقط من المياه العذبة في العالم سنويا . في حين يسكنها حوالي 5% من سكان العالم
- 3- تزايد معدلات استهلاك المياه في الوطن العربي ؟
بسبب : النمو المتزايد في أعداد السكان - التوسع المستمر في الزراعة - تحسن مستويات المعيشة - زيادة النمو الحضري
- 4- تناقص قدره الأراضي الزراعية على الإنتاج في الوطن العربي ؟
يسبب : الإفراط في استخدام الأسمدة الكيماوية والمبيدات الحشرية - استخدام طرق الري التقليدية الرعي الجائر للحيوانات . وإزالة الغابات - تناقص مخزون المياه الجوفية - زحف الكثبان الرملية - التوسع العمرالي

5- إنشاء المدن الذكية في دول وطننا العربي ؟

لتقليل انبعاثات الغازات الدفينة

ما النتائج المترتبة على

- 1- الرعي الجائر للحيوانات في الوطن العربي ؟ حدوث التصحر
- 2- تعرض الصومال لاكبر موجة جفاف في الوطن العربي ؟ نقص كمية الأمطار في بعض السنوات بما لا يسمح بالزراعة أو نمو الحشائش
- 3- النمو المتزايد في أعداد السكان في وطننا العربي ؟ تزايد مشكلة ندرة المياه نتيجة تزايد معدلات استهلاك المياه
- 4- زحف الكثبان الرملية وتناقص المياه الجوفية في وطننا العربي ؟ حدوث مشكلة التصحر
- 5- ظهور مشكلة التغير المناخي في الوطن العربي ؟ ترتب عليها مشكلات تؤثر على البيئة مثل الجفاف والتصحر



ما العلاقة بين

1- مشكلة التغير المناخي وكل من الجفاف والتصحر ؟

مشكلة التغير المناخي تترتب عليها مشكلات تؤثر على البيئة مثل الجفاف والتصحر

2- المشكلات البيئية ومؤتمر المناخ للأمم المتحدة عام 2022م ؟

عقد مؤتمر المناخ للأمم المتحدة في مصر في مدينة شرم الشيخ عام 2022 م. وذلك

لمناقشة قضية التغير المناخي وما يترتب عليها من مشكلات تؤثر على البيئة

3- جهود دول الوطن العربي والمساحات الخضراء ؟

من جهود دول الوطن العربي لمواجهة المشكلات البيئية زيادة المساحات الخضراء قدم أبناء مدينة

الخارجة في محافظة الوادي الجديد مثالا يحتذى به في حماية البيئة

وإعادة استخدام المخلفات بشكل جديد والاستثمار المستدام لمواردها . فقد لجحوا بالتعاون مع

المسؤولين بالمحافظة في تنفيذ عدد من **المشروعات الخضراء** للتغلب على الآثار السلبية الناتجة عن

التغيرات المناخية

ما مقترحاتك ...؟

1- للحفاظ على البيئة وتنميتها بشكل مستدام في الوطن العربي؟

استخدام مصادر الطاقة النظيفة - زيادة المساحات الخضراء



مراجعة عامة على الوحدة الثانية**السؤال الأول: أكمل العبارات الآتية:**

- 1- تنشط في المناطق الجبلية والصحراوية في الوطن العربي السياحة.....
- 2- تمتد السهول الساحلية في الجناح الآسيوي للوطن العربي على سواحل
- 3- نشأت جبال أطلس في الوطن العربي نتيجة الحركات . تعرضت لها الأرض.....
- 4- من الجبال الانكسارية في الوطن العربي.....
- 5- يقصد السياح بحيرة .. في جيبوتي للتمتع بطبيعتها الساحرة
- 6- تسقط الأمطار الموسمية في فصل الصيف على مرتفعات . تقع محمية أرز الشوف بدولة
- 7- عقد مؤتمر المناخ للأمم المتحدة عام ٢٠٢٢ م في مصرفي مدينة

السؤال الثاني: اكتب كلمة (صواب) أمام العبارة الصحيحة، وكلمة (خطأ) أمام العبارة غير**الصحيحة**

- 1- تمتد السهول الفيضية في الجناح الإفريقي للوطن العربي على المحيط الأطلنطي. ()
- 2- يقصد السياح البحيرات المالحة واحة سيوة في ليبيا. ()
- 3- تمتد جبال البحر الأحمر في كل من مصر والسودان. ()
- 4- من هضاب الجناح الإفريقي هضبة نجد. ()
- 5- تمر دائرة الاستواء في شمال الوطن العربي. (لما) ()
- 6- تتأثر كمية المطر باتجاه المرتفعات. ()
- 7- تنمو النباتات التي تتحمل الجفاف في الإقليم المداري ()
- 8- التغير المناخى يؤدي إلى حدوث مشكلات بيئية في وطننا العربي ()

السؤال الثالث: اختر الإجابة الصحيحة مما بين القوسين

- 1- تمتد هضبة إفريقيا الشمالية من البحر المتوسط شمالاً إلى دولجنوباً.
(وسط إفريقيا - شرق إفريقيا - جنوب إفريقيا - غرب إفريقيا)
- 2- يوجد بحر الرمال العظيم بين دولتي
(سوريا ولبنان - العراق والأردن - مصر وليبيا - المغرب والجزائر)
- 3- تقع واحة الكفرة في دولة (مصر - ليبيا - المغرب - الجزائر)
- 4- يكون الشتاء ممطراً في الوطن العربي في المناطق المطلة على البحر.....
(الأحمر - العربي - المتوسط - الأسود)
- 5- يسود وطننا العربي.أقاليم مناخية كبرى (ثلاثة - أربعة - خمسة - ستة)

- 6- تنتشر النباتات التي لها قدرة على تحمل الجفاف في الإقليم المناخي.
(الصحراوي - المداري - الموسمي - البحر المتوسط)
- 7- محمية جبل علبه من أشهر محميات الوطن العربي التي تقع في دولة
(لبنان - الأردن - السودان - مصر)
- 8- دولة تعاني من أكبر موجة جفاف في وطننا العربي هي
(الصومال - السودان - مصر - الجزائر)

السؤال الرابع: أمامك خريطة للوطن العربي درسها جيداً، ثم أكمل العبارات التالية

- 1- من دول الجناح الإفريقي للوطن العربي التي توجد بها سهول فيضية
- 2- من دول الجناح الإفريقي للوطن العربي التي توجد بها سهول ساحلية
- 3- من دول الجناح الآسيوي للوطن العربي التي توجد بها سهول فيضية
- 4- من دول الجناح الآسيوي للوطن العربي التي توجد بها سهول ساحلية
- 5- من دول الوطن العربي التي توجد بها سهول ساحلية وفيضية



الوطن العربي السياسية

السؤال الخامس أكمل الجدول التالي:

الدول التي توجد فيها	سبب تكونها	الظاهرة التضاريسية
		وادي الجريز

جبال أطلس		
وادي النيل		
جبال البحر الأحمر		
بحر الرمال العظيم		

السؤال السادس اكتب ما تشير إليه العبارات الآتية

- 1- أهم الظواهر التضاريسية في الجانب الإفريقي للوطن العربي وأكبرها مساحة.
- 2- جبال نشأت نتيجة لحركات باطنية تعرضت لها الأرض.
- 3- أودية تكونت بفعل التعرية المائية وتستخدم كطرق المواصلات.
- 4- حركة مياه البحار والمحيطات.
- 5- منطقة جغرافية تتسم بخصائص مناخية تميزها عن غيرها.
- 6- نقص كمية الأمطار بما لا يسمح بالزراعة أو نمو الحشائش.

السؤال السابع: بم تفسر..؟

في الدراسات الاجتماعية

- 1- أهمية الأودية الجافة في الوطن العربي.
- 2- الأهمية الاقتصادية للسهول الفيضية للوطن العربي.
- 3- ينخفض المدى الحراري لمدينة الإسكندرية
- 4- قيام الزراعة في الواحات بالوطن العربي
- 5- يقل تأثير المسطحات المائية في الوطن العربي.
- 6- أهمية حشائش الإستيس في الوطن العربي.
- 7- أهمية المحميات الطبيعية.

السؤال الثامن: ما النتائج المترتبة على..؟

- 1- وجود الشعاب المرجانية في البحر الأحمر.
- 2- امتداد الوطن العربي في قارتى إفريقيا وآسيا واقترابه من أوروبا.
- 3- تنوع الأقاليم المناخية في الوطن العربي.
- 4- وقوع معظم مساحة الوطن العربي ضمن الإقليم الصحراوي الحار
- 5- النمو المتزايد في أعداد السكان في وطننا العربي

السؤال التاسع: دلل على صحة العبارات الآتية:

- 1- تنوع الظواهر الطبيعية لوطننا العربي
- 2- تؤثر مظاهر السطح المتنوعة في الوطن العربي على الأنشطة الاقتصادية
- 3- يتأثر مناخ المناطق الساحلية بالتيارات البحرية.
- 4- تتعرض المحميات الطبيعية إلى تهديدات بشرية.

السؤال العاشر: قارن بين

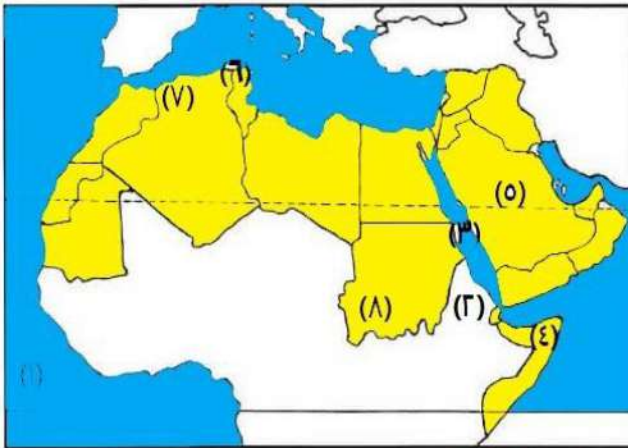
- 1- جبال أطلس وجبال البحر الأحمر من حيث الموقع - سبب نشأتها
- 2- التصحر والجفاف من حيث التعريف
- 3- إقليم البحر المتوسط والإقليم الصحراوي والإقليم المداري من حيث الموقع - النباتات - الحيوانات البرية)

مراجعة الكتاب المدرسي (على المحور الأول).**اكتب وقارن**

- اكتب جملة تشرح فيها الفرق بين كل مفهومين مما يلي، ثم قارن بين جملتك وجملة زميل لك.
- (1) السهول الساحلية والسهول الفيضية.
 - (ب) المهاجرون والأنصار
 - (ج) التصحر والجفاف.

اسئلة على الخرائط والصور

(1) اكتب مدلول الأرقام على خريطة الوطن العربي:



- 1- المحيط.....
- 2- مضيق.....
- 3- البحر
- 4- أكثر الدول العربية تعرضا للجفاف.....
- 5- دولة عربية خطت لإنشاء مدينة نيوم الخضراء.....
- 6- إقليم المناخ.....

7- جبال.....

8- إقليم المناخ

(ب) لخص الأهمية الاقتصادية لموقع وطننا العربي.

(1) ما النتائج المترتبة على...؟

1- تحكم الوطن العربي في ممرات بحرية مهمة.

2- فتح المسلمين لمكة .

3- تنوع مظاهر السطح في الوطن العربي

(ب) بم تفسر ...؟

1- أهمية صحيفة «المدينة» التي وضعها النبي .

2- هجرة المسلمين إلى الحبشة .

3- نقل مقر الخلافة إلى الكوفة في عهد الخليفة علي بن أبي طالب

4- تعرض مساحات واسعة في الوطن العربي لخطر التصحر.

5- اعتدال مناخ المناطق الساحلية في الوطن العربي.

6- الأهمية الاقتصادية للأودية الجافة

(ج) دلل على صحة العبارات التالية:

1- تسامح النبي مع أهل مكة.

2- كان لظهور الإسلام أكبر الأثر في حياة سكان شبه الجزيرة العربية .

3- لموقع الوطن العربي أهمية حضارية وثقافية .

(د) اشرح العلاقة بين كل مما يلي:

1- التضاريس والمناخ ..

2- الحركات الباطنية والجبال

(4) ما أهم الملامح الطبيعية لوطننا العربي؟ وكيف ظهر الإسلام وانتشر بين أرجاء وطننا

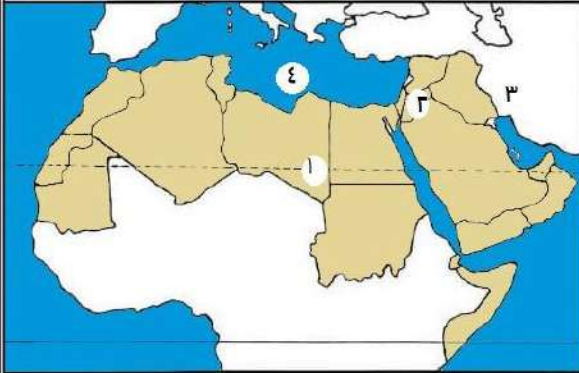
العربي؟

(5) صمم مطوية للتعريف بالخلفاء الراشدين، بحيث تتضمن نبذة عن نشأتهم، وأهم أعمالهم

خلال فترة الخلافة. وأهم القيم التي تمسكوا بها.

اختبار على الوحدة الثانية

السؤال الأول: (1) امامك خريطة صماء للوطن العربي، اكتب مدلول الأرقام عليها:



يشير رقم (1) إلى واحة.....

يشير رقم (2) إلى هضبة.. ..

يشير رقم (3) إلى جبل.. ..

يشير رقم (4) إلى البحر.....

(ب) ما النتائج المترتبة على...؟

امتداد الوطن العربي بين قارتي إفريقيا وآسيا واقترابه من أوروبا.

السؤال الثاني: (1) اكتب كلمة (صواب) أمام العبارة الصحيحة، وكلمة (خطأ) أمام العبارة غير الصحيحة.

1- يندر سقوط الأمطار على منحدرات الجبال المواجهة للرياح المحملة بالمياه. ()

2- الإقليم الصحراوي يشمل معظم أجزاء الوطن العربي. ()

3- فازت مدينة الداخلة بلقب عاصمة المدن العربية لعام ٢٠٢٢م. ()

4- يحدث الجفاف نتيجة نقص كمية الأمطار المتساقطة. ()

(ب) يم تفسر؟

1- أهمية المحميات الطبيعية في الوطن العربي.

السؤال الثالث: أكمل العبارات الآتية:

تعيق مشكلة التصحر تنفيذ الخطط. في الوطن العربي.

ساعدت مظاهر السطح المتنوعة على تعدد الأنشطة.

ساعدت السهول الفيضية في مصر والعراق على قيام

يؤثر المناخ على كافة الأنشطة. مثل.....

تتميز الدولة الواقعة بالإقليم المناخي المداري بشتاء.....وصيف.....

س١: أكمل العبارات التالية بما يناسبها من كلمات

١- تكونت الأودية الجافة في الوطن العربي نتيجة

٢- تنتشر الكثبان الرملية في الوطن العربي بدولتي.....و.....

٣- تتميز السهول الساحلية المطلة على البحر المتوسط بمطارها في فصل.....

٤- نشأت جبال عسير نتيجة حركات.....

س٢: أجب عما يلي:

١- فسر سبب (بم تفسر)...

① يعيش بعض السكان في الواحات بالوطن العربي

② قلة الموانئ على سواحل البحر الأحمر

٢- ما النتائج المترتبة علي: ① حدوث الحركات الالتوائية

٣- حدد أوجه التشابه والاختلاف بين: جبال البحر الأحمر - جبال أطلس

س٣: قي أي من الدول العربية تقع الظاهرات الجغرافية الآتية

١- واحة الكفرة..... ٢- واحة عين صالح.....

٣- واحة سيوة..... ٤- بحيرة عسل.....

س٤: قارن بين:

وجه المقارنة	جبال البحر الأحمر	جبال عمان
الموقع		
سبب النشأة		

15

4

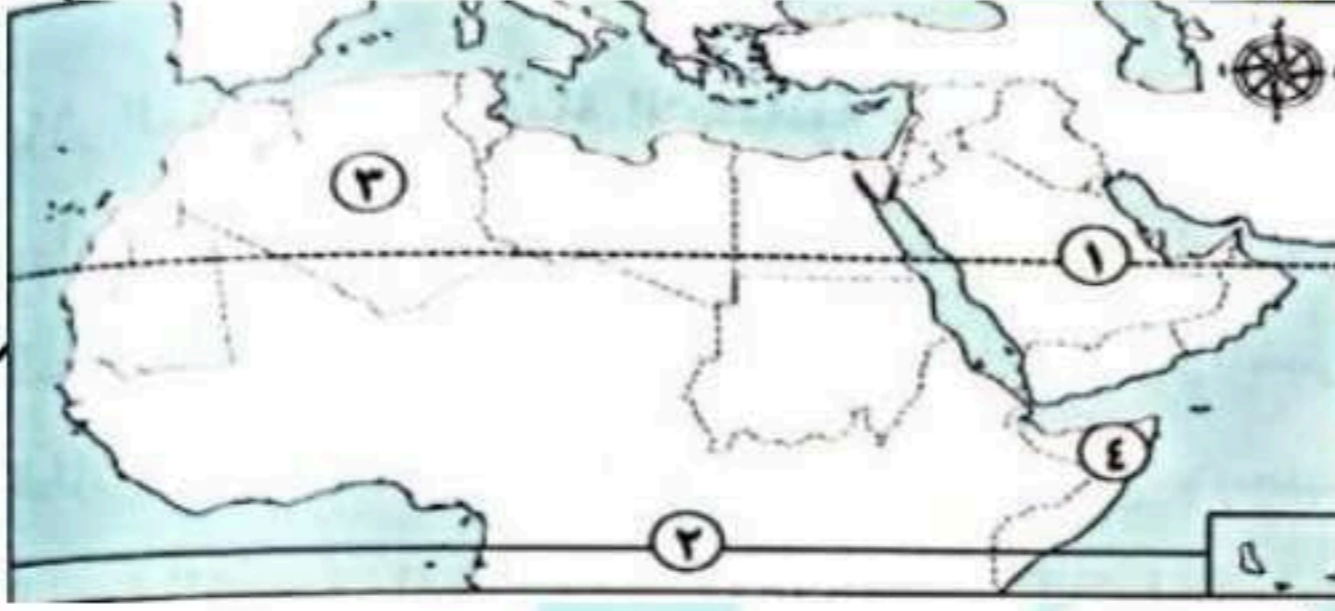
2

2

2

5

س١: لاحظ خريطة الوطن العربي ثم أجب



١- مدار

٢- دائرة.....

٣- منطقة يسودها مناخ.....

٤- دولة تسقط عليها أمطار موسمية.....

س٢: أجب عما يلي:

١- ما النتائج المترتبة على

① هبوب التيارات البحرية الباردة على الوطن العربي

② تعامد الشمس على مدار الجدي شتاء في الوطن العربي

٢- بم تفسر: ① يسود المناخ الحار معظم أجزاء الوطن العربي

س٣: أكمل العبارات الآتية:

١- تقع جبال كردستان في الجناح.....

٢- نشأت جبال البحر الأحمر نتيجة حركات

٣- يسود معظم أنحاء الوطن العربي المناخ.....

س٤: قارن بين: مناخ الوطن العربي صيفاً وشتاء

مناخ الوطن العربي شتاء	مناخ الوطن العربي صيفا

س ١: أكمل العبارات التالية بما يناسبها من كلمات

١- يمتد بحر الرمال العظيم بين مصر ودولة

٢- ينتشر نبات الصبار في الإقليم.....

٣- تسقط الأمطار بغزارة على منحدرات الجبال المواجهة للرياح.....

٤- تقع سهول دجلة والفرات في قارة

س ٢: أجب عما يلي:

١- فسر سبب (بم تفسر)...

① الأهمية الاقتصادية للمحميات الطبيعية.

② تنوع النباتات الطبيعية والحيوانات البرية في الوطن العربي؟ -

٢- ما العلاقة بين : ① الأنشطة البشرية - الحياة البرية

٣- ما النتائج المترتبة علي ① الموقع الفلكي للوطن العربي؟

س ٣: اختر الإجابة مما بين القوسين

١- تقع محمية أرز الشوف بدولة.....(مصر-لبنان-المغرب-الجزائر)

٢- تعيش في الإقليم الصحراوي حيوانات منها

(الماعز- الاغنام -الزواحف - الأسود)

س ٤: لاحظ الخريطة المقابلة واكتب مدلول الأرقام عليها

١- يشير رقم (١) إلى الإقليم المناخي.....

٢- يشير رقم (٢) إلى الإقليم المناخي.....

٣- يشير رقم (٣) إلى الإقليم المناخي.....٤- البحر.....



س١: أكمل العبارات التالية بما يناسبها من كلمات

١- تنمو حشائش السافانا في إقليم المناخ

٢- أكثر مظاهر السطح انتشارا في الوطن العربي هي

٣- يعاني نحو مساحة الوطن العربي من مشكلة التصحر

٤- تقع معظم مساحة دول وطننا العربي في المنطقة

س٢: أجب عما يلي:

١- فسر سبب (بم تفسر) ...

① إنشاء المدن الذكية

② حدوث الجفاف في بعض الدول العربية

٢- ما النتائج المترتبة على: ① النمو المتزايد في أعداد السكان في وطننا العربي

٣- ما العلاقة بين ① أبناء مدينة الخارجة وحماية البيئة ؟

س٣: ضع علامة (صح) أمام العبارة الصحيحة وعلامة (خطأ) أمام العبارات الخاطئة

١- يحدث التغير المناخي بسبب زيادة انبعاثات الغازات الدفيئة ()

٢- يعاني الوطن العربي من مشكلة نقص المياه المالحة ()

٣- تهتم دول الوطن العربي باستخدام مصادر الطاقة النظيفة ()

س٤: اكتب ما تشير إليه العبارات الآتية

١- تدهور الأراضي وتناقص قدرتها على الإنتاج (.....)

٢- دولة تعاني من أكبر موجة جفاف في وطننا العربي (.....)

٣- المدينة المصرية الحاصلة على لقب عاصمة المدن العربية لعام ٢٠٢٢م (.....)

٤- دولة أنشأت مشروع صناعة الأخشاب من مخلفات النخيل لأول مرة في العالم (.....)



هاجر الباز



هاجر الباز



هاجر الباز



هاجر الباز

15

4

2

2

3

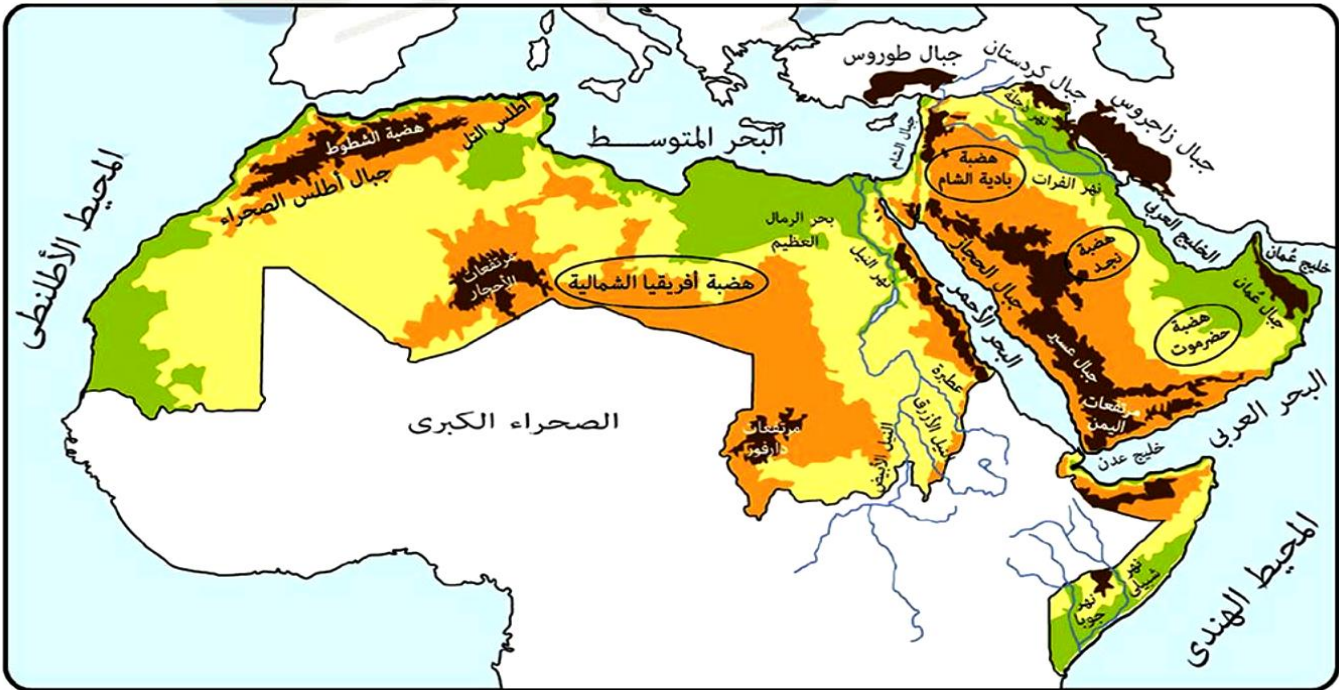
4



الوحدة الثانية: الملامح الطبيعية لوطننا العربي

الدرس الأول: مظاهر سطح وطننا العربي

- 🇸🇦 وهب الله وطننا العربي مظاهر سطح متنوعة تتميز بألوانها وأشكالها الجذابة وتدل علي قدرة الله وعظمته وتشكلت نتيجة عدة عوامل مختلفة فنجد أن
- أعلى نقطة في الوطن العربي هي جبل "توبقال" في المغرب (نحو ٤١٦٥ متر)
 - أدنى نقطة في الوطن العربي والعالم هي "البحر الميت" في الأردن (نحو ٤٣٠ متر تحت مستوى سطح البحر)
 - عوامل تشكيل سطح الأرض:
- ١- الحركات الالتوائية ٢- الحركات الانكسارية ٣- التعرية المائية ٤- التعرية الهوائية

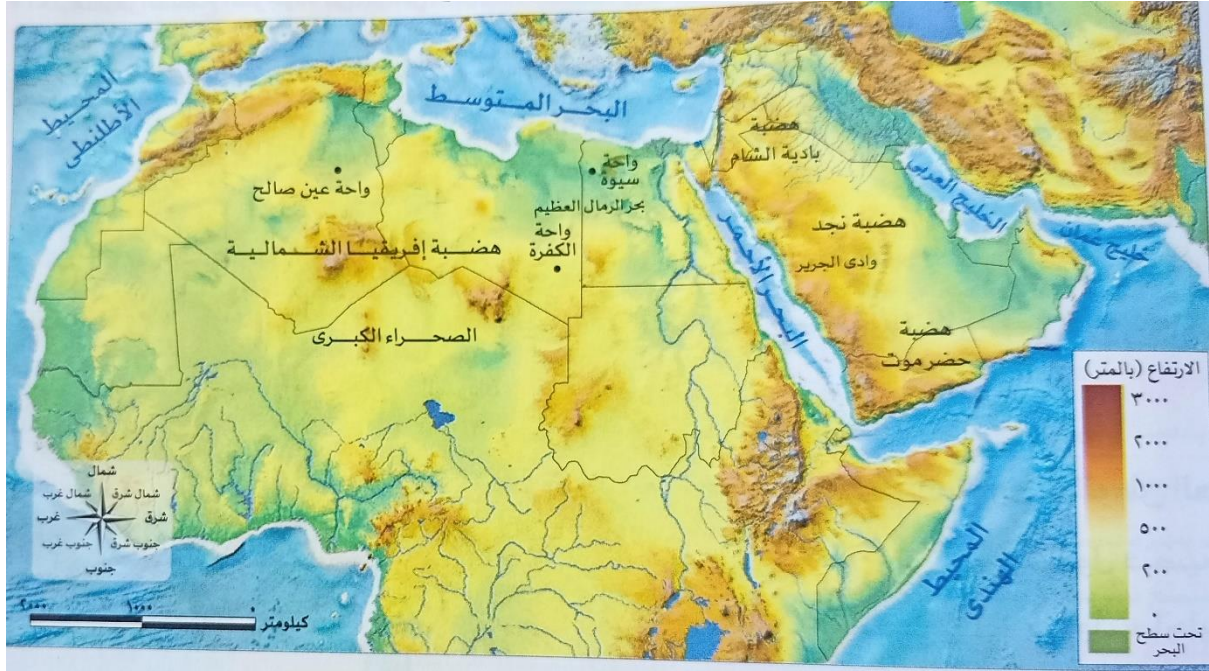


أولاً : الجبال

- ١- الجبال الالتوائية :
- هي التي نشأت نتيجة لحركات باطنية تعرضت لها الأرض مثل :
 (جبال أطلس في الجناح الأفريقي في دولة تونس والمغرب والجزائر)
 (جبال كردستان وزاجروس وعمان في الجناح الآسيوي)
- ٢- الجبال الانكسارية:
- هي التي نشأت نتيجة لحدوث انكسار في قشرة الأرض مثل :
 (جبال البحر الأحمر في مصر والسودان)
 (الحجاز وعسير في السعودية ومرتفعات اليمن) في شبه الجزيرة العربية

ثانياً: الهضاب

هي أكثر أشكال السطح انتشاراً وتمثل في :



١- هضاب الجناح الافريقي

مثل هضبة افريقيا الشمالية :

هي اكبر الظاهرات التضاريسية في المساحة

- تمتد من جبال البحر الأحمر شرقاً الي المحيط الاطلنطي غرباً
- من ساحل البحر المتوسط شمالاً الي وسط افريقيا جنوباً

٢- هضاب الجناح الاسيوي

تتمثل في ثلاث هضاب:

- حضرموت في الجنوب
- نجد في الوسط
- بادية الشام في الشمال

الظاهرات الطبيعية بهضاب الوطن العربي :

١- الواحات

بم تفسر : أهمية الواحات؟

- ١- توجد بها أراضي خصبة صالحة للزراعة اعتماداً علي المياه الجوفية.
- ٢- يعيش فيها بعض السكان مثل :
 - ١- واحة سيوة في مصر
 - ٢- واحة الكفرة في ليبيا
 - ٣- واحة عين صالح في الجزائر.





٢- تجمعات رملية



كثبان رملية

تكونت بفعل التعرية الهوائية مثل :

- ١- بحر الرمال العظيم بين مصر وليبيا.
- ٢- الاشكال الرملية التي تأخذ أشكالاً متعددة.

٣- الاودية الجافة

هي التي تكونت بفعل التعرية المائية نتيجة سقوط الامطار .

بم تفسر : أهمية الاودية الجافة؟

- ١- تستخدم كطرق للمواصلات .
- ٢- الحصول علي المياه الجوفية منها مثل (وادي الجريز في السعودية)



ثالثاً : السهول

تنقسم السهول في الوطن العربي الي سهول فيضيه وساحلية :-





١- السهول الفيضية

- هي السهول التي كونتها الأنهار عن طريق ترسيب المواد العالقة بمياهها **مما أدى إلى** تكون تربة فيضيه من أخصب أنواع الأراضي .
من أمثلتها :
✓ سهول وادي النيل في مصر والسودان (الجناح الافريقي).
✓ سهول نهر دجلة والفرات في العراق (الجناح الاسيوي).

٢- السهول الساحلية

- مثل سهول البحر المتوسط والمحيط الاطلنطي
تتميز ب :
أمطارها الشتوية .
كثرة سكانها وسهولة الانتقال علي طول امتدادها .
• سهول البحر الأحمر والخليج العربي .
تتميز ب :
بأنها غنية بالثروات المعدنية ومصادر الطاقة
➤ لكن تربتها رملية فقيرة أو ملحية .
➤ يوجد بها **الشعاب المرجانية** التي تعوق قيام الموانئ كما في سواحل البحر الأحمر .
➤ قليلة السكان .
■ العلاقة بين مظاهر السطح والأنشطة الاقتصادية
• تؤثر مظاهر السطح المتنوعة في الوطن العربي علي الأنشطة الاقتصادية:
١- المناطق الجبلية والصحراوية :
تسمح المناطق الجبلية بممارسة عدد كبير من الأنشطة الاقتصادية مثل:



- **السياحة الترفيهية:**
من أنشطتها : التسلق والتزلج
(حيث يمكن للسياح التزلج علي جبال لبنان)

- **السياحة العلاجية:**
يقصد السياح البحيرات المالحة الموجودة في :
-واحة سيوة في مصر .
-بحيرة عسل في جيبوتي .
للتمتع بطبيعتها الساحرة أو للعلاج .

➤ **النشاط التعدين:**

- حيث تستخرج المعادن ومصادر الطاقة من المناطق الصحراوية .
٢- السهول الفيضية:
ساعد وجود السهول الفيضية في مصر والعراق علي **قيام الزراعة** .



أسئلة تدريبات

س ١ : أكمل العبارات الآتية بما يناسبها من كلمات:

- ١- أعلي نقطة في وطننا العربي توجد في دولة
- ٢- تقوم الزراعة بواحة عين صالح اعتماداً علي

س ٢ : اكتب كلمة (صح) أمام العبارة الصحيحة أو كلمة (خطأ) أمام العبارة الخاطئة .

- ١- تقع سلاسل جبال الحجاز وعسير في شبه جزيرة سيناء. ()
- ٢- تكونت بعض الاودية الجافة نتيجة لحركات باطنية تعرضت لها. ()

س ٣ : اختر الإجابة الصحيحة مما بين ① ② ③ ④ :

- ٣- تقع بحيرة عسل في دولة
- ① الصومال . ② السودان. ③ جيبوتي. ④ مصر.
- ٤- تعوق الشعاب المرجانية إقامة الموانئ علي سواحل.....في الوطن العربي.
- ① الخليج العربي. ② المحيط الاطلسي . ③ البحر الاحمر. ④ البحر المتوسط.

س ٤ : ما النتائج المترتبة علي : التعرية الهوائية بالنسبة للوطن العربي؟

الإجابة

ج ١ :

- ١-المغرب.
- ٢- المياه الجوفية.

ج ٢ :

- ١-خطأ .
- ٢-خطأ .

ج ٣ :

- ١- جيبوتي.
- ٢-البحر الاحمر.

ج ٤ :

- ١-أدي الي تكون بحر الرمال العظيم بين مصر وليبيا وتكون الكثبان الرملية.



الدرس الثاني : العوامل المؤثرة في مناخ

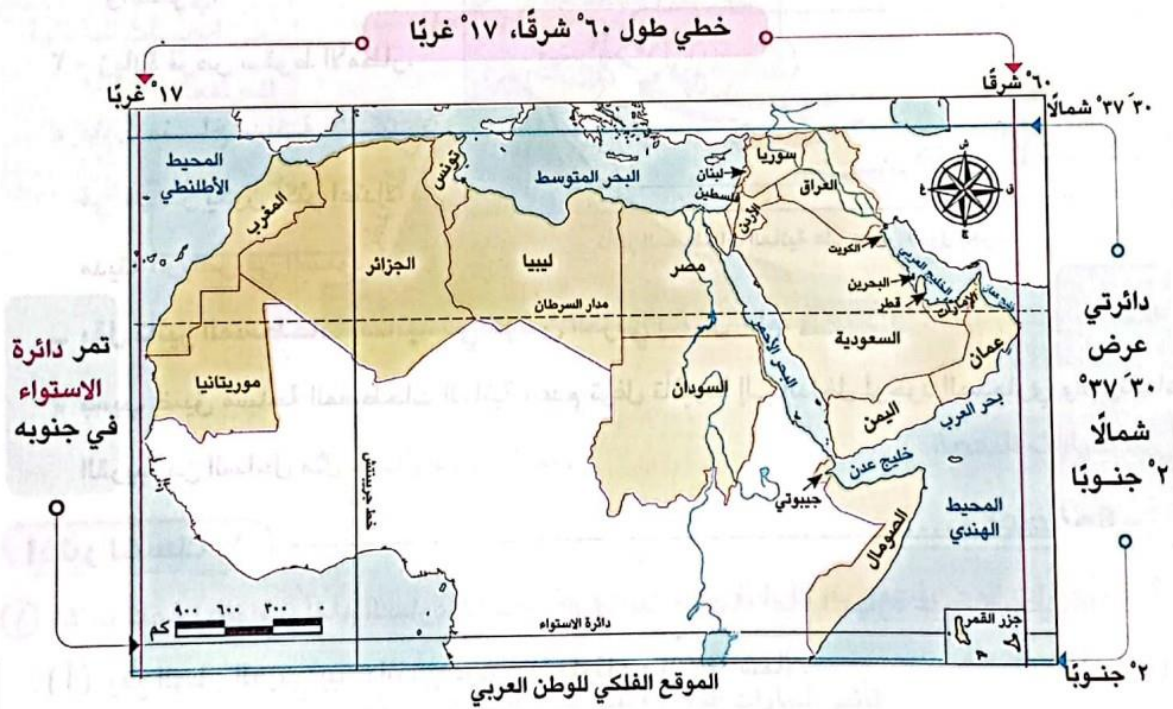
وطنا العربي

أولاً : العوامل المؤثرة في مناخ الوطن العربي

- يوجد اختلاف (تباين) في درجات الحرارة والامطار بين دول وطننا العربي . **بم تفسر؟**
- بسبب تأثير عدة عوامل هي :
 - ١- الموقع الفلكي .
 - ٢- القرب والبعد من المسطحات المائية .
 - ٣- مظاهر السطح .
 - ٤- التيارات البحرية .

١- الموقع الفلكي

يؤثر في المناخ حيث يقع وطننا العربي بين :



- تأثير دائرة الاستواء والموقع الفلكي علي مناخ الوطن العربي:
 - كلما اقتربنا من دائرة الاستواء ترتفع درجة الحرارة في (المناطق الجنوبية من الوطن العربي) وكلما ابتعدنا عنها تنخفض درجة الحرارة كلما اتجهنا (شمالاً).
 - ترتب علي ذلك سيادة **المناخ الحار** معظم أجزاء الوطن العربي ، **والمناخ المعتدل** في الأجزاء الشمالية.



٢- القرب والبعد من المسطحات المائية

○ يمتد وطننا العربي بين قارتي اسيا وافريقيا ويقترب من أوروبا ، مما أدى لتعرضه لهبوب رياح شديدة البرودة من اسيا شتاءً ، ورياح حارة من جنوب اسيا صيفاً.

أ- **المناطق الداخلية البعيدة عن المسطحات المائية** : تنخفض فيها درجات الحرارة شتاءً وترتفع صيفاً .

ب- **المناطق الساحلية القريبة من المسطحات المائية** : تتميز باعتدال المناخ . **بم تفسر؟**

لان المسطحات المائية تعمل علي :

١- تلطيف درجات الحرارة .

٢- تقليل المدى الحراري اليومي والسنوي.

٣- زيادة فرص سقوط الامطار.

➤ **مثال** : مناخ مدينة الإسكندرية في مصر يكون أكثر اعتدالاً من مدينة الرياض في السعودية .



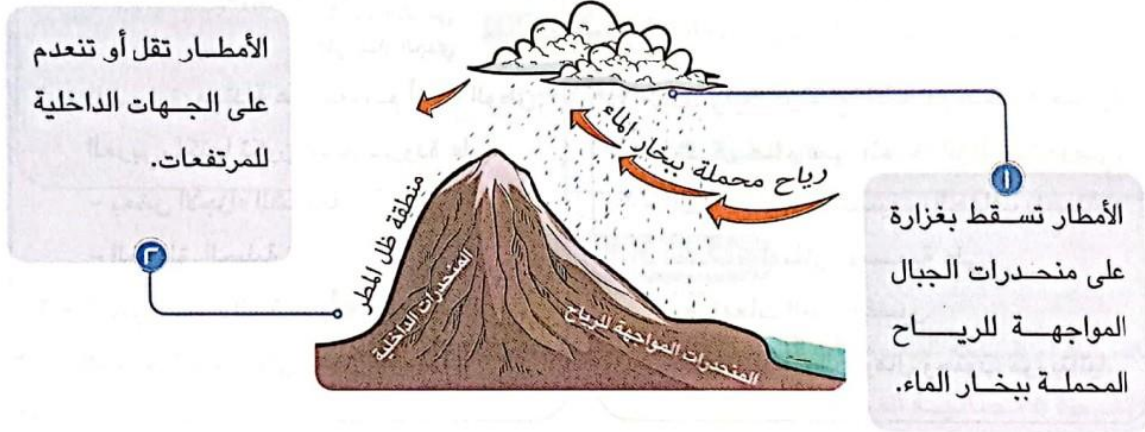
بم تفسر : يقل تأثير المسطحات المائية في الوطن العربي بشكل عام؟

بسبب ضيق مساحة المسطحات المائية وعدم توغل تأثيرها الي الداخل لوجود الصحاري والمرتفعات القريبة من الساحل مثل جبال البحر الأحمر .

٣-مظاهر السطح

أ- **عامل الارتفاع** : يختلف مناخ المناطق المرتفعة عن مناخ الأودية والسهول. بم تفسر ؟
لان كلما ارتفعنا **١٥٠ متراً** فوق مستوي سطح البحر تنخفض درجة الحرارة **درجة مئوية واحدة** ، لذلك نلاحظ انخفاض درجات الحرارة وتكون الثلوج فوق **جبال لبنان** .

ب- **اتجاه المرتفعات** : يؤثر اتجاه المرتفعات علي كمية المطر. **بم تفسر؟**



٤- التيارات البحرية

ما المقصود ب...؟ **التيارات البحرية** :
هي حركة مياه البحار والمحيطات .

تأثير التيارات البحرية علي مناخ المناطق الساحلية



التيارات البحرية الباردة

- تؤدي لانخفاض درجة حرارة السواحل التي تمر بها

التيارات البحرية الدفينة

- تؤدي لارتفاع درجة حرارة السواحل التي تمر بها

ثانياً: الأحوال المناخية للوطن العربي

○ يتسم مناخ الوطن العربي بشكل عام بأنه شديد الحرارة صيفاً ومعتدل شتاءً .

أ- فصل الشتاء :

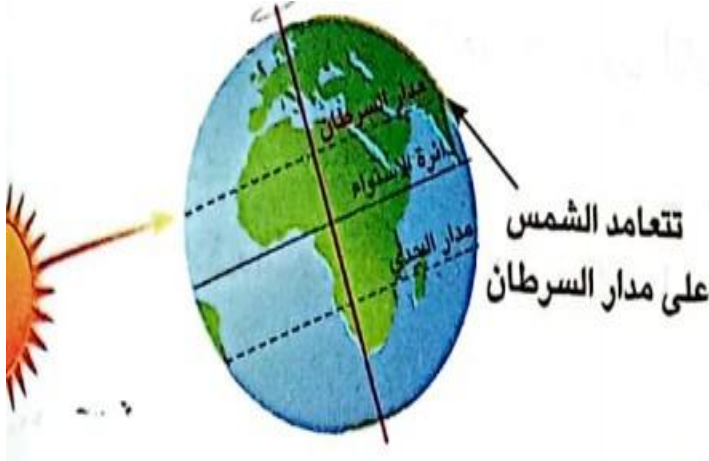
- ١- الحرارة : معتدلة علي معظم أنحاء الوطن العربي ، لكنها تكون أشد برودة علي :
- بعض الأجزاء الشمالية .
- المناطق الجبلية .
- ٢- المطر : يتسم الشتاء بأنه ممطر خاصة في المناطق المطلة علي البحر المتوسط .





ب- فصل الصيف:

- ١- الحرارة : ترتفع فيه درجات الحرارة بشكل عام في أنحاء الوطن العربي .
- ٢- المطر : يتسم الصيف بالجفاف باستثناء سقوط أمطار موسمية علي :
- مرتفعات اليمن وعسير.
- معظم أنحاء الصومال وجنوب موريتانيا.



ثالثاً : تأثير المناخ علي الأنشطة الاقتصادية

- يؤثر المناخ علي الأنشطة البشرية كافة ، مثل :
- ١- الزراعة .
- ٢- الصناعة.
- ٣- الصيد.
- ٤- الطيران.

مثال : تأثير المناخ علي الطيران:

- يؤدي سوء الأحوال الجوية أحياناً إلي تأجيل أو إلغاء الرحلات الجوية.

تأثير التغير المناخي في الوطن العربي

- يتأثر الوطن العربي بحدوث التغير المناخي ، فمن المتوقع :
- ارتفاع درجات الحرارة بمقدار يتراوح ما بين ١.٢ و ١.٩ درجة عام ٢٠٥٠ م
 - تناقص كمية الامطار .
 - ظهور مشكلات عديدة منها (التصحّر – الجفاف) وهذا سوف يؤثر علي الامن الغذائي والامن المائي .

لذلك اتجهت الدول العربية الي توقيع الاتفاقيات واستضافة المؤتمرات الخاصة بالتغير المناخي

بالإضافة الي تبني المشروعات الخضراء مثل :

- مشروع انشاء مصنع للهيدروجين الأخضر في مصر .
- دعمت المملكة العربية السعودية التشجير وبناء المدن الخضراء.



أسئلة تدريبات

س ١ : أكمل العبارات الآتية بما يناسبها من كلمات:

١- يسود المناخ المعتدل الاجزاء.....من الوطن العربي

٢- الرياح الباردة تهب علي الوطن العربي من أوروبا و.....

س ٢ : اكتب كلمة (صح) أمام العبارة الصحيحة أو كلمة (خطأ) أمام العبارة الخاطئة .

١- تتأثر كمية الامطار المتساقطة باتجاه المرتفعات. ()

٢- تنخفض درجة الحرارة جنوب الوطن العربي. ()

س ٣ : اختر الإجابة الصحيحة مما بين ① ② ③ ④ :

١- دائرة عرض تمر جنوب الوطن العربي.....

① السرطان . ② جرينتش . ③ الاستواء. ④ الجدي.

٢- تهب الرياح الحارة علي الوطن العربي من جنوب قارة صيفاً

① اسيا. ② افريقيا. ③ أمريكا. ④ اوروبا.

س ٤ : فسر : ارتفاع درجات الحرارة في المناطق الجنوبية للوطن العربي؟

الإجابة

ج ١ :

١- الشمالية. ٢- اسيا.

ج ٢ :

١- صح. ٢- خطأ.

ج ٣ :

١- الاستواء. ٢- اسيا.

ج ٤ :

١- بسبب قربها من دائرة الاستواء.



الدرس الثالث : الأقاليم المناخية والنباتية في وطننا العربي

نتج عن امتداد وطننا العربي علي نحو (٤٠) دائرة عرضية ومساحة تزيد عن (١٣ مليون كم مربع) مما أدى إلي وجود مناطق متشابهة في الظروف المناخية ، من حيث الحرارة والرياح والامطار وهي تعرف بالإقليم المناخي .

الإقليم المناخي :-

هو منطقة جغرافية من سطح الأرض تتسم بخصائص مناخية تميزها عن غيرها

أولا : الأقاليم المناخية في الوطن العربي

تختلف الظروف المناخية كدرجات الحرارة بين بعض المدن العربية مثل الإسكندرية والكويت بسبب وقوع كل منهما في إقليم مناخي مختلف .

يسود الوطن العربي ثلاث أقاليم مناخية كبرى :



الإقليم المداري

الإقليم الصحراوي الحار

إقليم البحر المتوسط

خصائص الأقاليم المناخية في وطننا العربي:

١- إقليم البحر المتوسط

الموقع :-

- ✓ يقع في الأطراف الشمالية للوطن العربي بين دائرتي عرض ٣٠ و ٣٧.٥ شمالاً.
- ✓ يشمل المناطق المطلة علي سواحل البحر المتوسط في شمال افريقيا.
- ✓ في كل من بلاد (مصر - ليبيا - المغرب العربي)
- ✓ كما يشمل كلاً من (فلسطين - لبنان - معظم سوريا - شمال العراق)

الخصائص المناخية :-

- ✓ حار جاف صيفاً .
- ✓ دافئ وممطر شتاءً.

الخصائص النباتية والحيوانية:-

- ✓ تنتشر في هذا الإقليم أشجار (الأرز - الزيتون - الصنوبر).
- ✓ حشائش الاستبس حيث تربي عليها الماعز والاغنام.



٢- الإقليم الصحراوي الحار :-

الموقع :-

- يشغل معظم الوطن العربي
- ✓ يمتد بين دائرتي عرض ١٥ و ٣٠ شمالاً
- ✓ من الخليج العربي شرقاً حتي ساحل موريتانيا غرباً
- ✓ يشمل النطاق الساحلي من الصومال

الخصائص المناخية :-

يتسم **بندرة الامطار طوال السنة** وقد تسقط علي هيئة **سيول** في بعض المناطق ويكون كالتالي :

- ✓ صيفاً : يتسم بشدة الحرارة التي تصل الي ٥٠ درجة مئوية .
- ✓ شتاءً : معتدل نهاراً وشديد البرودة ليلاً حيث تصل الحرارة الي ما دون الصفر المئوي في بعض المناطق .

الخصائص النباتية والحيوانية :-

- ينتشر فيه بعض النباتات والحيوانات مثل :
- ✓ النباتات لها القدرة علي تحمل الجفاف والحرارة مثل (**الصبار**)
- ✓ أهم الحيوانات (**ثعلب الصحراء- الزواحف**)





٣- الإقليم المداري :-

الموقع :-

يقع جنوب الوطن العربي

- ✓ يشمل أجزاء من الصومال وجيبوتي والسودان وموريتانيا.
- ✓ الجزء الجنوبي الغربي من شبه الجزيرة العربية.



الخصائص المناخية :-

- ✓ صيفاً : حار ممطر.
- ✓ شتاءً : معتدل جاف.

الخصائص النباتية والحيوانية :- حيوانات مثل :

- ✓ تنمو فيه حشائش السافانا وتعيش فيه حيوانات مثل (الأسود) (الزرافات)

❖ ما النتائج المترتبة علي : تنوع الأقاليم المناخية في وطننا العربي ؟

أدى الي تنوع النباتات الطبيعية والحيوانات البرية .

ثانياً : المحميات الطبيعية في الوطن العربي

تتعرض النباتات الطبيعية في الوطن والحيوانات البرية في وطننا العربي الي العديد من المخاطر وذلك نتيجة لتطور الأنشطة البشرية ، ومن هذه المخاطر :

١- تدهور الموارد النباتية .

٢- انقراض أنواع عديدة من الحيوانات البرية.

وقد أدى ذلك الي دفع الدول العربية لإقامة المحميات الطبيعية.

بم تفسر : أهمية المحميات الطبيعية؟

- ١- الحفاظ علي الحياة البرية من نباتات طبيعية وحيوانات برية .
- ٢- تنشيط السياحة وجذب السياح .
- ٣- تساعد في تحقيق التوازن البيئي .
- ٤- الحد من التلوث وتحقيق التنمية المستدامة.

❖ تتعرض المحميات الطبيعية في الوطن العربي الي تهديدات بشريه مثل:

- ١- الرعي الجائر.
- ٢- الصيد الجائر.
- ٣- التلوث البيئي .



➤ إجراءات الدول العربية للحفاظ علي هذه المحميات (سن القوانين ضماناً لحمايتها)


▪ أشهر المحميات الطبيعية في الوطن العربي



محمية جبل علبه (مصر)



محمية أرز الشوف (لبنان)



محمية ضانا (الأردن)

أسئلة تدريبات

س ١ : أكمل العبارات الآتية بما يناسبها من كلمات:

- ١- يسود الوطن العربيأقاليم مناخية كبرى
- ٢- تقع محمية أرز الشوف بدولة

س ٢ : اكتب كلمة (صح) أمام العبارة الصحيحة أو كلمة (خطأ) أمام العبارة الخاطئة .

- ١- يحتفل العالم يوم ٣ مارس من كل عام باليوم العالمي للحياة البرية. ()
- ٢- تربي الماعز والاعنام في الإقليم المداري. ()

س ٣ : اختر الإجابة الصحيحة مما بين ① ② ③ ④ :

- ١- يعيش الزراف والأسود بالاقليم.....
- ① الموسمي. ② البحر المتوسط. ③ المداري. ④ الصحراوي.
- ٢- محمية جبل علبه من أشهر المحميات التي تقع في دولة.....
- ① لبنان. ② مصر. ③ الاردن. ④ السودان.

س ٤ : دلل علي صحة العبارة الآتية : تتعرض المحميات الطبيعية الي تهديدات بشرية؟



الإجابة

- ج ١ : ١- ثلاثة. ٢- لبنان.
- ج ٢ : ١-صح . ٢-خطأ.
- ج ٣ : ١- المداري. ٢-مصر.
- ج ٤ : ١- حيث تتعرض ل الصيد الجائر – الرعي الجائر- التلوث البيئي.

الدرس الرابع : المشكلات البيئية في وطننا العربي

○ تواجه دول الوطن العربي العديد من المشكلات البيئية مثل :





أولاً : المشكلات البيئية في الوطن العربي

١-الجفاف :

ما المقصود ...؟ **بالجفاف :**

هو نقص كمية الامطار في بعض السنوات ، بما لا يسمح بالزراعة أو نمو الحشائش .

- تتعرض كثير من الدول العربية لخطر الجفاف ومن أمثلة هذه الدول :

➤ الصومال

تعاني الصومال من أكبر موجة جفاف. **ما النتائج المترتبة علي ؟**

أدى ذلك الي نقص الغذاء وحدوث مجاعة لأكثر من مليون شخص .



٢-ندرة المياه العذبة :

- تعاني معظم الدول العربية من هذه المشكلة نتيجة لتزايد معدلات استهلاك المياه .

بم تفسر : تزايد معدلات استهلاك المياه العذبة ؟

- ١- النمو السكاني المتزايد .
- ٢- التوسع المستمر في الزراعة .

٣-التصحّر:

ما المقصود ...؟ **بالتصحّر:**

تدهور الأراضي وتناقص قدرتها علي الإنتاج .

- يعاني نحو **ثلثي** مساحة الوطن العربي من مشكلة التصحر .

بم تفسر : أسباب التصحر ؟

- ١- استخدام طرق الري التقليدية .
- ٢- الافراط في استخدام الأسمدة الكيماوية والمبيدات الحشرية.
- ٣- زحف الكثبان الرملية .
- ٤- تناقص مخزون المياه الجوفية.
- ٥- التوسع العمراني .
- ٦- الرعي الجائر للحيوانات.
- ٧- إزالة الغابات.



ثانياً : تأثير المشكلات البيئية علي الوطن العربي

○ تؤدي المشكلات البيئية الي حدوث العديد من الاضرار. **ما النتائج المترتبة علي ؟**

- ١- تهديد صحة المواطن العربي وحياته.
- ٢- إعاقة تنفيذ الخطط التنموية في الدول العربية .
- ٣- تدمير الحياة النباتية والحيوانية في كثير من مناطق الوطن العربي .



ثالثاً : دور الدول العربية في مواجهة المشكلات البيئية

- تعمل الدول العربية علي حل المشكلات البيئية من خلال :
 - ١- إقامة مساكن لاستقرار الرعاة.
 - ٢- إصدار قوانين تجرم القطع العشوائي للأشجار.
 - ٣- استخدام مصادر الطاقة النظيفة وإنشاء المدن الذكية لتقليل انبعاث الغازات الدفيئة.
 - ٤- زيادة المساحات الخضراء.

أمثلة لجهود بعض الدول العربية لزيادة المساحات الخضراء

مصر

- أطلقت مبادرة زراعة ١٠٠ مليون شجرة مثمرة.

السعودية

- أطلقت مبادرة زراعة ٤٥٠ مليون شجرة .
- أعلنت عن إنشاء مدينة نيوم الخضراء عام ٢٠٢٢م.

❖ لاحظ أن : أعلن مجلس وزراء العرب عن مسابقة العمل الرائد بيئياً في مجال مواجهة التحديات البيئية التي تواجه الدول العربية.

أسئلة تدريبات

س ١ : أكمل العبارات الآتية بما يناسبها من كلمات:

- ١- عقد مؤتمر المناخ للأمم المتحدة عام ٢٠٢٢م في مصر بمدينة.....
- ٢- تقع معظم مساحة وطننا العربي في الإقليم

س ٢ : اكتب كلمة (صح) أمام العبارة الصحيحة أو كلمة (خطأ) أمام العبارة الخاطئة .

- ١- تناقص مخزون المياه الجوفي يؤدي الي حدوث التصحر. ()
- ٢- التغير المناخي من المشكلات البيئية في وطننا العربي. ()

س ٣ : اختر الإجابة الصحيحة مما بين ① ② ③ ④ :

- ١- دولة تعاني من أكبر موجة جفاف في وطننا العربي.....
- ① السودان. ② الجزائر. ③ مصر. ④ الصومال.



- ٢- توجد مدينة نيوم الخضراء في دولة
- ① المغرب . ② مصر . ③ السعودية . ④ الجزائر .

س ٤ : ما النتائج المترتبة علي : النمو السكاني المتزايد في الوطن العربي؟

الإجابة

- ج ١ :
١- بشرم الشيخ
٢- الصحراوي.
- ج ٢ :
١- صح .
٢- صح .
- ج ٣ :
١- الصومال .
٢- السعودية .
- ج ٤ :
١- أدي الي ندرة المياه العذبة .

شخصيات عربية مؤثرة

الخليفة أبو بكر الصديق (رضي الله عنه)	النبي محمد (صلي الله عليه وسلم)
<p>نبذة عن نشأته (رضي الله عنه):</p> <ul style="list-style-type: none"> - اسمه عبدالله بن عثمان بن عامر بن عمرو، ولد في مكة بعد عام الفيل. - وصفه الرسول (ص) بالصديق ، واشتهر قبل الإسلام بحسن الخلق ، فكان يتسم بالإحسان في معاملة الآخرين ، والامتناع عن شرب الخمر . 	<p>نبذة عن نشأته (صلي الله عليه وسلم):</p> <ul style="list-style-type: none"> - هو محمد بن عبدالله بن عبد المطلب بن هاشم بن عبد مناف بن قصي بن كلاب . - ولد في مكة عام ٥٧٠م (عام الفيل) - عمل الرسول (ص) في شبابه في حرفة رعي الأغنام فتعلم منها الرحمة والرأفة ، ثم عمل في التجارة واتصف بأمانته ؛لذا لقب بالصادق الأمين.
<p>إسلامه:-</p> <ul style="list-style-type: none"> - كان أول من اسلم من الرجال وكان له جهود كثيرة في الدعوة الي الإسلام ، فقد أسلم علي علي يديه عدد من كبار الصحابة أمثال عثمان بن عفان والزبير بن العوام وعبد الرحمن بن عوف (رضي الله عنهم) - صحب أبو بكر الصديق (رضي الله عنه) النبي (صلي الله عليه وسلم) في هجرته الي يثرب (المدينة) وأنفق ماله في سبيل الدعوة الإسلامية وكان النبي (ص) يستشير ه في العديد من 	<p>دعوته (صلي الله عليه وسلم) للإسلام :</p> <ul style="list-style-type: none"> - كان (صلي الله عليه وسلم) يذهب لغار حراء للتعبد والتأمل وبعد نزول الوحي عليه برسالة الإسلام كان يجتمع بالمسلمين سرّاً في دار (الارقم بن أبي الارقم) ليتلوا عليهم القرآن الكريم ويعلمهم أحكام الإسلام . - واجه (صلي الله عليه وسلم) العديد من الصعوبات في نشر الدعوة الإسلامية ، ولكنه واجهها بالحكمة والموعظة الحسنة



<p>المواقف وقد تزوج الرسول (ص) ابنة أبي بكر الصديق السيدة عائشة (رضي الله عنها)</p>	
<p>خلافته :-</p> <p>- كان أبو بكر الصديق يتصف بالحكمة والقدرة علي مواجهة المواقف الصعبة . وعندما تولي الخلافة أظهر قدره فائقة في إدارة شئون الدولة ، التي تعرضت في ذلك الوقت لانقسام خطير بسبب ظهور المرتدين فأعاد للدولة وحدتها وأمنها ووجه طاقتها الي فتح بلاد العراق والشام . كمان أنجز مشروعاً عظيماً وهو جمع القرآن الكريم للمرة الاولي ، وأولي اهتماماً بالغاً الي رعاية الفقراء والمرضي.</p>	<p>صفاته (صلي الله عليه وسلم)</p> <p>- اتصف الرسول (ص) بالعديد من الصفات النبيلة ، فكان حليماً مع أهله ، يدخل عليهم باسمائهم وكان يساند العجوز ويزور المريض ، ويعطف علي المسكين ويلعب الأطفال ويقدر المرأة ويحترمها حيث كان يأخذ ب آراء زوجاته في شئون عدة ، وكان دائماً يوصي بحسن معاملة النساء .</p> <p>- قاد الرسول (ص) عدة غزوات ، وكان يستشير الصحابة في هذه الغزوات منذ بدء التخطيط لها ، وقد أقام (ص) دعائم الدولة السلامية.</p>
<p>وفاته :-</p> <p>- توفي أبو بكر الصديق (رضي الله عنه) عن عمر ٦٣ عاماً</p>	<p>وفاته (صلي الله عليه وسلم) :</p> <p>- وفي العام العاشر من الهجرة خرج (صلي الله عليه وسلم) لأداء فريضة الحج وخطب في الناس موضعاً لهم مبادئ الإسلام وبعد عودته الي المدينة مرض مرضاً شديداً ، وفي العام التالي توفي الرسول (ص) يوم الاثنين الموافق الثاني عشر من ربيع الأول عام ١١ هجرية بعد أن أدي الأمانة وبلغ رسالة ربه .</p>